

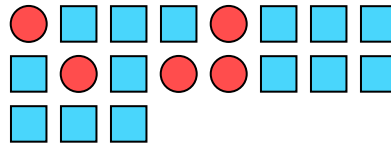

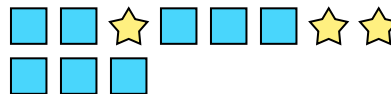
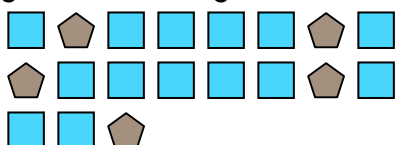






Löse jede Aufgabe.

**Bsp)** Drücke das Sterne als Bruch der gesamten Menge aus.**1)** Drücke das hearts als Bruch der gesamten Menge aus.**2)** Drücke das Sterne als Bruch der gesamten Menge aus.**3)** Drücke das Kreise als Bruch der gesamten Menge aus.**4)** Drücke das Sterne als Bruch der gesamten Menge aus.**5)** Drücke das hearts als Bruch der gesamten Menge aus.**6)** Drücke das hearts als Bruch der gesamten Menge aus.**7)** Drücke das Rechtecke als Bruch der gesamten Menge aus.**8)** Drücke das moons als Bruch der gesamten Menge aus.**9)** Drücke das Rechtecke als Bruch der gesamten Menge aus.**10)** Drücke das Rechtecke als Bruch der gesamten Menge aus.**11)** Drücke das Kreise als Bruch der gesamten Menge aus.**Antworten**

Bsp.	$\frac{14}{18}$
1.	$\frac{11}{13}$
2.	$\frac{2}{16}$
3.	$\frac{5}{19}$
4.	$\frac{8}{21}$
5.	$\frac{5}{10}$
6.	$\frac{7}{18}$
7.	$\frac{8}{11}$
8.	$\frac{10}{19}$
9.	$\frac{8}{10}$
10.	$\frac{14}{19}$
11.	$\frac{5}{18}$