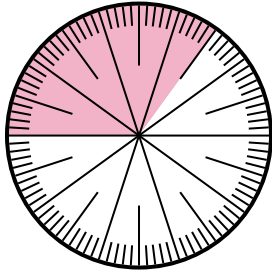


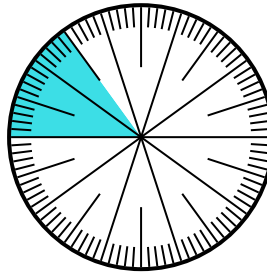


Löse jede Aufgabe.

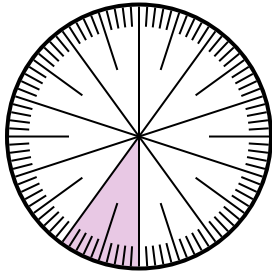
- 1) Drücken Sie den schattiert-Anteil als Bruchteil des Ganzen mit einem 100 als Nenner aus.



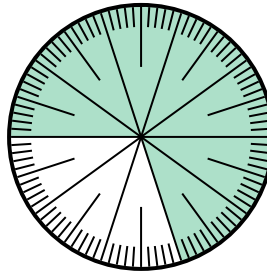
- 2) Drücken Sie den schattiert-Anteil als Dezimalzahl des Ganzen aus.



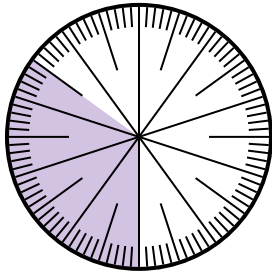
- 3) Drücken Sie den schattiert-Anteil als Dezimalzahl des Ganzen aus.



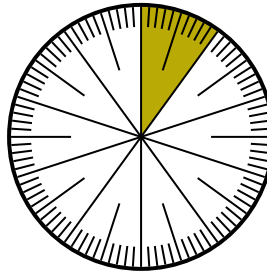
- 4) Drücken Sie den nicht beschattet-Anteil als Bruchteil des Ganzen mit einem 100 als Nenner aus.



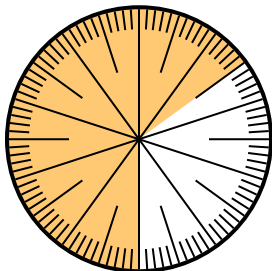
- 5) Drücken Sie den schattiert-Anteil als Dezimalzahl des Ganzen aus.



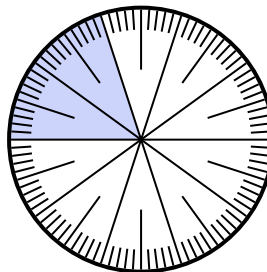
- 6) Drücken Sie den nicht beschattet-Anteil als Dezimalzahl des Ganzen aus.



- 7) Drücken Sie den nicht beschattet-Anteil als Dezimalzahl des Ganzen aus.



- 8) Drücken Sie den nicht beschattet-Anteil als Bruchteil des Ganzen mit einem 100 als Nenner aus.



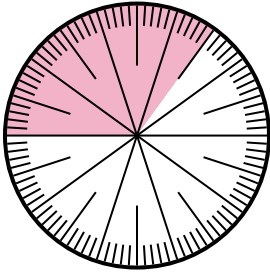
Antworten

1. _____
2. _____
3. _____
4. _____
5. _____
6. _____
7. _____
8. _____

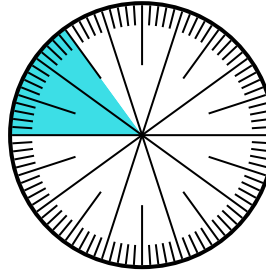


Löse jede Aufgabe.

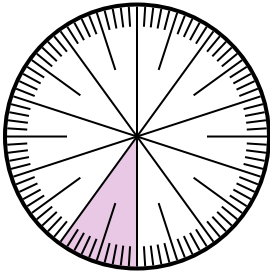
- 1) Drücken Sie den schattiert-Anteil als Bruchteil des Ganzen mit einem 100 als Nenner aus.



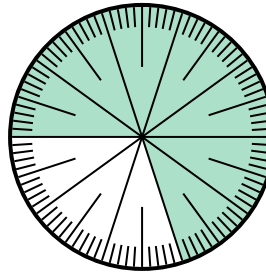
- 2) Drücken Sie den schattiert-Anteil als Dezimalzahl des Ganzen aus.



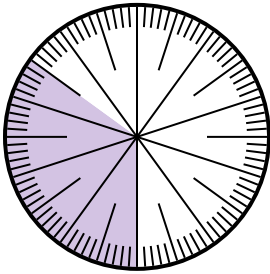
- 3) Drücken Sie den schattiert-Anteil als Dezimalzahl des Ganzen aus.



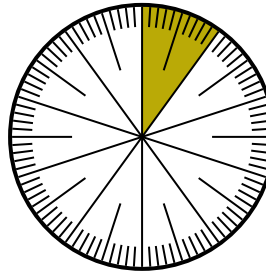
- 4) Drücken Sie den nicht beschattet-Anteil als Bruchteil des Ganzen mit einem 100 als Nenner aus.



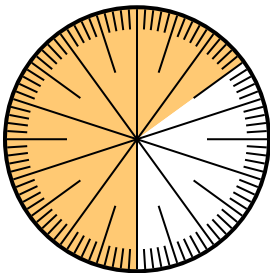
- 5) Drücken Sie den schattiert-Anteil als Dezimalzahl des Ganzen aus.



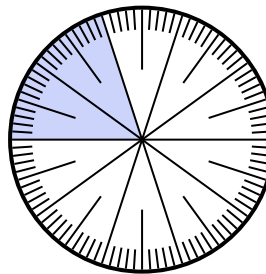
- 6) Drücken Sie den nicht beschattet-Anteil als Dezimalzahl des Ganzen aus.



- 7) Drücken Sie den nicht beschattet-Anteil als Dezimalzahl des Ganzen aus.



- 8) Drücken Sie den nicht beschattet-Anteil als Bruchteil des Ganzen mit einem 100 als Nenner aus.

**Antworten**

1. $\frac{35}{100}$

2. $0,15$

3. $0,1$

4. $\frac{30}{100}$

5. $0,35$

6. $0,9$

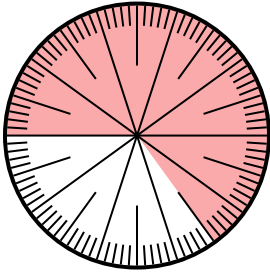
7. $0,35$

8. $\frac{80}{100}$

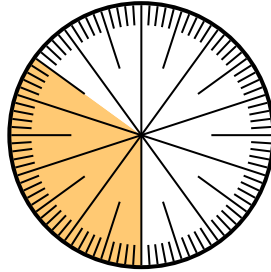


Löse jede Aufgabe.

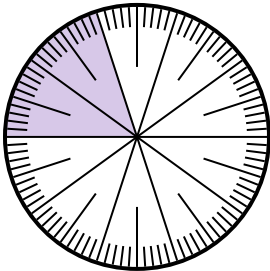
- 1) Drücken Sie den schattiert-Anteil als Bruchteil des Ganzen mit einem 100 als Nenner aus.



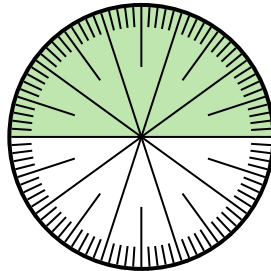
- 2) Drücken Sie den nicht beschattet-Anteil als Dezimalzahl des Ganzen aus.




- 3) Drücken Sie den nicht beschattet-Anteil als Bruchteil des Ganzen mit einem 10 als Nenner aus.



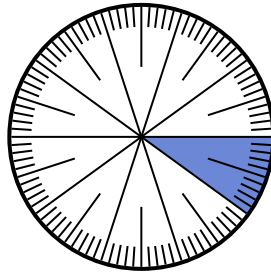
- 4) Drücken Sie den schattiert-Anteil als Bruchteil des Ganzen mit einem 100 als Nenner aus.



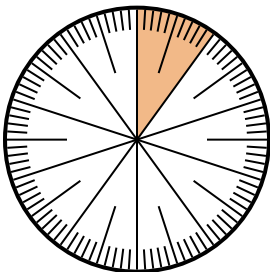
- 5) Drücken Sie den nicht beschattet-Anteil als Dezimalzahl des Ganzen aus.



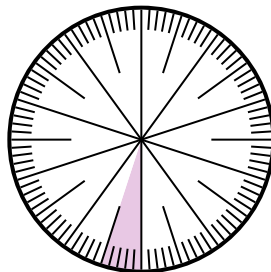
- 6) Drücken Sie den nicht beschattet-Anteil als Dezimalzahl des Ganzen aus.



- 7) Drücken Sie den schattiert-Anteil als Bruchteil des Ganzen mit einem 100 als Nenner aus.



- 8) Drücken Sie den schattiert-Anteil als Bruchteil des Ganzen mit einem 100 als Nenner aus.



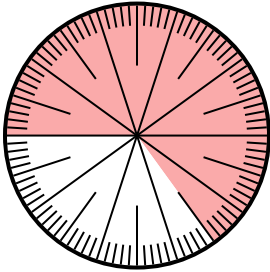
Antworten

1. _____
2. _____
3. _____
4. _____
5. _____
6. _____
7. _____
8. _____

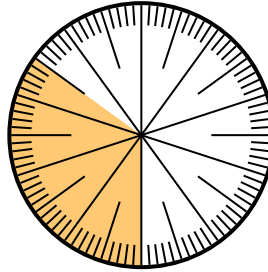


Löse jede Aufgabe.

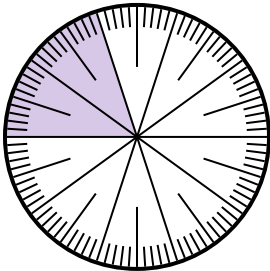
- 1) Drücken Sie den schattiert-Anteil als Bruchteil des Ganzen mit einem 100 als Nenner aus.



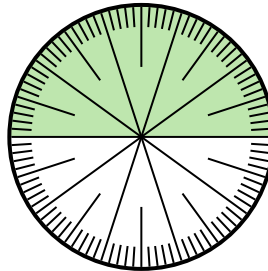
- 2) Drücken Sie den nicht beschattet-Anteil als Dezimalzahl des Ganzen aus.




- 3) Drücken Sie den nicht beschattet-Anteil als Bruchteil des Ganzen mit einem 10 als Nenner aus.



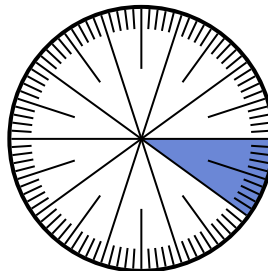
- 4) Drücken Sie den schattiert-Anteil als Bruchteil des Ganzen mit einem 100 als Nenner aus.



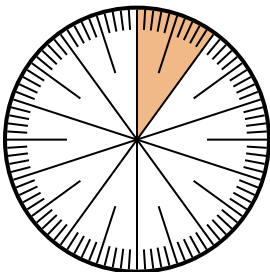
- 5) Drücken Sie den nicht beschattet-Anteil als Dezimalzahl des Ganzen aus.



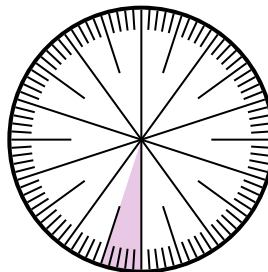
- 6) Drücken Sie den nicht beschattet-Anteil als Dezimalzahl des Ganzen aus.



- 7) Drücken Sie den schattiert-Anteil als Bruchteil des Ganzen mit einem 100 als Nenner aus.



- 8) Drücken Sie den schattiert-Anteil als Bruchteil des Ganzen mit einem 100 als Nenner aus.

**Antworten**

1. $\frac{65}{100}$

2. $0,65$

3. $\frac{8}{10}$

4. $\frac{50}{100}$

5. $0,1$

6. $0,9$

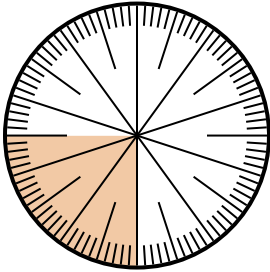
7. $\frac{10}{100}$

8. $\frac{5}{100}$

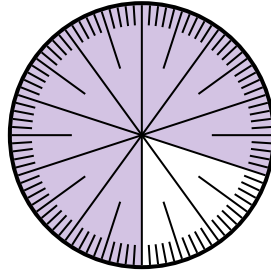


Löse jede Aufgabe.

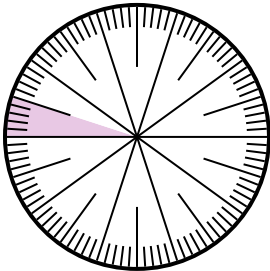
- 1) Drücken Sie den nicht beschattet-Anteil als Bruchteil des Ganzen mit einem 100 als Nenner aus.



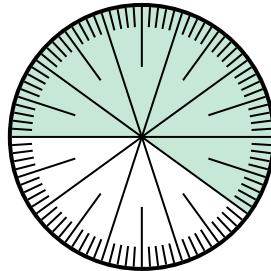
- 2) Drücken Sie den nicht beschattet-Anteil als Dezimalzahl des Ganzen aus.



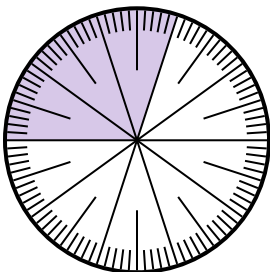
- 3) Drücken Sie den schattiert-Anteil als Bruchteil des Ganzen mit einem 100 als Nenner aus.



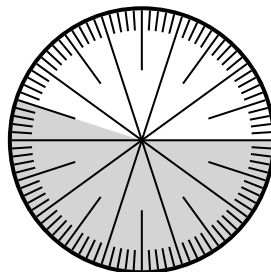
- 4) Drücken Sie den schattiert-Anteil als Bruchteil des Ganzen mit einem 100 als Nenner aus.



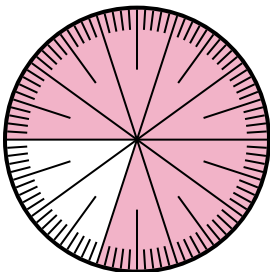
- 5) Drücken Sie den nicht beschattet-Anteil als Bruchteil des Ganzen mit einem 100 als Nenner aus.



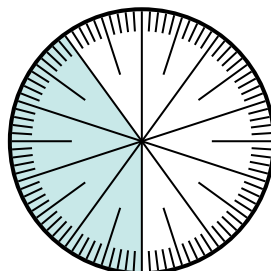
- 6) Drücken Sie den nicht beschattet-Anteil als Bruchteil des Ganzen mit einem 100 als Nenner aus.



- 7) Drücken Sie den nicht beschattet-Anteil als Bruchteil des Ganzen mit einem 100 als Nenner aus.



- 8) Drücken Sie den nicht beschattet-Anteil als Dezimalzahl des Ganzen aus.



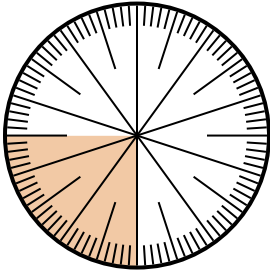
Antworten

1. _____
2. _____
3. _____
4. _____
5. _____
6. _____
7. _____
8. _____

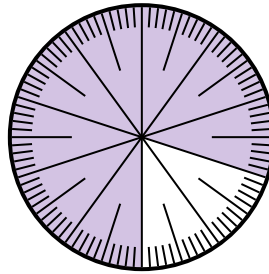


Löse jede Aufgabe.

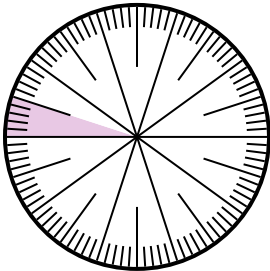
- 1) Drücken Sie den nicht beschattet-Anteil als Bruchteil des Ganzen mit einem 100 als Nenner aus.



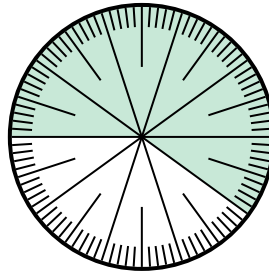
- 2) Drücken Sie den nicht beschattet-Anteil als Dezimalzahl des Ganzen aus.



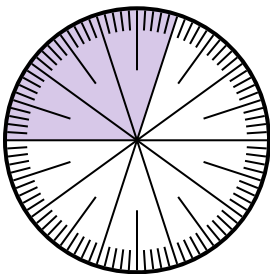
- 3) Drücken Sie den schattiert-Anteil als Bruchteil des Ganzen mit einem 100 als Nenner aus.



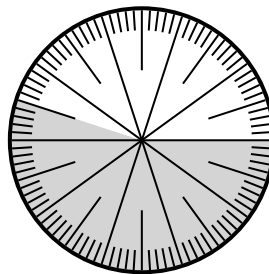
- 4) Drücken Sie den schattiert-Anteil als Bruchteil des Ganzen mit einem 100 als Nenner aus.



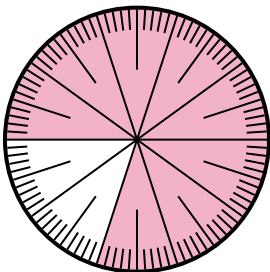
- 5) Drücken Sie den nicht beschattet-Anteil als Bruchteil des Ganzen mit einem 100 als Nenner aus.



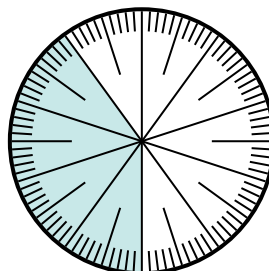
- 6) Drücken Sie den nicht beschattet-Anteil als Bruchteil des Ganzen mit einem 100 als Nenner aus.



- 7) Drücken Sie den nicht beschattet-Anteil als Bruchteil des Ganzen mit einem 100 als Nenner aus.



- 8) Drücken Sie den nicht beschattet-Anteil als Dezimalzahl des Ganzen aus.

**Antworten**

1. $\frac{75}{100}$

2. $0,2$

3. $\frac{5}{100}$

4. $\frac{60}{100}$

5. $\frac{70}{100}$

6. $\frac{45}{100}$


7. $\frac{20}{100}$

8. $0,6$

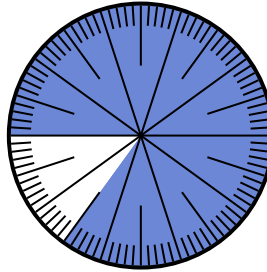


Löse jede Aufgabe.

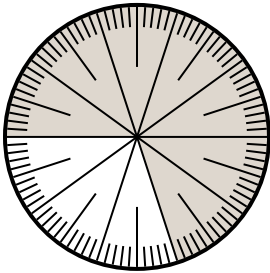
- 1) Drücken Sie den schattiert-Anteil als Dezimalzahl des Ganzen aus.



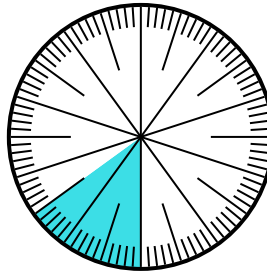
- 2) Drücken Sie den schattiert-Anteil als Bruchteil des Ganzen mit einem 100 als Nenner aus.



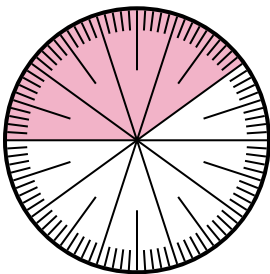
- 3) Drücken Sie den nicht beschattet-Anteil als Bruchteil des Ganzen mit einem 10 als Nenner aus.



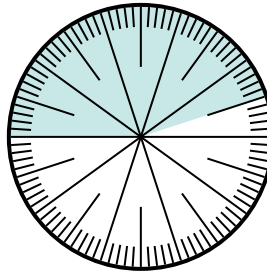
- 4) Drücken Sie den nicht beschattet-Anteil als Bruchteil des Ganzen mit einem 100 als Nenner aus.



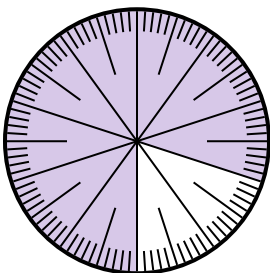
- 5) Drücken Sie den nicht beschattet-Anteil als Bruchteil des Ganzen mit einem 10 als Nenner aus.



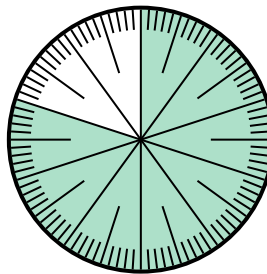
- 6) Drücken Sie den nicht beschattet-Anteil als Dezimalzahl des Ganzen aus.



- 7) Drücken Sie den schattiert-Anteil als Dezimalzahl des Ganzen aus.



- 8) Drücken Sie den nicht beschattet-Anteil als Bruchteil des Ganzen mit einem 100 als Nenner aus.




Antworten

1. _____
2. _____
3. _____
4. _____
5. _____
6. _____
7. _____
8. _____

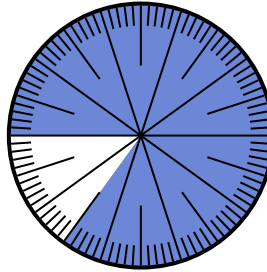


Löse jede Aufgabe.

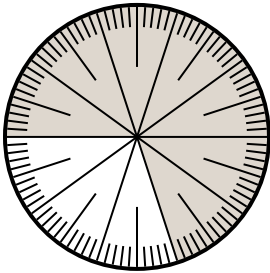
- 1) Drücken Sie den schattiert-Anteil als Dezimalzahl des Ganzen aus.



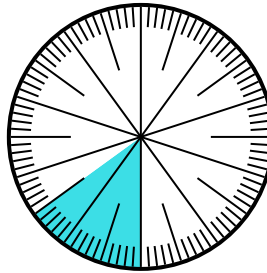
- 2) Drücken Sie den schattiert-Anteil als Bruchteil des Ganzen mit einem 100 als Nenner aus.



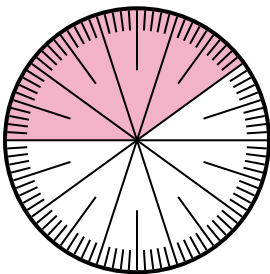
- 3) Drücken Sie den nicht beschattet-Anteil als Bruchteil des Ganzen mit einem 10 als Nenner aus.



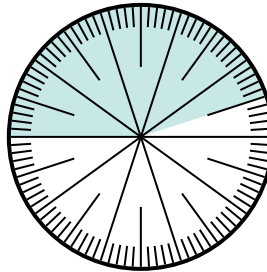
- 4) Drücken Sie den nicht beschattet-Anteil als Bruchteil des Ganzen mit einem 100 als Nenner aus.



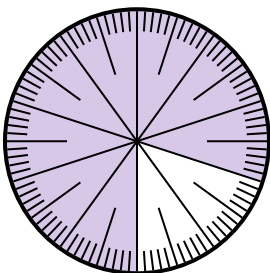
- 5) Drücken Sie den nicht beschattet-Anteil als Bruchteil des Ganzen mit einem 10 als Nenner aus.



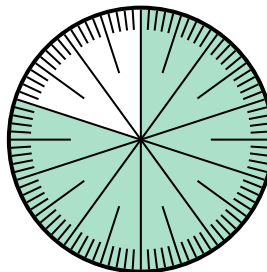
- 6) Drücken Sie den nicht beschattet-Anteil als Dezimalzahl des Ganzen aus.



- 7) Drücken Sie den schattiert-Anteil als Dezimalzahl des Ganzen aus.



- 8) Drücken Sie den nicht beschattet-Anteil als Bruchteil des Ganzen mit einem 100 als Nenner aus.

**Antworten**

1. 0,55

2. $\frac{85}{100}$

3. $\frac{3}{10}$

4. $\frac{85}{100}$

5. $\frac{6}{10}$

6. 0,55


7. 0,8

8. $\frac{20}{100}$

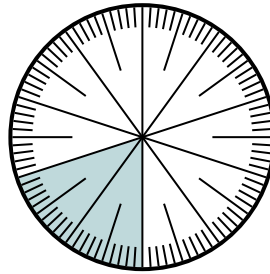


Löse jede Aufgabe.

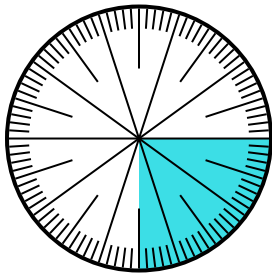
- 1) Drücken Sie den nicht beschattet-Anteil als Bruchteil des Ganzen mit einem 100 als Nenner aus.



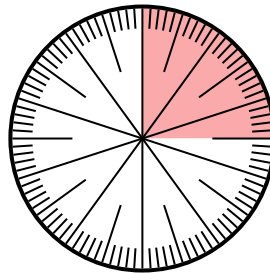
- 2) Drücken Sie den schattiert-Anteil als Dezimalzahl des Ganzen aus.



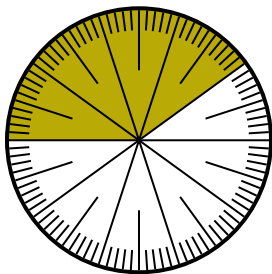
- 3) Drücken Sie den schattiert-Anteil als Dezimalzahl des Ganzen aus.



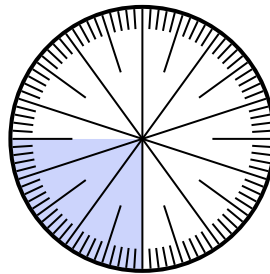
- 4) Drücken Sie den nicht beschattet-Anteil als Dezimalzahl des Ganzen aus.



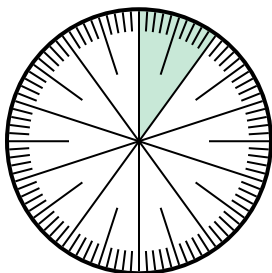
- 5) Drücken Sie den nicht beschattet-Anteil als Bruchteil des Ganzen mit einem 100 als Nenner aus.



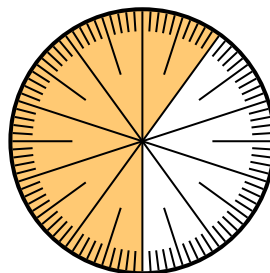
- 6) Drücken Sie den nicht beschattet-Anteil als Dezimalzahl des Ganzen aus.



- 7) Drücken Sie den nicht beschattet-Anteil als Dezimalzahl des Ganzen aus.



- 8) Drücken Sie den schattiert-Anteil als Dezimalzahl des Ganzen aus.




Antworten

1. _____
2. _____
3. _____
4. _____
5. _____
6. _____
7. _____
8. _____

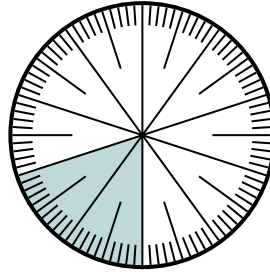


Löse jede Aufgabe.

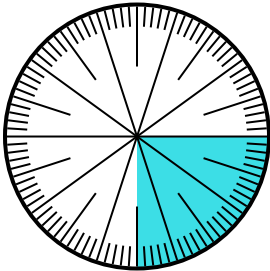
- 1) Drücken Sie den nicht beschattet-Anteil als Bruchteil des Ganzen mit einem 100 als Nenner aus.



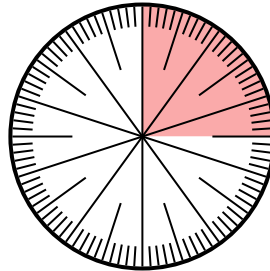
- 2) Drücken Sie den schattiert-Anteil als Dezimalzahl des Ganzen aus.



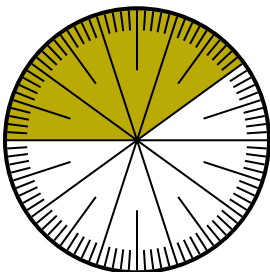
- 3) Drücken Sie den schattiert-Anteil als Dezimalzahl des Ganzen aus.



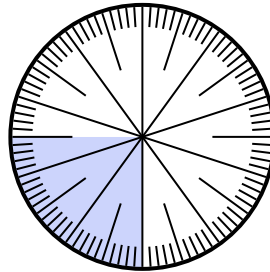
- 4) Drücken Sie den nicht beschattet-Anteil als Dezimalzahl des Ganzen aus.



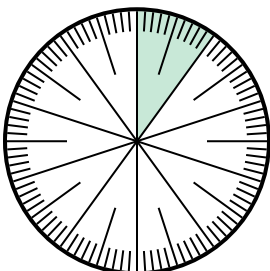
- 5) Drücken Sie den nicht beschattet-Anteil als Bruchteil des Ganzen mit einem 100 als Nenner aus.



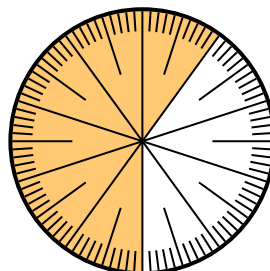
- 6) Drücken Sie den nicht beschattet-Anteil als Dezimalzahl des Ganzen aus.



- 7) Drücken Sie den nicht beschattet-Anteil als Dezimalzahl des Ganzen aus.



- 8) Drücken Sie den schattiert-Anteil als Dezimalzahl des Ganzen aus.

**Antworten**

1. $\frac{15}{100}$

2. $0,2$

3. $0,25$

4. $0,75$

5. $\frac{60}{100}$

6. $0,75$

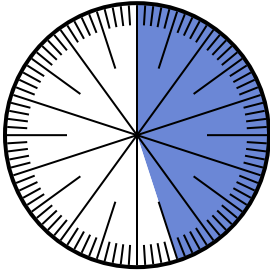
7. $0,9$

8. $0,6$

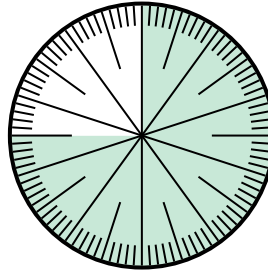


Löse jede Aufgabe.

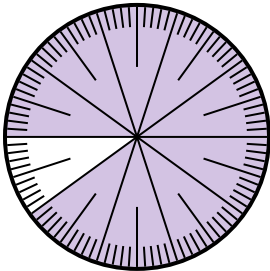
- 1) Drücken Sie den nicht beschattet-Anteil als Dezimalzahl des Ganzen aus.



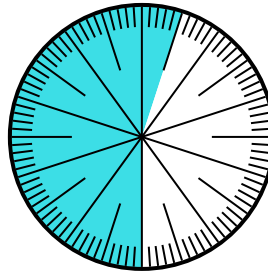
- 2) Drücken Sie den nicht beschattet-Anteil als Bruchteil des Ganzen mit einem 100 als Nenner aus.



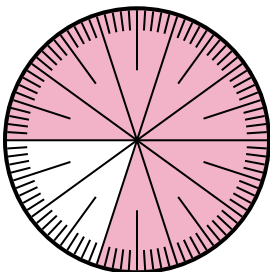
- 3) Drücken Sie den nicht beschattet-Anteil als Bruchteil des Ganzen mit einem 100 als Nenner aus.




- 4) Drücken Sie den schattiert-Anteil als Bruchteil des Ganzen mit einem 100 als Nenner aus.




- 5) Drücken Sie den schattiert-Anteil als Bruchteil des Ganzen mit einem 100 als Nenner aus.



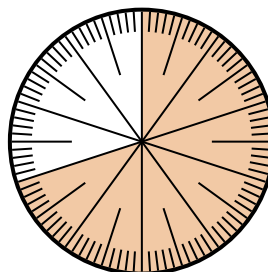
- 6) Drücken Sie den schattiert-Anteil als Dezimalzahl des Ganzen aus.



- 7) Drücken Sie den schattiert-Anteil als Bruchteil des Ganzen mit einem 100 als Nenner aus.



- 8) Drücken Sie den schattiert-Anteil als Bruchteil des Ganzen mit einem 100 als Nenner aus.



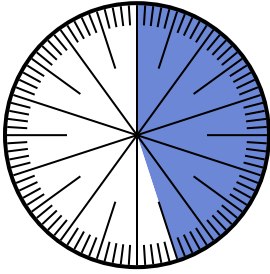
Antworten

1. _____
 2. _____
 3. _____
 4. _____
 5. _____
 6. _____
 7. _____
 8. _____

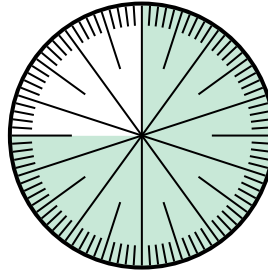


Löse jede Aufgabe.

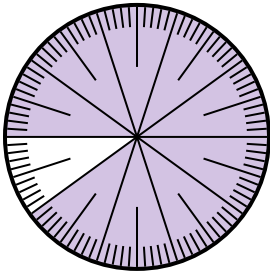
- 1) Drücken Sie den nicht beschattet-Anteil als Dezimalzahl des Ganzen aus.



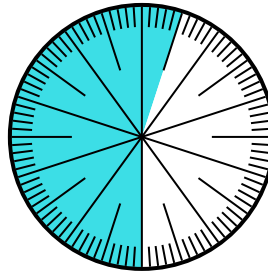
- 2) Drücken Sie den nicht beschattet-Anteil als Bruchteil des Ganzen mit einem 100 als Nenner aus.



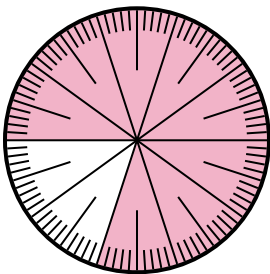
- 3) Drücken Sie den nicht beschattet-Anteil als Bruchteil des Ganzen mit einem 100 als Nenner aus.




- 4) Drücken Sie den schattiert-Anteil als Bruchteil des Ganzen mit einem 100 als Nenner aus.




- 5) Drücken Sie den schattiert-Anteil als Bruchteil des Ganzen mit einem 100 als Nenner aus.



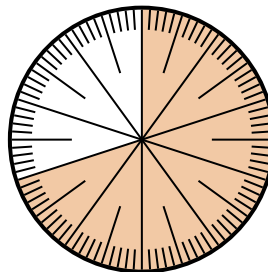
- 6) Drücken Sie den schattiert-Anteil als Dezimalzahl des Ganzen aus.



- 7) Drücken Sie den schattiert-Anteil als Bruchteil des Ganzen mit einem 100 als Nenner aus.



- 8) Drücken Sie den schattiert-Anteil als Bruchteil des Ganzen mit einem 100 als Nenner aus.

**Antworten**

1. 0,55

2. $\frac{25}{100}$

3. $\frac{10}{100}$

4. $\frac{55}{100}$

5. $\frac{80}{100}$

6. 0,8

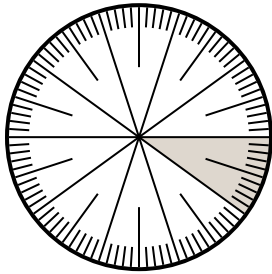
7. $\frac{5}{100}$

8. $\frac{70}{100}$

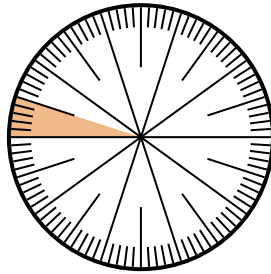


Löse jede Aufgabe.

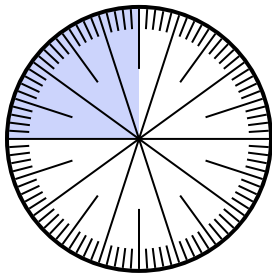
- 1) Drücken Sie den nicht beschattet-Anteil als Dezimalzahl des Ganzen aus.



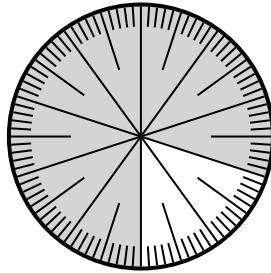
- 2) Drücken Sie den nicht beschattet-Anteil als Dezimalzahl des Ganzen aus.



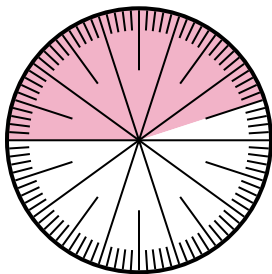
- 3) Drücken Sie den schattiert-Anteil als Bruchteil des Ganzen mit einem 100 als Nenner aus.



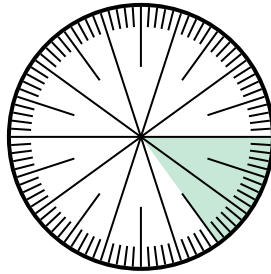
- 4) Drücken Sie den nicht beschattet-Anteil als Dezimalzahl des Ganzen aus.




- 5) Drücken Sie den nicht beschattet-Anteil als Bruchteil des Ganzen mit einem 100 als Nenner aus.



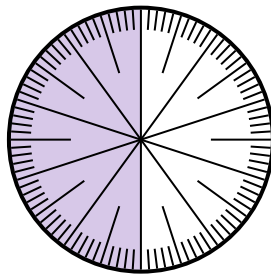
- 6) Drücken Sie den schattiert-Anteil als Dezimalzahl des Ganzen aus.



- 7) Drücken Sie den nicht beschattet-Anteil als Bruchteil des Ganzen mit einem 100 als Nenner aus.



- 8) Drücken Sie den nicht beschattet-Anteil als Bruchteil des Ganzen mit einem 10 als Nenner aus.



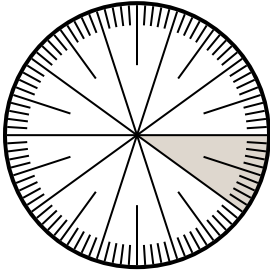
Antworten

1. _____
2. _____
3. _____
4. _____
5. _____
6. _____
7. _____
8. _____

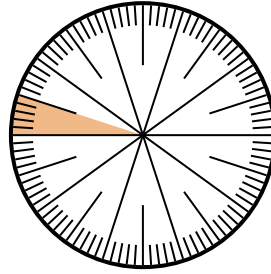


Löse jede Aufgabe.

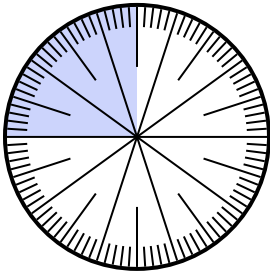
- 1) Drücken Sie den nicht beschattet-Anteil als Dezimalzahl des Ganzen aus.



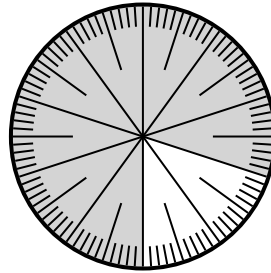
- 2) Drücken Sie den nicht beschattet-Anteil als Dezimalzahl des Ganzen aus.



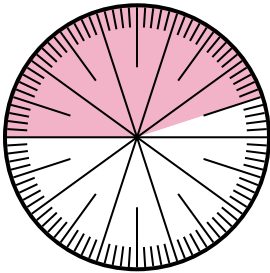
- 3) Drücken Sie den schattiert-Anteil als Bruchteil des Ganzen mit einem 100 als Nenner aus.



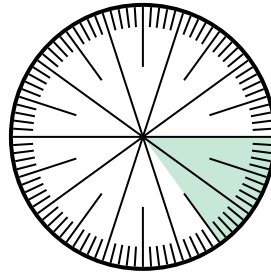
- 4) Drücken Sie den nicht beschattet-Anteil als Dezimalzahl des Ganzen aus.



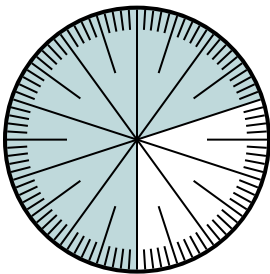
- 5) Drücken Sie den nicht beschattet-Anteil als Bruchteil des Ganzen mit einem 100 als Nenner aus.



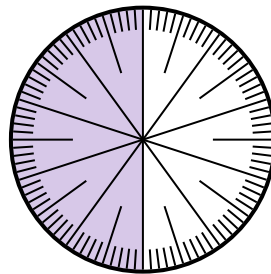
- 6) Drücken Sie den schattiert-Anteil als Dezimalzahl des Ganzen aus.



- 7) Drücken Sie den nicht beschattet-Anteil als Bruchteil des Ganzen mit einem 100 als Nenner aus.



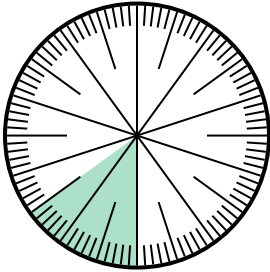
- 8) Drücken Sie den nicht beschattet-Anteil als Bruchteil des Ganzen mit einem 10 als Nenner aus.

**Antworten**1. 0,92. 0,953. $\frac{25}{100}$ 4. 0,25. $\frac{55}{100}$ 6. 0,157. $\frac{30}{100}$ 8. $\frac{5}{10}$

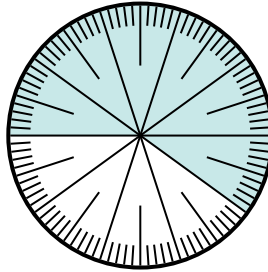


Löse jede Aufgabe.

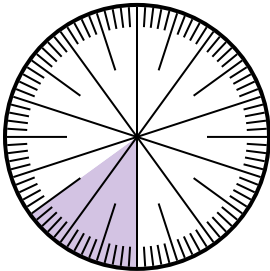
- 1) Drücken Sie den nicht beschattet-Anteil als Bruchteil des Ganzen mit einem 100 als Nenner aus.



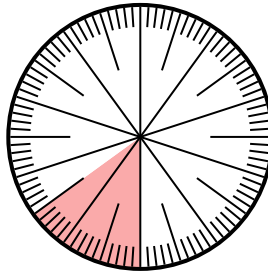
- 2) Drücken Sie den schattiert-Anteil als Bruchteil des Ganzen mit einem 100 als Nenner aus.



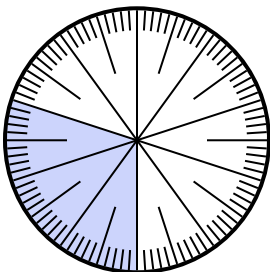
- 3) Drücken Sie den schattiert-Anteil als Bruchteil des Ganzen mit einem 100 als Nenner aus.



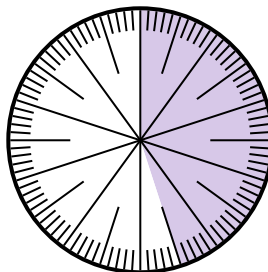
- 4) Drücken Sie den schattiert-Anteil als Bruchteil des Ganzen mit einem 100 als Nenner aus.



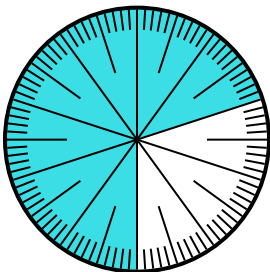
- 5) Drücken Sie den schattiert-Anteil als Bruchteil des Ganzen mit einem 100 als Nenner aus.



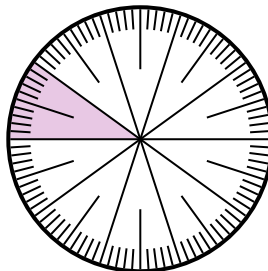
- 6) Drücken Sie den schattiert-Anteil als Bruchteil des Ganzen mit einem 100 als Nenner aus.



- 7) Drücken Sie den schattiert-Anteil als Bruchteil des Ganzen mit einem 100 als Nenner aus.



- 8) Drücken Sie den schattiert-Anteil als Dezimalzahl des Ganzen aus.



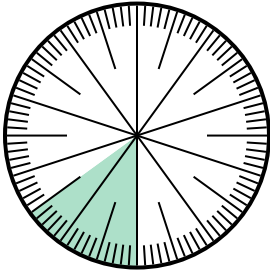
Antworten

1. _____
2. _____
3. _____
4. _____
5. _____
6. _____
7. _____
8. _____

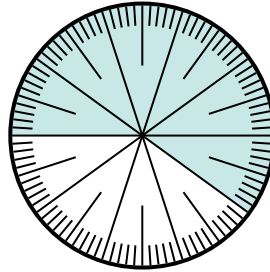


Löse jede Aufgabe.

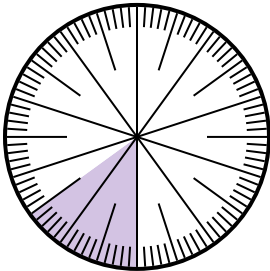
- 1) Drücken Sie den nicht beschattet-Anteil als Bruchteil des Ganzen mit einem 100 als Nenner aus.



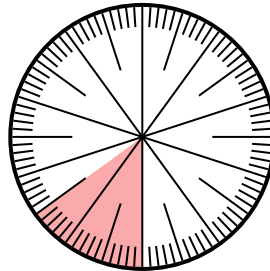
- 2) Drücken Sie den schattiert-Anteil als Bruchteil des Ganzen mit einem 100 als Nenner aus.



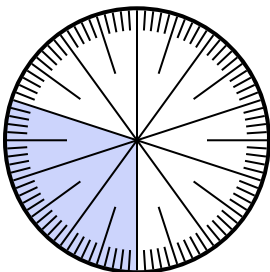
- 3) Drücken Sie den schattiert-Anteil als Bruchteil des Ganzen mit einem 100 als Nenner aus.



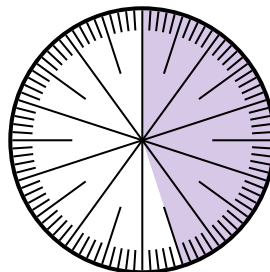
- 4) Drücken Sie den schattiert-Anteil als Bruchteil des Ganzen mit einem 100 als Nenner aus.



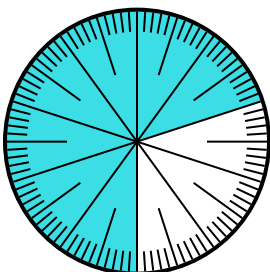
- 5) Drücken Sie den schattiert-Anteil als Bruchteil des Ganzen mit einem 100 als Nenner aus.



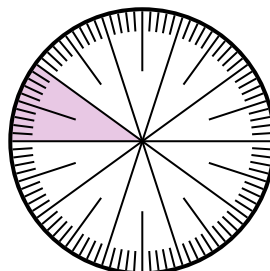
- 6) Drücken Sie den schattiert-Anteil als Bruchteil des Ganzen mit einem 100 als Nenner aus.



- 7) Drücken Sie den schattiert-Anteil als Bruchteil des Ganzen mit einem 100 als Nenner aus.



- 8) Drücken Sie den schattiert-Anteil als Dezimalzahl des Ganzen aus.

**Antworten**

1. $\frac{85}{100}$

2. $\frac{60}{100}$

3. $\frac{15}{100}$

4. $\frac{15}{100}$

5. $\frac{30}{100}$

6. $\frac{45}{100}$


7. $\frac{70}{100}$

8. $0,1$

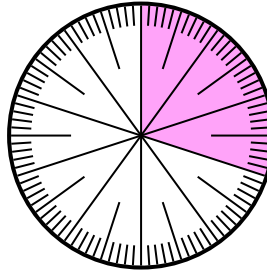


Löse jede Aufgabe.

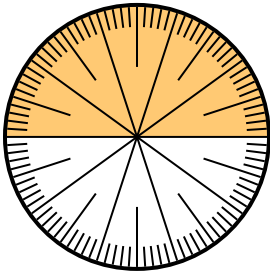
- 1) Drücken Sie den schattiert-Anteil als Dezimalzahl des Ganzen aus.



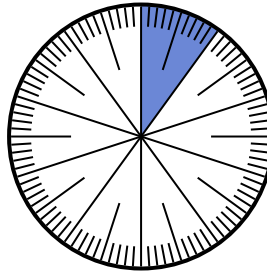
- 2) Drücken Sie den schattiert-Anteil als Bruchteil des Ganzen mit einem 100 als Nenner aus.



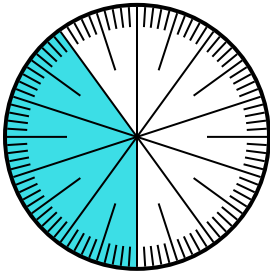
- 3) Drücken Sie den schattiert-Anteil als Bruchteil des Ganzen mit einem 100 als Nenner aus.



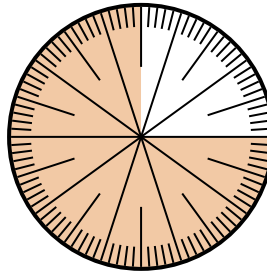
- 4) Drücken Sie den nicht beschattet-Anteil als Dezimalzahl des Ganzen aus.



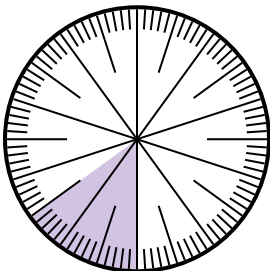
- 5) Drücken Sie den schattiert-Anteil als Dezimalzahl des Ganzen aus.



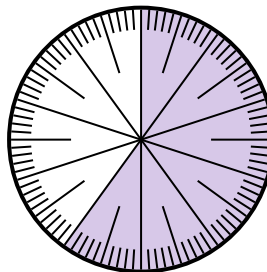
- 6) Drücken Sie den nicht beschattet-Anteil als Dezimalzahl des Ganzen aus.



- 7) Drücken Sie den nicht beschattet-Anteil als Dezimalzahl des Ganzen aus.



- 8) Drücken Sie den nicht beschattet-Anteil als Bruchteil des Ganzen mit einem 100 als Nenner aus.




Antworten

1. _____
2. _____
3. _____
4. _____
5. _____
6. _____
7. _____
8. _____

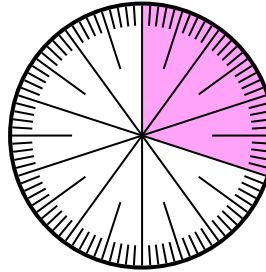


Löse jede Aufgabe.

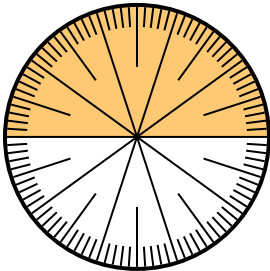
- 1) Drücken Sie den schattiert-Anteil als Dezimalzahl des Ganzen aus.



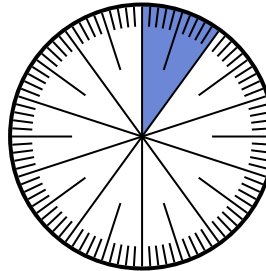
- 2) Drücken Sie den schattiert-Anteil als Bruchteil des Ganzen mit einem 100 als Nenner aus.



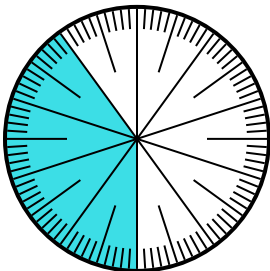
- 3) Drücken Sie den schattiert-Anteil als Bruchteil des Ganzen mit einem 100 als Nenner aus.



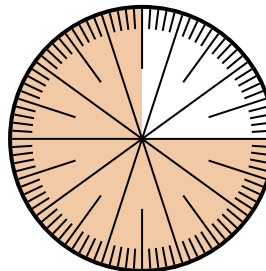
- 4) Drücken Sie den nicht beschattet-Anteil als Dezimalzahl des Ganzen aus.



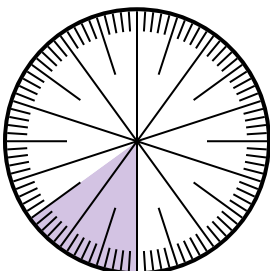
- 5) Drücken Sie den schattiert-Anteil als Dezimalzahl des Ganzen aus.



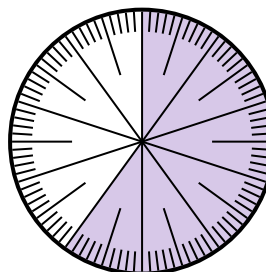
- 6) Drücken Sie den nicht beschattet-Anteil als Dezimalzahl des Ganzen aus.



- 7) Drücken Sie den nicht beschattet-Anteil als Dezimalzahl des Ganzen aus.



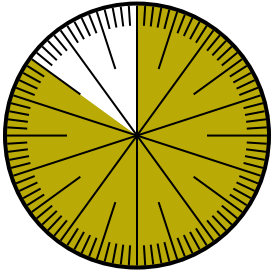
- 8) Drücken Sie den nicht beschattet-Anteil als Bruchteil des Ganzen mit einem 100 als Nenner aus.

**Antworten**1. 0,82. $\frac{30}{100}$ 3. $\frac{25}{100}$ 4. 0,95. 0,46. 0,257. 0,858. $\frac{40}{100}$

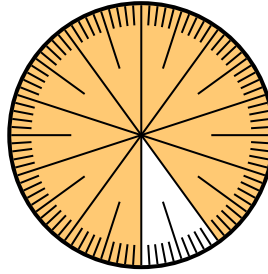


Löse jede Aufgabe.

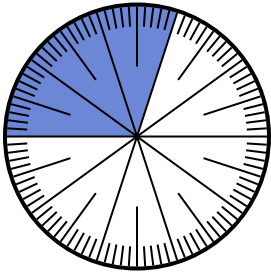
- 1) Drücken Sie den schattiert-Anteil als Bruchteil des Ganzen mit einem 100 als Nenner aus.



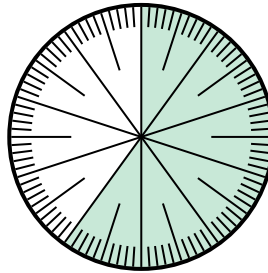
- 2) Drücken Sie den schattiert-Anteil als Dezimalzahl des Ganzen aus.



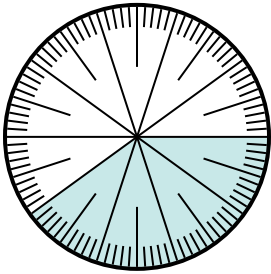
- 3) Drücken Sie den schattiert-Anteil als Dezimalzahl des Ganzen aus.



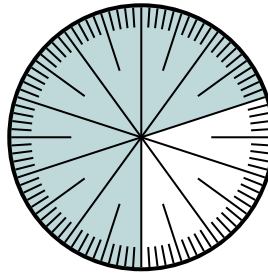
- 4) Drücken Sie den schattiert-Anteil als Bruchteil des Ganzen mit einem 10 als Nenner aus.




- 5) Drücken Sie den schattiert-Anteil als Dezimalzahl des Ganzen aus.



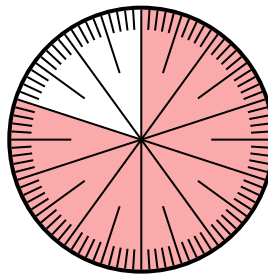
- 6) Drücken Sie den schattiert-Anteil als Bruchteil des Ganzen mit einem 100 als Nenner aus.



- 7) Drücken Sie den schattiert-Anteil als Dezimalzahl des Ganzen aus.



- 8) Drücken Sie den schattiert-Anteil als Bruchteil des Ganzen mit einem 100 als Nenner aus.



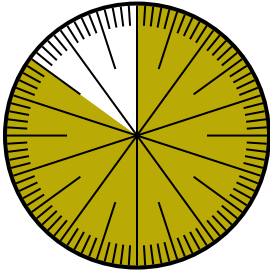
Antworten

1. _____
2. _____
3. _____
4. _____
5. _____
6. _____
7. _____
8. _____

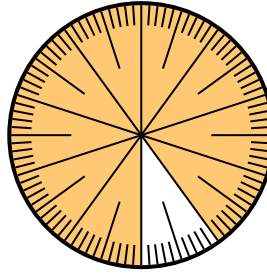


Löse jede Aufgabe.

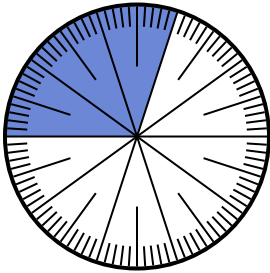
- 1) Drücken Sie den schattiert-Anteil als Bruchteil des Ganzen mit einem 100 als Nenner aus.



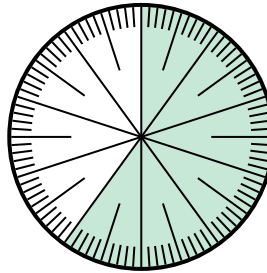
- 2) Drücken Sie den schattiert-Anteil als Dezimalzahl des Ganzen aus.



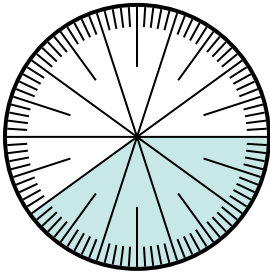
- 3) Drücken Sie den schattiert-Anteil als Dezimalzahl des Ganzen aus.



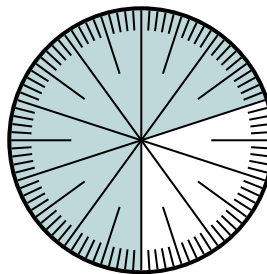
- 4) Drücken Sie den schattiert-Anteil als Bruchteil des Ganzen mit einem 10 als Nenner aus.




- 5) Drücken Sie den schattiert-Anteil als Dezimalzahl des Ganzen aus.



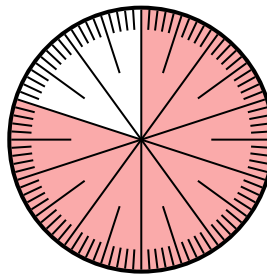
- 6) Drücken Sie den schattiert-Anteil als Bruchteil des Ganzen mit einem 100 als Nenner aus.



- 7) Drücken Sie den schattiert-Anteil als Dezimalzahl des Ganzen aus.



- 8) Drücken Sie den schattiert-Anteil als Bruchteil des Ganzen mit einem 100 als Nenner aus.

**Antworten**

1. $\frac{85}{100}$

2. $0,9$

3. $0,3$

4. $\frac{6}{10}$

5. $0,4$

6. $\frac{70}{100}$

7. $0,45$

8. $\frac{80}{100}$