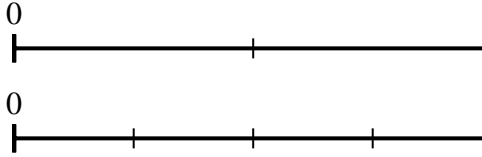




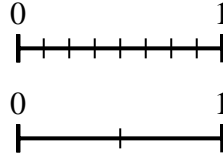
Benutze den Zahlenstrahl um die Fragen zu beantworten.

Antworten

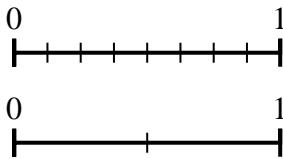
1) Benutze die Zahlenstrahlen und ermittle den äquivalenten Bruch zu {VAR}



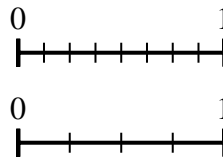
2) Benutze die Zahlenstrahlen und ermittle den äquivalenten Bruch zu {VAR}



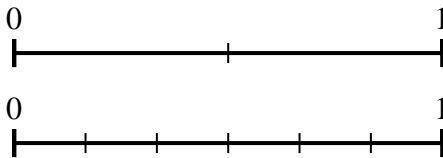
3) Benutze die Zahlenstrahlen und ermittle den äquivalenten Bruch zu {VAR}



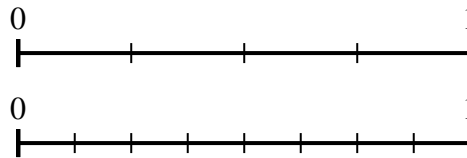
4) Benutze die Zahlenstrahlen und ermittle den äquivalenten Bruch zu {VAR}



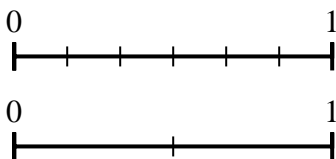
5) Benutze die Zahlenstrahlen und ermittle den äquivalenten Bruch zu {VAR}



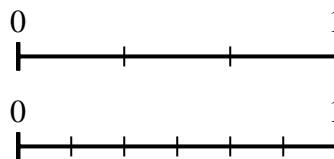
6) Benutze die Zahlenstrahlen und ermittle den äquivalenten Bruch zu {VAR}



7) Benutze die Zahlenstrahlen und ermittle den äquivalenten Bruch zu {VAR}



8) Benutze die Zahlenstrahlen und ermittle den äquivalenten Bruch zu {VAR}

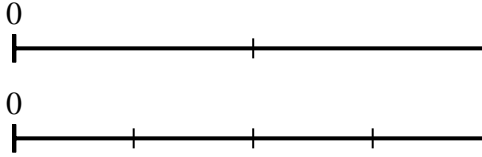


- 1. _____
- 2. _____
- 3. _____
- 4. _____
- 5. _____
- 6. _____
- 7. _____
- 8. _____

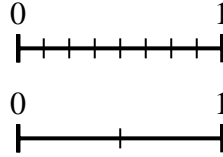


Benutze den Zahlenstrahl um die Fragen zu beantworten.

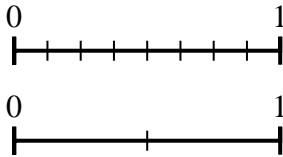
1) Benutze die Zahlenstrahlen und ermittle den äquivalenten Bruch zu {VAR}



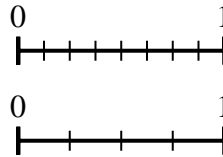
2) Benutze die Zahlenstrahlen und ermittle den äquivalenten Bruch zu {VAR}



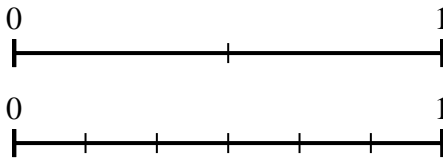
3) Benutze die Zahlenstrahlen und ermittle den äquivalenten Bruch zu {VAR}



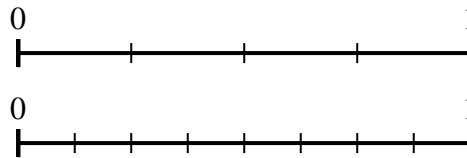
4) Benutze die Zahlenstrahlen und ermittle den äquivalenten Bruch zu {VAR}



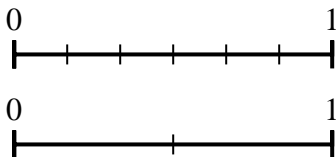
5) Benutze die Zahlenstrahlen und ermittle den äquivalenten Bruch zu {VAR}



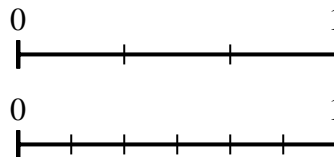
6) Benutze die Zahlenstrahlen und ermittle den äquivalenten Bruch zu {VAR}



7) Benutze die Zahlenstrahlen und ermittle den äquivalenten Bruch zu {VAR}



8) Benutze die Zahlenstrahlen und ermittle den äquivalenten Bruch zu {VAR}



Antworten

1. $\frac{4}{4}$
2. $\frac{1}{2}$
3. $\frac{2}{2}$
4. $\frac{4}{4}$
5. $\frac{0}{6}$
6. $\frac{4}{8}$
7. $\frac{1}{2}$
8. $\frac{4}{6}$