



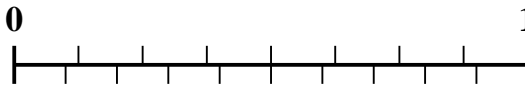
Verwenden Sie den Zahlenstrahl, um jedes Problem zu lösen.

Antworten

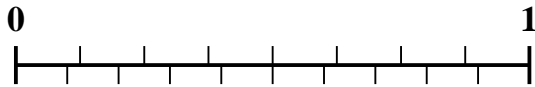
1) Welcher Betrag ist größer, $\frac{4}{7}$ oder 0,43?



2) Welcher Betrag ist größer, $\frac{1}{8}$ oder 0,28?



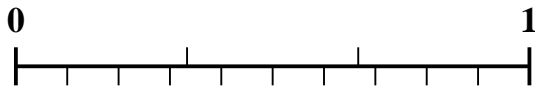
3) Welcher Betrag ist größer, $\frac{3}{8}$ oder 0,5?



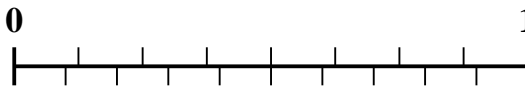
4) Welcher Betrag ist größer, $\frac{5}{9}$ oder 0,7?



5) Welcher Betrag ist größer, $\frac{1}{3}$ oder 0,18?



6) Welcher Betrag ist größer, $\frac{4}{8}$ oder 0,37?



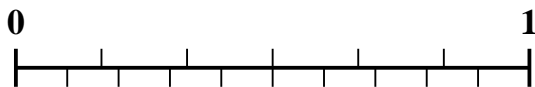
7) Welcher Betrag ist größer, $\frac{3}{7}$ oder 0,57?



8) Welcher Betrag ist größer, $\frac{5}{8}$ oder 0,46?



9) Welcher Betrag ist größer, $\frac{3}{6}$ oder 0,6?



10) Welcher Betrag ist größer, $\frac{1}{2}$ oder 0,31?

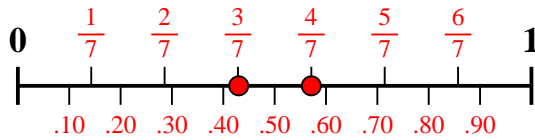


- 1. _____
- 2. _____
- 3. _____
- 4. _____
- 5. _____
- 6. _____
- 7. _____
- 8. _____
- 9. _____
- 10. _____

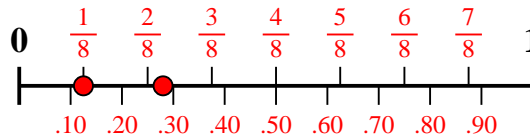


Verwenden Sie den Zahlenstrahl, um jedes Problem zu lösen.

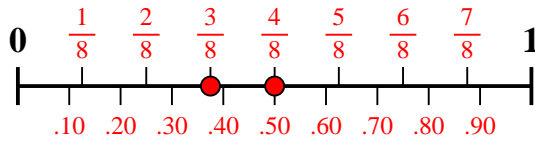
- 1) Welcher Betrag ist größer,
- $\frac{4}{7}$
- oder 0,43?



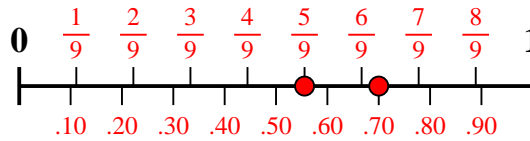
- 2) Welcher Betrag ist größer,
- $\frac{1}{8}$
- oder 0,28?



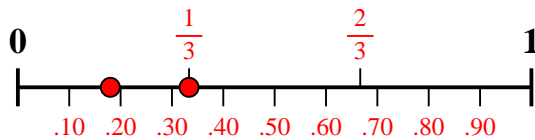
- 3) Welcher Betrag ist größer,
- $\frac{3}{8}$
- oder 0,5?



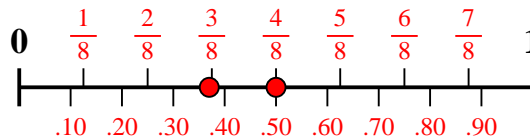
- 4) Welcher Betrag ist größer,
- $\frac{5}{9}$
- oder 0,7?



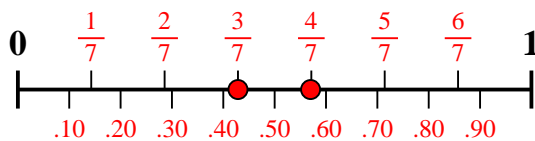
- 5) Welcher Betrag ist größer,
- $\frac{1}{3}$
- oder 0,18?



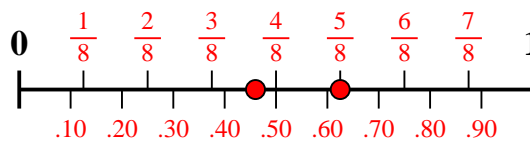
- 6) Welcher Betrag ist größer,
- $\frac{4}{8}$
- oder 0,37?



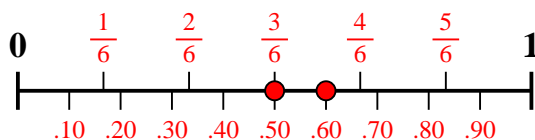
- 7) Welcher Betrag ist größer,
- $\frac{3}{7}$
- oder 0,57?



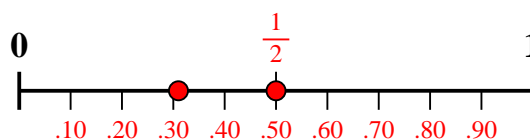
- 8) Welcher Betrag ist größer,
- $\frac{5}{8}$
- oder 0,46?



- 9) Welcher Betrag ist größer,
- $\frac{3}{6}$
- oder 0,6?



- 10) Welcher Betrag ist größer,
- $\frac{1}{2}$
- oder 0,31?

**Antworten**1. $\frac{4}{7}$ 2. **0,28**3. **0,5**4. **0,7**5. $\frac{1}{3}$ 6. $\frac{4}{8}$ 7. **0,57**8. $\frac{5}{8}$ 9. **0,6**10. $\frac{1}{2}$