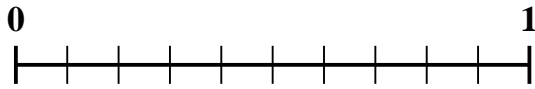




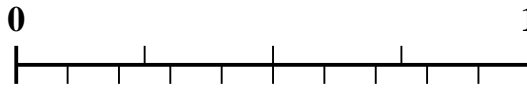
Verwenden Sie den Zahlenstrahl, um jedes Problem zu lösen.

Antworten

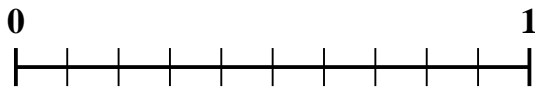
1) Welcher Betrag ist größer, $\frac{6}{10}$ oder 0,47?



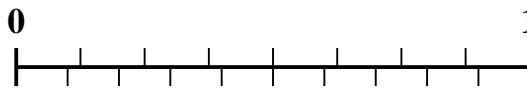
2) Welcher Betrag ist größer, $\frac{3}{4}$ oder 0,89?



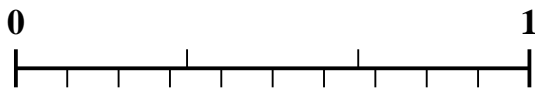
3) Welcher Betrag ist größer, $\frac{5}{10}$ oder 0,6?



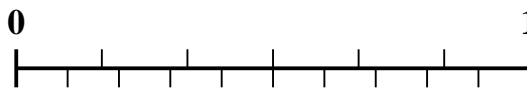
4) Welcher Betrag ist größer, $\frac{7}{8}$ oder 0,78?




5) Welcher Betrag ist größer, $\frac{1}{3}$ oder 0,19?



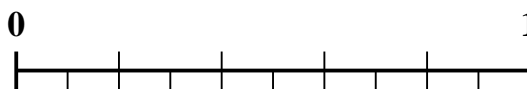
6) Welcher Betrag ist größer, $\frac{2}{6}$ oder 0,44?




7) Welcher Betrag ist größer, $\frac{3}{5}$ oder 0,43?



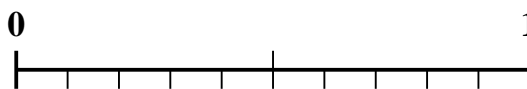
8) Welcher Betrag ist größer, $\frac{2}{5}$ oder 0,56?



9) Welcher Betrag ist größer, $\frac{4}{5}$ oder 0,69?



10) Welcher Betrag ist größer, $\frac{1}{2}$ oder 0,6?

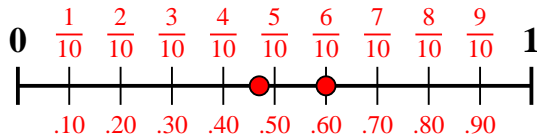


1. _____
2. _____
3. _____
4. _____
5. _____
6. _____
7. _____
8. _____
9. _____
10. _____

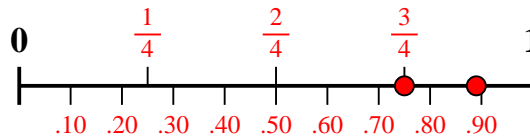


Verwenden Sie den Zahlenstrahl, um jedes Problem zu lösen.

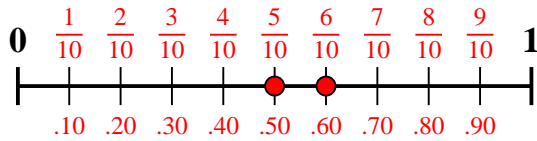
1) Welcher Betrag ist größer, $\frac{6}{10}$ oder 0,47?



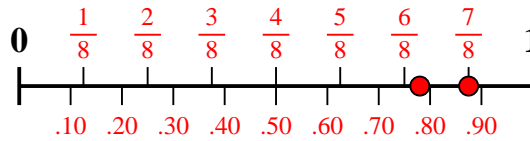
2) Welcher Betrag ist größer, $\frac{3}{4}$ oder 0,89?



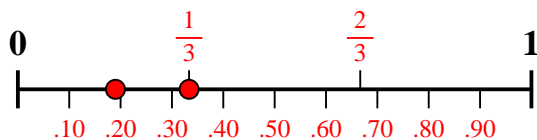
3) Welcher Betrag ist größer, $\frac{5}{10}$ oder 0,6?



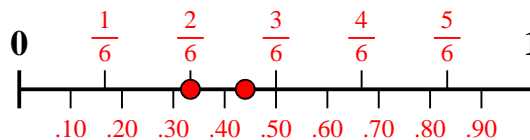
4) Welcher Betrag ist größer, $\frac{7}{8}$ oder 0,78?



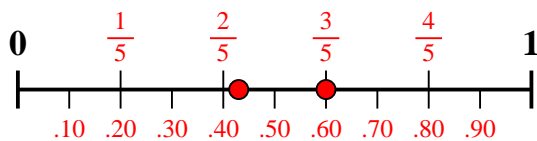
5) Welcher Betrag ist größer, $\frac{1}{3}$ oder 0,19?



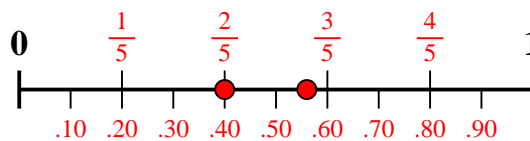
6) Welcher Betrag ist größer, $\frac{2}{6}$ oder 0,44?



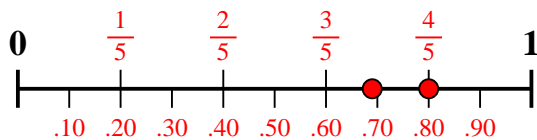
7) Welcher Betrag ist größer, $\frac{3}{5}$ oder 0,43?



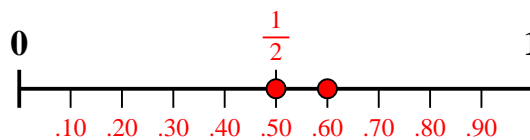
8) Welcher Betrag ist größer, $\frac{2}{5}$ oder 0,56?



9) Welcher Betrag ist größer, $\frac{4}{5}$ oder 0,69?



10) Welcher Betrag ist größer, $\frac{1}{2}$ oder 0,6?



Antworten

1. $\frac{6}{10}$

2. **0,89**

3. **0,6**

4. $\frac{7}{8}$

5. $\frac{1}{3}$

6. **0,44**

7. $\frac{3}{5}$

8. **0,56**

9. $\frac{4}{5}$

10. **0,6**