



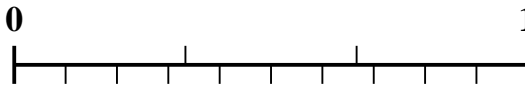
Verwenden Sie den Zahlenstrahl, um jedes Problem zu lösen.

Antworten

1) Welcher Betrag ist größer, $\frac{2}{9}$ oder 0,36?



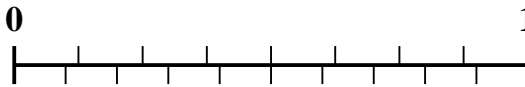
2) Welcher Betrag ist größer, $\frac{1}{3}$ oder 0,43?



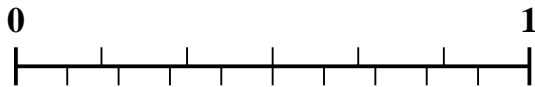
3) Welcher Betrag ist größer, $\frac{1}{5}$ oder 0,35?



4) Welcher Betrag ist größer, $\frac{2}{8}$ oder 0,36?



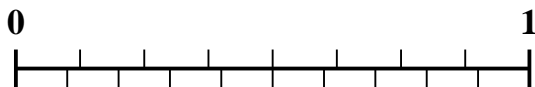
5) Welcher Betrag ist größer, $\frac{4}{6}$ oder 0,57?



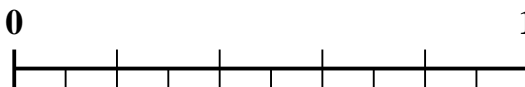
6) Welcher Betrag ist größer, $\frac{3}{9}$ oder 0,15?



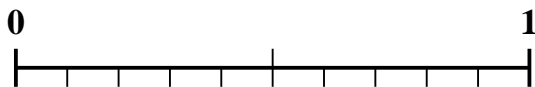
7) Welcher Betrag ist größer, $\frac{3}{8}$ oder 0,49?



8) Welcher Betrag ist größer, $\frac{3}{5}$ oder 0,71?



9) Welcher Betrag ist größer, $\frac{1}{2}$ oder 0,64?



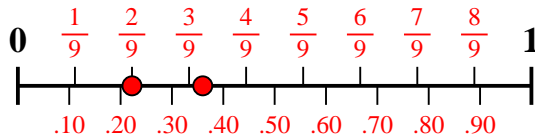
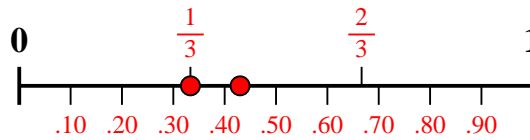
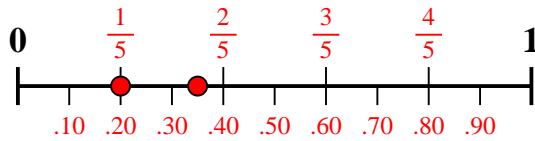
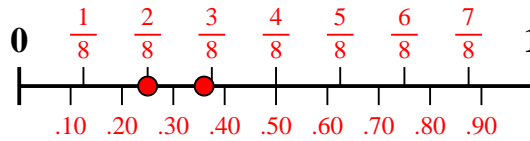
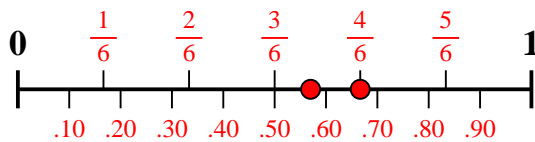
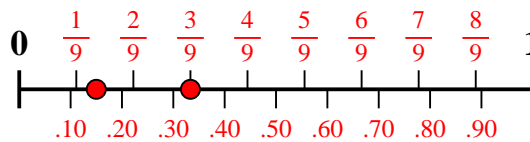
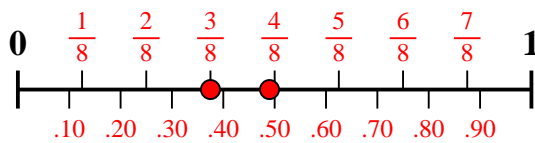
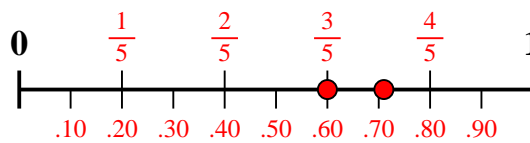
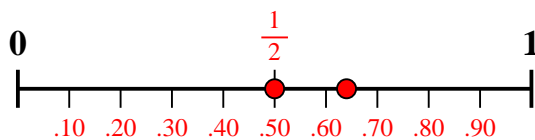
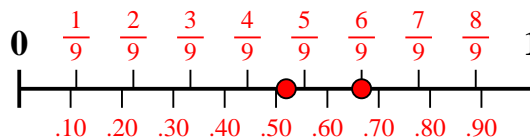
10) Welcher Betrag ist größer, $\frac{6}{9}$ oder 0,52?



1. _____
2. _____
3. _____
4. _____
5. _____
6. _____
7. _____
8. _____
9. _____
10. _____



Verwenden Sie den Zahlenstrahl, um jedes Problem zu lösen.

Antworten1) Welcher Betrag ist größer, $\frac{2}{9}$ oder 0,36?2) Welcher Betrag ist größer, $\frac{1}{3}$ oder 0,43?3) Welcher Betrag ist größer, $\frac{1}{5}$ oder 0,35?4) Welcher Betrag ist größer, $\frac{2}{8}$ oder 0,36?5) Welcher Betrag ist größer, $\frac{4}{6}$ oder 0,57?6) Welcher Betrag ist größer, $\frac{3}{9}$ oder 0,15?7) Welcher Betrag ist größer, $\frac{3}{8}$ oder 0,49?8) Welcher Betrag ist größer, $\frac{3}{5}$ oder 0,71?9) Welcher Betrag ist größer, $\frac{1}{2}$ oder 0,64?10) Welcher Betrag ist größer, $\frac{6}{9}$ oder 0,52?1. **0,36**2. **0,43**3. **0,35**4. **0,36**5. **$\frac{4}{6}$** 6. **$\frac{3}{9}$** 7. **0,49**8. **0,71**9. **0,64**10. **$\frac{6}{9}$**