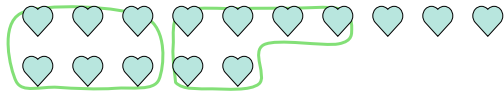




Verwende die Beispiele mit den Figuren im Feld zur Beantwortung der Fragen.

Antworten

Bsp) Unten sind 15 Formen. Wie viele Gruppen von 6 kannst du damit bilden? Wie viele bleiben übrig?




1) Unten sind 12 Formen. Wie viele Gruppen von 6 kannst du damit bilden? Wie viele bleiben übrig?



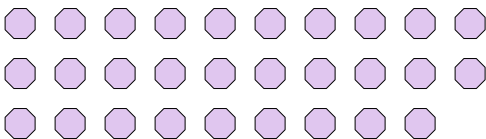
2) Unten sind 23 Formen. Wie viele Gruppen von 8 kannst du damit bilden? Wie viele bleiben übrig?



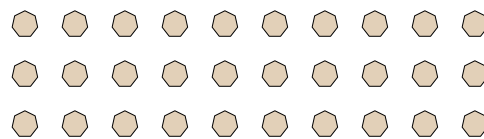
3) Unten sind 27 Formen. Wie viele Gruppen von 4 kannst du damit bilden? Wie viele bleiben übrig?



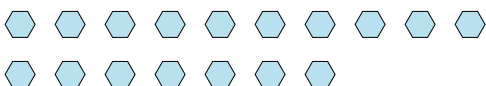
4) Unten sind 29 Formen. Wie viele Gruppen von 7 kannst du damit bilden? Wie viele bleiben übrig?



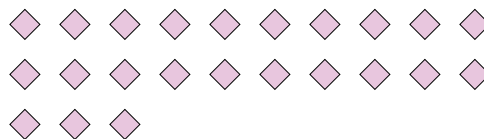
5) Unten sind 30 Formen. Wie viele Gruppen von 3 kannst du damit bilden? Wie viele bleiben übrig?



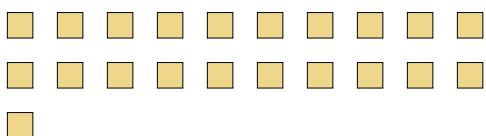
6) Unten sind 17 Formen. Wie viele Gruppen von 4 kannst du damit bilden? Wie viele bleiben übrig?




7) Unten sind 23 Formen. Wie viele Gruppen von 2 kannst du damit bilden? Wie viele bleiben übrig?



8) Unten sind 21 Formen. Wie viele Gruppen von 9 kannst du damit bilden? Wie viele bleiben übrig?



9) Unten sind 29 Formen. Wie viele Gruppen von 4 kannst du damit bilden? Wie viele bleiben übrig?



Bsp. 2 3

1. _____

2. _____

3. _____

4. _____

5. _____

6. _____

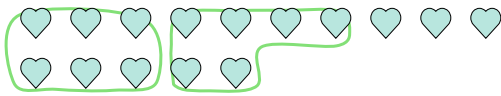
7. _____

8. _____

9. _____

**Verwende die Beispiele mit den Figuren im Feld zur Beantwortung der Fragen.****Antworten**

Bsp) Unten sind 15 Formen. Wie viele Gruppen von 6 kannst du damit bilden? Wie viele bleiben übrig?




1) Unten sind 12 Formen. Wie viele Gruppen von 6 kannst du damit bilden? Wie viele bleiben übrig?



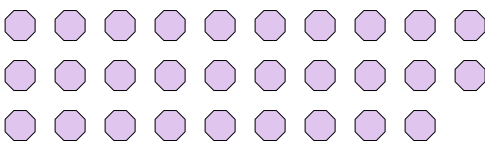
2) Unten sind 23 Formen. Wie viele Gruppen von 8 kannst du damit bilden? Wie viele bleiben übrig?



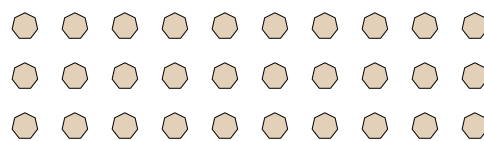
3) Unten sind 27 Formen. Wie viele Gruppen von 4 kannst du damit bilden? Wie viele bleiben übrig?



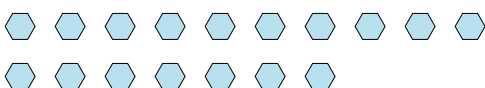
4) Unten sind 29 Formen. Wie viele Gruppen von 7 kannst du damit bilden? Wie viele bleiben übrig?



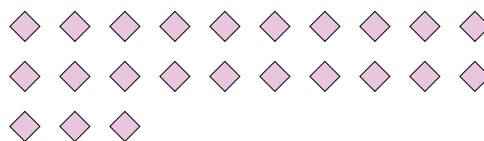
5) Unten sind 30 Formen. Wie viele Gruppen von 3 kannst du damit bilden? Wie viele bleiben übrig?



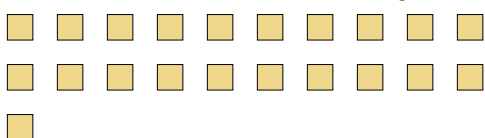
6) Unten sind 17 Formen. Wie viele Gruppen von 4 kannst du damit bilden? Wie viele bleiben übrig?




7) Unten sind 23 Formen. Wie viele Gruppen von 2 kannst du damit bilden? Wie viele bleiben übrig?



8) Unten sind 21 Formen. Wie viele Gruppen von 9 kannst du damit bilden? Wie viele bleiben übrig?



9) Unten sind 29 Formen. Wie viele Gruppen von 4 kannst du damit bilden? Wie viele bleiben übrig?



Bsp.	<u>2</u>	<u>3</u>
1.	<u>2</u>	<u>0</u>
2.	<u>2</u>	<u>7</u>
3.	<u>6</u>	<u>3</u>
4.	<u>4</u>	<u>1</u>
5.	<u>10</u>	<u>0</u>
6.	<u>4</u>	<u>1</u>
7.	<u>11</u>	<u>1</u>
8.	<u>2</u>	<u>3</u>
9.	<u>7</u>	<u>1</u>