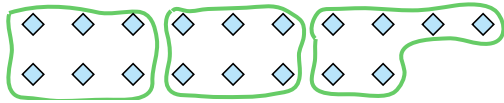
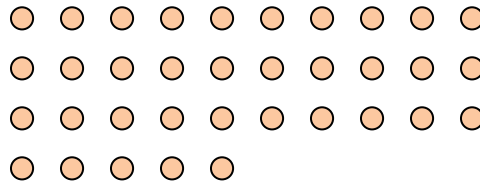
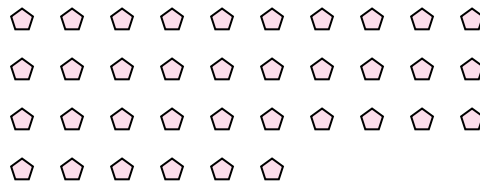

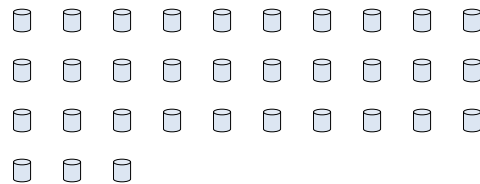
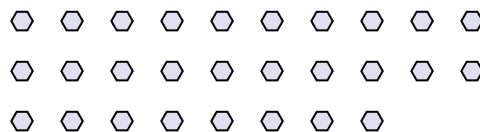


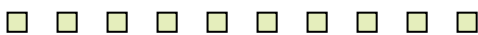





Benutze die vorgegebenen Figuren zur Beantwortung der Fragen.

Antworten**Bsp)** Wie viele Gruppen von 6 kannst du mit den 18 Formen unten bilden?**1)** Wie viele Gruppen von 7 kannst du mit den 35 Formen unten bilden?**2)** Wie viele Gruppen von 5 kannst du mit den 10 Formen unten bilden?**3)** Wie viele Gruppen von 9 kannst du mit den 36 Formen unten bilden?**4)** Wie viele Gruppen von 6 kannst du mit den 24 Formen unten bilden?**5)** Wie viele Gruppen von 3 kannst du mit den 33 Formen unten bilden?**6)** Wie viele Gruppen von 4 kannst du mit den 8 Formen unten bilden?**7)** Wie viele Gruppen von 2 kannst du mit den 28 Formen unten bilden?**8)** Wie viele Gruppen von 4 kannst du mit den 32 Formen unten bilden?**9)** Wie viele Gruppen von 2 kannst du mit den 24 Formen unten bilden?**10)** Wie viele Gruppen von 5 kannst du mit den 10 Formen unten bilden?**11)** Wie viele Gruppen von 6 kannst du mit den 36 Formen unten bilden?Bsp. 31. 52. 23. 44. 45. 116. 27. 148. 89. 1210. 211. 6