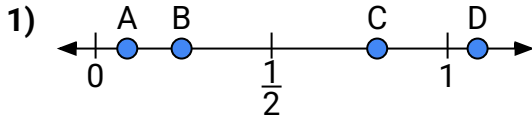
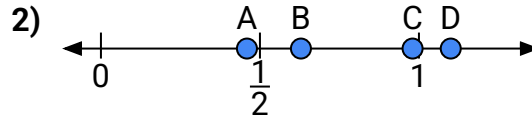




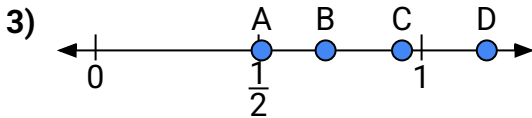
Benutze den Zahlenstrahl um die Lösung zu ermitteln.

**Antworten**

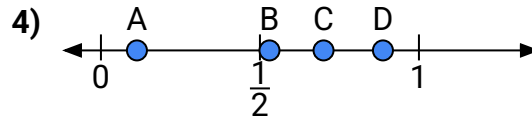
- a) Welcher Buchstabe stellt die Lage von 0,80 am besten dar?  
b) Welcher Buchstabe stellt die Lage von 0,09 am besten dar?



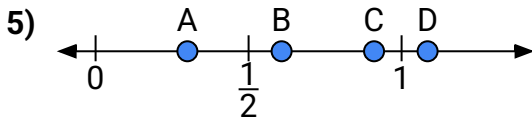
- a) Welcher Buchstabe stellt die Lage von 1,1 am besten dar?  
b) Welcher Buchstabe stellt die Lage von 0,98 am besten dar?



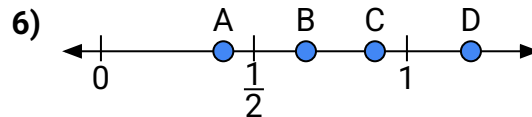
- a) Welcher Buchstabe stellt die Lage von 1,20 am besten dar?  
b) Welcher Buchstabe stellt die Lage von 0,94 am besten dar?



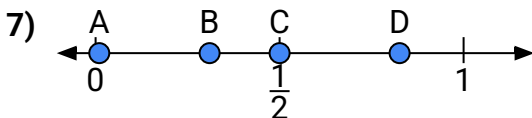
- a) Welcher Buchstabe stellt die Lage von 0,70 am besten dar?  
b) Welcher Buchstabe stellt die Lage von 0,53 am besten dar?



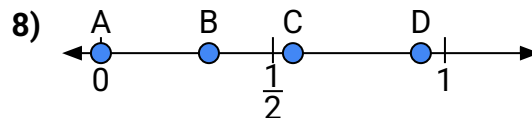
- a) Welcher Buchstabe stellt die Lage von 0,30 am besten dar?  
b) Welcher Buchstabe stellt die Lage von 0,91 am besten dar?



- a) Welcher Buchstabe stellt die Lage von 0,4 am besten dar?  
b) Welcher Buchstabe stellt die Lage von 0,67 am besten dar?



- a) Welcher Buchstabe stellt die Lage von 0,50 am besten dar?  
b) Welcher Buchstabe stellt die Lage von 0,01 am besten dar?

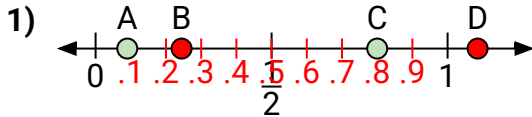


- a) Welcher Buchstabe stellt die Lage von 0,0 am besten dar?  
b) Welcher Buchstabe stellt die Lage von 0,93 am besten dar?

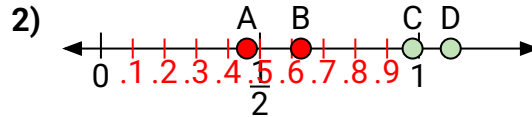
1. \_\_\_\_\_  
2. \_\_\_\_\_  
3. \_\_\_\_\_  
4. \_\_\_\_\_  
5. \_\_\_\_\_  
6. \_\_\_\_\_  
7. \_\_\_\_\_  
8. \_\_\_\_\_



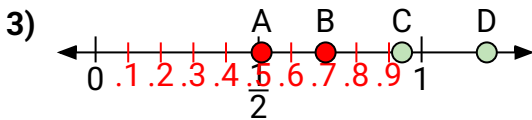
Benutze den Zahlenstrahl um die Lösung zu ermitteln.

**Antworten**

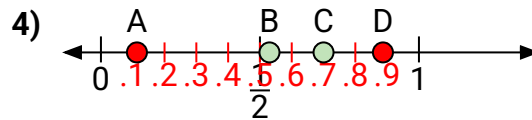
- a) Welcher Buchstabe stellt die Lage von 0,80 am besten dar?  
b) Welcher Buchstabe stellt die Lage von 0,09 am besten dar?



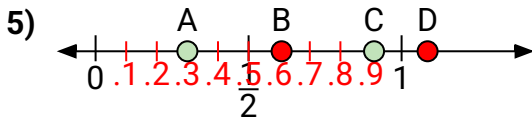
- a) Welcher Buchstabe stellt die Lage von 1,1 am besten dar?  
b) Welcher Buchstabe stellt die Lage von 0,98 am besten dar?



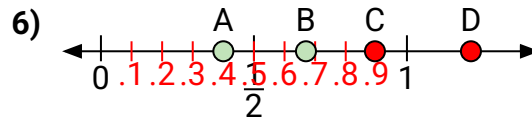
- a) Welcher Buchstabe stellt die Lage von 1,20 am besten dar?  
b) Welcher Buchstabe stellt die Lage von 0,94 am besten dar?



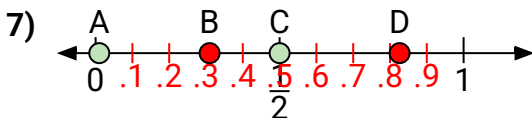
- a) Welcher Buchstabe stellt die Lage von 0,70 am besten dar?  
b) Welcher Buchstabe stellt die Lage von 0,53 am besten dar?



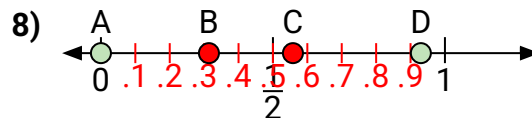
- a) Welcher Buchstabe stellt die Lage von 0,30 am besten dar?  
b) Welcher Buchstabe stellt die Lage von 0,91 am besten dar?



- a) Welcher Buchstabe stellt die Lage von 0,4 am besten dar?  
b) Welcher Buchstabe stellt die Lage von 0,67 am besten dar?



- a) Welcher Buchstabe stellt die Lage von 0,50 am besten dar?  
b) Welcher Buchstabe stellt die Lage von 0,01 am besten dar?



- a) Welcher Buchstabe stellt die Lage von 0,0 am besten dar?  
b) Welcher Buchstabe stellt die Lage von 0,93 am besten dar?

1. C A  
2. D C  
3. D C  
4. C B  
5. A C  
6. A B  
7. C A  
8. A D