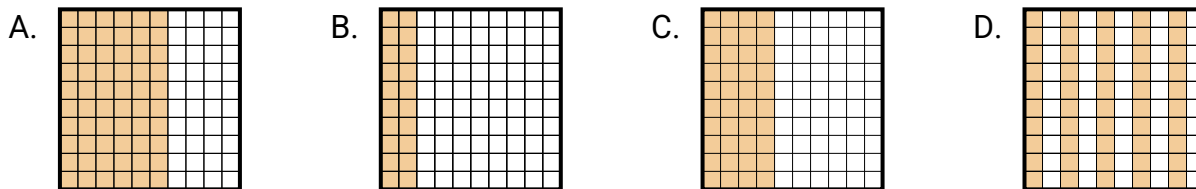


**Bestimme, welcher Buchstabe die Frage richtig beantwortet.****Antworten**

- 1) Welches  $10 \times 1$ -Gitter ist schattiert, um die Dezimalzahl darzustellen, die, wenn sie zu 0,6 addiert wird, insgesamt 1,00 ergibt?

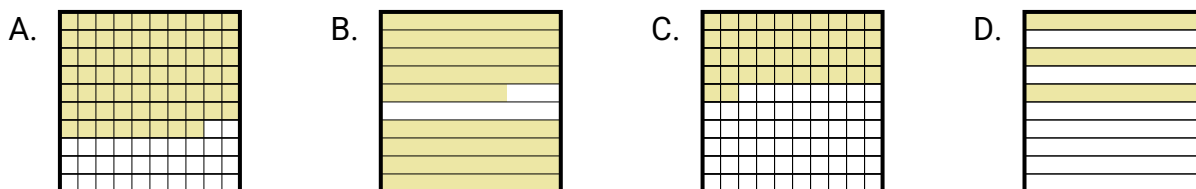


1. \_\_\_\_\_

2. \_\_\_\_\_

3. \_\_\_\_\_

- 2) Welches  $10 \times 10$ -Gitter ist schattiert, um die Dezimalzahl darzustellen, die, wenn sie zu 0,13 addiert wird, insgesamt 1,00 ergibt?

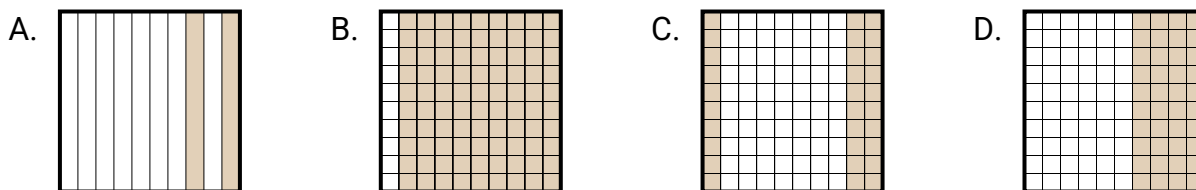


4. \_\_\_\_\_

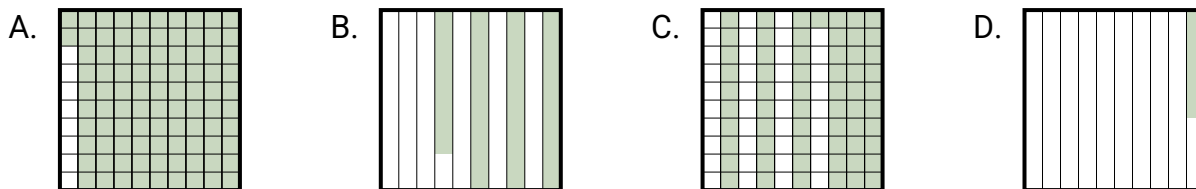
5. \_\_\_\_\_

6. \_\_\_\_\_

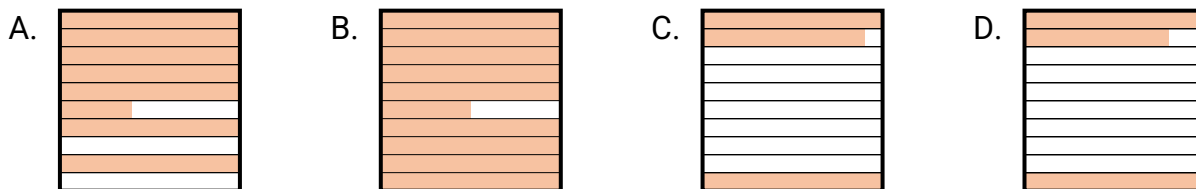
- 3) Welches  $10 \times 1$ -Gitter ist schattiert, um die Dezimalzahl darzustellen, die, wenn sie zu 0,8 addiert wird, insgesamt 1,00 ergibt?



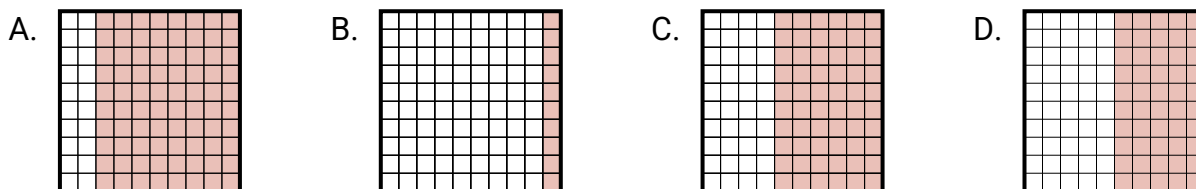
- 4) Welches  $10 \times 10$ -Gitter ist schattiert, um die Dezimalzahl darzustellen, die, wenn sie zu 0,62 addiert wird, insgesamt 1,00 ergibt?



- 5) Welches  $10 \times 10$ -Gitter ist schattiert, um die Dezimalzahl darzustellen, die, wenn sie zu 0,05 addiert wird, insgesamt 1,00 ergibt?

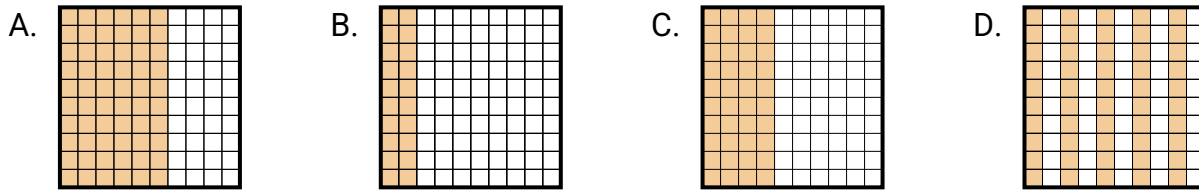


- 6) Welches  $10 \times 1$ -Gitter ist schattiert, um die Dezimalzahl darzustellen, die, wenn sie zu 0,5 addiert wird, insgesamt 1,00 ergibt?

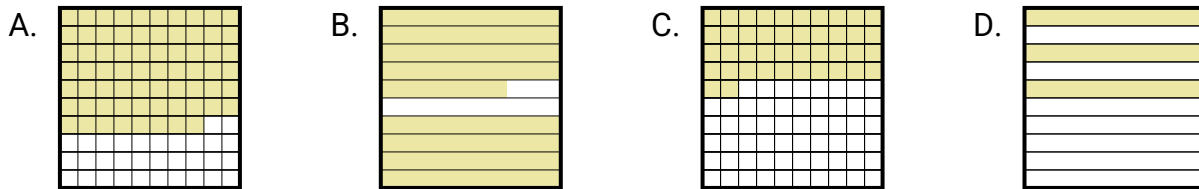


**Bestimme, welcher Buchstabe die Frage richtig beantwortet.****Antworten**

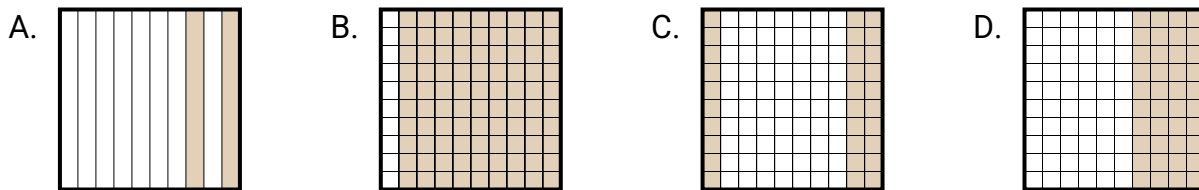
- 1) Welches  $10 \times 1$ -Gitter ist schattiert, um die Dezimalzahl darzustellen, die, wenn sie zu 0,6 addiert wird, insgesamt 1,00 ergibt?

1. **C**2. **B**3. **A**

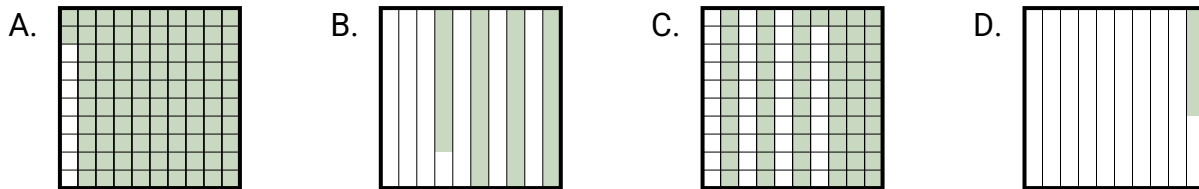
- 2) Welches  $10 \times 10$ -Gitter ist schattiert, um die Dezimalzahl darzustellen, die, wenn sie zu 0,13 addiert wird, insgesamt 1,00 ergibt?

4. **B**5. **B**6. **D**

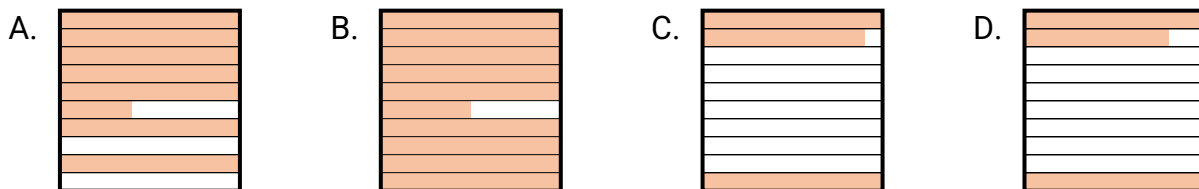
- 3) Welches  $10 \times 1$ -Gitter ist schattiert, um die Dezimalzahl darzustellen, die, wenn sie zu 0,8 addiert wird, insgesamt 1,00 ergibt?



- 4) Welches  $10 \times 10$ -Gitter ist schattiert, um die Dezimalzahl darzustellen, die, wenn sie zu 0,62 addiert wird, insgesamt 1,00 ergibt?



- 5) Welches  $10 \times 10$ -Gitter ist schattiert, um die Dezimalzahl darzustellen, die, wenn sie zu 0,05 addiert wird, insgesamt 1,00 ergibt?



- 6) Welches  $10 \times 1$ -Gitter ist schattiert, um die Dezimalzahl darzustellen, die, wenn sie zu 0,5 addiert wird, insgesamt 1,00 ergibt?

