



Zählen Sie die Anzahl der gezeigten Formen.

Antworten

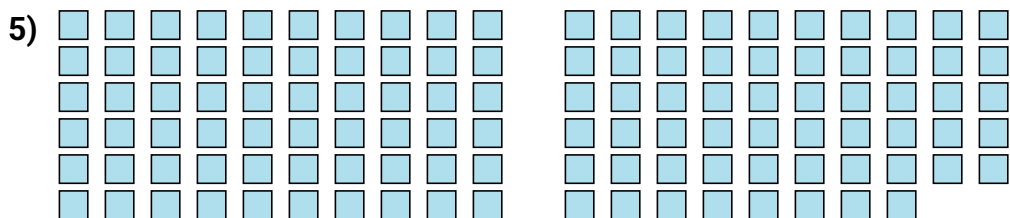
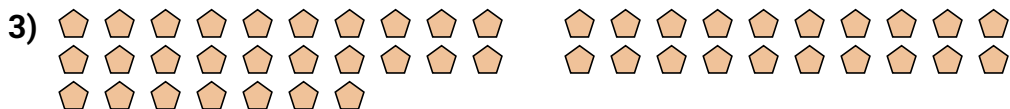

1. _____

2. _____

3. _____


4. _____

5. _____





Zählen Sie die Anzahl der gezeigten Formen.

Antworten1. **100**2. **75**3. **47**4. **19**5. **118**