




Zählen Sie die Anzahl der gezeigten Formen.

Antworten


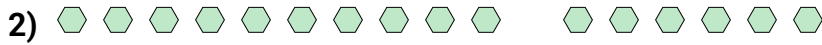
1. _____

2. _____

3. _____


4. _____

5. _____





Zählen Sie die Anzahl der gezeigten Formen.

Antworten1. **94**2. **16**3. **69**4. **120**5. **41**