



**Stelle fest, welcher Buchstabe das Volumen am besten darstellt.**

**Antworten**

**Xícara**

Una taza se refiere a la cantidad de leche que se obtiene de la cafetería.



**Pinta**

Uma pinta é aproximadamente a quantidade que você recebe em um copo grande.  
1 pinta = 2 xícaras



**Quarto**

Um quarto é mais ou menos a quantidade que você consegue em um recipiente grande de leite.  
1 cuarto = 2 pintas



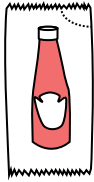
**Galón**

Un galón es la cantidad que viene en un recipiente de plástico grande.  
1 galón = 4 cuartos



1. \_\_\_\_\_
2. \_\_\_\_\_
3. \_\_\_\_\_
4. \_\_\_\_\_
5. \_\_\_\_\_
6. \_\_\_\_\_
7. \_\_\_\_\_
8. \_\_\_\_\_
9. \_\_\_\_\_


1)



Ketchup in a packet

- A. 1.5 pints
- B. 2 quarts
- C. 0.5 gallonen
- D. weniger als 1 Tasse

2)



Ice Chest

- A. 2 quarts
- B. 16 Tassen
- C. 100 quarts
- D. 5 gallonen

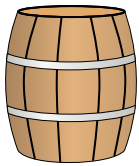
3)



Sand in a pail

- A. 1 Tasse
- B. 1 gallon
- C. 32 gallonen
- D. 7 fluid ounces

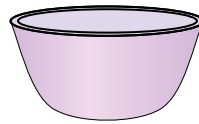
4)



Water a barrel holds

- A. 20 Tassen
- B. 3 inches
- C. 50 gallonen
- D. 10 pints

5)



Cereal Bowl

- A. 4 pints
- B. 0.5 gallonen
- C. 1 pint
- D. 2 gallonen

6)



2 liter of Soda

- A. 5 gallonen
- B. 0.5 gallonen
- C. 2 Tassen
- D. 1 pint

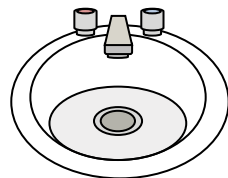
7)



Ink in a pen

- A. 2 pints
- B. 1 gallon
- C. weniger als 1 Tasse
- D. 1 quart

8)



Water in bathroom sink

- A. 2 Tassen
- B. 2 gallonen
- C. 2 pints
- D. 2 fluid ounces

9)



Liquid a spoon holds

- A. 1 quart
- B. 1 Tasse
- C. 1 pint
- D. Less than a cup



Stelle fest, welcher Buchstabe das Volumen am besten darstellt.

Antworten

**Xícara**

Una taza se refiere a la cantidad de leche que se obtiene de la cafetería.



**Pinta**

Uma pinta é aproximadamente a quantidade que você recebe em um copo grande.  
1 pinta = 2 xícaras



**Quarto**

Um quarto é mais ou menos a quantidade que você consegue em um recipiente grande de leite.  
1 cuarto = 2 pintas



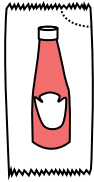
**Galón**

Un galón es la cantidad que viene en un recipiente de plástico grande.  
1 galón = 4 cuartos



1.     **D**
2.     **C**
3.     **B**
4.     **C**
5.     **C**
6.     **B**
7.     **C**
8.     **B**
9.     **D**


1)



Ketchup in a packet

- A. 1.5 pints
- B. 2 quarts
- C. 0.5 gallonen
- D. weniger als 1 Tasse

2)



Ice Chest

- A. 2 quarts
- B. 16 Tassen
- C. 100 quarts
- D. 5 gallonen

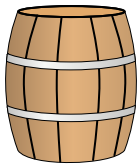
3)



Sand in a pail

- A. 1 Tasse
- B. 1 gallon
- C. 32 gallonen
- D. 7 fluid ounces

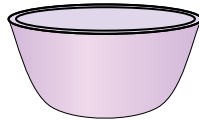
4)



Water a barrel holds

- A. 20 Tassen
- B. 3 inches
- C. 50 gallonen
- D. 10 pints

5)



Cereal Bowl

- A. 4 pints
- B. 0.5 gallonen
- C. 1 pint
- D. 2 gallonen

6)



2 liter of Soda

- A. 5 gallonen
- B. 0.5 gallonen
- C. 2 Tassen
- D. 1 pint

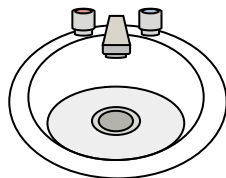
7)



Ink in a pen

- A. 2 pints
- B. 1 gallon
- C. weniger als 1 Tasse
- D. 1 quart

8)



Water in bathroom sink

- A. 2 Tassen
- B. 2 gallonen
- C. 2 pints
- D. 2 fluid ounces

9)



Liquid a spoon holds

- A. 1 quart
- B. 1 Tasse
- C. 1 pint
- D. Less than a cup



**Stelle fest, welcher Buchstabe das Volumen am besten darstellt.**

**Antworten**

**Xícara**

Una taza se refiere a la cantidad de leche que se obtiene de la cafetería.

**Pinta**

Uma pinta é aproximadamente a quantidade que você recebe em um copo grande.  
1 pinta = 2 xícaras

**Quarto**

Um quarto é mais ou menos a quantidade que você consegue em um recipiente grande de leite.  
1 cuarto = 2 pintas

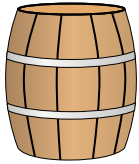
**Galón**

Un galón es la cantidad que viene en un recipiente de plástico grande.  
1 galón = 4 cuartos



1. \_\_\_\_\_
2. \_\_\_\_\_
3. \_\_\_\_\_
4. \_\_\_\_\_
5. \_\_\_\_\_
6. \_\_\_\_\_
7. \_\_\_\_\_
8. \_\_\_\_\_
9. \_\_\_\_\_


1)



Water a barrel holds

- A. 50 gallonen
- B. 20 Tassen
- C. 3 inches
- D. 10 pints

2)



Soda in a can

- A. 4 Tassen
- B. 1 gallone
- C. 4 pints
- D. 1.5 Tassen

3)



Flour in a batch of cookies

- A. 5 gallonen
- B. 2 quarts
- C. 1.5 Tassen
- D. 2 gallonen

4)



Sand in a pail

- A. 7 fluid ounces
- B. 1 Tasse
- C. 1 gallone
- D. 32 gallonen


5)



Measuring Cup

- A. 1 Tasse
- B. 1 gallone
- C. 1 quart
- D. 1 pint


6)



Flour in a pan of brownies

- A. 3 gallonen
- B. 2 Tassen
- C. 8 gallonen
- D. 16 quarts

7)



Sand a wheel barrow holds

- A. 8 quarts
- B. 45 gallonen
- C. 1000 g
- D. 4 Tassen

8)



Liquid in a thermos

- A. 1 Tasse
- B. 1 gallone
- C. 2 amerikanische Pfund
- D. 4 quarts

9)



Water for a house plant

- A. 3 gallonen
- B. 6 quarts
- C. 4 amerikanische Pfund
- D. 2 Tassen



Stelle fest, welcher Buchstabe das Volumen am besten darstellt.

Antworten

**Xícara**

Una taza se refiere a la cantidad de leche que se obtiene de la cafetería.



**Pinta**

Uma pinta é aproximadamente a quantidade que você recebe em um copo grande.  
1 pinta = 2 xícaras



**Quarto**

Um quarto é mais ou menos a quantidade que você consegue em um recipiente grande de leite.  
1 cuarto = 2 pintas



**Galón**

Un galón es la cantidad que viene en un recipiente de plástico grande.  
1 galón = 4 cuartos



1.     **A**    

2.     **D**    

3.     **C**    

4.     **C**    

5.     **A**    


6.     **B**    

7.     **B**    

8.     **A**    

9.     **D**    

1)



Water a barrel holds

- A. 50 gallonen
- B. 20 Tassen
- C. 3 inches
- D. 10 pints

2)



Soda in a can

- A. 4 Tassen
- B. 1 gallone
- C. 4 pints
- D. 1.5 Tassen

3)



Flour in a batch of cookies

- A. 5 gallonen
- B. 2 quarts
- C. 1.5 Tassen
- D. 2 gallonen

4)



Sand in a pail

- A. 7 fluid ounces
- B. 1 Tasse
- C. 1 gallone
- D. 32 gallonen

5)



Measuring Cup

- A. 1 Tasse
- B. 1 gallone
- C. 1 quart
- D. 1 pint


6)



Flour in a pan of brownies

- A. 3 gallonen
- B. 2 Tassen
- C. 8 gallonen
- D. 16 quarts

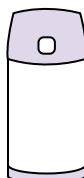
7)



Sand a wheel barrow holds

- A. 8 quarts
- B. 45 gallonen
- C. 1000 g
- D. 4 Tassen

8)



Liquid in a thermos

- A. 1 Tasse
- B. 1 gallone
- C. 2 amerikanische Pfund
- D. 4 quarts

9)



Water for a house plant

- A. 3 gallonen
- B. 6 quarts
- C. 4 amerikanische Pfund
- D. 2 Tassen



**Stelle fest, welcher Buchstabe das Volumen am besten darstellt.**

**Antworten**

**Xícara**

Una taza se refiere a la cantidad de leche que se obtiene de la cafetería.



**Pinta**

Uma pinta é aproximadamente a quantidade que você recebe em um copo grande.  
1 pinta = 2 xícaras



**Quarto**

Um quarto é mais ou menos a quantidade que você consegue em um recipiente grande de leite.  
1 cuarto = 2 pintas



**Galón**

Un galón es la cantidad que viene en un recipiente de plástico grande.  
1 galón = 4 cuartos



1. \_\_\_\_\_
2. \_\_\_\_\_
3. \_\_\_\_\_
4. \_\_\_\_\_
5. \_\_\_\_\_
6. \_\_\_\_\_
7. \_\_\_\_\_
8. \_\_\_\_\_
9. \_\_\_\_\_

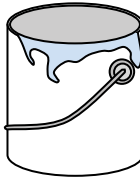
1)



Toothpaste in a tube

- A. 0.5 Tassen
- B. 0.5 gallonen
- C. 5 quarts
- D. 5 g

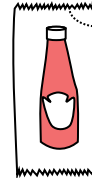
2)



Paint in a can

- A. 0.5 pints
- B. 3 fluid ounces
- C. 1 gallone
- D. 1 Tasse

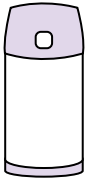
3)



Ketchup in a packet

- A. 2 quarts
- B. weniger als 1 Tasse
- C. 1.5 pints
- D. 0.5 gallonen

4)



Liquid in a thermos

- A. 1 gallone
- B. 1 Tasse
- C. 2 amerikanische Pfund
- D. 4 quarts

5)



Shampoo in a bottle

- A. 2 pints
- B. 0.5 gallonen
- C. 100 Tassen
- D. 1 Tasse

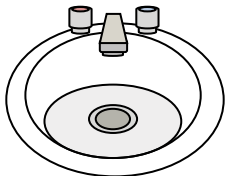
6)



Glue in a bottle

- A. 0.5 Tassen
- B. 2 quarts
- C. 1 pint
- D. 3 gallonen

7)



Water in bathroom sink

- A. 2 gallonen
- B. 2 fluid ounces
- C. 2 pints
- D. 2 Tassen


8)



Liquid in a tea cup

- A. 1 Tasse
- B. 1 gallone
- C. 1 quart
- D. 1 pint

9)



Sand a wheel barrow holds

- A. 45 gallonen
- B. 1000 g
- C. 4 Tassen
- D. 8 quarts



Stelle fest, welcher Buchstabe das Volumen am besten darstellt.

**Antworten****Xícara**

Una taza se refiere a la cantidad de leche que se obtiene de la cafetería.

**Pinta**

Uma pinta é aproximadamente a quantidade que você recebe em um copo grande.  
1 pinta = 2 xícaras

**Quarto**

Um quarto é mais ou menos a quantidade que você consegue em um recipiente grande de leite.  
1 cuarto = 2 pintas

**Galón**

Un galón es la cantidad que viene en un recipiente de plástico grande.  
1 galón = 4 cuartos



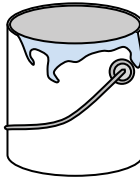
1)



Toothpaste in a tube

- A. 0.5 Tassen
- B. 0.5 gallonen
- C. 5 quarts
- D. 5 g

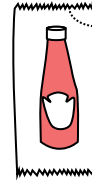
2)



Paint in a can

- A. 0.5 pints
- B. 3 fluid ounces
- C. 1 gallone
- D. 1 Tasse

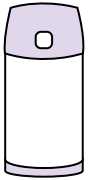
3)



Ketchup in a packet

- A. 2 quarts
- B. weniger als 1 Tasse
- C. 1.5 pints
- D. 0.5 gallonen

4)



Liquid in a thermos

- A. 1 gallone
- B. 1 Tasse
- C. 2 amerikanische Pfund
- D. 4 quarts

5)



Shampoo in a bottle

- A. 2 pints
- B. 0.5 gallonen
- C. 100 Tassen
- D. 1 Tasse

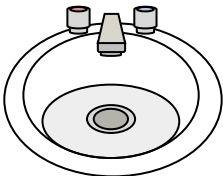
6)



Glue in a bottle

- A. 0.5 Tassen
- B. 2 quarts
- C. 1 pint
- D. 3 gallonen

7)



Water in bathroom sink

- A. 2 gallonen
- B. 2 fluid ounces
- C. 2 pints
- D. 2 Tassen


8)



Liquid in a tea cup

- A. 1 Tasse
- B. 1 gallone
- C. 1 quart
- D. 1 pint

9)



Sand a wheel barrow holds

- A. 45 gallonen
- B. 1000 g
- C. 4 Tassen
- D. 8 quarts

1. **A**2. **C**3. **B**4. **B**5. **A**6. **A**7. **A**8. **A**9. **A**



**Stelle fest, welcher Buchstabe das Volumen am besten darstellt.**

**Antworten**

**Xícara**

Una taza se refiere a la cantidad de leche que se obtiene de la cafetería.



**Pinta**

Uma pinta é aproximadamente a quantidade que você recebe em um copo grande.  
1 pinta = 2 xícaras



**Quarto**

Um quarto é mais ou menos a quantidade que você consegue em um recipiente grande de leite.  
1 cuarto = 2 pintas



**Galón**

Un galón es la cantidad que viene en un recipiente de plástico grande.  
1 galón = 4 cuartos



1. \_\_\_\_\_
2. \_\_\_\_\_
3. \_\_\_\_\_
4. \_\_\_\_\_
5. \_\_\_\_\_
6. \_\_\_\_\_
7. \_\_\_\_\_
8. \_\_\_\_\_
9. \_\_\_\_\_

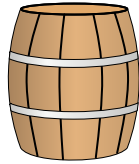
1)



Water for a house plant

- A. 3 gallonen
- B. 2 Tassen
- C. 6 quarts
- D. 4 amerikanische Pfund


2)



Water a barrel holds

- A. 20 Tassen
- B. 50 gallonen
- C. 3 inches
- D. 10 pints

3)



Paint in a can

- A. 3 fluid ounces
- B. 1 Tasse
- C. 1 gallon
- D. 0.5 pints

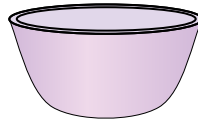
4)



Ink in a pen

- A. 1 quart
- B. weniger als 1 Tasse
- C. 1 gallon
- D. 2 pints

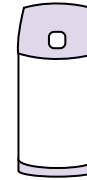
5)



Cereal Bowl

- A. 2 gallonen
- B. 1 pint
- C. 4 pints
- D. 0.5 gallonen

6)



Liquid in a thermos

- A. 2 amerikanische Pfund
- B. 4 quarts
- C. 1 gallon
- D. 1 Tasse

7)



Liquid in a tea cup

- A. 1 pint
- B. 1 quart
- C. 1 Tasse
- D. 1 gallon

8)



Flour in a batch of cookies

- A. 2 quarts
- B. 1.5 Tassen
- C. 2 gallonen
- D. 5 gallonen

9)



Liquid in a pitcher

- A. 1 pint
- B. 2 quarts
- C. 8 gallonen
- D. 2 Tassen



Stelle fest, welcher Buchstabe das Volumen am besten darstellt.

**Antworten****Xícara**

Una taza se refiere a la cantidad de leche que se obtiene de la cafetería.

**Pinta**

Uma pinta é aproximadamente a quantidade que você recebe em um copo grande.  
1 pinta = 2 xícaras

**Quarto**

Um quarto é mais ou menos a quantidade que você consegue em um recipiente grande de leite.  
1 cuarto = 2 pintas

**Galón**

Un galón es la cantidad que viene en un recipiente de plástico grande.  
1 galón = 4 cuartos



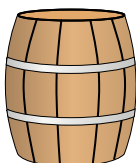
1)



Water for a house plant

- A. 3 gallonen
- B. 2 Tassen
- C. 6 quarts
- D. 4 amerikanische Pfund

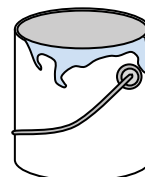
2)



Water a barrel holds

- A. 20 Tassen
- B. 50 gallonen
- C. 3 inches
- D. 10 pints

3)



Paint in a can

- A. 3 fluid ounces
- B. 1 Tasse
- C. 1 gallon
- D. 0.5 pints

4)



Ink in a pen

- A. 1 quart
- B. weniger als 1 Tasse
- C. 1 gallon
- D. 2 pints

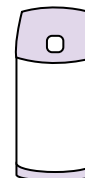
5)



Cereal Bowl

- A. 2 gallonen
- B. 1 pint
- C. 4 pints
- D. 0.5 gallonen

6)



Liquid in a thermos

- A. 2 amerikanische Pfund
- B. 4 quarts
- C. 1 gallon
- D. 1 Tasse

7)



Liquid in a tea cup

- A. 1 pint
- B. 1 quart
- C. 1 Tasse
- D. 1 gallon


8)



Flour in a batch of cookies

- A. 2 quarts
- B. 1.5 Tassen
- C. 2 gallonen
- D. 5 gallonen

9)



Liquid in a pitcher

- A. 1 pint
- B. 2 quarts
- C. 8 gallonen
- D. 2 Tassen

1. **B**2. **B**3. **C**4. **B**5. **B**6. **D**7. **C**8. **B**9. **B**





**Stelle fest, welcher Buchstabe das Volumen am besten darstellt.**

**Antworten**

**Xícara**

Una taza se refiere a la cantidad de leche que se obtiene de la cafetería.



**Pinta**

Uma pinta é aproximadamente a quantidade que você recebe em um copo grande.  
1 pinta = 2 xícaras



**Quarto**

Um quarto é mais ou menos a quantidade que você consegue em um recipiente grande de leite.  
1 cuarto = 2 pintas




**Galón**

Un galón es la cantidad que viene en un recipiente de plástico grande.  
1 galón = 4 cuartos



1. \_\_\_\_\_
2. \_\_\_\_\_
3. \_\_\_\_\_
4. \_\_\_\_\_
5. \_\_\_\_\_
6. \_\_\_\_\_
7. \_\_\_\_\_
8. \_\_\_\_\_
9. \_\_\_\_\_

1)



Gas tank in a car

- A. 16 Tassen
- B. 4 pints
- C. 3 quarts
- D. 15 gallonen

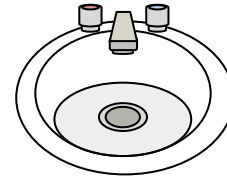
2)



Toothpaste in a tube

- A. 0.5 gallonen
- B. 5 g
- C. 5 quarts
- D. 0.5 Tassen

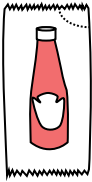
3)



Water in bathroom sink

- A. 2 pints
- B. 2 fluid ounces
- C. 2 gallonen
- D. 2 Tassen

4)



Ketchup in a packet

- A. 2 quarts
- B. 0.5 gallonen
- C. weniger als 1 Tasse
- D. 1.5 pints


5)



Glue in a bottle

- A. 1 pint
- B. 3 gallonen
- C. 0.5 Tassen
- D. 2 quarts

6)



Sand a wheel barrow holds

- A. 45 gallonen
- B. 1000 g
- C. 8 quarts
- D. 4 Tassen

7)



Sand in a pail

- A. 7 fluid ounces
- B. 1 gallon
- C. 32 gallonen
- D. 1 Tasse

8)



Liquid a spoon holds

- A. Less than a cup
- B. 1 Tasse
- C. 1 pint
- D. 1 quart

9)



Soda in a can

- A. 1 gallone
- B. 1.5 Tassen
- C. 4 Tassen
- D. 4 pints



Stelle fest, welcher Buchstabe das Volumen am besten darstellt.

**Antworten****Xícara**

Una taza se refiere a la cantidad de leche que se obtiene de la cafetería.

**Pinta**

Uma pinta é aproximadamente a quantidade que você recebe em um copo grande.  
1 pinta = 2 xícaras

**Quarto**

Um quarto é mais ou menos a quantidade que você consegue em um recipiente grande de leite.  
1 cuarto = 2 pintas

**Galón**

Un galón es la cantidad que viene en un recipiente de plástico grande.  
1 galón = 4 cuartos

1. **D**2. **D**3. **C**4. **C**5. **C**6. **A**7. **B**8. **A**9. **B**

1)



Gas tank in a car

- A. 16 Tassen
- B. 4 pints
- C. 3 quarts
- D. 15 gallonen

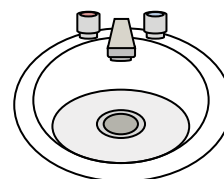
2)



Toothpaste in a tube

- A. 0.5 gallonen
- B. 5 g
- C. 5 quarts
- D. 0.5 Tassen

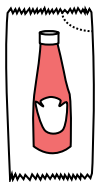
3)



Water in bathroom sink

- A. 2 pints
- B. 2 fluid ounces
- C. 2 gallonen
- D. 2 Tassen

4)



Ketchup in a packet

- A. 2 quarts
- B. 0.5 gallonen
- C. weniger als 1 Tasse
- D. 1.5 pints


5)



Glue in a bottle

- A. 1 pint
- B. 3 gallonen
- C. 0.5 Tassen
- D. 2 quarts

6)



Sand a wheel barrow holds

- A. 45 gallonen
- B. 1000 g
- C. 8 quarts
- D. 4 Tassen

7)



Sand in a pail

- A. 7 fluid ounces
- B. 1 gallon
- C. 32 gallonen
- D. 1 Tasse

8)



Liquid a spoon holds

- A. Less than a cup
- B. 1 Tasse
- C. 1 pint
- D. 1 quart

9)



Soda in a can

- A. 1 gallon
- B. 1.5 Tassen
- C. 4 Tassen
- D. 4 pints



**Stelle fest, welcher Buchstabe das Volumen am besten darstellt.**

**Antworten**

**Xícara**

Una taza se refiere a la cantidad de leche que se obtiene de la cafetería.



**Pinta**

Uma pinta é aproximadamente a quantidade que você recebe em um copo grande.  
1 pinta = 2 xícaras



**Quarto**

Um quarto é mais ou menos a quantidade que você consegue em um recipiente grande de leite.  
1 cuarto = 2 pintas



**Galón**

Un galón es la cantidad que viene en un recipiente de plástico grande.  
1 galón = 4 cuartos



1. \_\_\_\_\_
2. \_\_\_\_\_
3. \_\_\_\_\_
4. \_\_\_\_\_
5. \_\_\_\_\_
6. \_\_\_\_\_
7. \_\_\_\_\_
8. \_\_\_\_\_
9. \_\_\_\_\_


1)



Glue in a bottle

- A. 1 pint
- B. 3 gallonen
- C. 2 quarts
- D. 0.5 Tassen


2)



Sand a wheel barrow holds

- A. 8 quarts
- B. 45 gallonen
- C. 4 Tassen
- D. 1000 g


3)



Ice Chest

- A. 16 Tassen
- B. 2 quarts
- C. 100 quarts
- D. 5 gallonen


4)



Paint in a can

- A. 3 fluid ounces
- B. 1 Tasse
- C. 0.5 pints
- D. 1 gallon

5)



Eyedropper holds

- A. 3 gallonen
- B. 1 pint
- C. weniger als 1 Tasse
- D. 1 Tasse

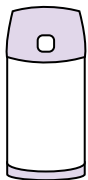
6)



Toothpaste in a tube

- A. 0.5 Tassen
- B. 5 g
- C. 5 quarts
- D. 0.5 gallonen

7)



Liquid in a thermos

- A. 1 gallon
- B. 1 Tasse
- C. 4 quarts
- D. 2 amerikanische Pfund

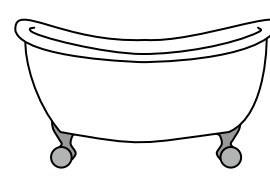
8)



Sand in a pail

- A. 32 gallonen
- B. 1 Tasse
- C. 1 gallon
- D. 7 fluid ounces

9)



Bathtub

- A. 20 pints
- B. 45 gallonen
- C. 40 Tassen
- D. 8 quarts



**Stelle fest, welcher Buchstabe das Volumen am besten darstellt.**

**Antworten**

**Xícara**

Una taza se refiere a la cantidad de leche que se obtiene de la cafetería.



**Pinta**

Uma pinta é aproximadamente a quantidade que você recebe em um copo grande.  
1 pinta = 2 xícaras



**Quarto**

Um quarto é mais ou menos a quantidade que você consegue em um recipiente grande de leite.  
1 cuarto = 2 pintas



**Galón**

Un galón es la cantidad que viene en un recipiente de plástico grande.  
1 galón = 4 cuartos



1.     **D**
2.     **B**
3.     **C**
4.     **D**
5.     **C**
6.     **A**
7.     **B**
8.     **C**
9.     **B**


1)



Glue in a bottle

- A. 1 pint
- B. 3 gallonen
- C. 2 quarts
- D. 0.5 Tassen


2)



Sand a wheel barrow holds

- A. 8 quarts
- B. 45 gallonen
- C. 4 Tassen
- D. 1000 g

3)



Ice Chest

- A. 16 Tassen
- B. 2 quarts
- C. 100 quarts
- D. 5 gallonen


4)



Paint in a can

- A. 3 fluid ounces
- B. 1 Tasse
- C. 0.5 pints
- D. 1 gallon

5)



Eyedropper holds

- A. 3 gallonen
- B. 1 pint
- C. weniger als 1 Tasse
- D. 1 Tasse

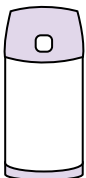
6)



Toothpaste in a tube

- A. 0.5 Tassen
- B. 5 g
- C. 5 quarts
- D. 0.5 gallonen

7)



Liquid in a thermos

- A. 1 gallon
- B. 1 Tasse
- C. 4 quarts
- D. 2 amerikanische Pfund


8)



Sand in a pail

- A. 32 gallonen
- B. 1 Tasse
- C. 1 gallon
- D. 7 fluid ounces

9)



Bathtub

- A. 20 pints
- B. 45 gallonen
- C. 40 Tassen
- D. 8 quarts



**Stelle fest, welcher Buchstabe das Volumen am besten darstellt.**

**Antworten**

**Xícara**

Una taza se refiere a la cantidad de leche que se obtiene de la cafetería.

**Pinta**

Uma pinta é aproximadamente a quantidade que você recebe em um copo grande.  
1 pinta = 2 xícaras

**Quarto**

Um quarto é mais ou menos a quantidade que você consegue em um recipiente grande de leite.  
1 cuarto = 2 pintas

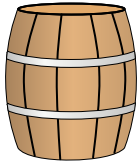
**Galón**

Un galón es la cantidad que viene en un recipiente de plástico grande.  
1 galón = 4 cuartos



1. \_\_\_\_\_
2. \_\_\_\_\_
3. \_\_\_\_\_
4. \_\_\_\_\_
5. \_\_\_\_\_
6. \_\_\_\_\_
7. \_\_\_\_\_
8. \_\_\_\_\_
9. \_\_\_\_\_


1)



Water a barrel holds

- A. 20 Tassen
- B. 10 pints
- C. 3 inches
- D. 50 gallonen


2)



Gas tank in a car

- A. 3 quarts
- B. 4 pints
- C. 15 gallonen
- D. 16 Tassen

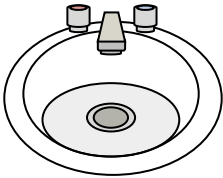
3)



Sand a wheel barrow holds

- A. 8 quarts
- B. 45 gallonen
- C. 1000 g
- D. 4 Tassen

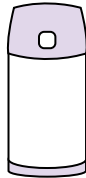
4)



Water in bathroom sink

- A. 2 fluid ounces
- B. 2 gallonen
- C. 2 Tassen
- D. 2 pints

5)



Liquid in a thermos

- A. 1 Tasse
- B. 1 gallone
- C. 2 amerikanische Pfund
- D. 4 quarts


6)



Liquid a spoon holds

- A. 1 Tasse
- B. Less than a cup
- C. 1 pint
- D. 1 quart

7)



Liquid in a pitcher

- A. 1 pint
- B. 2 quarts
- C. 2 Tassen
- D. 8 gallonen

8)



Ink in a pen

- A. 1 gallone
- B. 2 pints
- C. weniger als 1 Tasse
- D. 1 quart

9)



Soda in a can

- A. 4 Tassen
- B. 1.5 Tassen
- C. 4 pints
- D. 1 gallone



Stelle fest, welcher Buchstabe das Volumen am besten darstellt.

Antworten

**Xícara**

Una taza se refiere a la cantidad de leche que se obtiene de la cafetería.



**Pinta**

Uma pinta é aproximadamente a quantidade que você recebe em um copo grande.  
1 pinta = 2 xícaras



**Quarto**

Um quarto é mais ou menos a quantidade que você consegue em um recipiente grande de leite.  
1 cuarto = 2 pintas



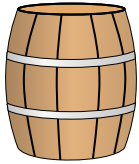
**Galón**

Un galón es la cantidad que viene en un recipiente de plástico grande.  
1 galón = 4 cuartos



1.     **D**
2.     **C**
3.     **B**
4.     **B**
5.     **A**
6.     **B**
7.     **B**
8.     **C**
9.     **B**


1)



Water a barrel holds

- A. 20 Tassen
- B. 10 pints
- C. 3 inches
- D. 50 gallonen


2)



Gas tank in a car

- A. 3 quarts
- B. 4 pints
- C. 15 gallonen
- D. 16 Tassen

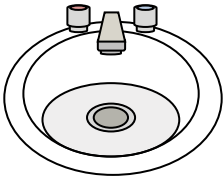
3)



Sand a wheel barrow holds

- A. 8 quarts
- B. 45 gallonen
- C. 1000 g
- D. 4 Tassen

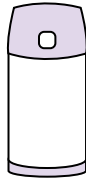
4)



Water in bathroom sink

- A. 2 fluid ounces
- B. 2 gallonen
- C. 2 Tassen
- D. 2 pints

5)



Liquid in a thermos

- A. 1 Tasse
- B. 1 gallone
- C. 2 amerikanische Pfund
- D. 4 quarts


6)



Liquid a spoon holds

- A. 1 Tasse
- B. Less than a cup
- C. 1 pint
- D. 1 quart

7)



Liquid in a pitcher

- A. 1 pint
- B. 2 quarts
- C. 2 Tassen
- D. 8 gallonen

8)



Ink in a pen

- A. 1 gallone
- B. 2 pints
- C. weniger als 1 Tasse
- D. 1 quart

9)



Soda in a can

- A. 4 Tassen
- B. 1.5 Tassen
- C. 4 pints
- D. 1 gallone



**Stelle fest, welcher Buchstabe das Volumen am besten darstellt.**

**Antworten**

**Xícara**

Una taza se refiere a la cantidad de leche que se obtiene de la cafetería.

**Pinta**

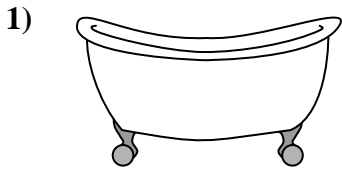
Uma pinta é aproximadamente a quantidade que você recebe em um copo grande.  
1 pinta = 2 xícaras

**Quarto**


Um quarto é mais ou menos a quantidade que você consegue em um recipiente grande de leite.  
1 cuarto = 2 pintas

**Galón**


Un galón es la cantidad que viene en un recipiente de plástico grande.  
1 galón = 4 cuartos



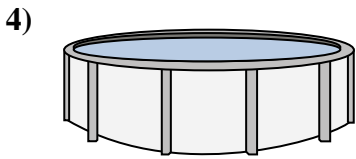
Bathtub  
A. 40 Tassen  
B. 20 pints  
C. 45 gallonen  
D. 8 quarts



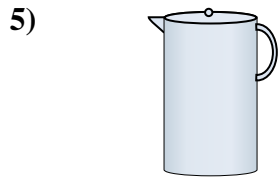
Sand in a pail  
A. 32 gallonen  
B. 1 gallon  
C. 1 Tasse  
D. 7 fluid ounces



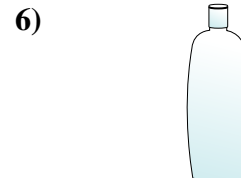
Eyedropper holds  
A. 3 gallonen  
B. 1 Tasse  
C. weniger als 1 Tasse  
D. 1 pint



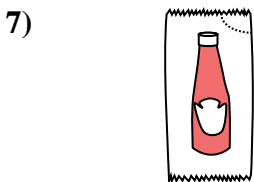
Water in a pool  
A. 5000 feet  
B. 25 Tassen  
C. 20 gallonen  
D. 3000 gallonen



Liquid in a pitcher  
A. 1 pint  
B. 8 gallonen  
C. 2 Tassen  
D. 2 quarts




Shampoo in a bottle  
A. 0.5 gallonen  
B. 100 Tassen  
C. 1 Tasse  
D. 2 pints



Ketchup in a packet  
A. 0.5 gallonen  
B. 1.5 pints  
C. weniger als 1 Tasse  
D. 2 quarts



Water for a house plant  
A. 6 quarts  
B. 4 amerikanische Pfund  
C. 2 Tassen  
D. 3 gallonen



Water a barrel holds  
A. 3 inches  
B. 10 pints  
C. 20 Tassen  
D. 50 gallonen

1. \_\_\_\_\_
2. \_\_\_\_\_
3. \_\_\_\_\_
4. \_\_\_\_\_
5. \_\_\_\_\_
6. \_\_\_\_\_
7. \_\_\_\_\_
8. \_\_\_\_\_
9. \_\_\_\_\_



Stelle fest, welcher Buchstabe das Volumen am besten darstellt.

Antworten

**Xícara**

Una taza se refiere a la cantidad de leche que se obtiene de la cafetería.



**Pinta**

Uma pinta é aproximadamente a quantidade que você recebe em um copo grande.  
1 pinta = 2 xícaras



**Quarto**

Um quarto é mais ou menos a quantidade que você consegue em um recipiente grande de leite.  
1 cuarto = 2 pintas




**Galón**

Un galón es la cantidad que viene en un recipiente de plástico grande.  
1 galón = 4 cuartos



1)



Bathtub

- A. 40 Tassen
- B. 20 pints
- C. 45 gallonen
- D. 8 quarts


2)



Sand in a pail

- A. 32 gallonen
- B. 1 gallon
- C. 1 Tasse
- D. 7 fluid ounces

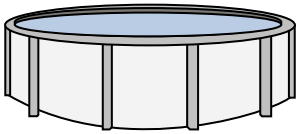
3)



Eyedropper holds

- A. 3 gallonen
- B. 1 Tasse
- C. weniger als 1 Tasse
- D. 1 pint


4)



Water in a pool

- A. 5000 feet
- B. 25 Tassen
- C. 20 gallonen
- D. 3000 gallonen

5)



Liquid in a pitcher

- A. 1 pint
- B. 8 gallonen
- C. 2 Tassen
- D. 2 quarts

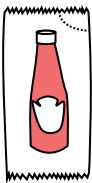
6)



Shampoo in a bottle

- A. 0.5 gallonen
- B. 100 Tassen
- C. 1 Tasse
- D. 2 pints

7)



Ketchup in a packet

- A. 0.5 gallonen
- B. 1.5 pints
- C. weniger als 1 Tasse
- D. 2 quarts


8)



Water for a house plant

- A. 6 quarts
- B. 4 amerikanische Pfund
- C. 2 Tassen
- D. 3 gallonen

9)



Water a barrel holds

- A. 3 inches
- B. 10 pints
- C. 20 Tassen
- D. 50 gallonen

- 1.   **C**
- 2.   **B**
- 3.   **C**
- 4.   **D**
- 5.   **D**
- 6.   **D**
- 7.   **C**
- 8.   **C**
- 9.   **D**





**Stelle fest, welcher Buchstabe das Volumen am besten darstellt.**

**Antworten**

**Xícara**

Una taza se refiere a la cantidad de leche que se obtiene de la cafetería.



**Pinta**

Uma pinta é aproximadamente a quantidade que você recebe em um copo grande.  
1 pinta = 2 xícaras



**Quarto**

Um quarto é mais ou menos a quantidade que você consegue em um recipiente grande de leite.  
1 cuarto = 2 pintas



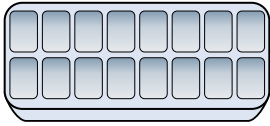
**Galón**

Un galón es la cantidad que viene en un recipiente de plástico grande.  
1 galón = 4 cuartos



1. \_\_\_\_\_
2. \_\_\_\_\_
3. \_\_\_\_\_
4. \_\_\_\_\_
5. \_\_\_\_\_
6. \_\_\_\_\_
7. \_\_\_\_\_
8. \_\_\_\_\_
9. \_\_\_\_\_

1)



Water in an ice tray

- A. 10 gallonen
- B. 1 pint
- C. 4 pints
- D. 1 gallone


2)



Soda in a can

- A. 1.5 Tassen
- B. 4 Tassen
- C. 4 pints
- D. 1 gallone


3)



Measuring Cup

- A. 1 quart
- B. 1 pint
- C. 1 gallone
- D. 1 Tasse


4)



Sand a wheel barrow holds

- A. 4 Tassen
- B. 1000 g
- C. 45 gallonen
- D. 8 quarts


5)



Gas tank in a car

- A. 16 Tassen
- B. 4 pints
- C. 15 gallonen
- D. 3 quarts

6)



Eyedropper holds

- A. weniger als 1 Tasse
- B. 1 Tasse
- C. 3 gallonen
- D. 1 pint

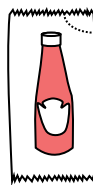
7)



2 liter of Soda

- A. 2 Tassen
- B. 1 pint
- C. 0.5 gallonen
- D. 5 gallonen

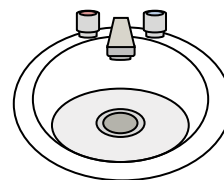
8)



Ketchup in a packet

- A. 0.5 gallonen
- B. weniger als 1 Tasse
- C. 1.5 pints
- D. 2 quarts

9)



Water in bathroom sink

- A. 2 Tassen
- B. 2 gallonen
- C. 2 pints
- D. 2 fluid ounces



Stelle fest, welcher Buchstabe das Volumen am besten darstellt.

Antworten

**Xícara**

Una taza se refiere a la cantidad de leche que se obtiene de la cafetería.



**Pinta**

Uma pinta é aproximadamente a quantidade que você recebe em um copo grande.  
1 pinta = 2 xícaras



**Quarto**

Um quarto é mais ou menos a quantidade que você consegue em um recipiente grande de leite.  
1 cuarto = 2 pintas



**Galón**

Un galón es la cantidad que viene en un recipiente de plástico grande.  
1 galón = 4 cuartos



1. **B**

2. **A**

3. **D**

4. **C**

5. **C**

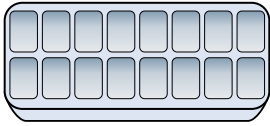
6. **A**

7. **C**

8. **B**

9. **B**

1)



Water in an ice tray

- A. 10 gallonen
- B. 1 pint
- C. 4 pints
- D. 1 gallone


2)



Soda in a can

- A. 1.5 Tassen
- B. 4 Tassen
- C. 4 pints
- D. 1 gallone


3)



Measuring Cup

- A. 1 quart
- B. 1 pint
- C. 1 gallone
- D. 1 Tasse


4)



Sand a wheel barrow holds

- A. 4 Tassen
- B. 1000 g
- C. 45 gallonen
- D. 8 quarts


5)



Gas tank in a car

- A. 16 Tassen
- B. 4 pints
- C. 15 gallonen
- D. 3 quarts

6)



Eyedropper holds

- A. weniger als 1 Tasse
- B. 1 Tasse
- C. 3 gallonen
- D. 1 pint

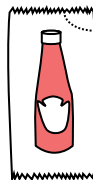
7)



2 liter of Soda

- A. 2 Tassen
- B. 1 pint
- C. 0.5 gallonen
- D. 5 gallonen

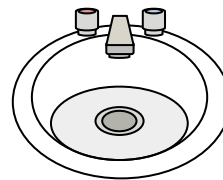
8)



Ketchup in a packet

- A. 0.5 gallonen
- B. weniger als 1 Tasse
- C. 1.5 pints
- D. 2 quarts

9)



Water in bathroom sink

- A. 2 Tassen
- B. 2 gallonen
- C. 2 pints
- D. 2 fluid ounces



**Stelle fest, welcher Buchstabe das Volumen am besten darstellt.**

**Antworten**

**Xícara**

Una taza se refiere a la cantidad de leche que se obtiene de la cafetería.



**Pinta**

Uma pinta é aproximadamente a quantidade que você recebe em um copo grande.  
1 pinta = 2 xícaras



**Quarto**

Um quarto é mais ou menos a quantidade que você consegue em um recipiente grande de leite.  
1 cuarto = 2 pintas



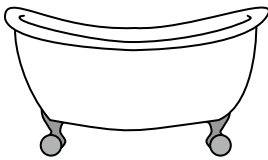
**Galón**

Un galón es la cantidad que viene en un recipiente de plástico grande.  
1 galón = 4 cuartos



1. \_\_\_\_\_
2. \_\_\_\_\_
3. \_\_\_\_\_
4. \_\_\_\_\_
5. \_\_\_\_\_
6. \_\_\_\_\_
7. \_\_\_\_\_
8. \_\_\_\_\_
9. \_\_\_\_\_


1)



Bathtub

- A. 40 Tassen
- B. 8 quarts
- C. 20 pints
- D. 45 gallonen


2)



Eyedropper holds

- A. 1 pint
- B. 3 gallonen
- C. weniger als 1 Tasse
- D. 1 Tasse

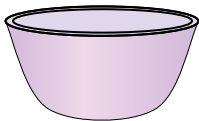
3)



Liquid in a pitcher

- A. 2 Tassen
- B. 1 pint
- C. 2 quarts
- D. 8 gallonen

4)



Cereal Bowl

- A. 0.5 gallonen
- B. 4 pints
- C. 2 gallonen
- D. 1 pint


5)



Liquid a spoon holds

- A. Less than a cup
- B. 1 Tasse
- C. 1 pint
- D. 1 quart

6)



Paint in a can

- A. 3 fluid ounces
- B. 1 gallone
- C. 1 Tasse
- D. 0.5 pints

7)



2 liter of Soda

- A. 0.5 gallonen
- B. 5 gallonen
- C. 1 pint
- D. 2 Tassen


8)



Soda in a can

- A. 4 Tassen
- B. 1.5 Tassen
- C. 4 pints
- D. 1 gallone

9)



Ice Chest

- A. 100 quarts
- B. 16 Tassen
- C. 5 gallonen
- D. 2 quarts



Stelle fest, welcher Buchstabe das Volumen am besten darstellt.

Antworten

**Xícara**

Una taza se refiere a la cantidad de leche que se obtiene de la cafetería.



**Pinta**

Uma pinta é aproximadamente a quantidade que você recebe em um copo grande.  
1 pinta = 2 xícaras



**Quarto**

Um quarto é mais ou menos a quantidade que você consegue em um recipiente grande de leite.  
1 cuarto = 2 pintas

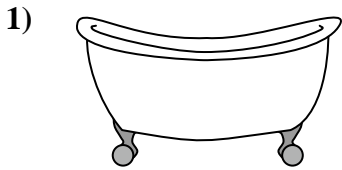


**Galón**

Un galón es la cantidad que viene en un recipiente de plástico grande.  
1 galón = 4 cuartos




1.     **D**
2.     **C**
3.     **C**
4.     **D**
5.     **A**
6.     **B**
7.     **A**
8.     **B**
9.     **A**



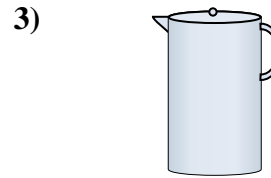
Bathtub

- A. 40 Tassen
- B. 8 quarts
- C. 20 pints
- D. 45 gallonen




Eyedropper holds

- A. 1 pint
- B. 3 gallonen
- C. weniger als 1 Tasse
- D. 1 Tasse



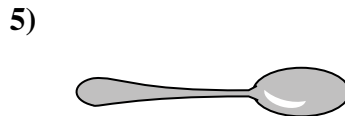
Liquid in a pitcher

- A. 2 Tassen
- B. 1 pint
- C. 2 quarts
- D. 8 gallonen



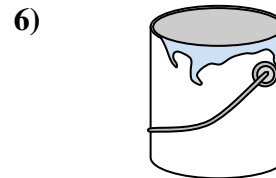
Cereal Bowl

- A. 0.5 gallonen
- B. 4 pints
- C. 2 gallonen
- D. 1 pint



Liquid a spoon holds

- A. Less than a cup
- B. 1 Tasse
- C. 1 pint
- D. 1 quart



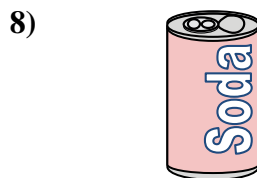
Paint in a can

- A. 3 fluid ounces
- B. 1 gallone
- C. 1 Tasse
- D. 0.5 pints



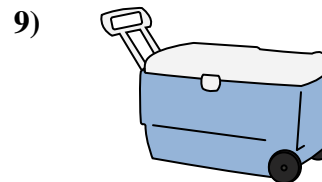
2 liter of Soda

- A. 0.5 gallonen
- B. 5 gallonen
- C. 1 pint
- D. 2 Tassen



Soda in a can

- A. 4 Tassen
- B. 1.5 Tassen
- C. 4 pints
- D. 1 gallone



Ice Chest

- A. 100 quarts
- B. 16 Tassen
- C. 5 gallonen
- D. 2 quarts