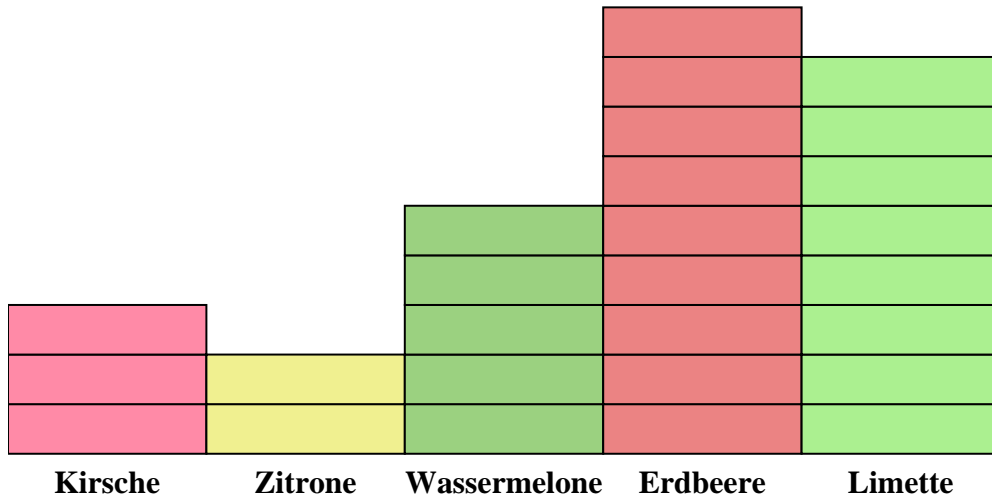




Löse jede Aufgabe.



Jedes = 2 Stücke

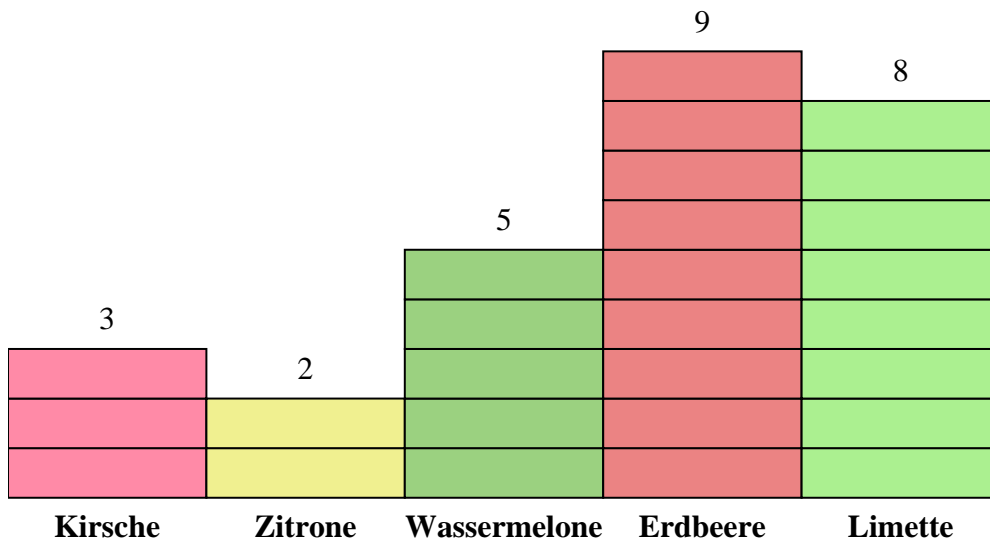
**Antworten**

1. \_\_\_\_\_
2. \_\_\_\_\_
3. \_\_\_\_\_
4. \_\_\_\_\_
5. \_\_\_\_\_
6. \_\_\_\_\_
7. \_\_\_\_\_
8. \_\_\_\_\_
9. \_\_\_\_\_
10. \_\_\_\_\_

- 1) Wie viele Limette-Stücke mehr als Zitrone-Stücke gab es?
- 2) Welche Sorte hatte die meisten Stücke in der Tüte?
- 3) Welche Sorte hatte die wenigsten Stücke in der Tüte?
- 4) Wie viele Teile waren insgesamt in der Box?
- 5) Gab es weniger Erdbeere-Stücke oder Limette-Stücke?
- 6) Gab es mehr Limette-Stücke oder Kirsche-Stücke?
- 7) Welche Sorte hatte genau 16 Stücke im Beutel?
- 8) Wie viele Stücke waren Erdbeere?
- 9) Wie hoch ist die kombinierte Anzahl von Wassermelone- und Limette-Stücken?
- 10) Was ist der Unterschied in der Anzahl der Wassermelone-Stücke und der Anzahl der Kirsche-Stücke?



Löse jede Aufgabe.

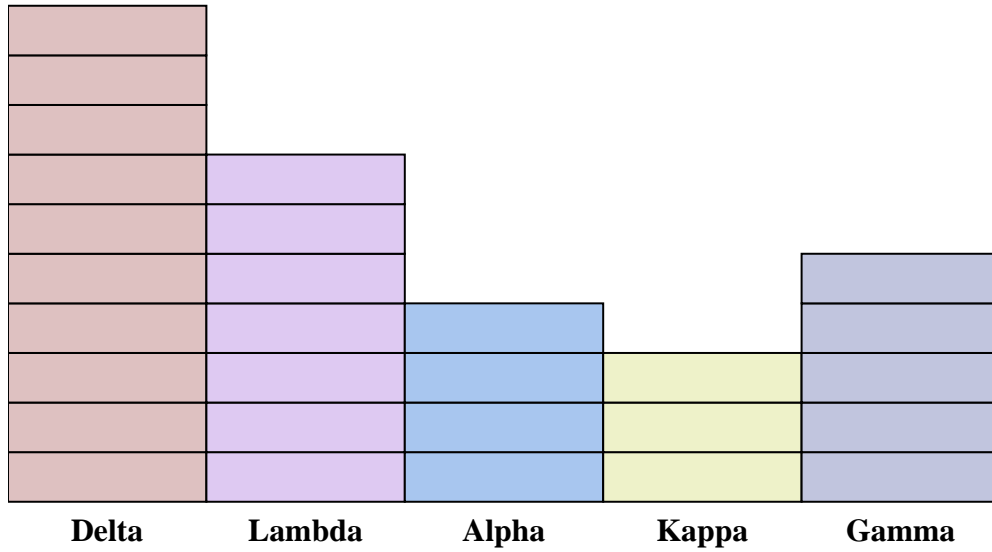
**Antworten**

1. 12
2. Erdbeere
3. Zitrone
4. 54
5. Limette
6. Limette
7. Limette
8. 18
9. 26
10. 4

- 1) Wie viele Limette-Stücke mehr als Zitrone-Stücke gab es?
- 2) Welche Sorte hatte die meisten Stücke in der Tüte?
- 3) Welche Sorte hatte die wenigsten Stücke in der Tüte?
- 4) Wie viele Teile waren insgesamt in der Box?
- 5) Gab es weniger Erdbeere-Stücke oder Limette-Stücke?
- 6) Gab es mehr Limette-Stücke oder Kirsche-Stücke?
- 7) Welche Sorte hatte genau 16 Stücke im Beutel?
- 8) Wie viele Stücke waren Erdbeere?
- 9) Wie hoch ist die kombinierte Anzahl von Wassermelone- und Limette-Stücken?
- 10) Was ist der Unterschied in der Anzahl der Wassermelone-Stücke und der Anzahl der Kirsche-Stücke?



Löse jede Aufgabe.



Jedes  = 2 Punkte

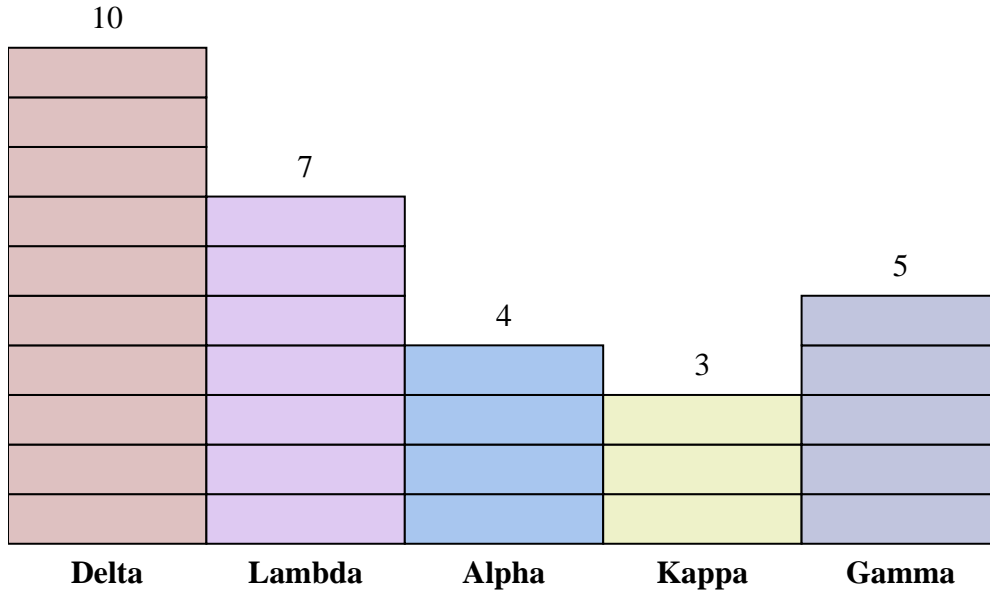
**Antworten**

1. \_\_\_\_\_
2. \_\_\_\_\_
3. \_\_\_\_\_
4. \_\_\_\_\_
5. \_\_\_\_\_
6. \_\_\_\_\_
7. \_\_\_\_\_
8. \_\_\_\_\_
9. \_\_\_\_\_
10. \_\_\_\_\_

- 1) Wie viele Punkte hat Team Alpha mehr erzielt als Team Kappa?
- 2) Welches Team hat die meisten Punkte geholt?
- 3) Welches Team hat die wenigsten Punkte geholt?
- 4) Wie viele Punkte wurden im Spiel insgesamt gesammelt?
- 5) Hat Team Gamma oder Team Lambda weniger Punkte erzielt?
- 6) Hat Team Kappa oder Team Gamma mehr Punkte erzielt?
- 7) Welches Team hat 8 Punkte erzielt?
- 8) Wie viele Punkte hat Team Lambda erzielt?
- 9) Wie hoch sind die kombinierten Punkte von Lambda und Kappa?
- 10) Was ist der Unterschied zwischen der Anzahl der erzielten Punkte Delta und der Anzahl der erzielten Lambda?



Löse jede Aufgabe.

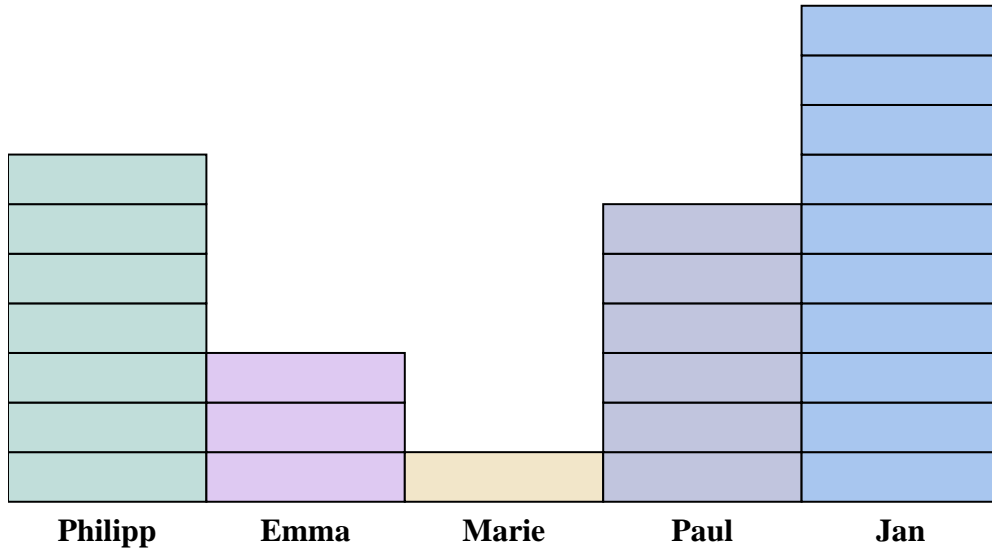
Jedes  = 2 Punkte**Antworten**

1. 2
2. Delta
3. Kappa
4. 58
5. Gamma
6. Gamma
7. Alpha
8. 14
9. 20
10. 6

- 1) Wie viele Punkte hat Team Alpha mehr erzielt als Team Kappa?
- 2) Welches Team hat die meisten Punkte geholt?
- 3) Welches Team hat die wenigsten Punkte geholt?
- 4) Wie viele Punkte wurden im Spiel insgesamt gesammelt?
- 5) Hat Team Gamma oder Team Lambda weniger Punkte erzielt?
- 6) Hat Team Kappa oder Team Gamma mehr Punkte erzielt?
- 7) Welches Team hat 8 Punkte erzielt?
- 8) Wie viele Punkte hat Team Lambda erzielt?
- 9) Wie hoch sind die kombinierten Punkte von Lambda und Kappa?
- 10) Was ist der Unterschied zwischen der Anzahl der erzielten Punkte Delta und der Anzahl der erzielten Lambda?



Löse jede Aufgabe.



Jedes  = 2 Büchsen

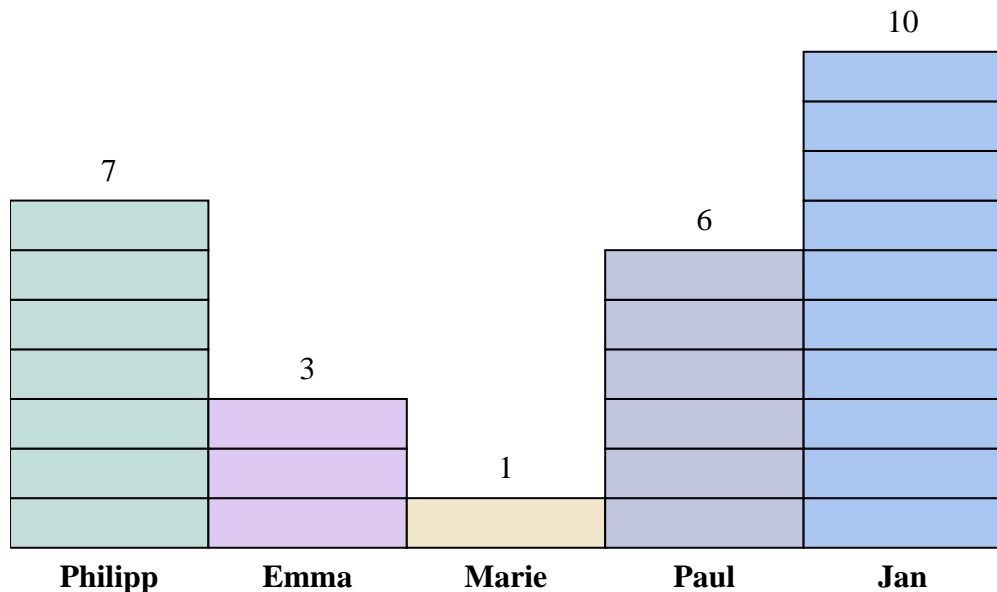
**Antworten**

1. \_\_\_\_\_
2. \_\_\_\_\_
3. \_\_\_\_\_
4. \_\_\_\_\_
5. \_\_\_\_\_
6. \_\_\_\_\_
7. \_\_\_\_\_
8. \_\_\_\_\_
9. \_\_\_\_\_
10. \_\_\_\_\_

- 1) Wie viele Dosen mehr hat Paul gesammelt als Emma?
- 2) Wer hat die meisten Dosen gesammelt?
- 3) Wer hat die wenigsten Dosen gesammelt?
- 4) Wie viele Dosen haben alle Schüler insgesamt gesammelt?
- 5) Wer hat weniger Dosen gesammelt? Paul oder Marie?
- 6) Hat Marie oder Emma mehr Dosen gesammelt?
- 7) Wer hat genau 14 Dosen gesammelt?
- 8) Wie viele Dosen hat Marie gesammelt?
- 9) Wie viele Dosen haben Jan gesammelt und Marie gesammelt?
- 10) Was ist der Unterschied zwischen der Anzahl der gesammelten Dosen Philipp und der Anzahl der gesammelten Marie?



Löse jede Aufgabe.

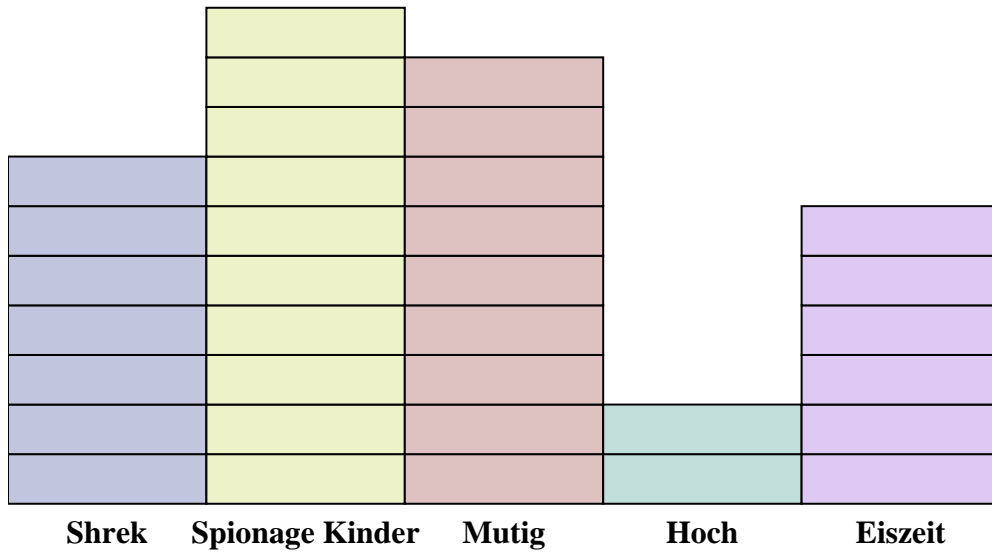
Jedes  = 2 Büchsen**Antworten**

1. 6
2. Jan
3. Marie
4. 54
5. Marie
6. Emma
7. Philipp
8. 2
9. 22
10. 12

- 1) Wie viele Dosen mehr hat Paul gesammelt als Emma?
- 2) Wer hat die meisten Dosen gesammelt?
- 3) Wer hat die wenigsten Dosen gesammelt?
- 4) Wie viele Dosen haben alle Schüler insgesamt gesammelt?
- 5) Wer hat weniger Dosen gesammelt? Paul oder Marie?
- 6) Hat Marie oder Emma mehr Dosen gesammelt?
- 7) Wer hat genau 14 Dosen gesammelt?
- 8) Wie viele Dosen hat Marie gesammelt?
- 9) Wie viele Dosen haben Jan gesammelt und Marie gesammelt?
- 10) Was ist der Unterschied zwischen der Anzahl der gesammelten Dosen Philipp und der Anzahl der gesammelten Marie?



Löse jede Aufgabe.



Jedes = 2 Stimmen

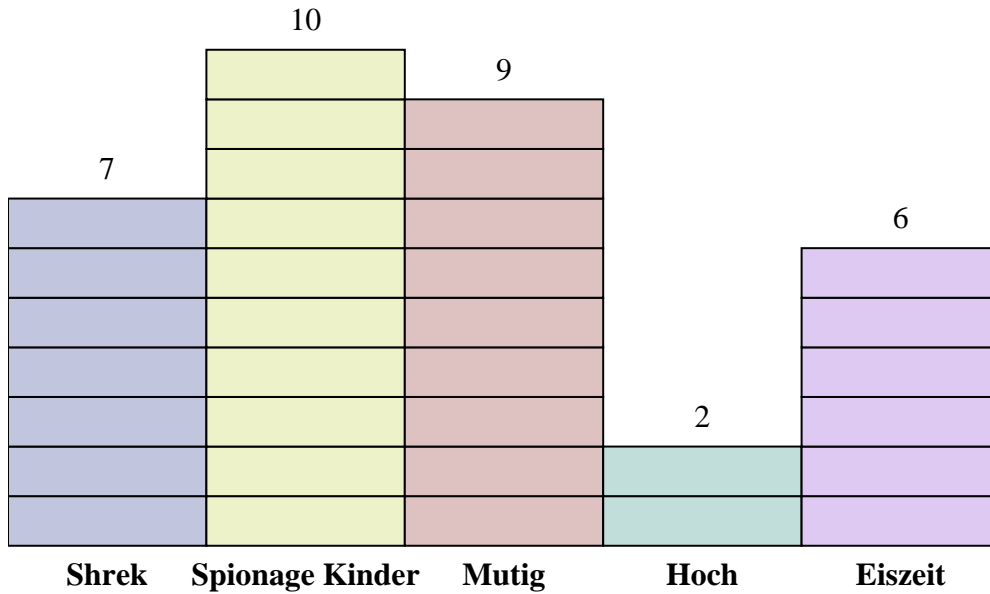
**Antworten**

1. \_\_\_\_\_
2. \_\_\_\_\_
3. \_\_\_\_\_
4. \_\_\_\_\_
5. \_\_\_\_\_
6. \_\_\_\_\_
7. \_\_\_\_\_
8. \_\_\_\_\_
9. \_\_\_\_\_
10. \_\_\_\_\_

- 1) Wie viele Stimmen mehr hat Shrek erhalten als Hoch?
- 2) Welcher Film hat die meisten Stimmen bekommen?
- 3) Welcher Film hat die wenigsten Stimmen bekommen?
- 4) Wie viele Studierende haben insgesamt gewählt?
- 5) Haben weniger Schüler für Spionage Kinder oder Hoch gestimmt?
- 6) Haben mehr Leute für Shrek oder Eiszeit gestimmt?
- 7) Welcher Film hat genau 14 Stimmen erhalten?
- 8) Wie viele Leute haben für Eiszeit gestimmt?
- 9) Wie viele Personen haben zusammen für Mutig und Shrek gestimmt?
- 10) Was ist der Unterschied zwischen der Anzahl der Personen, die für Shrek gestimmt haben, und der Anzahl der Personen, die für Spionage Kinder gestimmt haben?



Löse jede Aufgabe.



Jedes = 2 Stimmen

**Antworten**

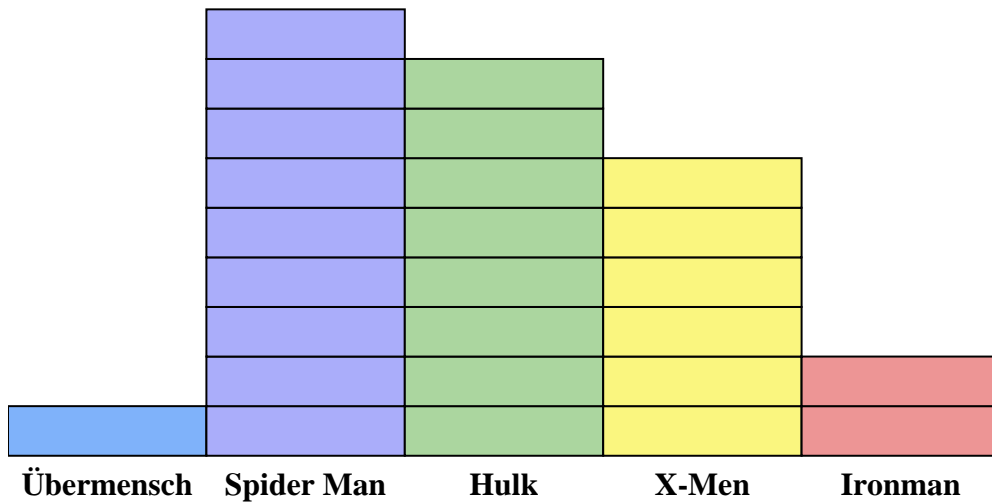
1. 10
2. Spionage Kinder
3. Hoch
4. 68
5. Hoch
6. Shrek
7. Shrek
8. 12
9. 32
10. 6

- 1) Wie viele Stimmen mehr hat Shrek erhalten als Hoch?
- 2) Welcher Film hat die meisten Stimmen bekommen?
- 3) Welcher Film hat die wenigsten Stimmen bekommen?
- 4) Wie viele Studierende haben insgesamt gewählt?
- 5) Haben weniger Schüler für Spionage Kinder oder Hoch gestimmt?
- 6) Haben mehr Leute für Shrek oder Eiszeit gestimmt?
- 7) Welcher Film hat genau 14 Stimmen erhalten?
- 8) Wie viele Leute haben für Eiszeit gestimmt?
- 9) Wie viele Personen haben zusammen für Mutig und Shrek gestimmt?
- 10) Was ist der Unterschied zwischen der Anzahl der Personen, die für Shrek gestimmt haben, und der Anzahl der Personen, die für Spionage Kinder gestimmt haben?





Löse jede Aufgabe.



Jedes  = 2 Ausgaben verkauft

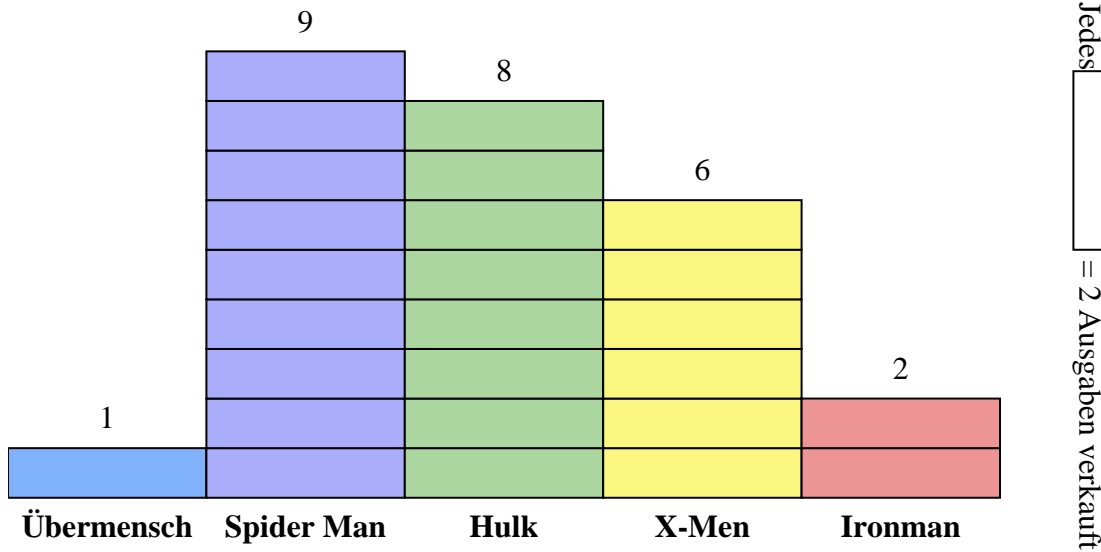
**Antworten**

1. \_\_\_\_\_
2. \_\_\_\_\_
3. \_\_\_\_\_
4. \_\_\_\_\_
5. \_\_\_\_\_
6. \_\_\_\_\_
7. \_\_\_\_\_
8. \_\_\_\_\_
9. \_\_\_\_\_
10. \_\_\_\_\_

- 1) Wie viele Ausgaben von Spider Man wurden mehr verkauft als Ausgaben von X-Men?
- 2) Welche Comicserie verkaufte sich am meisten?
- 3) Welche Comicserie verkaufte sich am wenigsten?
- 4) Wie viele Ausgaben wurden von allen Comics insgesamt verkauft?
- 5) Welche Ausgaben wurden weniger verkauft, Ausgaben von Ironman oder Ausgaben von Hulk?
- 6) Welche Comicserie verkaufte sich mehr, Übermensch oder Ironman?
- 7) Welche Comicserie hat genau 2 Ausgaben verkauft?
- 8) Wie viele Ausgaben von X-Men wurden verkauft?
- 9) Wie viele Ausgaben wurden zusammen mit X-Men und Hulk verkauft?
- 10) Was ist der Unterschied zwischen der Anzahl der verkauften X-Men-Ausgaben und der Anzahl der verkauften Ironman-Ausgaben?



Löse jede Aufgabe.



Jedes = 2 Ausgaben verkauft

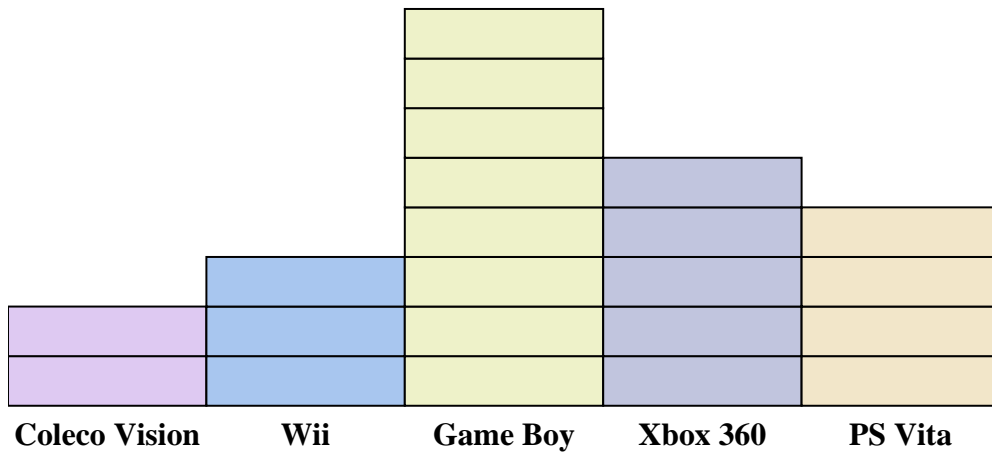
**Antworten**

1. 6
2. Spider Man
3. Übermensch
4. 52
5. Ironman
6. Ironman
7. Übermensch
8. 12
9. 28
10. 8

- 1) Wie viele Ausgaben von Spider Man wurden mehr verkauft als Ausgaben von X-Men?
- 2) Welche Comicserie verkaufte sich am meisten?
- 3) Welche Comicserie verkaufte sich am wenigsten?
- 4) Wie viele Ausgaben wurden von allen Comics insgesamt verkauft?
- 5) Welche Ausgaben wurden weniger verkauft, Ausgaben von Ironman oder Ausgaben von Hulk?
- 6) Welche Comicserie verkaufte sich mehr, Übermensch oder Ironman?
- 7) Welche Comicserie hat genau 2 Ausgaben verkauft?
- 8) Wie viele Ausgaben von X-Men wurden verkauft?
- 9) Wie viele Ausgaben wurden zusammen mit X-Men und Hulk verkauft?
- 10) Was ist der Unterschied zwischen der Anzahl der verkauften X-Men-Ausgaben und der Anzahl der verkauften Ironman-Ausgaben?



Löse jede Aufgabe.



Jedes  = 2 Menschen im Besitz

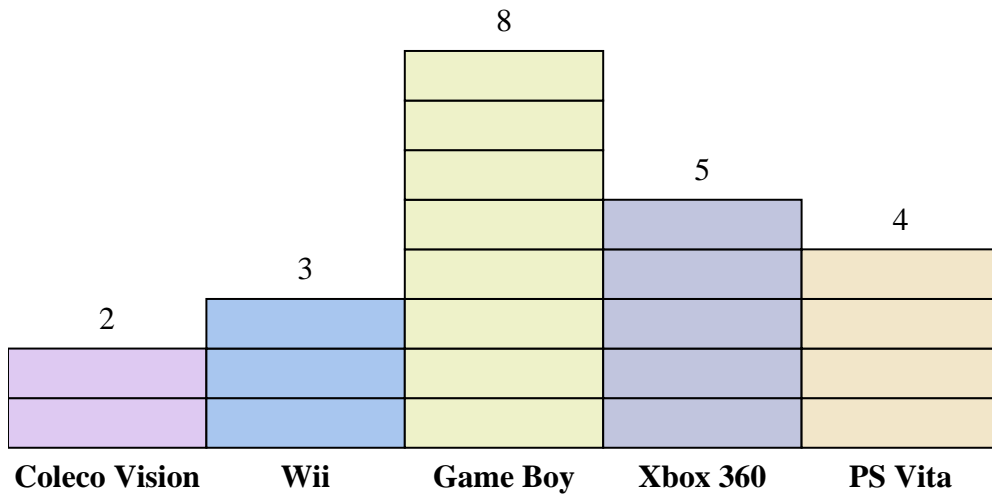
**Antworten**

1. \_\_\_\_\_
2. \_\_\_\_\_
3. \_\_\_\_\_
4. \_\_\_\_\_
5. \_\_\_\_\_
6. \_\_\_\_\_
7. \_\_\_\_\_
8. \_\_\_\_\_
9. \_\_\_\_\_
10. \_\_\_\_\_

- 1) Wie viele mehr Personen besaßen einen Xbox 360 als einen PS Vita?
- 2) Welche Konsole besaß die meisten Leute?
- 3) Welche Konsole besaßen die wenigsten Leute?
- 4) Wie viele Konsolen besaßen die Leute insgesamt?
- 5) Besitzen weniger Leute eine Coleco Visionen oder eine Gameboys?
- 6) Besitzen mehr Personen eine Wiis oder eine Gameboys?
- 7) Welche Konsole besaßen genau 8 Personen?
- 8) Wie viele Personen besaßen einen Coleco Vision?
- 9) Wie viele besitzen zusammen PS Vitas und Coleco Visionen?
- 10) Was ist der Unterschied zwischen der Anzahl der Besitzer eines Xbox 360 und der Anzahl der Besitzer eines Game Boy?



Löse jede Aufgabe.

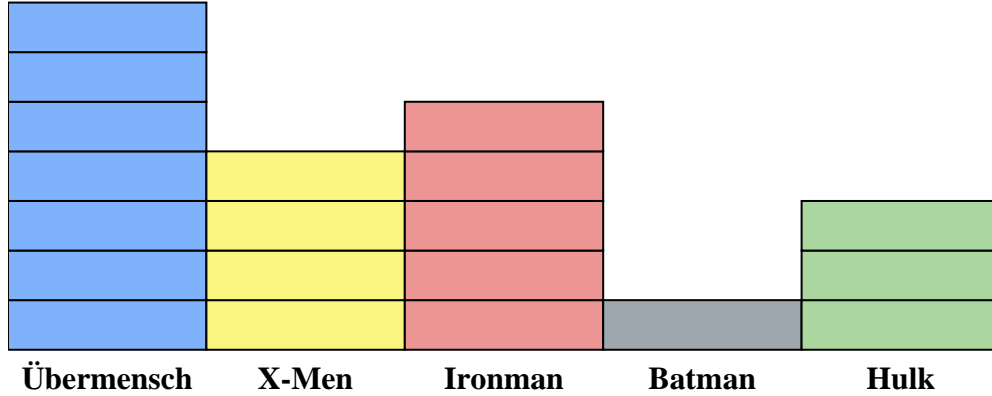
Jedes  = 2 Menschen im Besitz**Antworten**

1. 2
2. Game Boy
3. Coleco Vision
4. 44
5. Coleco Vision
6. Game Boy
7. PS Vita
8. 4
9. 12
10. 6

- 1) Wie viele mehr Personen besaßen einen Xbox 360 als einen PS Vita?
- 2) Welche Konsole besaß die meisten Leute?
- 3) Welche Konsole besaßen die wenigsten Leute?
- 4) Wie viele Konsolen besaßen die Leute insgesamt?
- 5) Besitzen weniger Leute eine Coleco Visionen oder eine Gameboys?
- 6) Besitzen mehr Personen eine Wiis oder eine Gameboys?
- 7) Welche Konsole besaßen genau 8 Personen?
- 8) Wie viele Personen besaßen einen Coleco Vision?
- 9) Wie viele besitzen zusammen PS Vitas und Coleco Visionen?
- 10) Was ist der Unterschied zwischen der Anzahl der Besitzer eines Xbox 360 und der Anzahl der Besitzer eines Game Boy?



Löse jede Aufgabe.



Jedes  = 2 Ausgaben verkauft

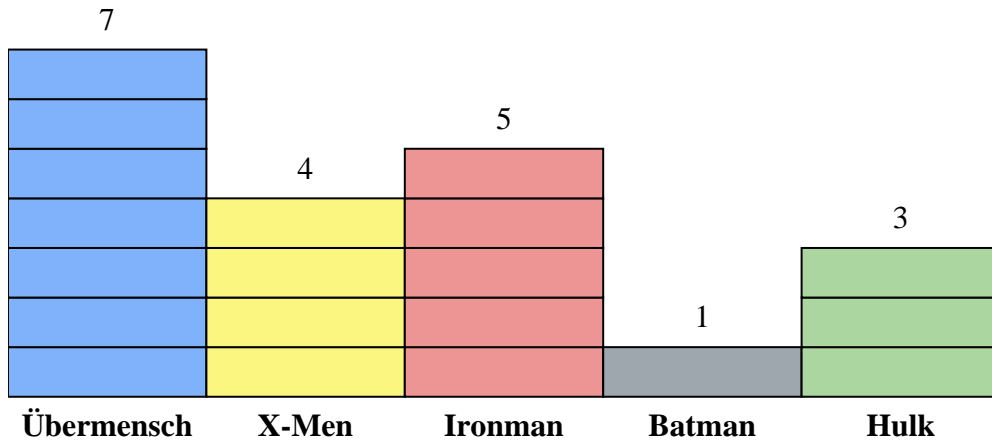
**Antworten**

1. \_\_\_\_\_
2. \_\_\_\_\_
3. \_\_\_\_\_
4. \_\_\_\_\_
5. \_\_\_\_\_
6. \_\_\_\_\_
7. \_\_\_\_\_
8. \_\_\_\_\_
9. \_\_\_\_\_
10. \_\_\_\_\_

- 1) Wie viele Ausgaben von Ironman wurden mehr verkauft als Ausgaben von Hulk?
- 2) Welche Comicserie verkaufte sich am meisten?
- 3) Welche Comicserie verkaufte sich am wenigsten?
- 4) Wie viele Ausgaben wurden von allen Comics insgesamt verkauft?
- 5) Welche Ausgaben wurden weniger verkauft, Ausgaben von Batman oder Ausgaben von Ironman?
- 6) Welche Comicserie verkaufte sich mehr, Batman oder X-Men?
- 7) Welche Comicserie hat genau 8 Ausgaben verkauft?
- 8) Wie viele Ausgaben von Batman wurden verkauft?
- 9) Wie viele Ausgaben wurden zusammen mit Ironman und Übermensch verkauft?
- 10) Was ist der Unterschied zwischen der Anzahl der verkauften X-Men-Ausgaben und der Anzahl der verkauften Hulk-Ausgaben?



Löse jede Aufgabe.

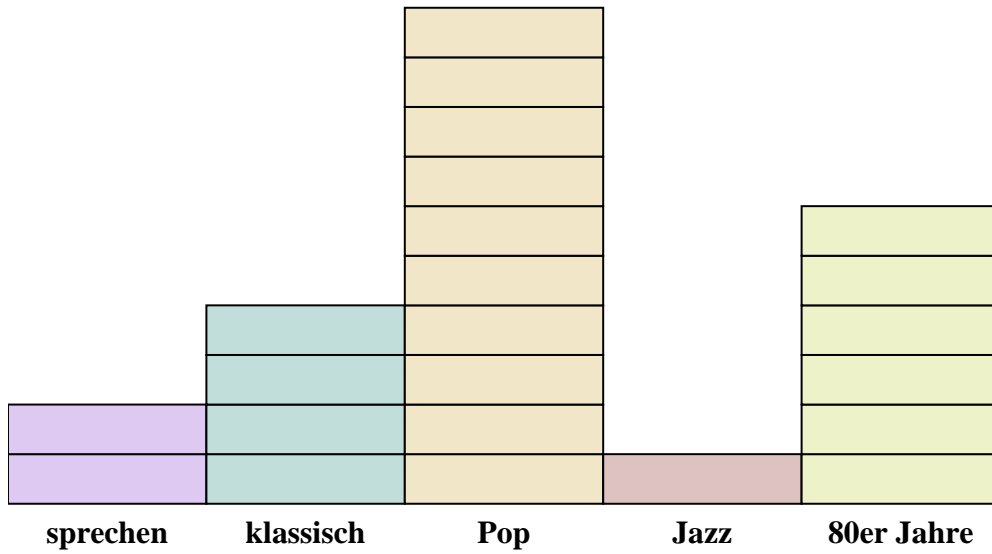
**Antworten**

1. 4
2. Übermensch
3. Batman
4. 40
5. Batman
6. X-Men
7. X-Men
8. 2
9. 24
10. 2

- 1) Wie viele Ausgaben von Ironman wurden mehr verkauft als Ausgaben von Hulk?
- 2) Welche Comicserie verkaufte sich am meisten?
- 3) Welche Comicserie verkaufte sich am wenigsten?
- 4) Wie viele Ausgaben wurden von allen Comics insgesamt verkauft?
- 5) Welche Ausgaben wurden weniger verkauft, Ausgaben von Batman oder Ausgaben von Ironman?
- 6) Welche Comicserie verkaufte sich mehr, Batman oder X-Men?
- 7) Welche Comicserie hat genau 8 Ausgaben verkauft?
- 8) Wie viele Ausgaben von Batman wurden verkauft?
- 9) Wie viele Ausgaben wurden zusammen mit Ironman und Übermensch verkauft?
- 10) Was ist der Unterschied zwischen der Anzahl der verkauften X-Men-Ausgaben und der Anzahl der verkauften Hulk-Ausgaben?



Löse jede Aufgabe.



Jedes  = 2 Anzeigen gespielt

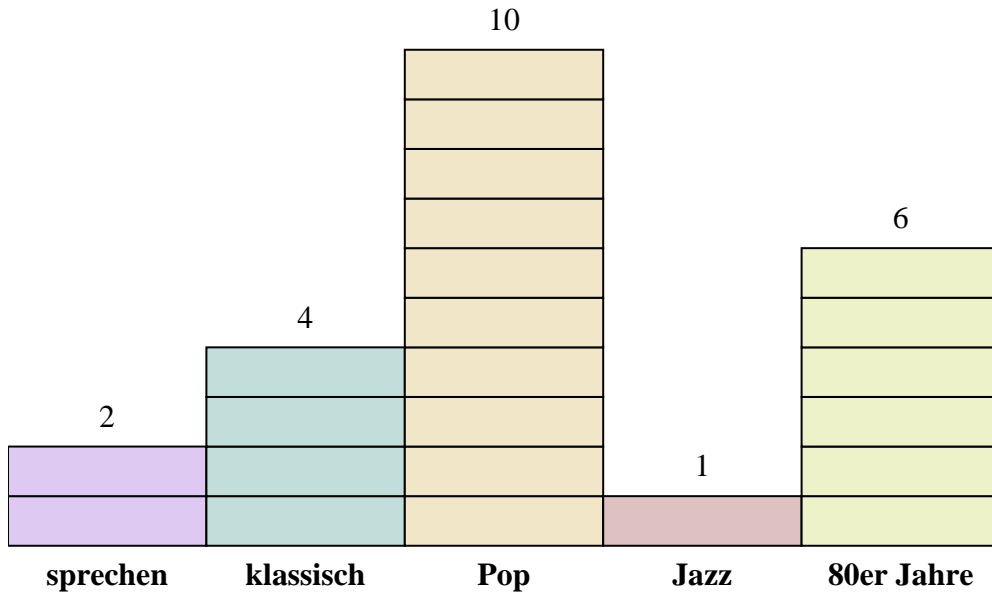
**Antworten**

1. \_\_\_\_\_
2. \_\_\_\_\_
3. \_\_\_\_\_
4. \_\_\_\_\_
5. \_\_\_\_\_
6. \_\_\_\_\_
7. \_\_\_\_\_
8. \_\_\_\_\_
9. \_\_\_\_\_
10. \_\_\_\_\_

- 1) Wie viele Anzeigen hatte der Sender sprechen mehr als der Sender Jazz?
- 2) Welcher Sender hatte die meisten Anzeigen?
- 3) Welcher Sender hatte die wenigsten Anzeigen?
- 4) Wie hoch ist die Gesamtzahl der Anzeigen auf allen Stationen?
- 5) Gab es weniger Anzeigen auf dem Sender klassisch oder dem Sender sprechen?
- 6) Gab es mehr Anzeigen auf dem Sender Pop oder dem Sender sprechen?
- 7) Welcher Sender hatte genau 20-Anzeigen?
- 8) Wie viele Anzeigen waren auf dem Sender sprechen zu sehen?
- 9) Wie viele Anzeigen werden zusammen auf den Sendern Jazz und klassisch abgespielt?
- 10) Was ist der Unterschied zwischen der Anzahl der auf dem Sender Pop wiedergegebenen Anzeigen und der Anzahl der auf dem Sender 80er Jahre wiedergegebenen Anzeigen?



Löse jede Aufgabe.

Jedes  = 2 Anzeigen gespielt**Antworten**


1. 2
2. Pop
3. Jazz
4. 46
5. sprechen
6. Pop
7. Pop
8. 4
9. 10
10. 8

- 1) Wie viele Anzeigen hatte der Sender sprechen mehr als der Sender Jazz?
- 2) Welcher Sender hatte die meisten Anzeigen?
- 3) Welcher Sender hatte die wenigsten Anzeigen?
- 4) Wie hoch ist die Gesamtzahl der Anzeigen auf allen Stationen?
- 5) Gab es weniger Anzeigen auf dem Sender klassisch oder dem Sender sprechen?
- 6) Gab es mehr Anzeigen auf dem Sender Pop oder dem Sender sprechen?
- 7) Welcher Sender hatte genau 20-Anzeigen?
- 8) Wie viele Anzeigen waren auf dem Sender sprechen zu sehen?
- 9) Wie viele Anzeigen werden zusammen auf den Sendern Jazz und klassisch abgespielt?
- 10) Was ist der Unterschied zwischen der Anzahl der auf dem Sender Pop wiedergegebenen Anzeigen und der Anzahl der auf dem Sender 80er Jahre wiedergegebenen Anzeigen?





Löse jede Aufgabe.



Jedes = 2 Stimmen

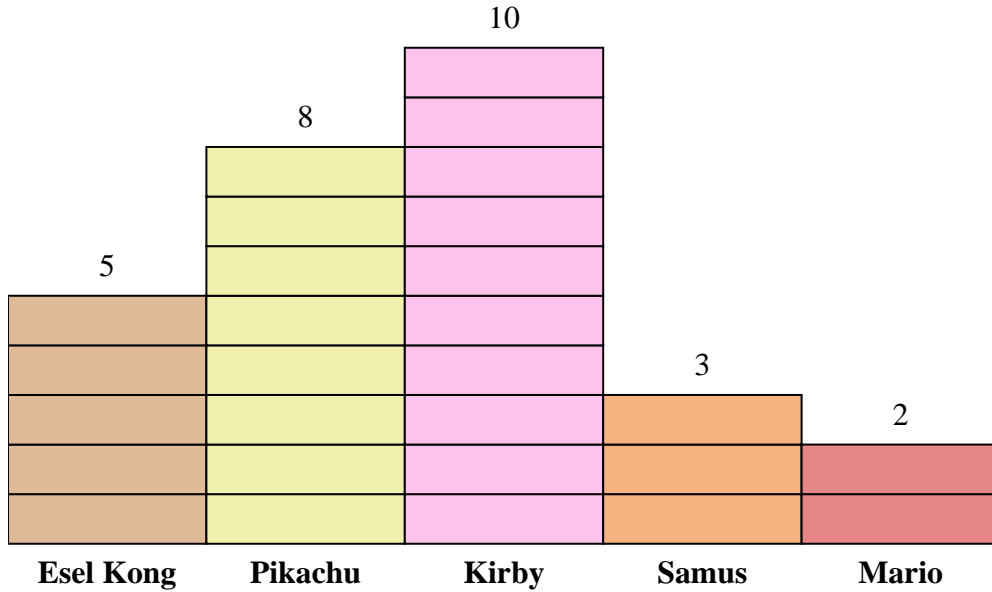
**Antworten**

1. \_\_\_\_\_
2. \_\_\_\_\_
3. \_\_\_\_\_
4. \_\_\_\_\_
5. \_\_\_\_\_
6. \_\_\_\_\_
7. \_\_\_\_\_
8. \_\_\_\_\_
9. \_\_\_\_\_
10. \_\_\_\_\_

- 1) Wie vielen mehr Personen hat Esel Kong gefallen als Mario?
- 2) Welche Figur hat die größte Anzahl von Leuten als ihr Favorit bezeichnet?
- 3) Welche Figur haben die wenigsten Leute als ihren Favoriten bezeichnet?
- 4) Wie viele Personen haben insgesamt an der Umfrage teilgenommen?
- 5) Haben weniger Leute Pikachu oder Kirby gemocht?
- 6) Haben mehr Leute Samus oder Mario mögen?
- 7) Welcher Charakter wurde von 4-Leuten als ihr Lieblingscharakter bezeichnet?
- 8) Wie vielen Leuten hat Pikachu am besten gefallen?
- 9) Wie viele Personen haben Kirby und Mario zusammen genommen?
- 10) Was ist der Unterschied zwischen der Anzahl der Personen, die Kirby mochten, und der Anzahl derjenigen, die Samus mochten?



Löse jede Aufgabe.

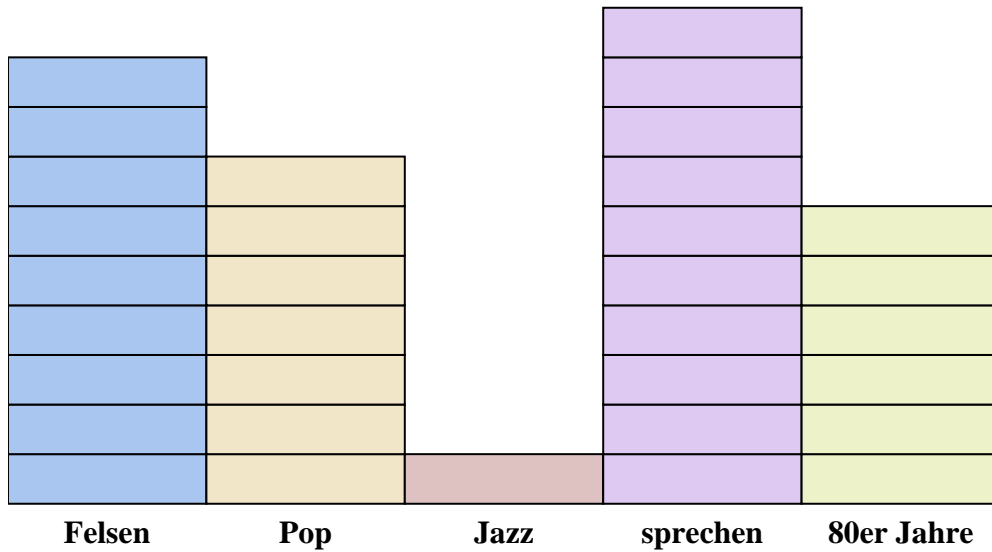
Jedes  = 2 Stimmen**Antworten**

1. 6
2. Kirby
3. Mario
4. 56
5. Pikachu
6. Samus
7. Mario
8. 16
9. 24
10. 14

- 1) Wie vielen mehr Personen hat Esel Kong gefallen als Mario?
- 2) Welche Figur hat die größte Anzahl von Leuten als ihr Favorit bezeichnet?
- 3) Welche Figur haben die wenigsten Leute als ihren Favoriten bezeichnet?
- 4) Wie viele Personen haben insgesamt an der Umfrage teilgenommen?
- 5) Haben weniger Leute Pikachu oder Kirby gemocht?
- 6) Haben mehr Leute Samus oder Mario mögen?
- 7) Welcher Charakter wurde von 4-Leuten als ihr Lieblingscharakter bezeichnet?
- 8) Wie vielen Leuten hat Pikachu am besten gefallen?
- 9) Wie viele Personen haben Kirby und Mario zusammen genommen?
- 10) Was ist der Unterschied zwischen der Anzahl der Personen, die Kirby mochten, und der Anzahl derjenigen, die Samus mochten?



Löse jede Aufgabe.

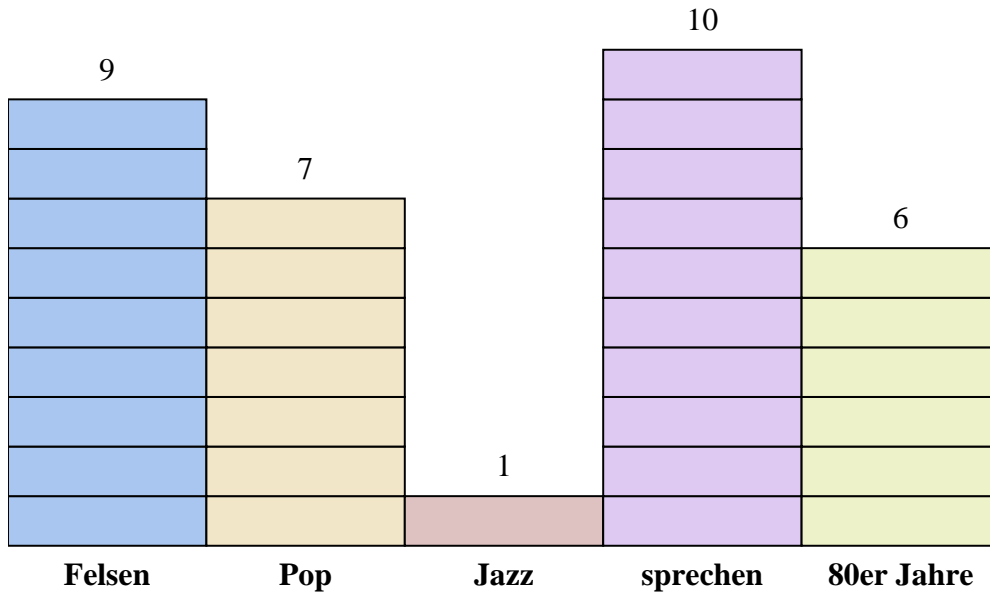
Jedes  = 2 Anzeigen gespielt**Antworten**

1. \_\_\_\_\_
2. \_\_\_\_\_
3. \_\_\_\_\_
4. \_\_\_\_\_
5. \_\_\_\_\_
6. \_\_\_\_\_
7. \_\_\_\_\_
8. \_\_\_\_\_
9. \_\_\_\_\_
10. \_\_\_\_\_

- 1) Wie viele Anzeigen hatte der Sender Felsen mehr als der Sender Pop?
- 2) Welcher Sender hatte die meisten Anzeigen?
- 3) Welcher Sender hatte die wenigsten Anzeigen?
- 4) Wie hoch ist die Gesamtzahl der Anzeigen auf allen Stationen?
- 5) Gab es weniger Anzeigen auf dem Sender sprechen oder dem Sender Jazz?
- 6) Gab es mehr Anzeigen auf dem Sender Jazz oder dem Sender Felsen?
- 7) Welcher Sender hatte genau 14-Anzeigen?
- 8) Wie viele Anzeigen waren auf dem Sender 80er Jahre zu sehen?
- 9) Wie viele Anzeigen werden zusammen auf den Sendern sprechen und Felsen abgespielt?
- 10) Was ist der Unterschied zwischen der Anzahl der auf dem Sender 80er Jahre wiedergegebenen Anzeigen und der Anzahl der auf dem Sender Pop wiedergegebenen Anzeigen?



Löse jede Aufgabe.

**Antworten**

1. 4
2. sprechen
3. Jazz
4. 66
5. Jazz
6. Felsen
7. Pop
8. 12
9. 38
10. 2

- 1) Wie viele Anzeigen hatte der Sender Felsen mehr als der Sender Pop?
- 2) Welcher Sender hatte die meisten Anzeigen?
- 3) Welcher Sender hatte die wenigsten Anzeigen?
- 4) Wie hoch ist die Gesamtzahl der Anzeigen auf allen Stationen?
- 5) Gab es weniger Anzeigen auf dem Sender sprechen oder dem Sender Jazz?
- 6) Gab es mehr Anzeigen auf dem Sender Jazz oder dem Sender Felsen?
- 7) Welcher Sender hatte genau 14-Anzeigen?
- 8) Wie viele Anzeigen waren auf dem Sender 80er Jahre zu sehen?
- 9) Wie viele Anzeigen werden zusammen auf den Sendern sprechen und Felsen abgespielt?
- 10) Was ist der Unterschied zwischen der Anzahl der auf dem Sender 80er Jahre wiedergegebenen Anzeigen und der Anzahl der auf dem Sender Pop wiedergegebenen Anzeigen?