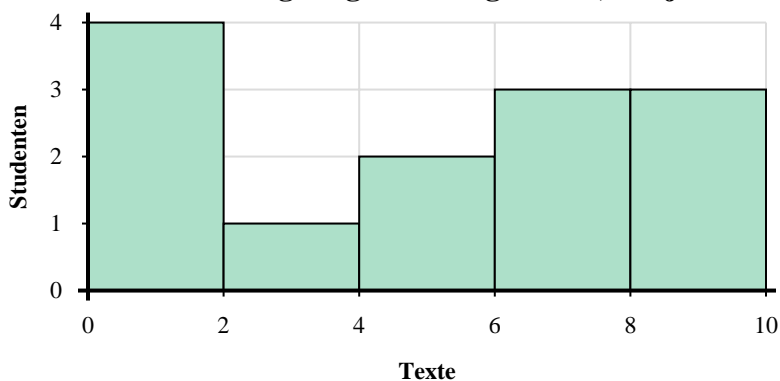




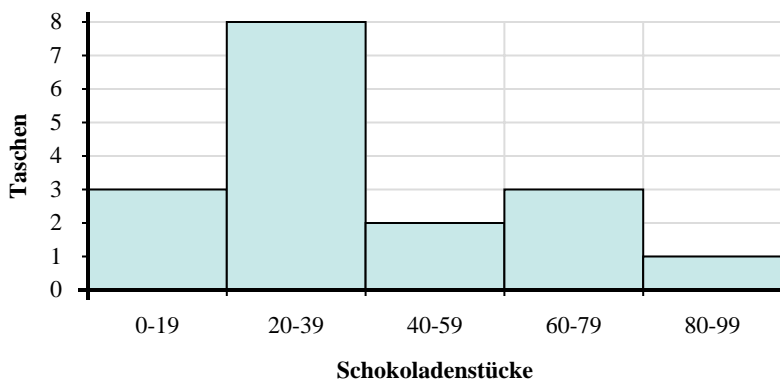
Verwenden Sie die angezeigten Histogramme, um jede Frage zu beantworten.

Antworten



- 1) Wie viele Schüler sind in diesem Histogramm vertreten?
- 2) Die meisten Schüler haben zwischen _____ und _____ SMS gesendet.
- 3) Wie viele Schüler haben zwischen 8 und 10 SMS gesendet?
- 4) Wenn ein Schüler 6-Texte senden würde, zu welcher Leiste würde er hinzugefügt?

1. _____
2. _____
3. _____
4. _____
5. _____
6. _____
7. _____
8. _____



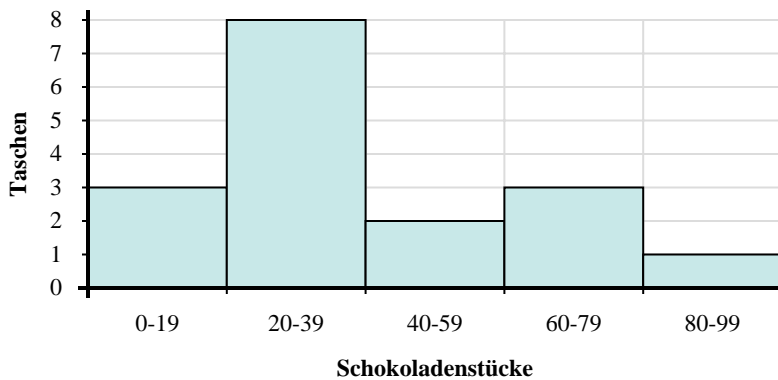
- 5) Die meisten Tüten enthielten zwischen _____ und _____ Schokoladenstücke.
- 6) Wie viele Tüten enthielten zwischen 40 und 60 Schokoladenstücke?
- 7) Wenn eine Tüte 69 Schokoladenstücke hätte, zu welcher Tafel würde sie hinzugefügt werden?
- 8) Wie viele Säcke mit Studentenfutter sind in diesem Histogramm dargestellt?



Verwenden Sie die angezeigten Histogramme, um jede Frage zu beantworten.



- 1) Wie viele Schüler sind in diesem Histogramm vertreten?
- 2) Die meisten Schüler haben zwischen _____ und _____ SMS gesendet.
- 3) Wie viele Schüler haben zwischen 8 und 10 SMS gesendet?
- 4) Wenn ein Schüler 6-Texte senden würde, zu welcher Leiste würde er hinzugefügt?



- 5) Die meisten Tüten enthielten zwischen _____ und _____ Schokoladenstücke.
- 6) Wie viele Tüten enthielten zwischen 40 und 60 Schokoladenstücke?
- 7) Wenn eine Tüte 69 Schokoladenstücke hätte, zu welcher Tafel würde sie hinzugefügt werden?
- 8) Wie viele Säcke mit Studentenfutter sind in diesem Histogramm dargestellt?

Antworten

1. 13
2. 0 2
3. 3
4. 4
5. 20 40
6. 2
7. 4
8. 17