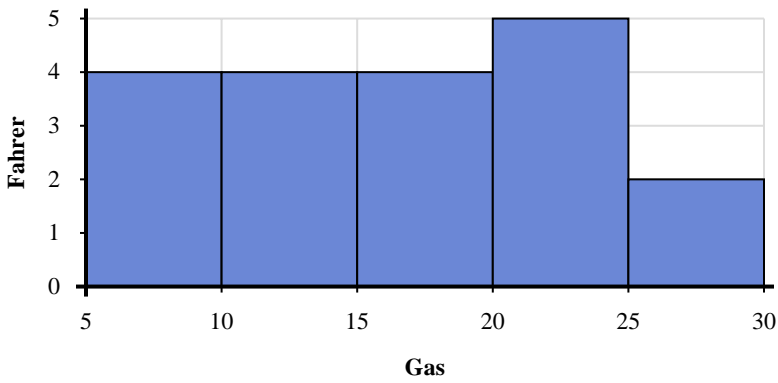




Verwenden Sie die angezeigten Histogramme, um jede Frage zu beantworten.

Antworten



- 1) How many drivers purchased between 20 and 25 gallons?
- 2) How many drivers are represented in this histogram?
- 3) If a driver purchased 22 gallons which bar would they be added to?
- 4) Most drivers purchased between _____ and _____ gallons.

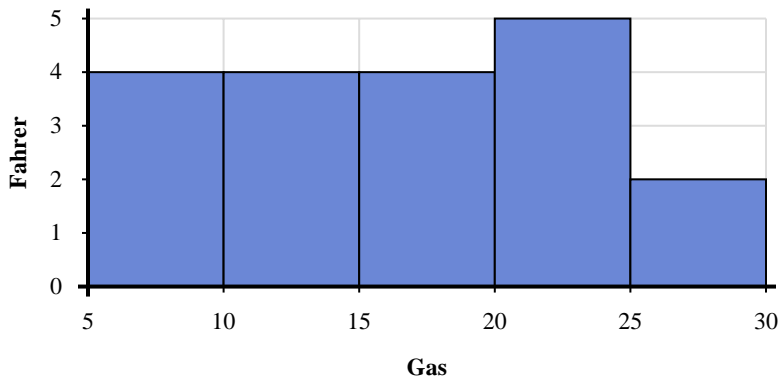
1. _____
2. _____
3. _____
4. _____
5. _____
6. _____
7. _____
8. _____



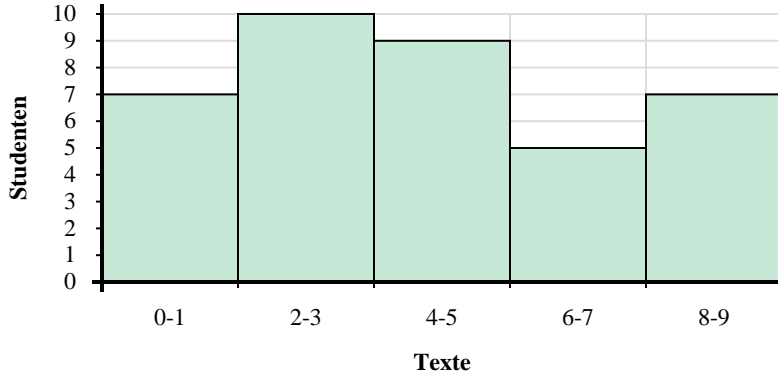
- 5) Wie viele Schüler sind in diesem Histogramm vertreten?
- 6) Die meisten Schüler haben zwischen _____ und _____ SMS gesendet.
- 7) Wie viele Schüler haben zwischen 6 und 8 SMS gesendet?
- 8) Wenn ein Schüler 0-Texte senden würde, zu welcher Leiste würde er hinzugefügt?



Verwenden Sie die angezeigten Histogramme, um jede Frage zu beantworten.



- How many drivers purchased between 20 and 25 gallons?
- How many drivers are represented in this histogram?
- If a driver purchased 22 gallons which bar would they be added to?
- Most drivers purchased between _____ and _____ gallons.



- Wie viele Schüler sind in diesem Histogramm vertreten?
- Die meisten Schüler haben zwischen _____ und _____ SMS gesendet.
- Wie viele Schüler haben zwischen 6 und 8 SMS gesendet?
- Wenn ein Schüler 0-Texte senden würde, zu welcher Leiste würde er hinzugefügt?

Antworten

- 5
- 19
- 4
- 20 25
- 38
- 2 4
- 5
- 1