

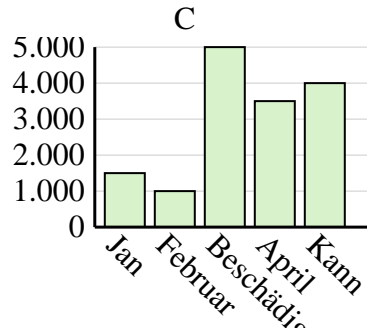
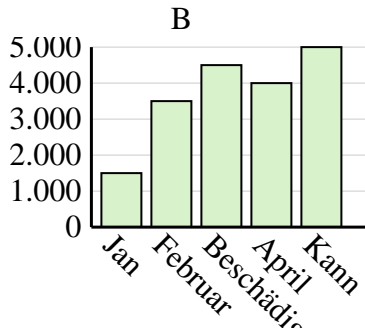
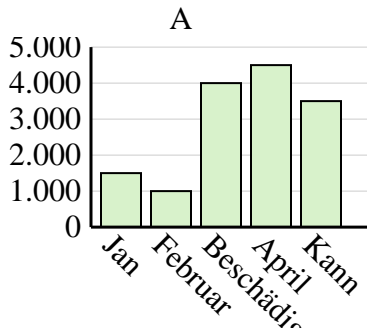


Entscheide, welches Diagramm (A, B oder C) am besten die Information in der Tabelle repräsentiert.

Antworten

1)

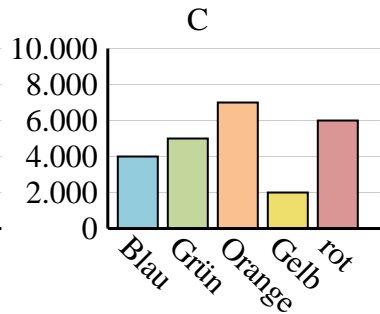
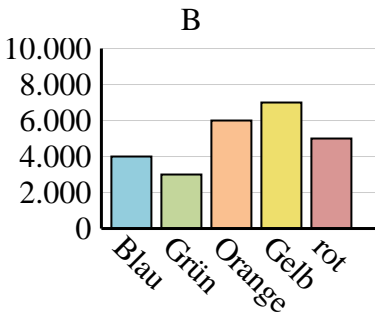
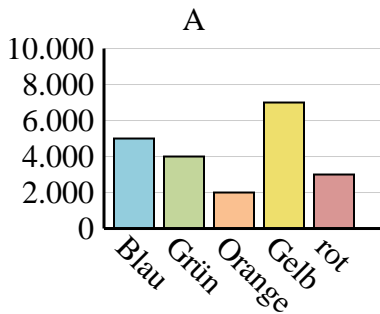
Der Umsatz	Jan	Februar	Beschädigen	April	Kann
Monat	1.500	1.000	4.000	4.500	3.500



- 1. _____
- 2. _____
- 3. _____
- 4. _____

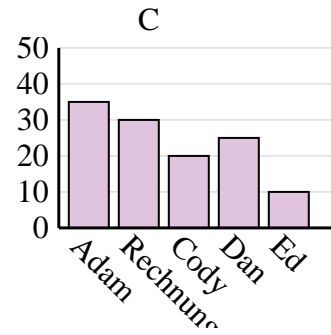
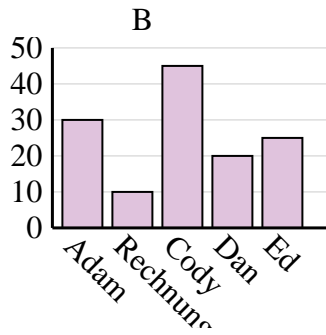
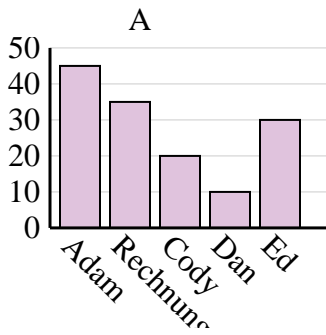
2)

Lieblingsfarbe	Blau	Grün	Orange	Gelb	rot
Personen	4.000	3.000	6.000	7.000	5.000



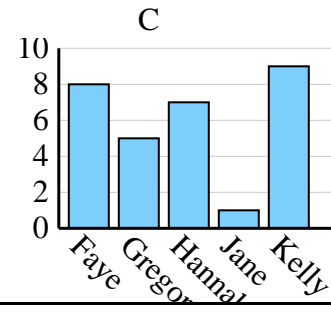
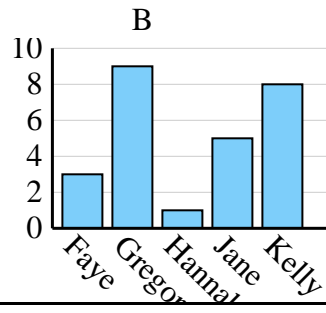
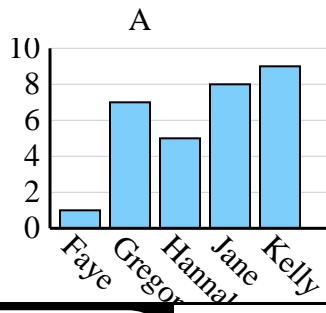
3)

Name	Adam	Rechnung	Cody	Dan	Ed
Punkte	35	30	20	25	10



4)

Name	Faye	Gregor	Hannah	Jane	Kelly
Staaten, in denen gelebt wurde	1	7	5	8	9



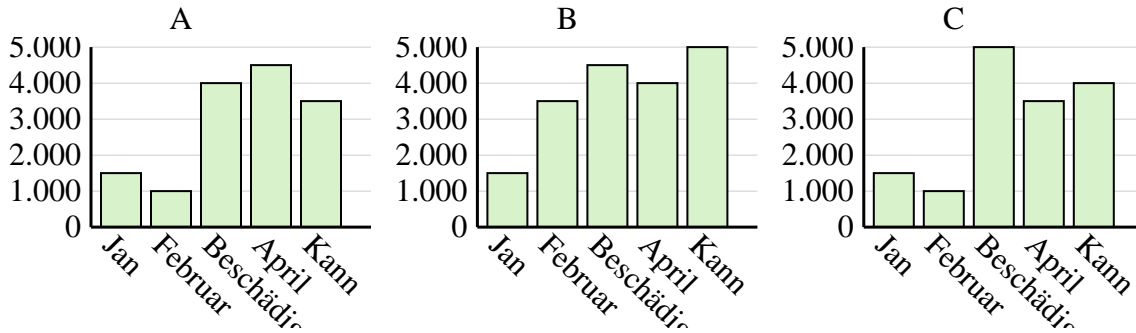


Entscheide, welches Diagramm (A, B oder C) am besten die Information in der Tabelle repräsentiert.

Antworten

1)

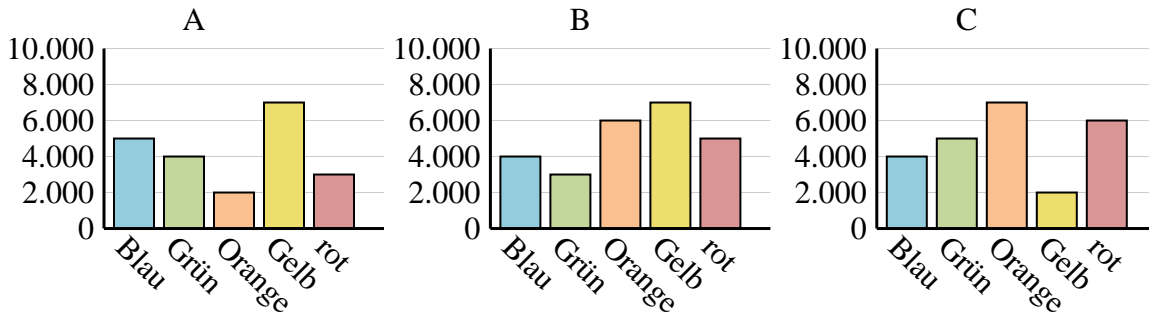
Der Umsatz	Jan	Februar	Beschädigen	April	Kann
Monat	1.500	1.000	4.000	4.500	3.500



- 1. **A**
- 2. **B**
- 3. **C**
- 4. **A**

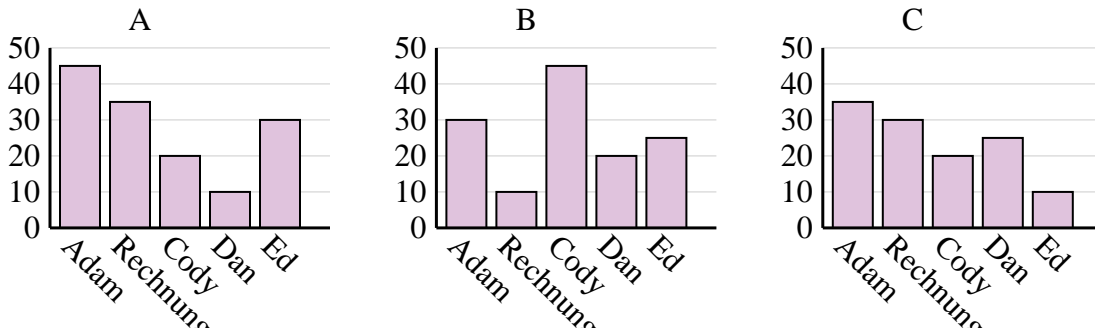
2)

Lieblingsfarbe	Blau	Grün	Orange	Gelb	rot
Personen	4.000	3.000	6.000	7.000	5.000



3)

Name	Adam	Rechnung	Cody	Dan	Ed
Punkte	35	30	20	25	10



4)

Name	Faye	Gregor	Hannah	Jane	Kelly
Staaten, in denen gelebt wurde	1	7	5	8	9

