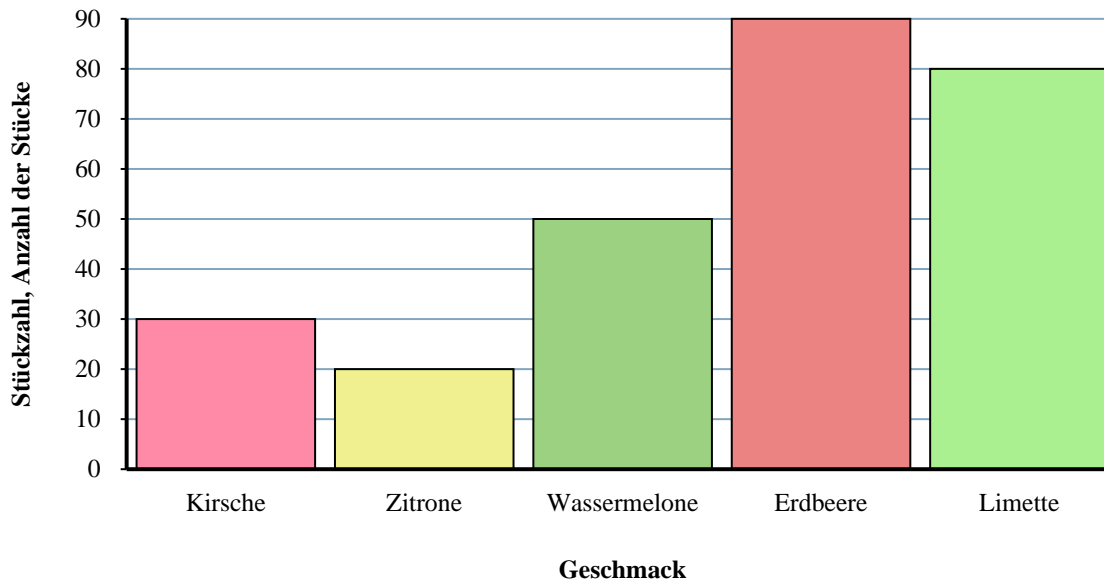




Löse jede Aufgabe.

Jumbo-Tasche Fruit-o Candy

**Antworten**

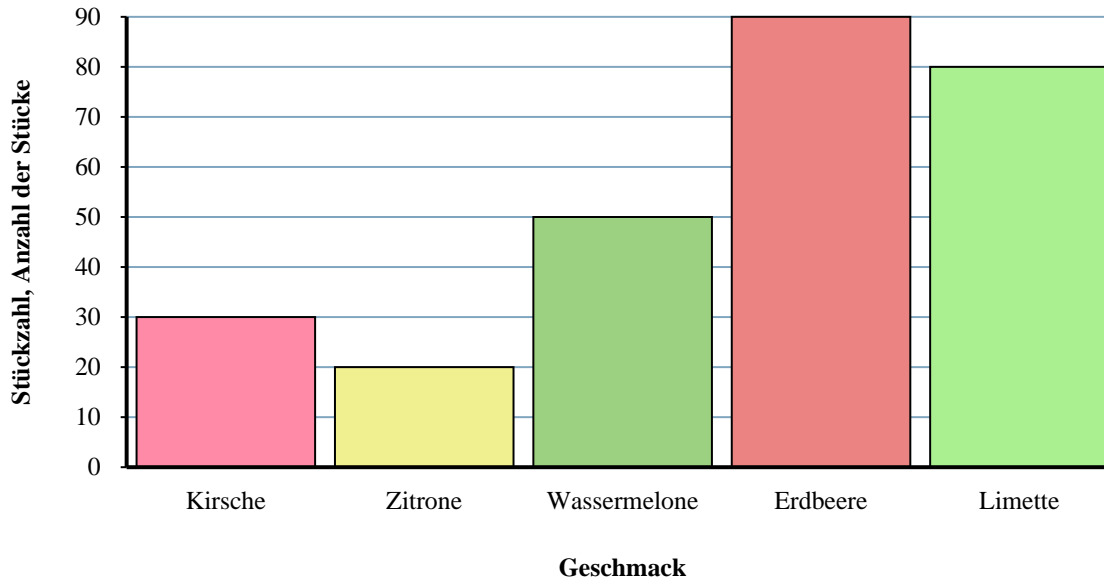
1. _____
2. _____
3. _____
4. _____
5. _____
6. _____
7. _____
8. _____
9. _____
10. _____

- 1) Wie viele Limette-Stücke mehr als Zitrone-Stücke gab es?
- 2) Wie hoch ist die kombinierte Anzahl von Kirsche- und Wassermelone-Stücken?
- 3) Wie viele Teile waren insgesamt in der Box?
- 4) Welche Sorte hatte die wenigsten Stücke in der Tüte?
- 5) Gab es weniger Erdbeere-Stücke oder Limette-Stücke?
- 6) Welche Sorte hatte genau 80 Stücke im Beutel?
- 7) Gab es mehr Wassermelone-Stücke oder Limette-Stücke?
- 8) Wie viele Zitrone-Stücke weniger als Erdbeere-Stücke gab es?
- 9) Wie viele Stücke waren Wassermelone?
- 10) Was ist der Unterschied in der Anzahl der Limette-Stücke und der Anzahl der Kirsche-Stücke?



Löse jede Aufgabe.

Jumbo-Tasche Fruit-o Candy

**Antworten**

1. 60
2. 80
3. 270
4. Zitrone
5. Limette
6. Limette
7. Limette
8. 70
9. 50
10. 50

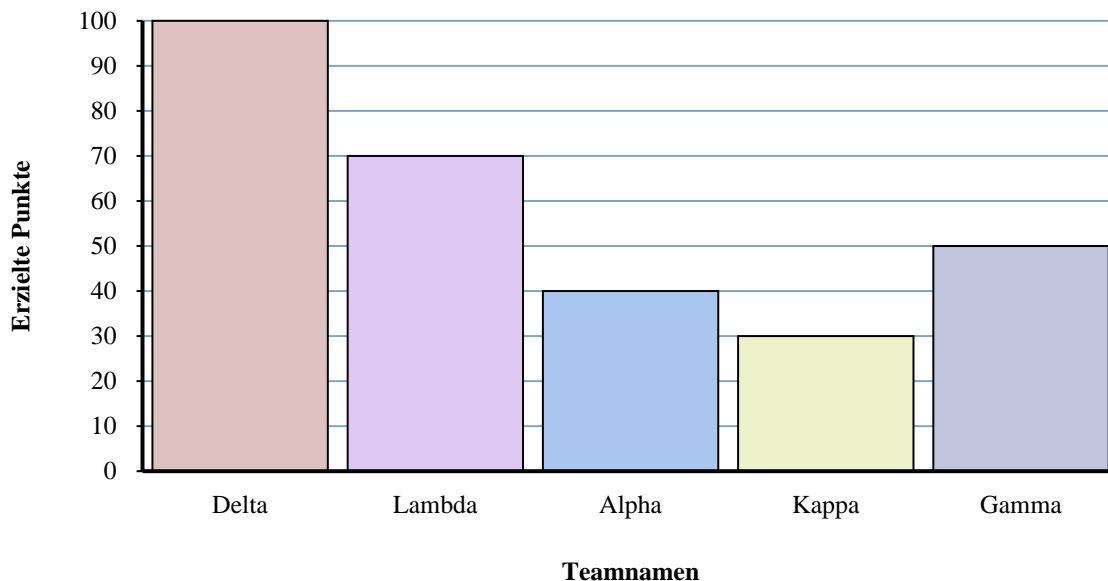
- 1) Wie viele Limette-Stücke mehr als Zitrone-Stücke gab es?
- 2) Wie hoch ist die kombinierte Anzahl von Kirsche- und Wassermelone-Stücken?
- 3) Wie viele Teile waren insgesamt in der Box?
- 4) Welche Sorte hatte die wenigsten Stücke in der Tüte?
- 5) Gab es weniger Erdbeere-Stücke oder Limette-Stücke?
- 6) Welche Sorte hatte genau 80 Stücke im Beutel?
- 7) Gab es mehr Wassermelone-Stücke oder Limette-Stücke?
- 8) Wie viele Zitrone-Stücke weniger als Erdbeere-Stücke gab es?
- 9) Wie viele Stücke waren Wassermelone?
- 10) Was ist der Unterschied in der Anzahl der Limette-Stücke und der Anzahl der Kirsche-Stücke?



Löse jede Aufgabe.

Antworten

Trivia-Spielergebnisse



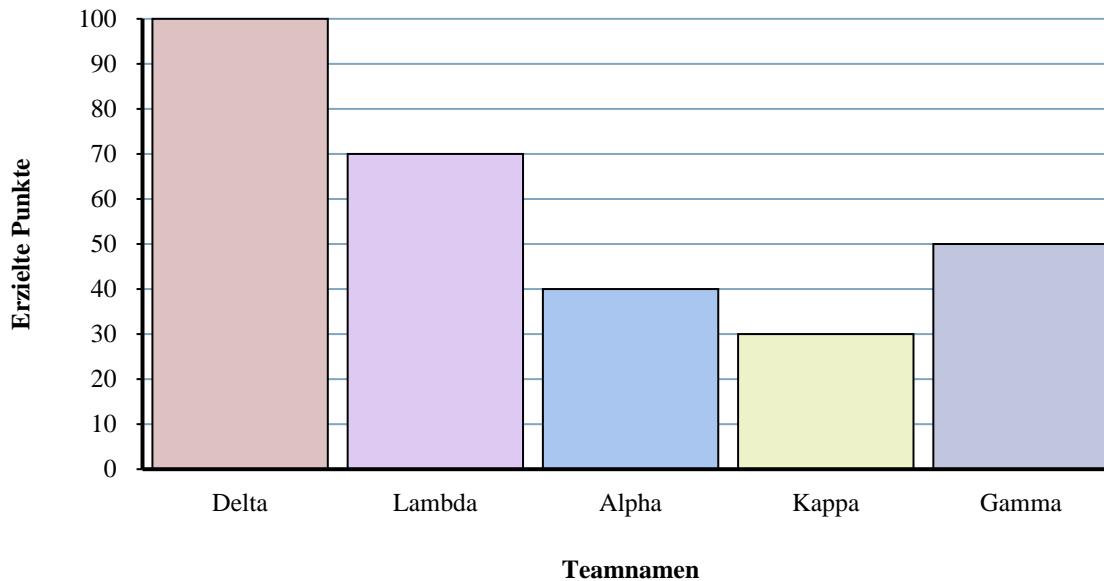
- 1) Welches Team hat die meisten Punkte geholt?
- 2) Welches Team hat die wenigsten Punkte geholt?
- 3) Hat Team Alpha oder Team Gamma weniger Punkte erzielt?
- 4) Wie viele Punkte wurden im Spiel insgesamt gesammelt?
- 5) Hat Team Kappa oder Team Alpha mehr Punkte erzielt?
- 6) Wie viele Punkte hat Team Kappa erzielt?
- 7) Wie hoch sind die kombinierten Punkte von Delta und Alpha?
- 8) Wie viele Punkte weniger hat Team Lambda als Team Delta erzielt?
- 9) Welches Team hat 70 Punkte erzielt?
- 10) Was ist der Unterschied zwischen der Anzahl der erzielten Punkte Delta und der Anzahl der erzielten Gamma?

1. _____
2. _____
3. _____
4. _____
5. _____
6. _____
7. _____
8. _____
9. _____
10. _____



Löse jede Aufgabe.

Trivia-Spielergebnisse



- 1) Welches Team hat die meisten Punkte geholt?
- 2) Welches Team hat die wenigsten Punkte geholt?
- 3) Hat Team Alpha oder Team Gamma weniger Punkte erzielt?
- 4) Wie viele Punkte wurden im Spiel insgesamt gesammelt?
- 5) Hat Team Kappa oder Team Alpha mehr Punkte erzielt?
- 6) Wie viele Punkte hat Team Kappa erzielt?
- 7) Wie hoch sind die kombinierten Punkte von Delta und Alpha?
- 8) Wie viele Punkte weniger hat Team Lambda als Team Delta erzielt?
- 9) Welches Team hat 70 Punkte erzielt?
- 10) Was ist der Unterschied zwischen der Anzahl der erzielten Punkte Delta und der Anzahl der erzielten Gamma?

Antworten

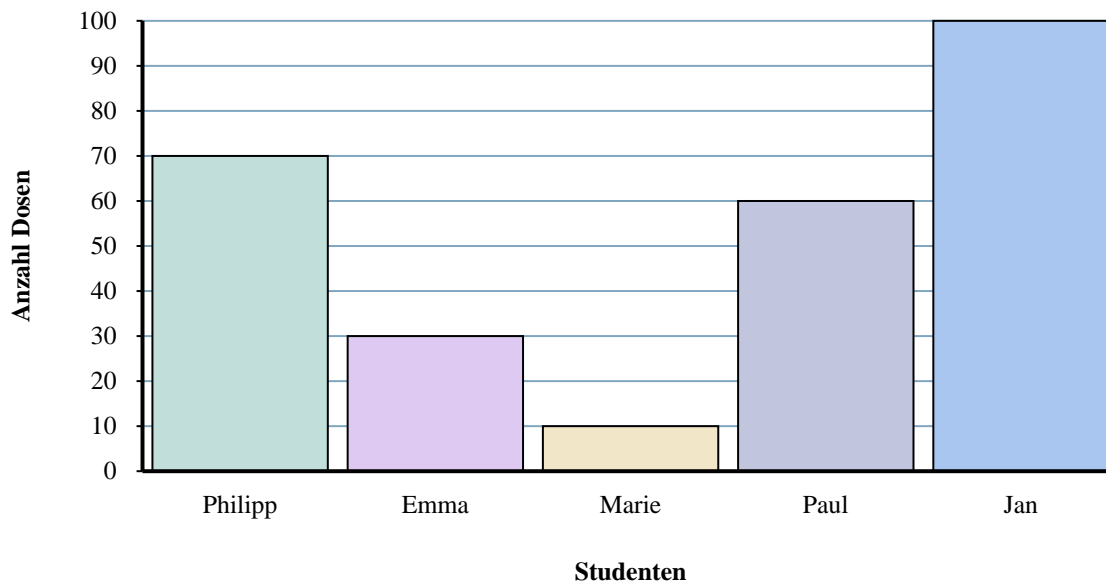
1. **Delta**
2. **Kappa**
3. **Alpha**
4. **290**
5. **Alpha**
6. **30**
7. **140**
8. **30**
9. **Lambda**
10. **50**



Löse jede Aufgabe.

Antworten

Dosen gesammelt

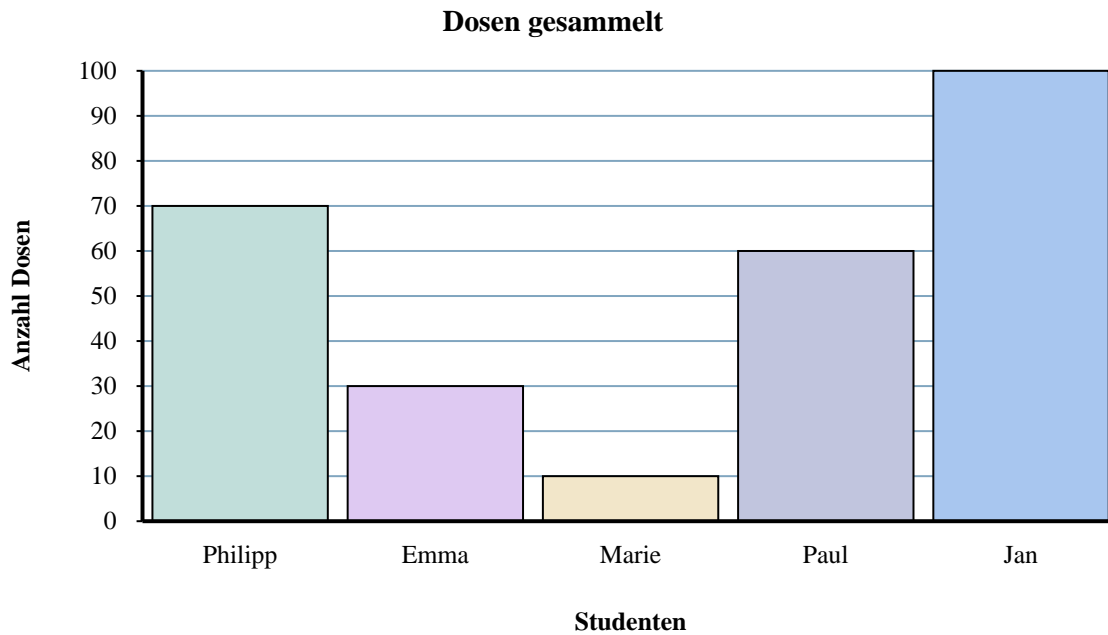


- 1) Wer hat die meisten Dosen gesammelt?
- 2) Wie viele Dosen haben Paul gesammelt und Jan gesammelt?
- 3) Wer hat genau 10 Dosen gesammelt?
- 4) Wie viele Dosen weniger hat Philipp gesammelt als Jan?
- 5) Wie viele Dosen mehr hat Paul gesammelt als Marie?
- 6) Wie viele Dosen hat Jan gesammelt?
- 7) Wer hat die wenigsten Dosen gesammelt?
- 8) Was ist der Unterschied zwischen der Anzahl der gesammelten Dosen Jan und der Anzahl der gesammelten Marie?
- 9) Wie viele Dosen haben alle Schüler insgesamt gesammelt?
- 10) Wer hat weniger Dosen gesammelt? Philipp oder Marie?

1. _____
2. _____
3. _____
4. _____
5. _____
6. _____
7. _____
8. _____
9. _____
10. _____



Löse jede Aufgabe.

**Antworten**

1. Jan
2. 160
3. Marie
4. 30
5. 50
6. 100
7. Marie
8. 90
9. 270
10. Marie

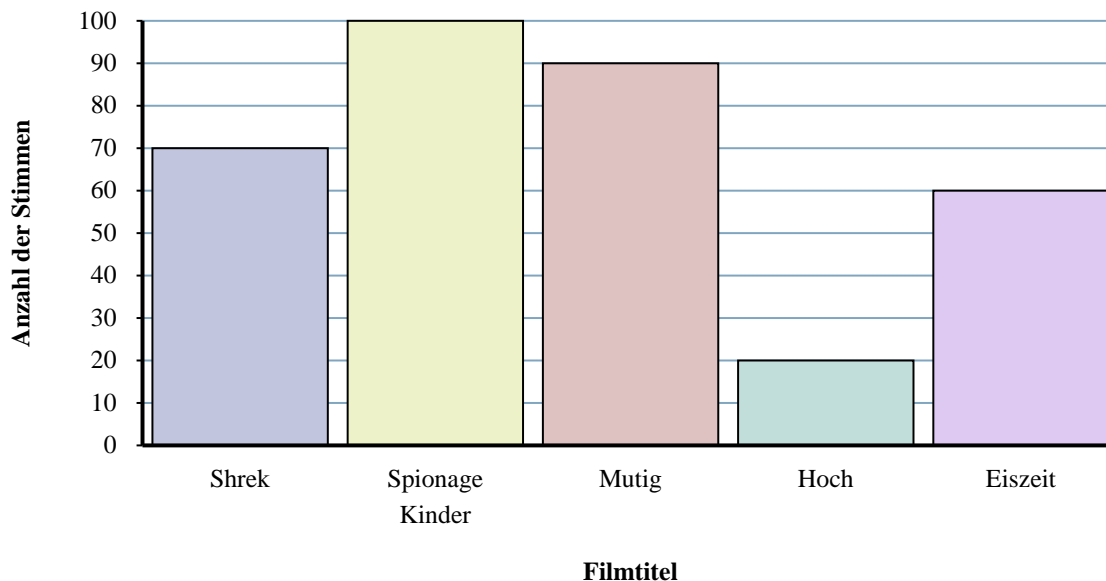
- 1) Wer hat die meisten Dosen gesammelt?
- 2) Wie viele Dosen haben Paul gesammelt und Jan gesammelt?
- 3) Wer hat genau 10 Dosen gesammelt?
- 4) Wie viele Dosen weniger hat Philipp gesammelt als Jan?
- 5) Wie viele Dosen mehr hat Paul gesammelt als Marie?
- 6) Wie viele Dosen hat Jan gesammelt?
- 7) Wer hat die wenigsten Dosen gesammelt?
- 8) Was ist der Unterschied zwischen der Anzahl der gesammelten Dosen Jan und der Anzahl der gesammelten Marie?
- 9) Wie viele Dosen haben alle Schüler insgesamt gesammelt?
- 10) Wer hat weniger Dosen gesammelt? Philipp oder Marie?



Löse jede Aufgabe.

Antworten

Welcher Film zum Anschauen



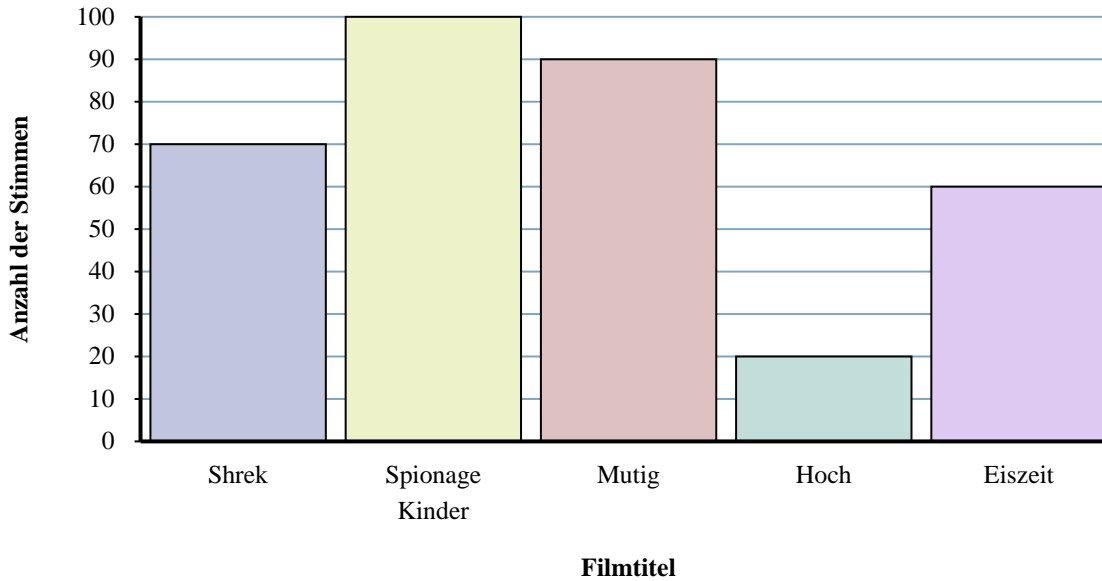
1. _____
2. _____
3. _____
4. _____
5. _____
6. _____
7. _____
8. _____
9. _____
10. _____

- 1) Wie viele Leute haben für Hoch gestimmt?
- 2) Welcher Film hat die meisten Stimmen bekommen?
- 3) Welcher Film hat die wenigsten Stimmen bekommen?
- 4) Wie viele Stimmen weniger hat Eiszeit erhalten als Shrek?
- 5) Welcher Film hat genau 100 Stimmen erhalten?
- 6) Haben weniger Schüler für Hoch oder Shrek gestimmt?
- 7) Was ist der Unterschied zwischen der Anzahl der Personen, die für Shrek gestimmt haben, und der Anzahl der Personen, die für Mutig gestimmt haben?
- 8) Wie viele Studierende haben insgesamt gewählt?
- 9) Wie viele Stimmen mehr hat Mutig erhalten als Hoch?
- 10) Wie viele Personen haben zusammen für Shrek und Spionage Kinder gestimmt?



Löse jede Aufgabe.

Welcher Film zum Anschauen



- 1) Wie viele Leute haben für Hoch gestimmt?
- 2) Welcher Film hat die meisten Stimmen bekommen?
- 3) Welcher Film hat die wenigsten Stimmen bekommen?
- 4) Wie viele Stimmen weniger hat Eiszeit erhalten als Shrek?
- 5) Welcher Film hat genau 100 Stimmen erhalten?
- 6) Haben weniger Schüler für Hoch oder Shrek gestimmt?
- 7) Was ist der Unterschied zwischen der Anzahl der Personen, die für Shrek gestimmt haben, und der Anzahl der Personen, die für Mutig gestimmt haben?
- 8) Wie viele Studierende haben insgesamt gewählt?
- 9) Wie viele Stimmen mehr hat Mutig erhalten als Hoch?
- 10) Wie viele Personen haben zusammen für Shrek und Spionage Kinder gestimmt?

Antworten

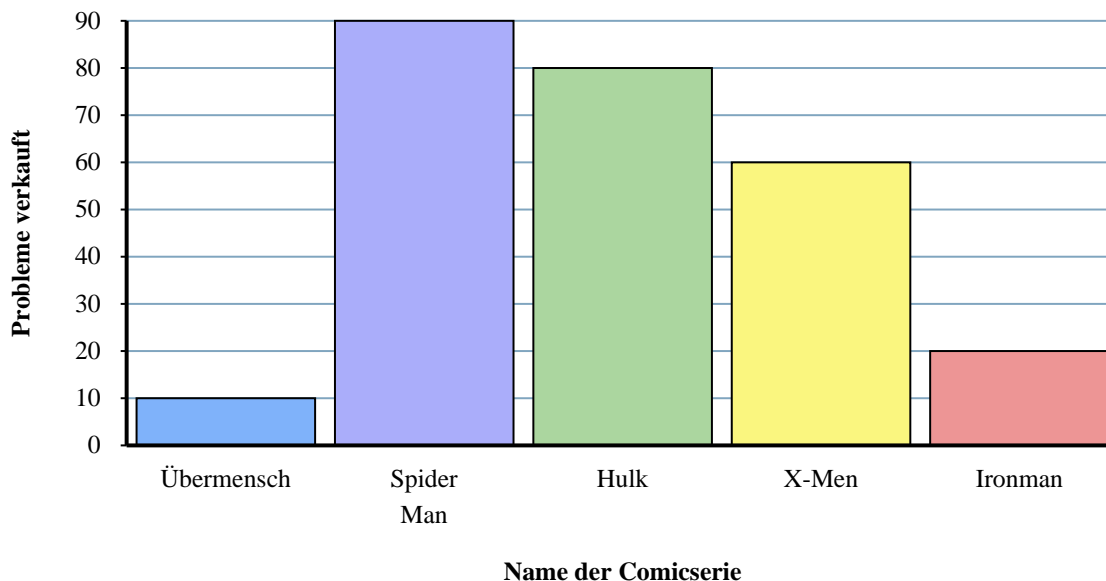
1. 20
2. Spionage Kinder
3. Hoch
4. 10
5. Spionage Kinder
6. Hoch
7. 20
8. 340
9. 70
10. 170



Löse jede Aufgabe.

Antworten

Comic-Bücher verkauft

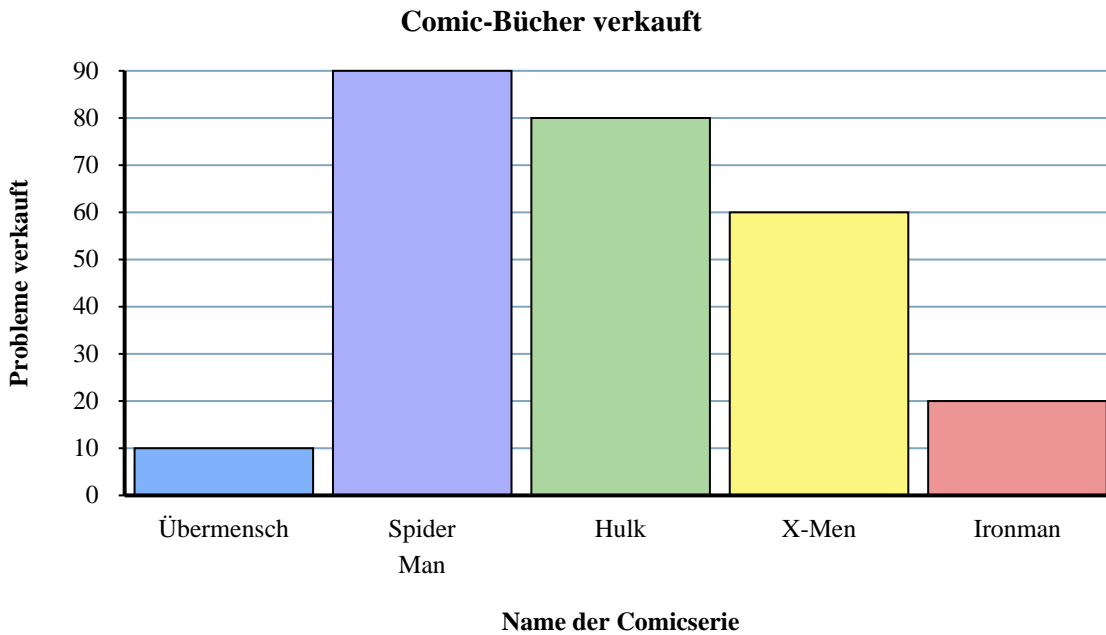


- 1) Was ist der Unterschied zwischen der Anzahl der verkauften X-Men-Ausgaben und der Anzahl der verkauften Spider Man-Ausgaben?
- 2) Wie viele Ausgaben von Übermensch wurden verkauft?
- 3) Welche Comicserie hat genau 60 Ausgaben verkauft?
- 4) Welche Comicserie verkaufte sich mehr, Übermensch oder X-Men?
- 5) Wie viele Ausgaben wurden von allen Comics insgesamt verkauft?
- 6) Wie viele Ausgaben von Ironman wurden mehr verkauft als Ausgaben von Übermensch?
- 7) Wie viele Ausgaben von Ironman wurden weniger verkauft als Ausgaben von Spider Man?
- 8) Wie viele Ausgaben wurden zusammen mit Übermensch und Spider Man verkauft?
- 9) Welche Comicserie verkaufte sich am wenigsten?
- 10) Welche Comicserie verkaufte sich am meisten?

1. _____
2. _____
3. _____
4. _____
5. _____
6. _____
7. _____
8. _____
9. _____
10. _____



Löse jede Aufgabe.

**Antworten**

1. 30
2. 10
3. X-Men
4. X-Men
5. 260
6. 10
7. 70
8. 100
9. Übermensch
10. Spider Man

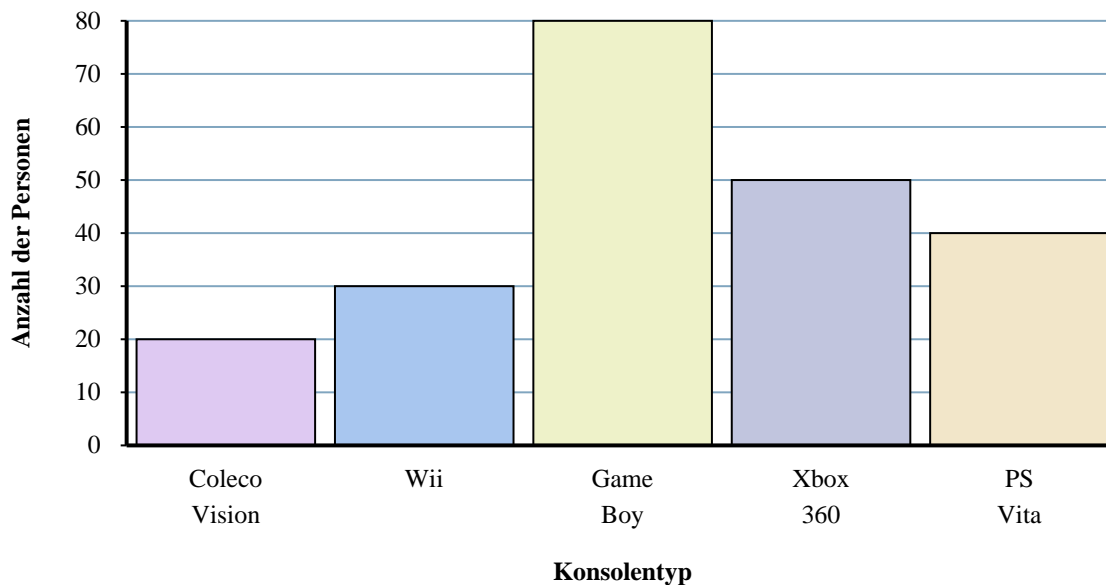
- 1) Was ist der Unterschied zwischen der Anzahl der verkauften X-Men-Ausgaben und der Anzahl der verkauften Spider Man-Ausgaben?
- 2) Wie viele Ausgaben von Übermensch wurden verkauft?
- 3) Welche Comicserie hat genau 60 Ausgaben verkauft?
- 4) Welche Comicserie verkaufte sich mehr, Übermensch oder X-Men?
- 5) Wie viele Ausgaben wurden von allen Comics insgesamt verkauft?
- 6) Wie viele Ausgaben von Ironman wurden mehr verkauft als Ausgaben von Übermensch?
- 7) Wie viele Ausgaben von Ironman wurden weniger verkauft als Ausgaben von Spider Man?
- 8) Wie viele Ausgaben wurden zusammen mit Übermensch und Spider Man verkauft?
- 9) Welche Comicserie verkaufte sich am wenigsten?
- 10) Welche Comicserie verkaufte sich am meisten?



Löse jede Aufgabe.

Antworten

Konsolenbesitz

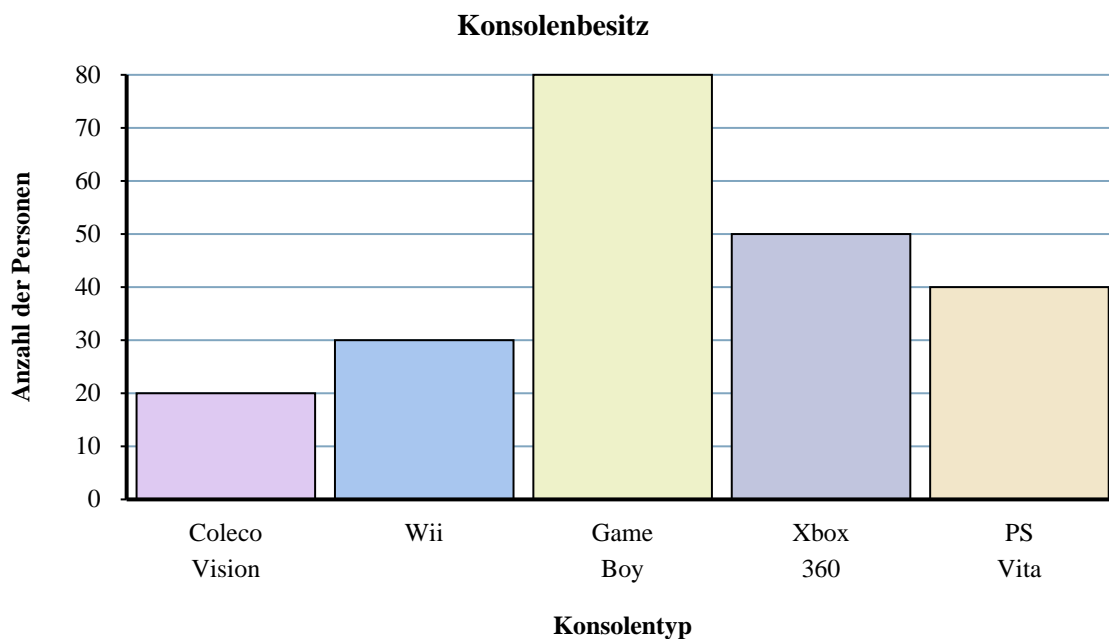


1. _____
2. _____
3. _____
4. _____
5. _____
6. _____
7. _____
8. _____
9. _____
10. _____

- 1) Wie viele besitzen zusammen PS Vitas und Xbox 360s?
- 2) Welche Konsole besaßen genau 80 Personen?
- 3) Wie viele mehr Personen besaßen einen Xbox 360 als einen Wii?
- 4) Was ist der Unterschied zwischen der Anzahl der Besitzer eines Wii und der Anzahl der Besitzer eines PS Vita?
- 5) Welche Konsole besaßen die wenigsten Leute?
- 6) Wie viele weniger Personen besaßen einen Coleco Vision als einen Game Boy?
- 7) Wie viele Personen besaßen einen PS Vita?
- 8) Wie viele Konsolen besaßen die Leute insgesamt?
- 9) Besitzen weniger Leute eine Game Boy oder eine Wii?
- 10) Besitzen mehr Personen eine Xbox 360s oder eine Gameboys?



Löse jede Aufgabe.



- 1) Wie viele besitzen zusammen PS Vitas und Xbox 360s?
- 2) Welche Konsole besaßen genau 80 Personen?
- 3) Wie viele mehr Personen besaßen einen Xbox 360 als einen Wii?
- 4) Was ist der Unterschied zwischen der Anzahl der Besitzer eines Wii und der Anzahl der Besitzer eines PS Vita?
- 5) Welche Konsole besaßen die wenigsten Leute?
- 6) Wie viele weniger Personen besaßen einen Coleco Vision als einen Game Boy?
- 7) Wie viele Personen besaßen einen PS Vita?
- 8) Wie viele Konsolen besaßen die Leute insgesamt?
- 9) Besitzen weniger Leute eine Game Boy oder eine Wii?
- 10) Besitzen mehr Personen eine Xbox 360s oder eine Gameboys?

Antworten

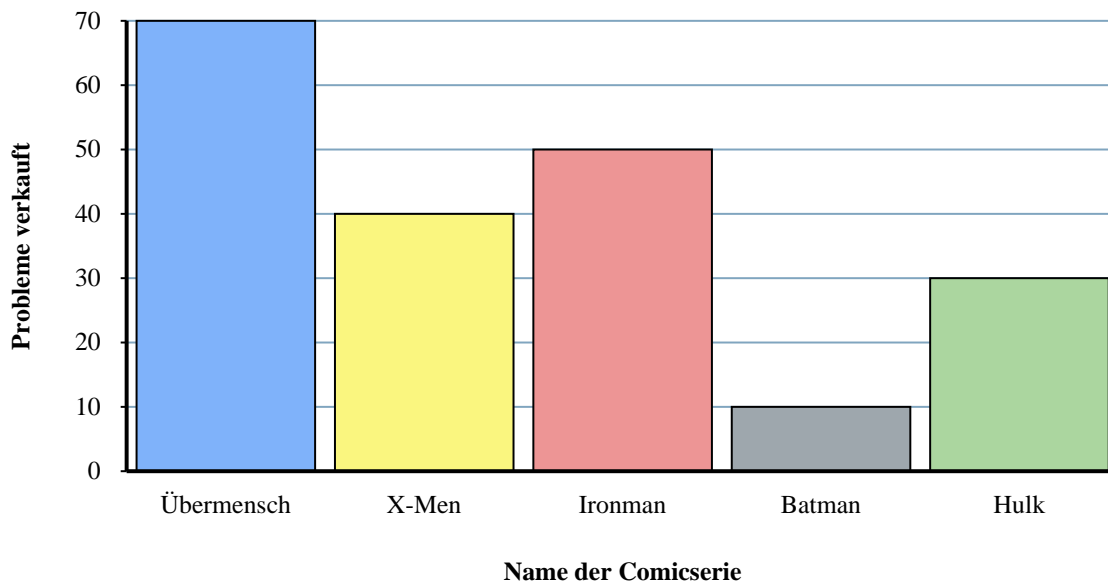
1. 90
2. Game Boy
3. 20
4. 10
5. Coleco Vision
6. 60
7. 40
8. 220
9. Wii
10. Game Boy



Löse jede Aufgabe.

Antworten

Comic-Bücher verkauft

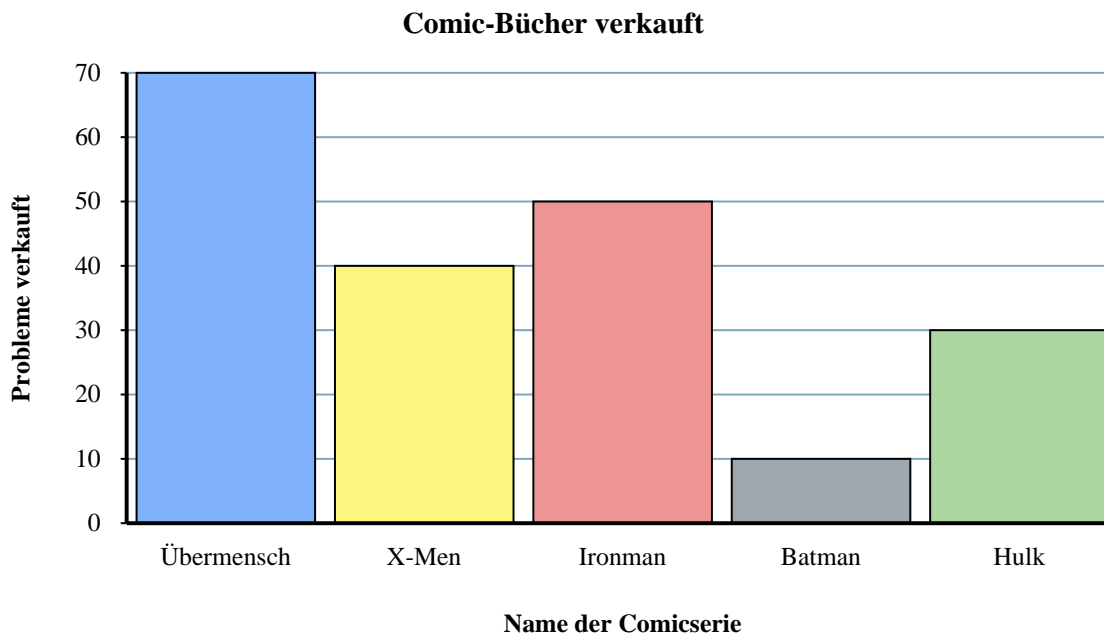


- 1) Wie viele Ausgaben von Hulk wurden weniger verkauft als Ausgaben von Ironman?
- 2) Wie viele Ausgaben von Ironman wurden mehr verkauft als Ausgaben von X-Men?
- 3) Welche Comicserie verkaufte sich am meisten?
- 4) Welche Comicserie verkaufte sich mehr, Übermensch oder Hulk?
- 5) Was ist der Unterschied zwischen der Anzahl der verkauften Batman-Ausgaben und der Anzahl der verkauften Ironman-Ausgaben?
- 6) Wie viele Ausgaben wurden zusammen mit Batman und X-Men verkauft?
- 7) Welche Ausgaben wurden weniger verkauft, Ausgaben von Batman oder Ausgaben von Übermensch?
- 8) Wie viele Ausgaben wurden von allen Comics insgesamt verkauft?
- 9) Wie viele Ausgaben von Ironman wurden verkauft?
- 10) Welche Comicserie hat genau 40 Ausgaben verkauft?

1. _____
2. _____
3. _____
4. _____
5. _____
6. _____
7. _____
8. _____
9. _____
10. _____



Löse jede Aufgabe.



- 1) Wie viele Ausgaben von Hulk wurden weniger verkauft als Ausgaben von Ironman?
- 2) Wie viele Ausgaben von Ironman wurden mehr verkauft als Ausgaben von X-Men?
- 3) Welche Comicserie verkaufte sich am meisten?
- 4) Welche Comicserie verkaufte sich mehr, Übermensch oder Hulk?
- 5) Was ist der Unterschied zwischen der Anzahl der verkauften Batman-Ausgaben und der Anzahl der verkauften Ironman-Ausgaben?
- 6) Wie viele Ausgaben wurden zusammen mit Batman und X-Men verkauft?
- 7) Welche Ausgaben wurden weniger verkauft, Ausgaben von Batman oder Ausgaben von Übermensch?
- 8) Wie viele Ausgaben wurden von allen Comics insgesamt verkauft?
- 9) Wie viele Ausgaben von Ironman wurden verkauft?
- 10) Welche Comicserie hat genau 40 Ausgaben verkauft?

Antworten

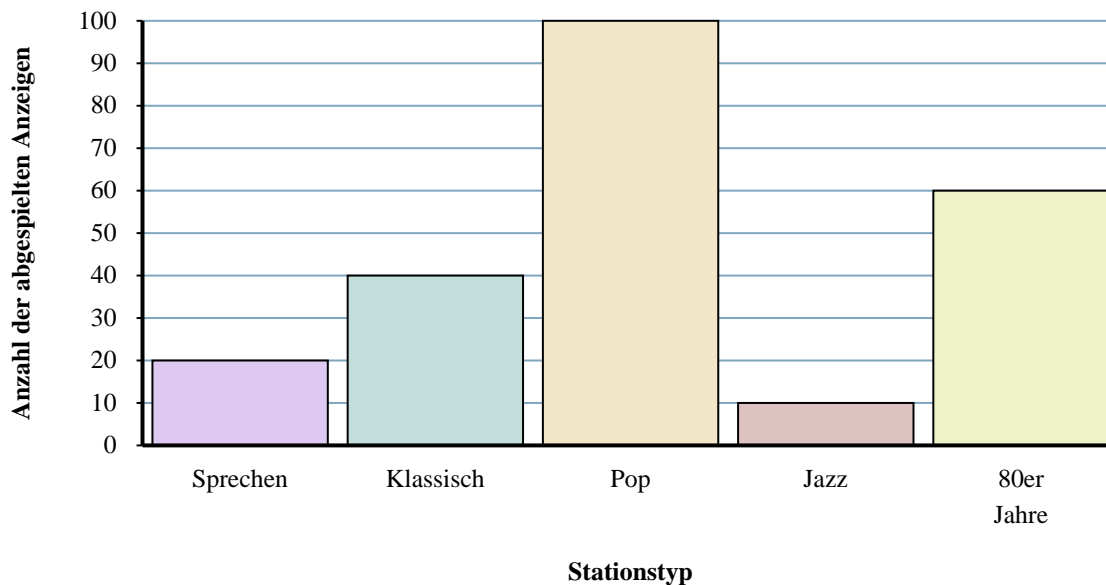
1. 20
2. 10
3. Übermensch
4. Übermensch
5. 40
6. 50
7. Batman
8. 200
9. 50
10. X-Men



Löse jede Aufgabe.

Antworten

Verschiedene Radiosender



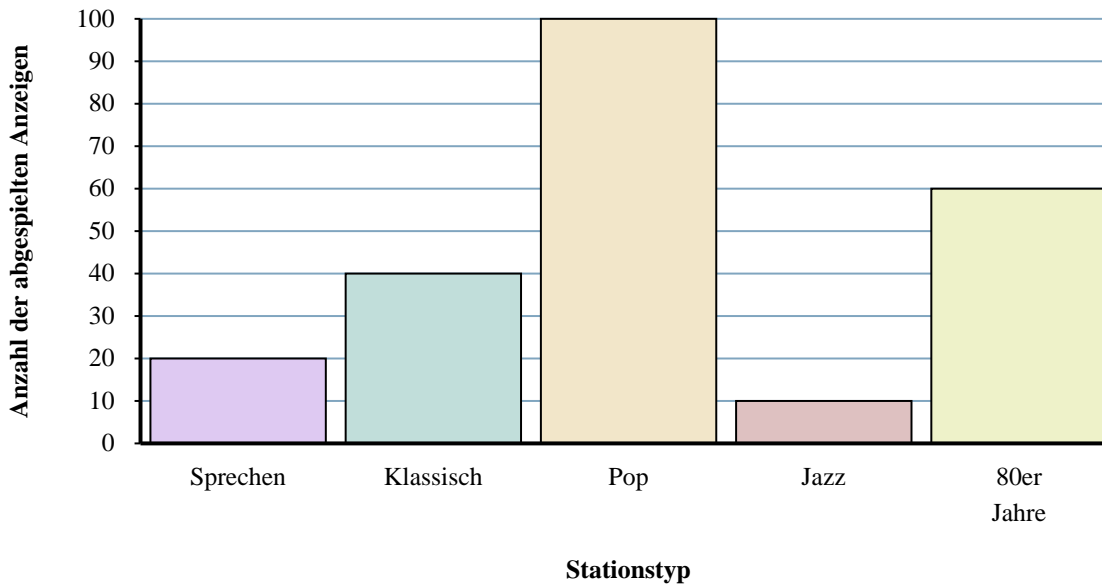
- 1) Wie viele Anzeigen hatte der Sender sprechen mehr als der Sender Jazz?
- 2) Wie viele Anzeigen weniger hatte der Sender sprechen als der Sender 80er Jahre?
- 3) Wie hoch ist die Gesamtzahl der Anzeigen auf allen Stationen?
- 4) Wie viele Anzeigen werden zusammen auf den Sendern 80er Jahre und Pop abgespielt?
- 5) Welcher Sender hatte die meisten Anzeigen?
- 6) Wie viele Anzeigen waren auf dem Sender Pop zu sehen?
- 7) Gab es mehr Anzeigen auf dem Sender Pop oder dem Sender sprechen?
- 8) Welcher Sender hatte genau 20-Anzeigen?
- 9) Gab es weniger Anzeigen auf dem Sender Jazz oder dem Sender klassisch?
- 10) Welcher Sender hatte die wenigsten Anzeigen?

1. _____
2. _____
3. _____
4. _____
5. _____
6. _____
7. _____
8. _____
9. _____
10. _____



Löse jede Aufgabe.

Verschiedene Radiosender



- Wie viele Anzeigen hatte der Sender sprechen mehr als der Sender Jazz?
- Wie viele Anzeigen weniger hatte der Sender sprechen als der Sender 80er Jahre?
- Wie hoch ist die Gesamtzahl der Anzeigen auf allen Stationen?
- Wie viele Anzeigen werden zusammen auf den Sendern 80er Jahre und Pop abgespielt?
- Welcher Sender hatte die meisten Anzeigen?
- Wie viele Anzeigen waren auf dem Sender Pop zu sehen?
- Gab es mehr Anzeigen auf dem Sender Pop oder dem Sender sprechen?
- Welcher Sender hatte genau 20-Anzeigen?
- Gab es weniger Anzeigen auf dem Sender Jazz oder dem Sender klassisch?
- Welcher Sender hatte die wenigsten Anzeigen?

Antworten

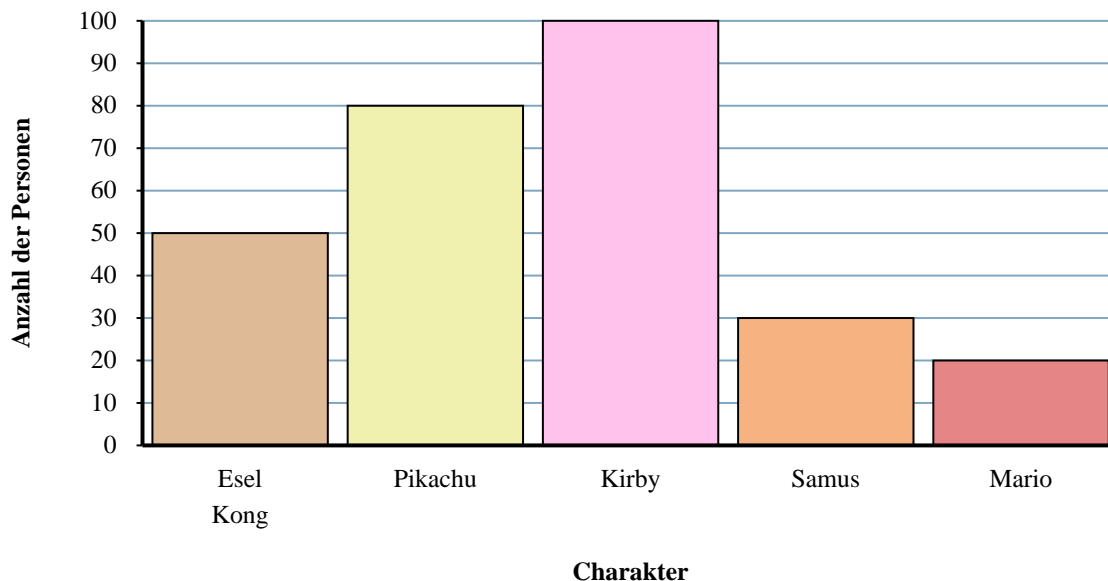
- 10**
- 40**
- 230**
- 160**
- Pop**
- 100**
- Pop**
- sprechen**
- Jazz**
- Jazz**



Löse jede Aufgabe.

Antworten

Lieblingsspielcharaktere

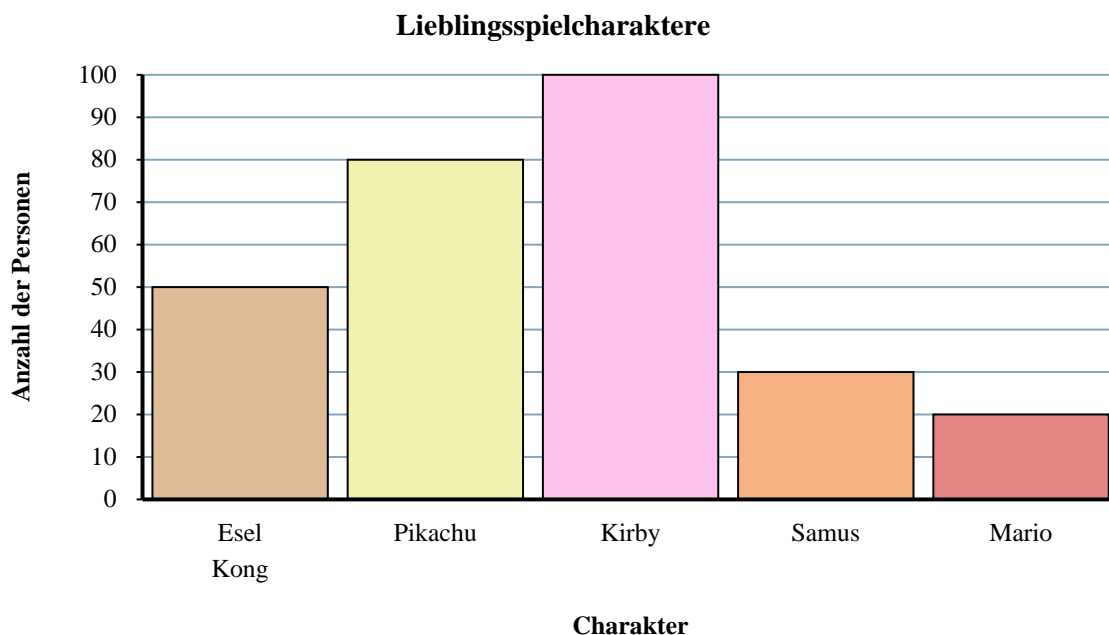


1. _____
2. _____
3. _____
4. _____
5. _____
6. _____
7. _____
8. _____
9. _____
10. _____

- 1) Welche Figur haben die wenigsten Leute als ihren Favoriten bezeichnet?
- 2) Haben mehr Leute Mario oder Samus mögen?
- 3) Wie vielen Leuten hat Samus am besten gefallen?
- 4) Wie viele Personen haben insgesamt an der Umfrage teilgenommen?
- 5) Haben weniger Leute Pikachu oder Kirby gemocht?
- 6) Wie viele weniger Leute mochten Samus als Esel Kong?
- 7) Welche Figur hat die größte Anzahl von Leuten als ihr Favorit bezeichnet?
- 8) Wie vielen mehr Personen hat Kirby gefallen als Mario?
- 9) Was ist der Unterschied zwischen der Anzahl der Personen, die Mario mochten, und der Anzahl derjenigen, die Esel Kong mochten?
- 10) Welcher Charakter wurde von 100-Leuten als ihr Lieblingscharakter bezeichnet?



Löse jede Aufgabe.



- 1) Welche Figur haben die wenigsten Leute als ihren Favoriten bezeichnet?
- 2) Haben mehr Leute Mario oder Samus mögen?
- 3) Wie vielen Leuten hat Samus am besten gefallen?
- 4) Wie viele Personen haben insgesamt an der Umfrage teilgenommen?
- 5) Haben weniger Leute Pikachu oder Kirby gemocht?
- 6) Wie viele weniger Leute mochten Samus als Esel Kong?
- 7) Welche Figur hat die größte Anzahl von Leuten als ihr Favorit bezeichnet?
- 8) Wie vielen mehr Personen hat Kirby gefallen als Mario?
- 9) Was ist der Unterschied zwischen der Anzahl der Personen, die Mario mochten, und der Anzahl derjenigen, die Esel Kong mochten?
- 10) Welcher Charakter wurde von 100-Leuten als ihr Lieblingscharakter bezeichnet?

Antworten

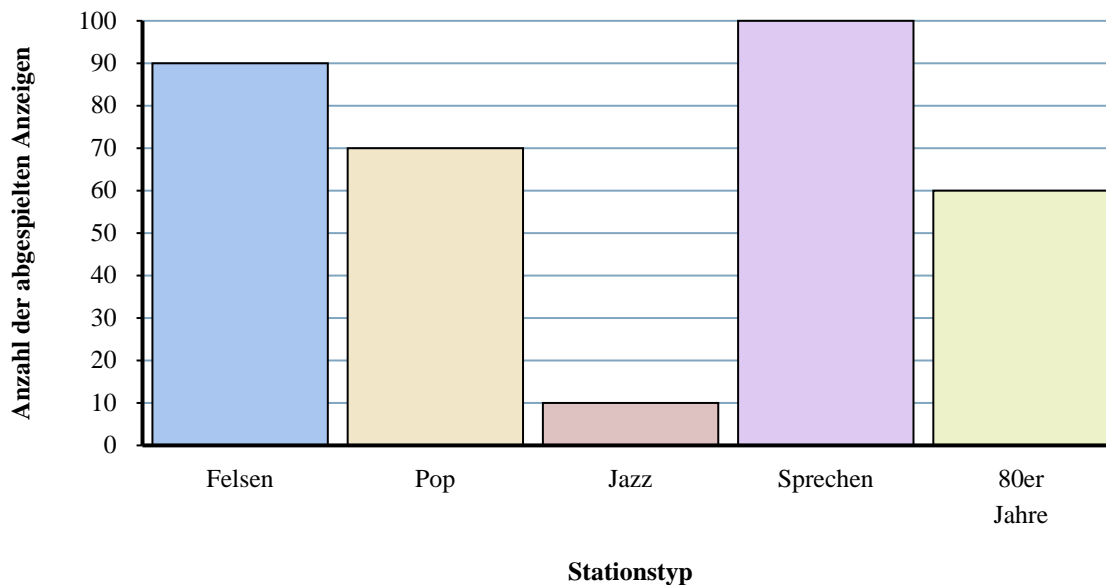
1. **Mario**
2. **Samus**
3. **30**
4. **280**
5. **Pikachu**
6. **20**
7. **Kirby**
8. **80**
9. **30**
10. **Kirby**



Löse jede Aufgabe.

Antworten

Verschiedene Radiosender



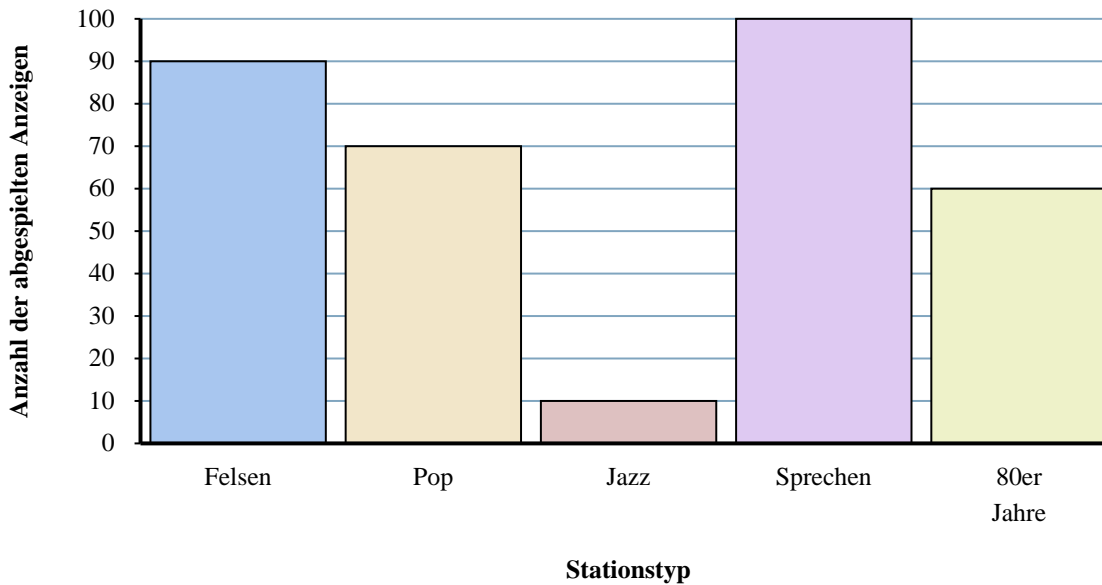
- 1) Gab es mehr Anzeigen auf dem Sender Felsen oder dem Sender Pop?
- 2) Wie viele Anzeigen werden zusammen auf den Sendern Jazz und Pop abgespielt?
- 3) Wie viele Anzeigen weniger hatte der Sender 80er Jahre als der Sender Felsen?
- 4) Welcher Sender hatte die meisten Anzeigen?
- 5) Wie viele Anzeigen hatte der Sender sprechen mehr als der Sender Jazz?
- 6) Was ist der Unterschied zwischen der Anzahl der auf dem Sender Jazz wiedergegebenen Anzeigen und der Anzahl der auf dem Sender Felsen wiedergegebenen Anzeigen?
- 7) Gab es weniger Anzeigen auf dem Sender Felsen oder dem Sender sprechen?
- 8) Wie viele Anzeigen waren auf dem Sender 80er Jahre zu sehen?
- 9) Welcher Sender hatte die wenigsten Anzeigen?
- 10) Wie hoch ist die Gesamtzahl der Anzeigen auf allen Stationen?

1. _____
2. _____
3. _____
4. _____
5. _____
6. _____
7. _____
8. _____
9. _____
10. _____



Löse jede Aufgabe.

Verschiedene Radiosender



- 1) Gab es mehr Anzeigen auf dem Sender Felsen oder dem Sender Pop?
- 2) Wie viele Anzeigen werden zusammen auf den Sendern Jazz und Pop abgespielt?
- 3) Wie viele Anzeigen weniger hatte der Sender 80er Jahre als der Sender Felsen?
- 4) Welcher Sender hatte die meisten Anzeigen?
- 5) Wie viele Anzeigen hatte der Sender sprechen mehr als der Sender Jazz?
- 6) Was ist der Unterschied zwischen der Anzahl der auf dem Sender Jazz wiedergegebenen Anzeigen und der Anzahl der auf dem Sender Felsen wiedergegebenen Anzeigen?
- 7) Gab es weniger Anzeigen auf dem Sender Felsen oder dem Sender sprechen?
- 8) Wie viele Anzeigen waren auf dem Sender 80er Jahre zu sehen?
- 9) Welcher Sender hatte die wenigsten Anzeigen?
- 10) Wie hoch ist die Gesamtzahl der Anzeigen auf allen Stationen?

Antworten

1. **Felsen**
2. **80**
3. **30**
4. **sprechen**
5. **90**
6. **80**
7. **Felsen**
8. **60**
9. **Jazz**
10. **330**