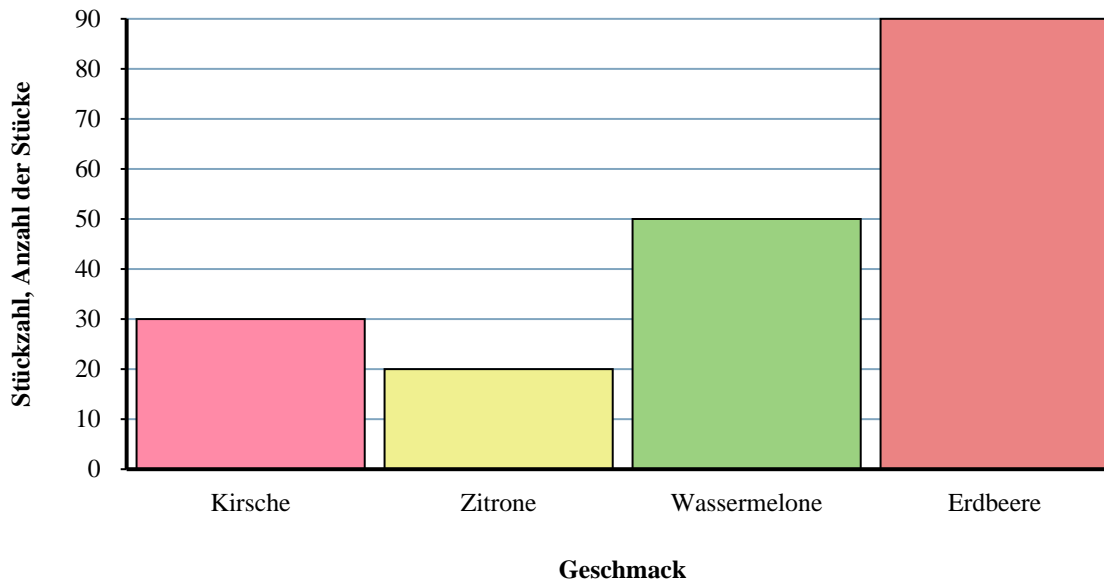




Löse jede Aufgabe.

Jumbo-Tasche Fruit-o Candy

**Antworten**

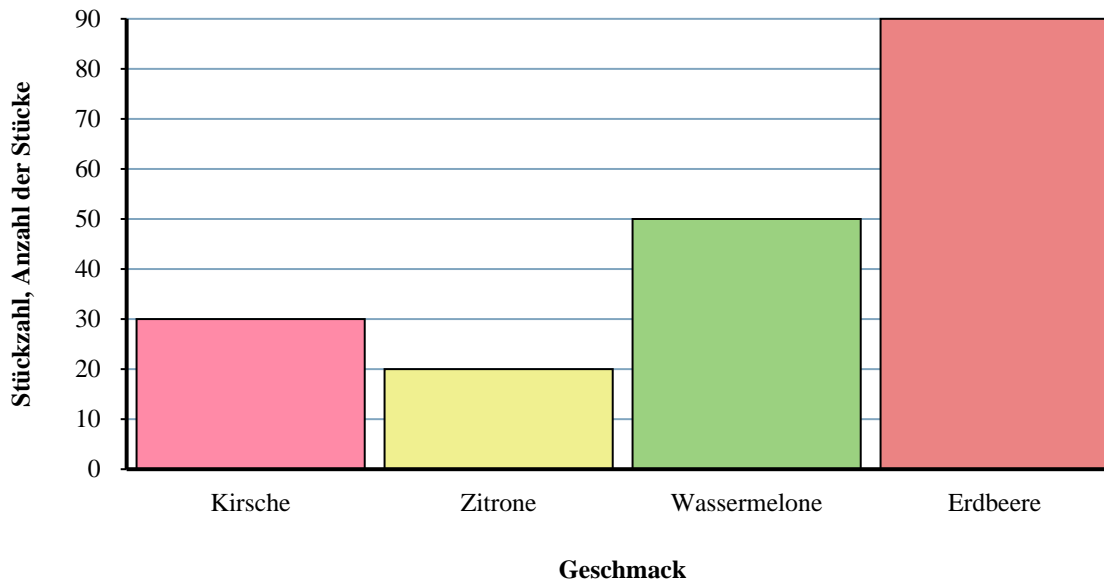
1. _____
2. _____
3. _____
4. _____
5. _____
6. _____
7. _____
8. _____
9. _____
10. _____

- 1) Wie viele Wassermelone-Stücke mehr als Kirsche-Stücke gab es?
- 2) Wie hoch ist die kombinierte Anzahl von Wassermelone- und Erdbeere-Stücken?
- 3) Wie viele Teile waren insgesamt in der Box?
- 4) Welche Sorte hatte die wenigsten Stücke in der Tüte?
- 5) Gab es weniger Kirsche-Stücke oder Zitrone-Stücke?
- 6) Welche Sorte hatte genau 30 Stücke im Beutel?
- 7) Gab es mehr Kirsche-Stücke oder Erdbeere-Stücke?
- 8) Wie viele Zitrone-Stücke weniger als Wassermelone-Stücke gab es?
- 9) Wie viele Stücke waren Wassermelone?
- 10) Was ist der Unterschied in der Anzahl der Zitrone-Stücke und der Anzahl der Erdbeere-Stücke?



Löse jede Aufgabe.

Jumbo-Tasche Fruit-o Candy

**Antworten**

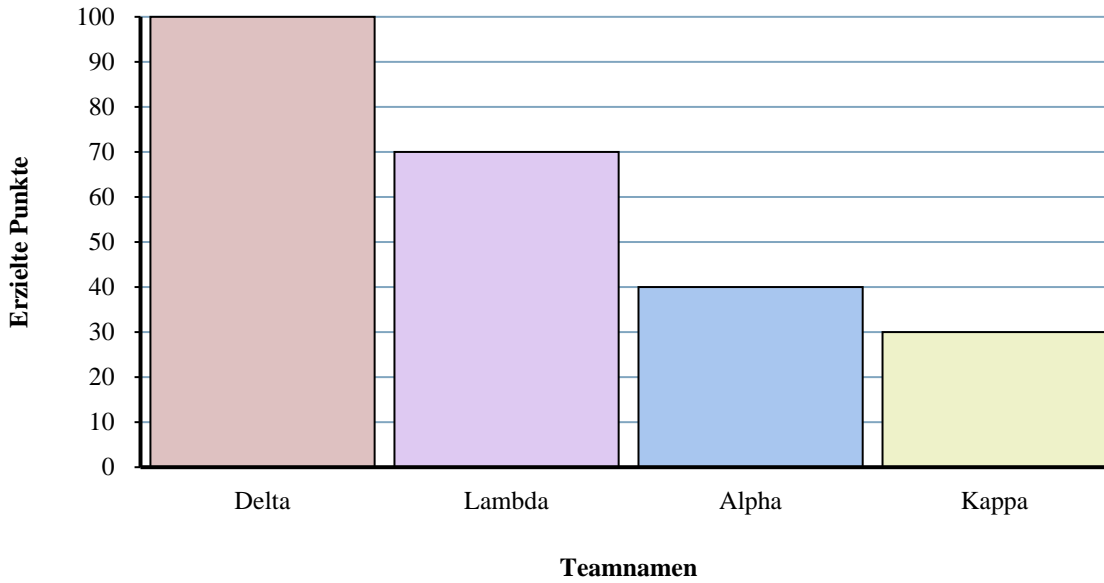
1. 20
2. 140
3. 190
4. Zitrone
5. Zitrone
6. Kirsche
7. Erdbeere
8. 30
9. 50
10. 70

- 1) Wie viele Wassermelone-Stücke mehr als Kirsche-Stücke gab es?
- 2) Wie hoch ist die kombinierte Anzahl von Wassermelone- und Erdbeere-Stücken?
- 3) Wie viele Teile waren insgesamt in der Box?
- 4) Welche Sorte hatte die wenigsten Stücke in der Tüte?
- 5) Gab es weniger Kirsche-Stücke oder Zitrone-Stücke?
- 6) Welche Sorte hatte genau 30 Stücke im Beutel?
- 7) Gab es mehr Kirsche-Stücke oder Erdbeere-Stücke?
- 8) Wie viele Zitrone-Stücke weniger als Wassermelone-Stücke gab es?
- 9) Wie viele Stücke waren Wassermelone?
- 10) Was ist der Unterschied in der Anzahl der Zitrone-Stücke und der Anzahl der Erdbeere-Stücke?



Löse jede Aufgabe.

Trivia-Spielergebnisse



Antworten

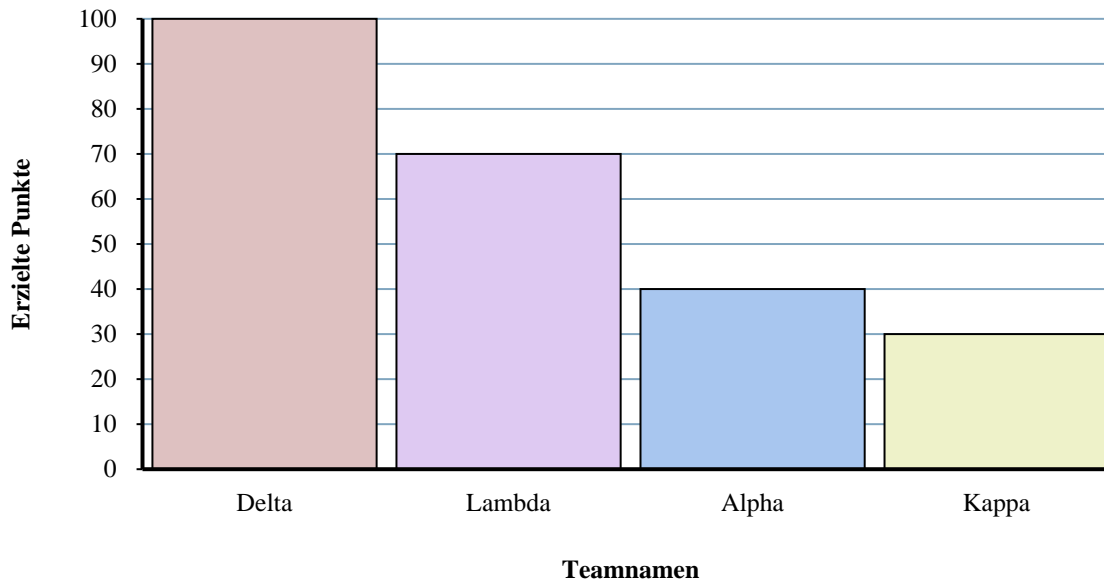
1. _____
2. _____
3. _____
4. _____
5. _____
6. _____
7. _____
8. _____
9. _____
10. _____

- 1) Welches Team hat die meisten Punkte geholt?
- 2) Welches Team hat die wenigsten Punkte geholt?
- 3) Hat Team Lambda oder Team Alpha weniger Punkte erzielt?
- 4) Wie viele Punkte wurden im Spiel insgesamt gesammelt?
- 5) Hat Team Kappa oder Team Lambda mehr Punkte erzielt?
- 6) Wie viele Punkte hat Team Delta erzielt?
- 7) Wie hoch sind die kombinierten Punkte von Kappa und Alpha?
- 8) Wie viele Punkte weniger hat Team Kappa als Team Delta erzielt?
- 9) Welches Team hat 30 Punkte erzielt?
- 10) Was ist der Unterschied zwischen der Anzahl der erzielten Punkte Delta und der Anzahl der erzielten Alpha?



Löse jede Aufgabe.

Trivia-Spielergebnisse



- 1) Welches Team hat die meisten Punkte geholt?
- 2) Welches Team hat die wenigsten Punkte geholt?
- 3) Hat Team Lambda oder Team Alpha weniger Punkte erzielt?
- 4) Wie viele Punkte wurden im Spiel insgesamt gesammelt?
- 5) Hat Team Kappa oder Team Lambda mehr Punkte erzielt?
- 6) Wie viele Punkte hat Team Delta erzielt?
- 7) Wie hoch sind die kombinierten Punkte von Kappa und Alpha?
- 8) Wie viele Punkte weniger hat Team Kappa als Team Delta erzielt?
- 9) Welches Team hat 30 Punkte erzielt?
- 10) Was ist der Unterschied zwischen der Anzahl der erzielten Punkte Delta und der Anzahl der erzielten Alpha?

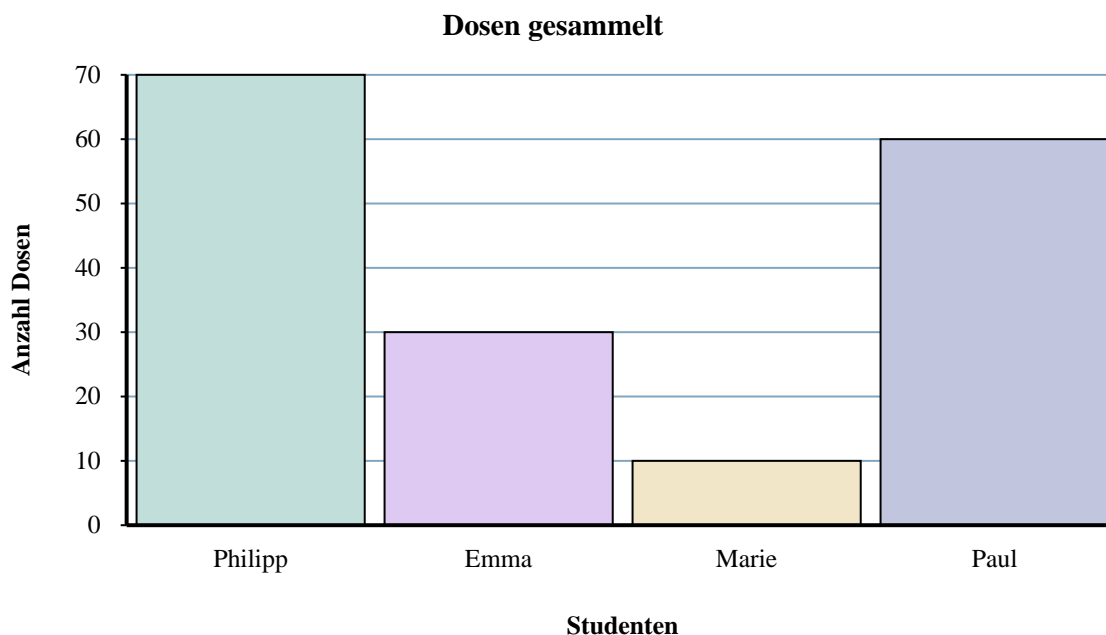
Antworten

1. Delta
2. Kappa
3. Alpha
4. 240
5. Lambda
6. 100
7. 70
8. 70
9. Kappa
10. 60



Löse jede Aufgabe.

Antworten



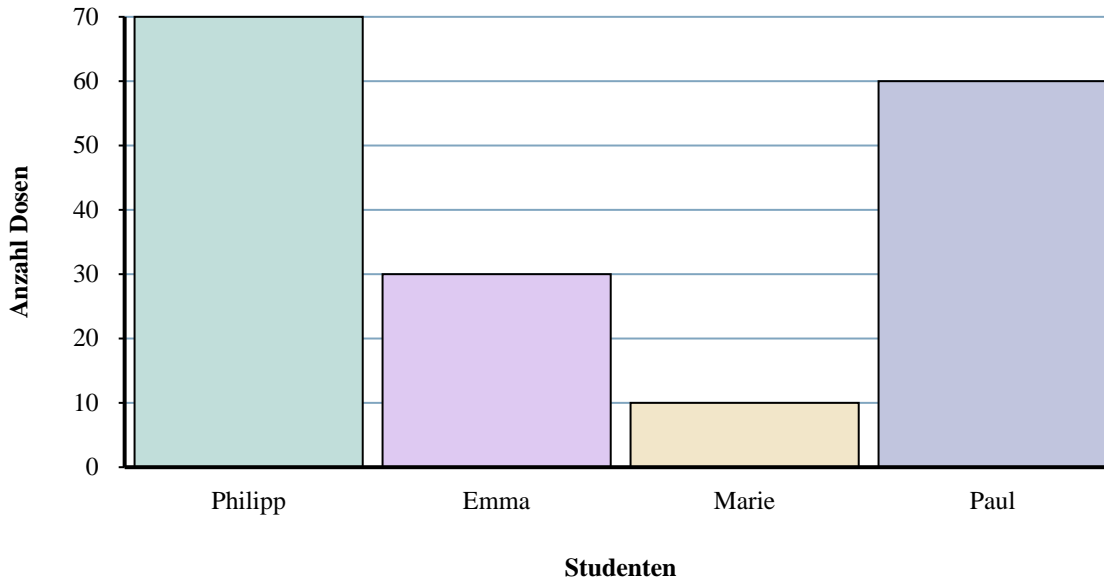
- 1. _____
- 2. _____
- 3. _____
- 4. _____
- 5. _____
- 6. _____
- 7. _____
- 8. _____
- 9. _____
- 10. _____

- 1) Wer hat die meisten Dosen gesammelt?
- 2) Wie viele Dosen haben Philipp gesammelt und Emma gesammelt?
- 3) Wer hat genau 10 Dosen gesammelt?
- 4) Wie viele Dosen weniger hat Emma gesammelt als Paul?
- 5) Wie viele Dosen mehr hat Philipp gesammelt als Marie?
- 6) Wie viele Dosen hat Emma gesammelt?
- 7) Wer hat die wenigsten Dosen gesammelt?
- 8) Was ist der Unterschied zwischen der Anzahl der gesammelten Dosen Philipp und der Anzahl der gesammelten Paul?
- 9) Wie viele Dosen haben alle Schüler insgesamt gesammelt?
- 10) Wer hat weniger Dosen gesammelt? Emma oder Marie?



Löse jede Aufgabe.

Dosen gesammelt



Antworten

1. Philipp
2. 100
3. Marie
4. 30
5. 60
6. 30
7. Marie
8. 10
9. 170
10. Marie

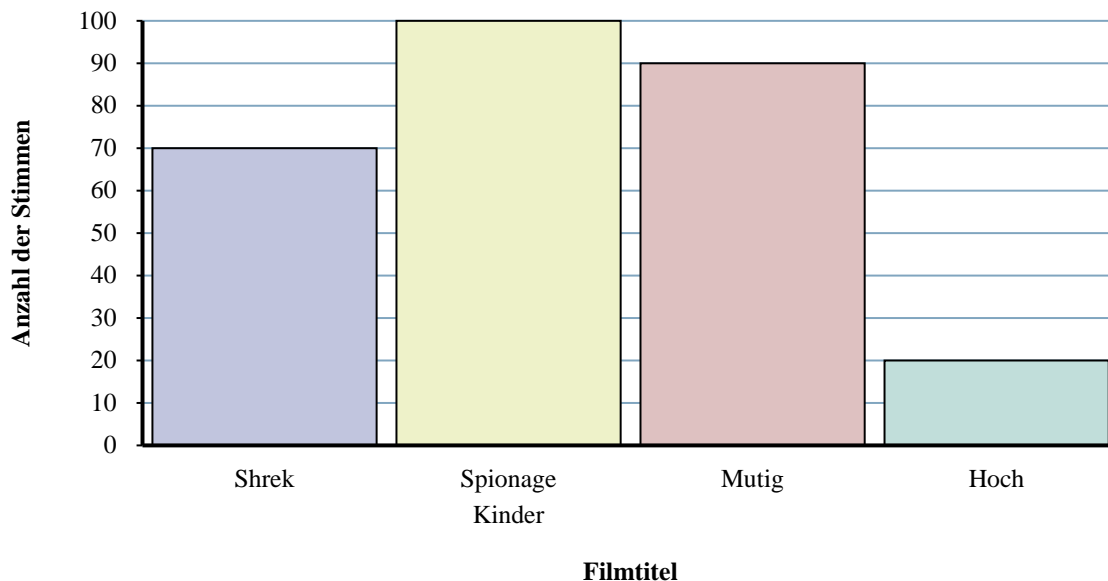
- 1) Wer hat die meisten Dosen gesammelt?
- 2) Wie viele Dosen haben Philipp gesammelt und Emma gesammelt?
- 3) Wer hat genau 10 Dosen gesammelt?
- 4) Wie viele Dosen weniger hat Emma gesammelt als Paul?
- 5) Wie viele Dosen mehr hat Philipp gesammelt als Marie?
- 6) Wie viele Dosen hat Emma gesammelt?
- 7) Wer hat die wenigsten Dosen gesammelt?
- 8) Was ist der Unterschied zwischen der Anzahl der gesammelten Dosen Philipp und der Anzahl der gesammelten Paul?
- 9) Wie viele Dosen haben alle Schüler insgesamt gesammelt?
- 10) Wer hat weniger Dosen gesammelt? Emma oder Marie?



Löse jede Aufgabe.

Antworten

Welcher Film zum Anschauen



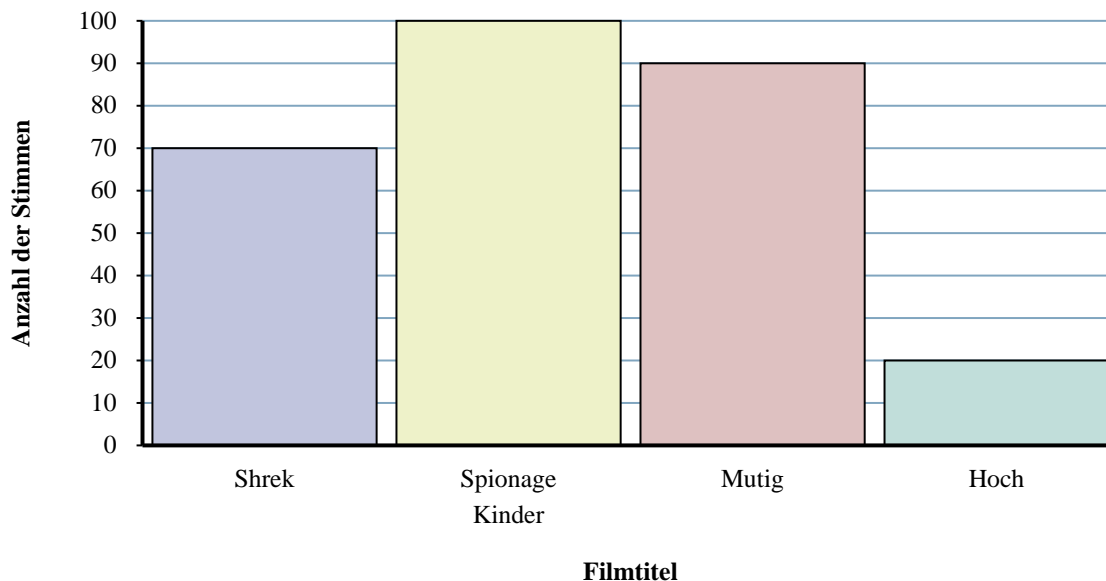
- 1) Wie viele Leute haben für Shrek gestimmt?
- 2) Welcher Film hat die meisten Stimmen bekommen?
- 3) Welcher Film hat die wenigsten Stimmen bekommen?
- 4) Wie viele Stimmen weniger hat Hoch erhalten als Spionage Kinder?
- 5) Welcher Film hat genau 20 Stimmen erhalten?
- 6) Haben weniger Schüler für Mutig oder Spionage Kinder gestimmt?
- 7) Was ist der Unterschied zwischen der Anzahl der Personen, die für Mutig gestimmt haben, und der Anzahl der Personen, die für Shrek gestimmt haben?
- 8) Wie viele Studierende haben insgesamt gewählt?
- 9) Wie viele Stimmen mehr hat Spionage Kinder erhalten als Shrek?
- 10) Wie viele Personen haben zusammen für Hoch und Shrek gestimmt?

1. _____
2. _____
3. _____
4. _____
5. _____
6. _____
7. _____
8. _____
9. _____
10. _____



Löse jede Aufgabe.

Welcher Film zum Anschauen



Antworten

- 1) Wie viele Leute haben für Shrek gestimmt?
- 2) Welcher Film hat die meisten Stimmen bekommen?
- 3) Welcher Film hat die wenigsten Stimmen bekommen?
- 4) Wie viele Stimmen weniger hat Hoch erhalten als Spionage Kinder?
- 5) Welcher Film hat genau 20 Stimmen erhalten?
- 6) Haben weniger Schüler für Mutig oder Spionage Kinder gestimmt?
- 7) Was ist der Unterschied zwischen der Anzahl der Personen, die für Mutig gestimmt haben, und der Anzahl der Personen, die für Shrek gestimmt haben?
- 8) Wie viele Studierende haben insgesamt gewählt?
- 9) Wie viele Stimmen mehr hat Spionage Kinder erhalten als Shrek?
- 10) Wie viele Personen haben zusammen für Hoch und Shrek gestimmt?

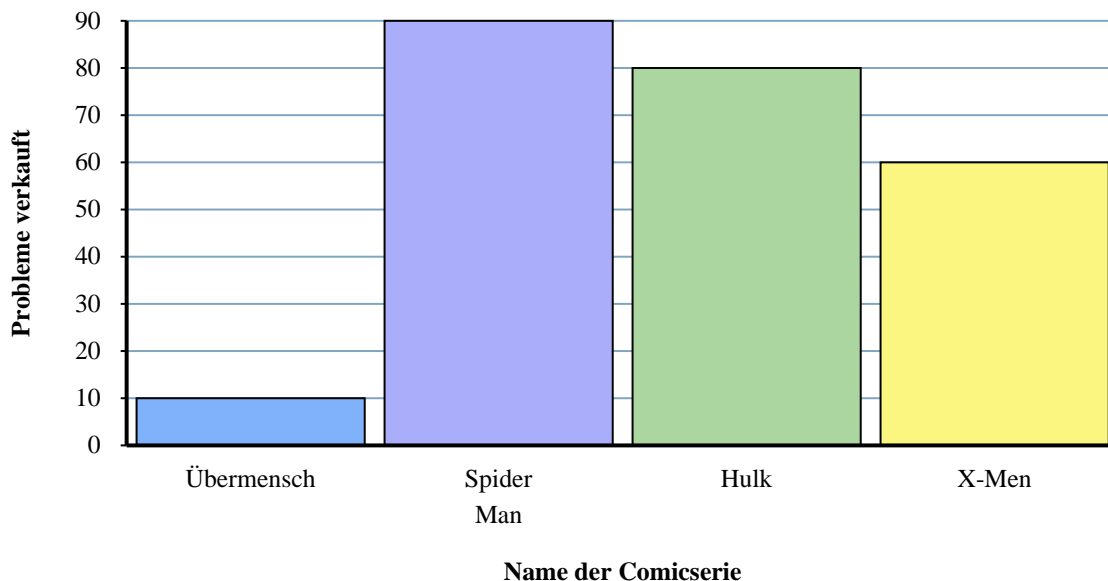
1. 70
2. Spionage Kinder
3. Hoch
4. 80
5. Hoch
6. Mutig
7. 20
8. 280
9. 30
10. 90



Löse jede Aufgabe.

Antworten

Comic-Bücher verkauft



- 1) Was ist der Unterschied zwischen der Anzahl der verkauften Spider Man-Ausgaben und der Anzahl der verkauften Übermensch-Ausgaben?
- 2) Wie viele Ausgaben von Übermensch wurden verkauft?
- 3) Welche Comicserie hat genau 60 Ausgaben verkauft?
- 4) Welche Comicserie verkaufte sich mehr, Hulk oder X-Men?
- 5) Wie viele Ausgaben wurden von allen Comics insgesamt verkauft?
- 6) Wie viele Ausgaben von Spider Man wurden mehr verkauft als Ausgaben von Hulk?
- 7) Wie viele Ausgaben von Übermensch wurden weniger verkauft als Ausgaben von X-Men?
- 8) Wie viele Ausgaben wurden zusammen mit Übermensch und Hulk verkauft?
- 9) Welche Comicserie verkaufte sich am wenigsten?
- 10) Welche Comicserie verkaufte sich am meisten?

1. _____

2. _____

3. _____

4. _____

5. _____

6. _____

7. _____

8. _____

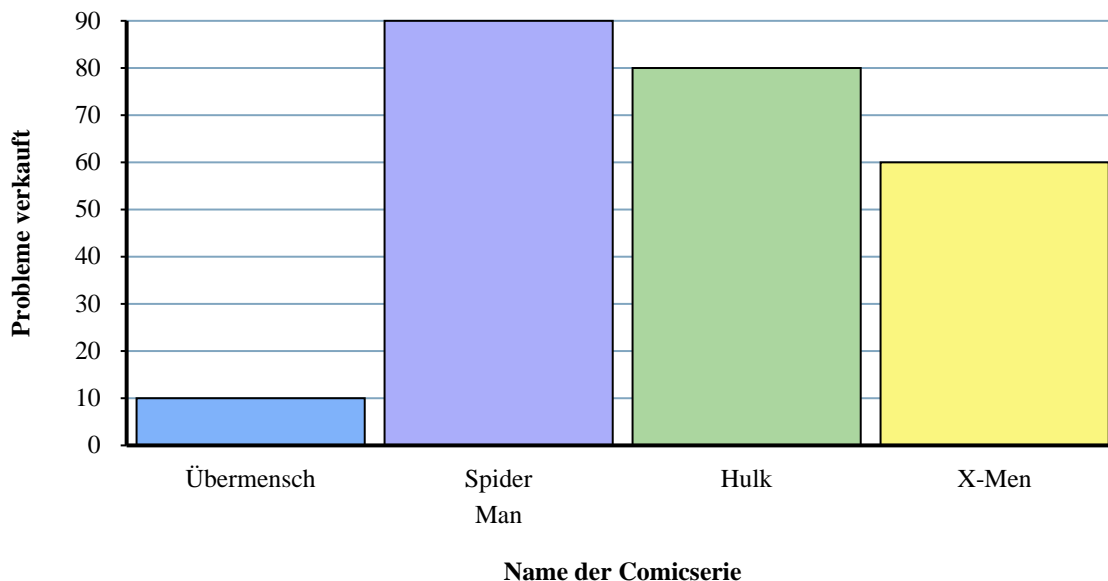
9. _____

10. _____



Löse jede Aufgabe.

Comic-Bücher verkauft



- 1) Was ist der Unterschied zwischen der Anzahl der verkauften Spider Man-Ausgaben und der Anzahl der verkauften Übermensch-Ausgaben?
- 2) Wie viele Ausgaben von Übermensch wurden verkauft?
- 3) Welche Comicserie hat genau 60 Ausgaben verkauft?
- 4) Welche Comicserie verkaufte sich mehr, Hulk oder X-Men?
- 5) Wie viele Ausgaben wurden von allen Comics insgesamt verkauft?
- 6) Wie viele Ausgaben von Spider Man wurden mehr verkauft als Ausgaben von Hulk?
- 7) Wie viele Ausgaben von Übermensch wurden weniger verkauft als Ausgaben von X-Men?
- 8) Wie viele Ausgaben wurden zusammen mit Übermensch und Hulk verkauft?
- 9) Welche Comicserie verkaufte sich am wenigsten?
- 10) Welche Comicserie verkaufte sich am meisten?

Antworten

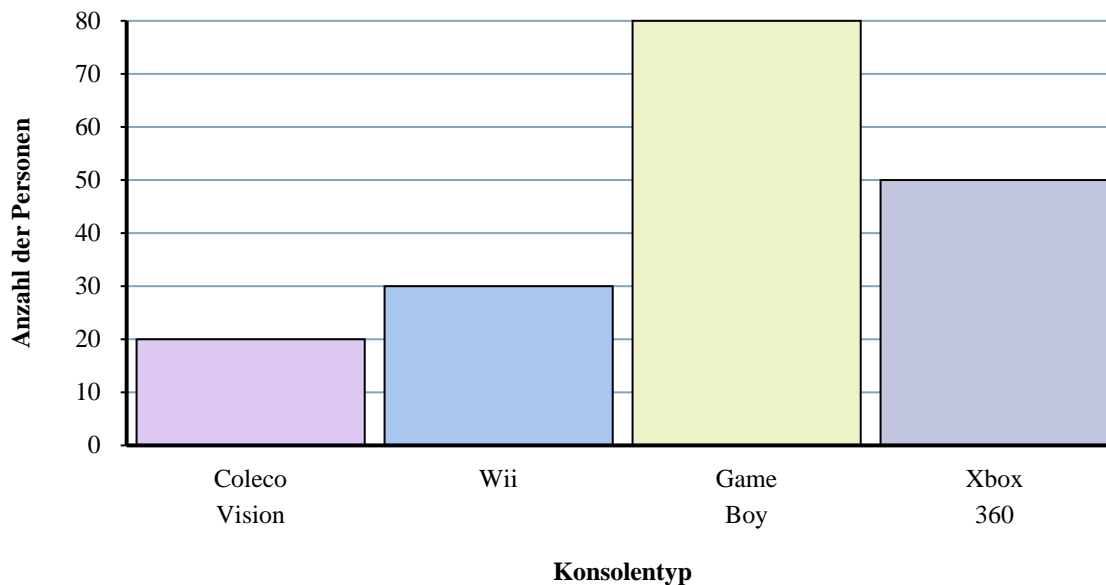
1. 80
2. 10
3. X-Men
4. Hulk
5. 240
6. 10
7. 50
8. 90
9. Übermensch
10. Spider Man



Löse jede Aufgabe.

Antworten

Konsolenbesitz

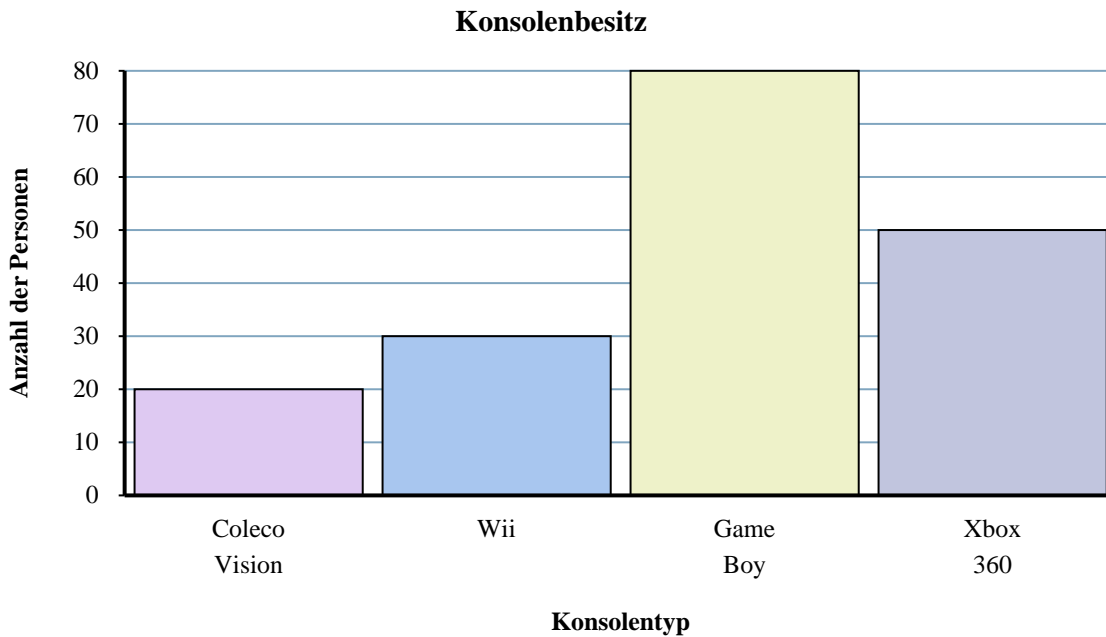


1. _____
2. _____
3. _____
4. _____
5. _____
6. _____
7. _____
8. _____
9. _____
10. _____

- 1) Wie viele besitzen zusammen Xbox 360s und Gameboys?
- 2) Welche Konsole besaßen genau 30 Personen?
- 3) Wie viele mehr Personen besaßen einen Game Boy als einen Coleco Vision?
- 4) Was ist der Unterschied zwischen der Anzahl der Besitzer eines Xbox 360 und der Anzahl der Besitzer eines Wii?
- 5) Welche Konsole besaßen die wenigsten Leute?
- 6) Wie viele weniger Personen besaßen einen Coleco Vision als einen Wii?
- 7) Wie viele Personen besaßen einen Xbox 360?
- 8) Wie viele Konsolen besaßen die Leute insgesamt?
- 9) Besitzen weniger Leute eine Xbox 360 oder eine Coleco Vision?
- 10) Besitzen mehr Personen eine Gameboys oder eine Wiis?



Löse jede Aufgabe.

**Antworten**

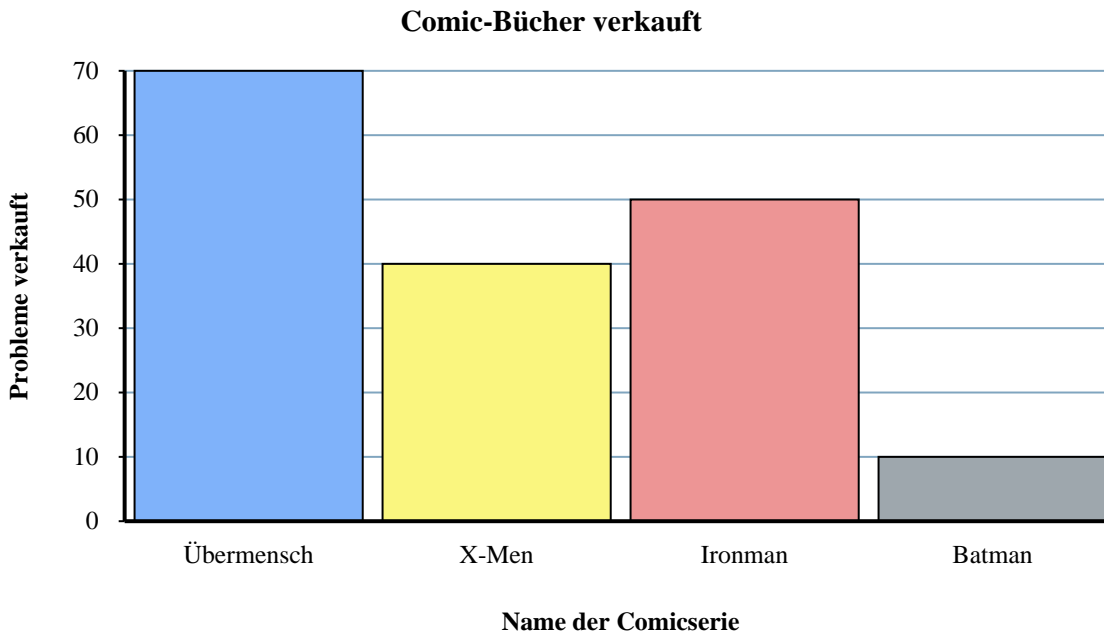
1. 130
2. Wii
3. 60
4. 20
5. Coleco Vision
6. 10
7. 50
8. 180
9. Coleco Vision
10. Game Boy

- 1) Wie viele besitzen zusammen Xbox 360s und Gameboys?
- 2) Welche Konsole besaßen genau 30 Personen?
- 3) Wie viele mehr Personen besaßen einen Game Boy als einen Coleco Vision?
- 4) Was ist der Unterschied zwischen der Anzahl der Besitzer eines Xbox 360 und der Anzahl der Besitzer eines Wii?
- 5) Welche Konsole besaßen die wenigsten Leute?
- 6) Wie viele weniger Personen besaßen einen Coleco Vision als einen Wii?
- 7) Wie viele Personen besaßen einen Xbox 360?
- 8) Wie viele Konsolen besaßen die Leute insgesamt?
- 9) Besitzen weniger Leute eine Xbox 360 oder eine Coleco Vision?
- 10) Besitzen mehr Personen eine Gameboys oder eine Wiis?



Löse jede Aufgabe.

Antworten

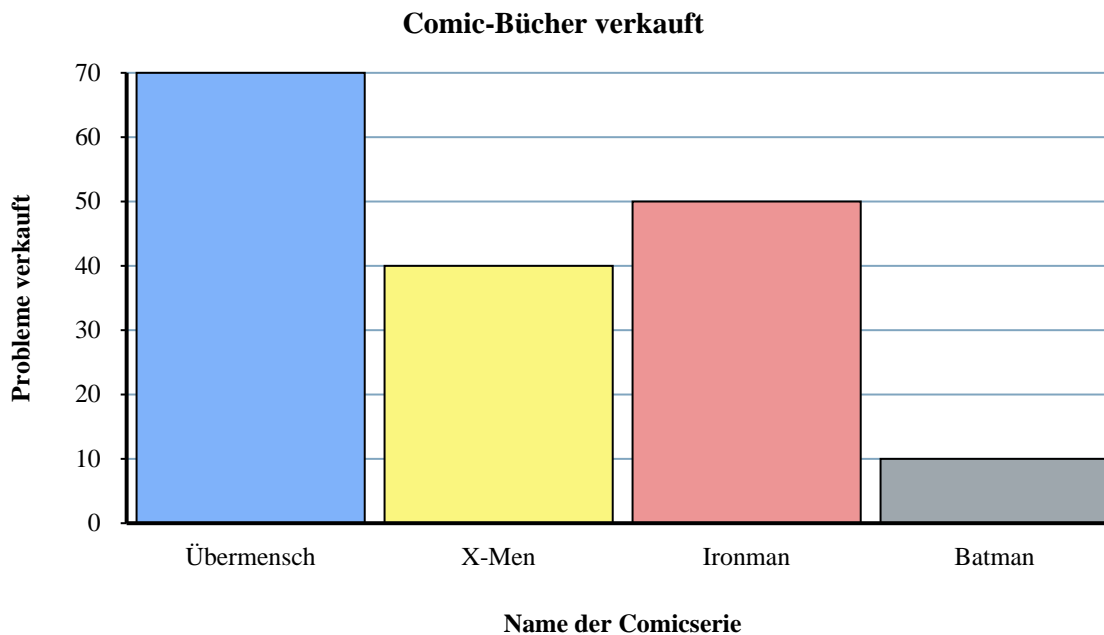


- 1) Wie viele Ausgaben von Batman wurden weniger verkauft als Ausgaben von Übermensch?
- 2) Wie viele Ausgaben von Ironman wurden mehr verkauft als Ausgaben von X-Men?
- 3) Welche Comicserie verkaufte sich am meisten?
- 4) Welche Comicserie verkaufte sich mehr, X-Men oder Übermensch?
- 5) Was ist der Unterschied zwischen der Anzahl der verkauften Batman-Ausgaben und der Anzahl der verkauften Ironman-Ausgaben?
- 6) Wie viele Ausgaben wurden zusammen mit X-Men und Batman verkauft?
- 7) Welche Ausgaben wurden weniger verkauft, Ausgaben von Ironman oder Ausgaben von Übermensch?
- 8) Wie viele Ausgaben wurden von allen Comics insgesamt verkauft?
- 9) Wie viele Ausgaben von Ironman wurden verkauft?
- 10) Welche Comicserie hat genau 10 Ausgaben verkauft?

1. _____
2. _____
3. _____
4. _____
5. _____
6. _____
7. _____
8. _____
9. _____
10. _____



Löse jede Aufgabe.



- 1) Wie viele Ausgaben von Batman wurden weniger verkauft als Ausgaben von Übermensch?
- 2) Wie viele Ausgaben von Ironman wurden mehr verkauft als Ausgaben von X-Men?
- 3) Welche Comicserie verkaufte sich am meisten?
- 4) Welche Comicserie verkaufte sich mehr, X-Men oder Übermensch?
- 5) Was ist der Unterschied zwischen der Anzahl der verkauften Batman-Ausgaben und der Anzahl der verkauften Ironman-Ausgaben?
- 6) Wie viele Ausgaben wurden zusammen mit X-Men und Batman verkauft?
- 7) Welche Ausgaben wurden weniger verkauft, Ausgaben von Ironman oder Ausgaben von Übermensch?
- 8) Wie viele Ausgaben wurden von allen Comics insgesamt verkauft?
- 9) Wie viele Ausgaben von Ironman wurden verkauft?
- 10) Welche Comicserie hat genau 10 Ausgaben verkauft?

Antworten

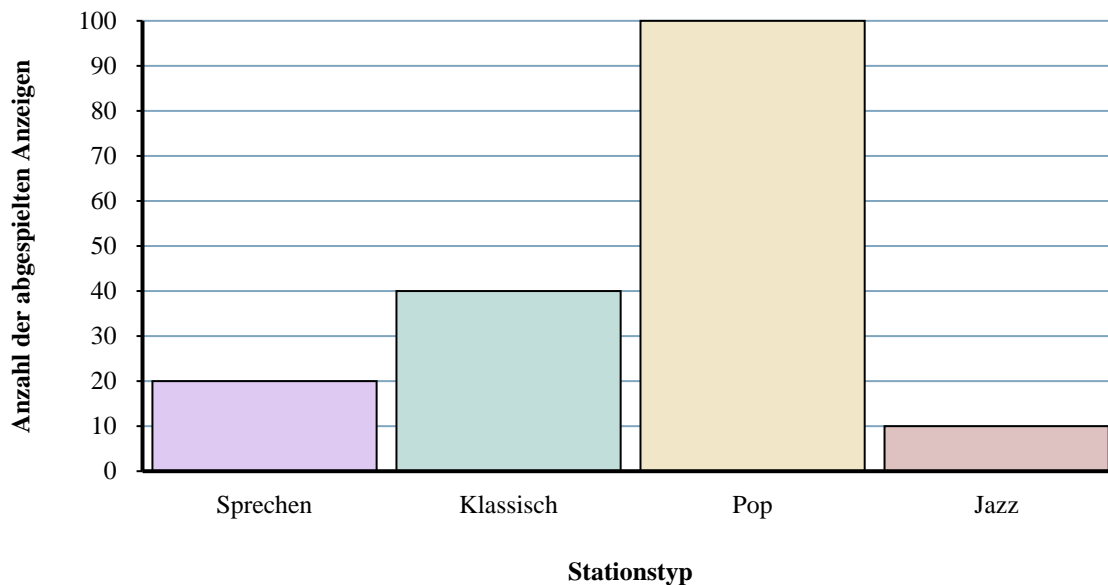
1. 60
2. 10
3. Übermensch
4. Übermensch
5. 40
6. 50
7. Ironman
8. 170
9. 50
10. Batman



Löse jede Aufgabe.

Antworten

Verschiedene Radiosender



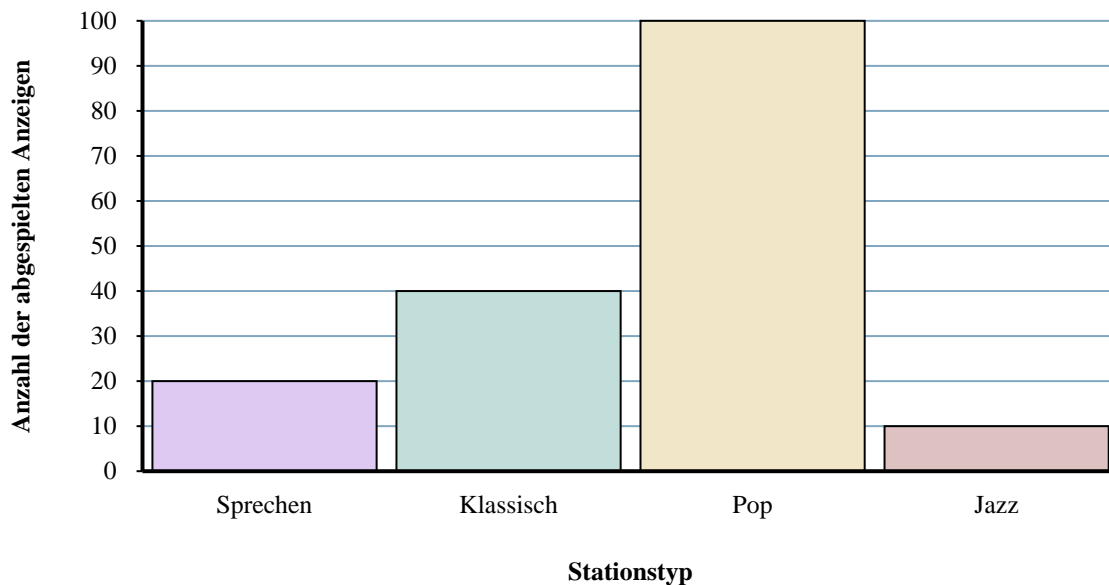
- 1) Wie viele Anzeigen hatte der Sender klassisch mehr als der Sender sprechen?
- 2) Wie viele Anzeigen weniger hatte der Sender Jazz als der Sender sprechen?
- 3) Wie hoch ist die Gesamtzahl der Anzeigen auf allen Stationen?
- 4) Wie viele Anzeigen werden zusammen auf den Sendern Jazz und klassisch abgespielt?
- 5) Welcher Sender hatte die meisten Anzeigen?
- 6) Wie viele Anzeigen waren auf dem Sender Pop zu sehen?
- 7) Gab es mehr Anzeigen auf dem Sender Pop oder dem Sender klassisch?
- 8) Welcher Sender hatte genau 10-Anzeigen?
- 9) Gab es weniger Anzeigen auf dem Sender Pop oder dem Sender sprechen?
- 10) Welcher Sender hatte die wenigsten Anzeigen?

1. _____
2. _____
3. _____
4. _____
5. _____
6. _____
7. _____
8. _____
9. _____
10. _____



Löse jede Aufgabe.

Verschiedene Radiosender



- 1) Wie viele Anzeigen hatte der Sender klassisch mehr als der Sender sprechen?
- 2) Wie viele Anzeigen weniger hatte der Sender Jazz als der Sender sprechen?
- 3) Wie hoch ist die Gesamtzahl der Anzeigen auf allen Stationen?
- 4) Wie viele Anzeigen werden zusammen auf den Sendern Jazz und klassisch abgespielt?
- 5) Welcher Sender hatte die meisten Anzeigen?
- 6) Wie viele Anzeigen waren auf dem Sender Pop zu sehen?
- 7) Gab es mehr Anzeigen auf dem Sender Pop oder dem Sender klassisch?
- 8) Welcher Sender hatte genau 10-Anzeigen?
- 9) Gab es weniger Anzeigen auf dem Sender Pop oder dem Sender sprechen?
- 10) Welcher Sender hatte die wenigsten Anzeigen?

Antworten

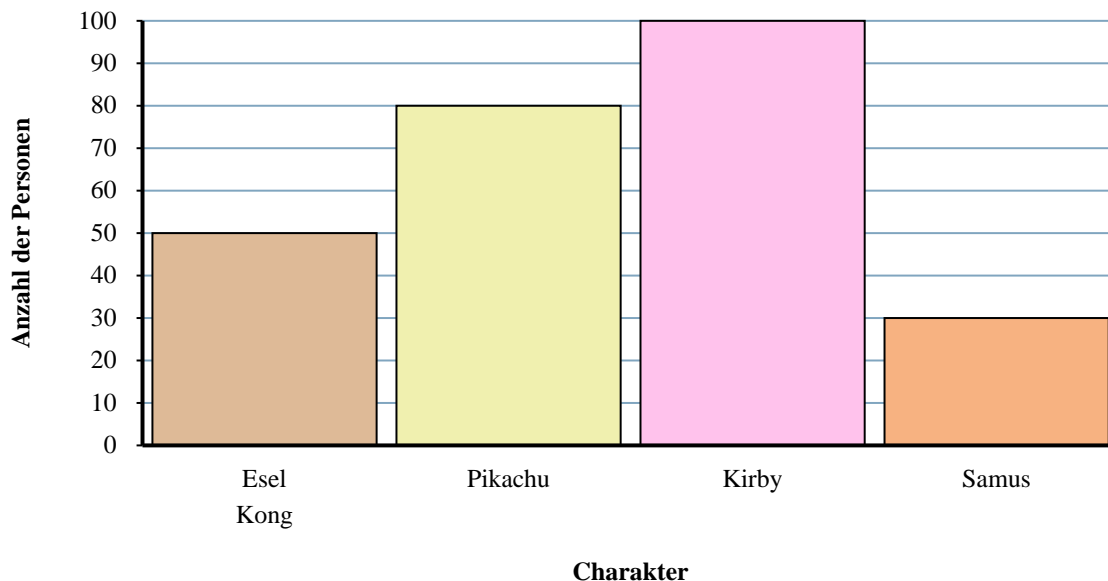
1. **20**
2. **10**
3. **170**
4. **50**
5. **Pop**
6. **100**
7. **Pop**
8. **Jazz**
9. **sprechen**
10. **Jazz**



Löse jede Aufgabe.

Antworten

Lieblingsspielcharaktere



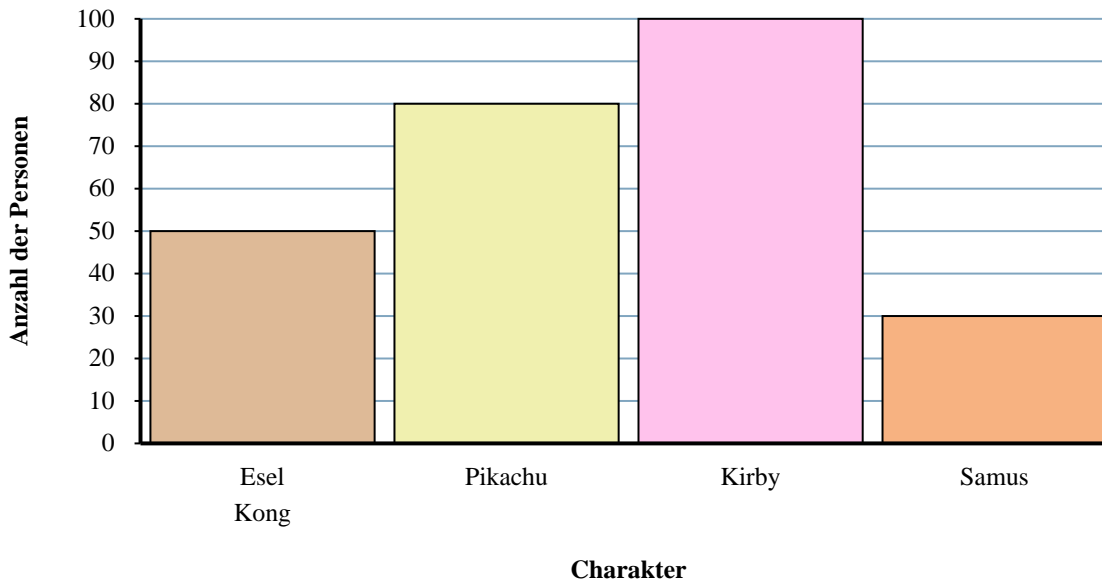
1. _____
2. _____
3. _____
4. _____
5. _____
6. _____
7. _____
8. _____
9. _____
10. _____

- 1) Welche Figur haben die wenigsten Leute als ihren Favoriten bezeichnet?
- 2) Haben mehr Leute Kirby oder Samus mögen?
- 3) Wie vielen Leuten hat Pikachu am besten gefallen?
- 4) Wie viele Personen haben insgesamt an der Umfrage teilgenommen?
- 5) Haben weniger Leute Samus oder Pikachu gemocht?
- 6) Wie viele weniger Leute mochten Samus als Esel Kong?
- 7) Welche Figur hat die größte Anzahl von Leuten als ihr Favorit bezeichnet?
- 8) Wie vielen mehr Personen hat Pikachu gefallen als Esel Kong?
- 9) Was ist der Unterschied zwischen der Anzahl der Personen, die Esel Kong mochten, und der Anzahl derjenigen, die Kirby mochten?
- 10) Welcher Charakter wurde von 100-Leuten als ihr Lieblingscharakter bezeichnet?



Löse jede Aufgabe.

Lieblingsspielcharaktere

Antworten

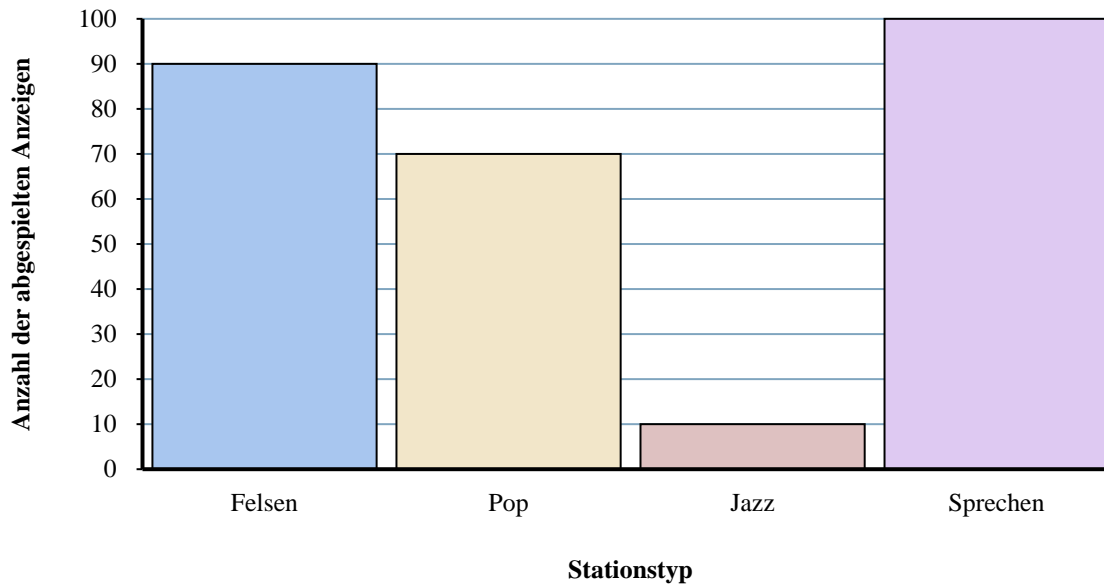
- 1) Welche Figur haben die wenigsten Leute als ihren Favoriten bezeichnet?
- 2) Haben mehr Leute Kirby oder Samus mögen?
- 3) Wie vielen Leuten hat Pikachu am besten gefallen?
- 4) Wie viele Personen haben insgesamt an der Umfrage teilgenommen?
- 5) Haben weniger Leute Samus oder Pikachu gemocht?
- 6) Wie viele weniger Leute mochten Samus als Esel Kong?
- 7) Welche Figur hat die größte Anzahl von Leuten als ihr Favorit bezeichnet?
- 8) Wie vielen mehr Personen hat Pikachu gefallen als Esel Kong?
- 9) Was ist der Unterschied zwischen der Anzahl der Personen, die Esel Kong mochten, und der Anzahl derjenigen, die Kirby mochten?
- 10) Welcher Charakter wurde von 100-Leuten als ihr Lieblingscharakter bezeichnet?

1. **Samus**
2. **Kirby**
3. **80**
4. **260**
5. **Samus**
6. **20**
7. **Kirby**
8. **30**
9. **50**
10. **Kirby**



Löse jede Aufgabe.

Verschiedene Radiosender

**Antworten**

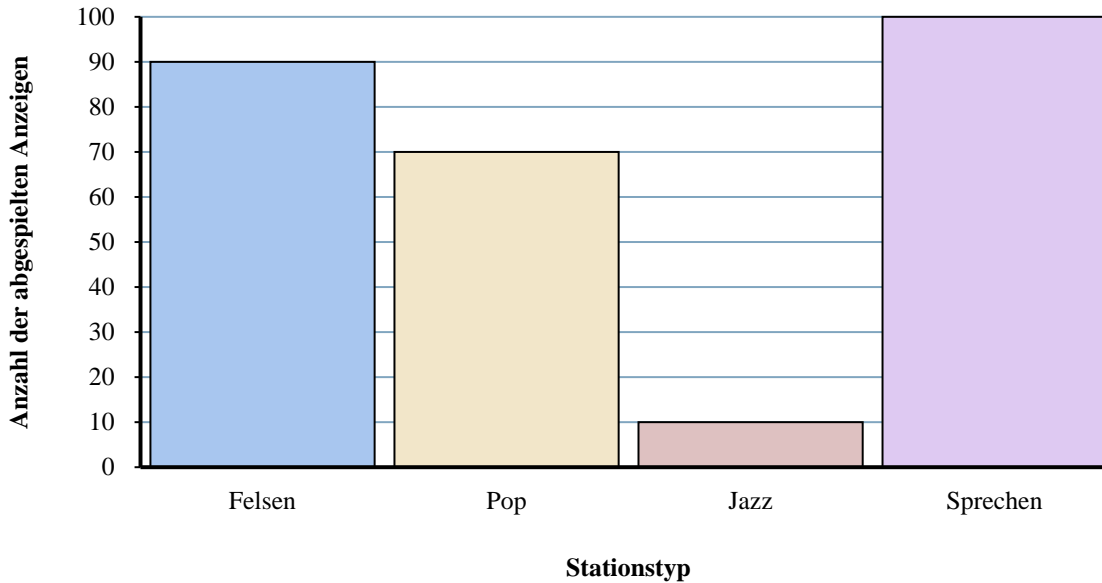
1. _____
2. _____
3. _____
4. _____
5. _____
6. _____
7. _____
8. _____
9. _____
10. _____

- 1) Gab es mehr Anzeigen auf dem Sender Jazz oder dem Sender sprechen?
- 2) Wie viele Anzeigen werden zusammen auf den Sendern Pop und Jazz abgespielt?
- 3) Wie viele Anzeigen weniger hatte der Sender Pop als der Sender sprechen?
- 4) Welcher Sender hatte die meisten Anzeigen?
- 5) Wie viele Anzeigen hatte der Sender Felsen mehr als der Sender Pop?
- 6) Was ist der Unterschied zwischen der Anzahl der auf dem Sender Felsen wiedergegebenen Anzeigen und der Anzahl der auf dem Sender sprechen wiedergegebenen Anzeigen?
- 7) Gab es weniger Anzeigen auf dem Sender Felsen oder dem Sender Jazz?
- 8) Wie viele Anzeigen waren auf dem Sender Jazz zu sehen?
- 9) Welcher Sender hatte die wenigsten Anzeigen?
- 10) Wie hoch ist die Gesamtzahl der Anzeigen auf allen Stationen?



Löse jede Aufgabe.

Verschiedene Radiosender



- 1) Gab es mehr Anzeigen auf dem Sender Jazz oder dem Sender sprechen?
- 2) Wie viele Anzeigen werden zusammen auf den Sendern Pop und Jazz abgespielt?
- 3) Wie viele Anzeigen weniger hatte der Sender Pop als der Sender sprechen?
- 4) Welcher Sender hatte die meisten Anzeigen?
- 5) Wie viele Anzeigen hatte der Sender Felsen mehr als der Sender Pop?
- 6) Was ist der Unterschied zwischen der Anzahl der auf dem Sender Felsen wiedergegebenen Anzeigen und der Anzahl der auf dem Sender sprechen wiedergegebenen Anzeigen?
- 7) Gab es weniger Anzeigen auf dem Sender Felsen oder dem Sender Jazz?
- 8) Wie viele Anzeigen waren auf dem Sender Jazz zu sehen?
- 9) Welcher Sender hatte die wenigsten Anzeigen?
- 10) Wie hoch ist die Gesamtzahl der Anzeigen auf allen Stationen?

Antworten

1. sprechen
2. 80
3. 30
4. sprechen
5. 20
6. 10
7. Jazz
8. 10
9. Jazz
10. 270