



Bestimme, ob der gezeigte Winkel 'mehr', 'weniger' oder 'gleich' 90° ist.

Antworten

Bsp)

Bsp. weniger

1. _____

2. _____

3. _____

4. _____

5. _____

6. _____

7. _____

8. _____

9. _____

10. _____

11. _____

12. _____

13. _____

14. _____

15. _____

16. _____

17. _____

18. _____

19. _____

20. _____

1)



2)



3)



4)



5)



6)



7)



8)



9)




10)



11)



12)



13)



14)



15)



16)



17)



18)



19)



20)





Bestimme, ob der gezeigte Winkel 'mehr', 'weniger' oder 'gleich' 90° ist.

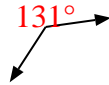
Antworten

Bsp)

Bsp. weniger



1)



2)



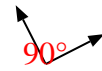
1. mehr

2. mehr

3)



4)



5)



3. weniger

4. gleich

6)



7)



8)



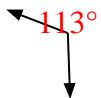
5. mehr

6. gleich

7. gleich

8. gleich

9)



10)



11)



9. mehr

10. weniger

11. gleich

12)



13)



14)



12. mehr

13. mehr

14. weniger

15)



16)



17)

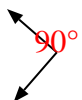


15. weniger

16. gleich

17. weniger

18)



19)



20)



18. gleich

19. mehr

20. gleich