



Bestimme, welcher Buchstabe am besten das Gewicht des Objekts darstellt.


Antworten

Onza (oz)

Libra (lb)

Una onza es aproximadamente el peso de una rebanada de pan.

Uma libra é mais ou menos o peso de uma lata de vegetais.



Recordar:
Hay 16 onzas en 1 libra.

- 1. _____
- 2. _____
- 3. _____
- 4. _____
- 5. _____
- 6. _____
- 7. _____
- 8. _____
- 9. _____

1)



Kerze

- A. 1 Pfund
- B. 0.2 Unzen
- C. 16 Unzen
- D. 20 amerikanische Pfund

2)



Fahrrad

- A. 4 Unzen
- B. 30 amerikanische Pfund
- C. 0.53 Unzen
- D. 220 amerikanische Pfund


3)



DVD

- A. 16 Unzen
- B. 0.6 amerikanische Pfund
- C. 2.5 amerikanische Pfund
- D. 1 Pfund

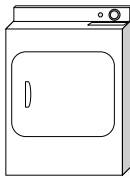
4)



Notizbuch Papier

- A. 2 amerikanische Pfund
- B. 0.1 Unzen
- C. 3 Unzen
- D. 10 Unzen

5)



Wäschetrockner

- A. 160 Unzen
- B. 7 amerikanische Pfund
- C. 110 amerikanische Pfund
- D. 1 Unze

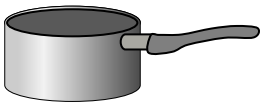
6)



Insekt

- A. 2 amerikanische Pfund
- B. 110 amerikanische Pfund
- C. 0.04 Unzen
- D. 2 Unzen


7)



Kochtopf

- A. 1.7 Unzen
- B. 5 Unzen
- C. 4 amerikanische Pfund
- D. 0.01 Unzen

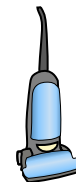
8)



Elefant

- A. 15 Unzen
- B. 11000 amerikanische Pfund
- C. 4000 Unzen
- D. 300 amerikanische Pfund

9)



Vakuum


- A. 3 Unzen
- B. 2 Unzen
- C. 1100 amerikanische Pfund
- D. 35 amerikanische Pfund



Bestimme, welcher Buchstabe am besten das Gewicht des Objekts darstellt.

Antworten**Onza (oz)**

Una onza es aproximadamente el peso de una rebanada de pan.

**Libra (lb)**

Uma libra é mais ou menos o peso de uma lata de vegetais.

**Recordar:**

Hay 16 onzas en 1 libra.

1)



Kerze

- A. 1 Pfund
- B. 0.2 Unzen
- C. 16 Unzen
- D. 20 amerikanische Pfund

2)



Fahrrad

- A. 4 Unzen
- B. 30 amerikanische Pfund
- C. 0.53 Unzen
- D. 220 amerikanische Pfund


3)



DVD

- A. 16 Unzen
- B. 0.6 amerikanische Pfund
- C. 2.5 amerikanische Pfund
- D. 1 Pfund

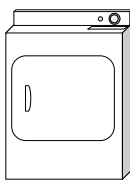
4)



Notizbuch Papier

- A. 2 amerikanische Pfund
- B. 0.1 Unzen
- C. 3 Unzen
- D. 10 Unzen

5)



Wäschetrockner

- A. 160 Unzen
- B. 7 amerikanische Pfund
- C. 110 amerikanische Pfund
- D. 1 Unze

6)



Insekt

- A. 2 amerikanische Pfund
- B. 110 amerikanische Pfund
- C. 0.04 Unzen
- D. 2 Unzen


7)



Kochtopf

- A. 1.7 Unzen
- B. 5 Unzen
- C. 4 amerikanische Pfund
- D. 0.01 Unzen

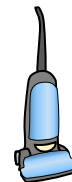
8)



Elefant

- A. 15 Unzen
- B. 11000 amerikanische Pfund
- C. 4000 Unzen
- D. 300 amerikanische Pfund

9)



Vakuum

- A. 3 Unzen
- B. 2 Unzen
- C. 1100 amerikanische Pfund
- D. 35 amerikanische Pfund

1. **B**
2. **B**
3. **B**
4. **B**
5. **C**
6. **C**
7. **C**
8. **B**
9. **D**



Bestimme, welcher Buchstabe am besten das Gewicht des Objekts darstellt.


Antworten

Onza (oz)

Libra (lb)

Una onza es aproximadamente el peso de una rebanada de pan.

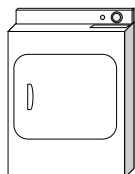
Uma libra é mais ou menos o peso de uma lata de vegetais.



Recordar:
Hay 16 onzas en 1 libra.

- 1. _____
- 2. _____
- 3. _____
- 4. _____
- 5. _____
- 6. _____
- 7. _____
- 8. _____
- 9. _____


1)



Wäschetrockner

- A. 7 amerikanische Pfund
- B. 110 amerikanische Pfund
- C. 1 Unze
- D. 160 Unzen

2)



Erwachsenes Pferd

- A. 1 Unze
- B. 900 amerikanische Pfund
- C. 14 Unzen
- D. 100 amerikanische Pfund

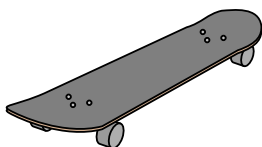
3)



Aktenschrank

- A. 120 amerikanische Pfund
- B. 160 Unzen
- C. 11 Unzen
- D. 2 amerikanische Pfund

4)



Skateboard

- A. 33 amerikanische Pfund
- B. 0.71 Unzen
- C. 4 amerikanische Pfund
- D. 7 Unzen

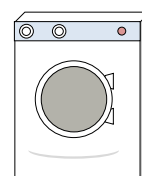
5)



Besen

- A. 440 amerikanische Pfund
- B. 20 amerikanische Pfund
- C. 2 amerikanische Pfund
- D. 4 Unzen


6)



Waschmaschine

- A. 3 tons
- B. 16 amerikanische Pfund
- C. 165 amerikanische Pfund
- D. 0.2 Unzen

7)



Elefant

- A. 15 Unzen
- B. 11000 amerikanische Pfund
- C. 300 amerikanische Pfund
- D. 4000 Unzen

8)



Frosch

- A. 17 Unzen
- B. 2 Unzen
- C. 2 amerikanische Pfund
- D. 11000 amerikanische Pfund

9)



Dose Soda


- A. 9 Unzen
- B. 100 amerikanische Pfund
- C. 4 amerikanische Pfund
- D. 0.04 Unzen



Bestimme, welcher Buchstabe am besten das Gewicht des Objekts darstellt.

Antworten**Onza (oz)**

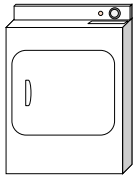
Una onza es aproximadamente el peso de una rebanada de pan.

**Libra (lb)**

Uma libra é mais ou menos o peso de uma lata de vegetais.

**Recordar:**
Hay 16 onzas en 1 libra.


1)



Wäschetrockner

- A. 7 amerikanische Pfund
- B. 110 amerikanische Pfund
- C. 1 Unze
- D. 160 Unzen

2)



Erwachsenes Pferd

- A. 1 Unze
- B. 900 amerikanische Pfund
- C. 14 Unzen
- D. 100 amerikanische Pfund


3)



Aktenschrank

- A. 120 amerikanische Pfund
- B. 160 Unzen
- C. 11 Unzen
- D. 2 amerikanische Pfund

4)



Skateboard

- A. 33 amerikanische Pfund
- B. 0.71 Unzen
- C. 4 amerikanische Pfund
- D. 7 Unzen

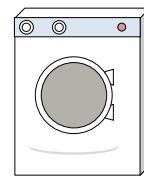
5)



Besen

- A. 440 amerikanische Pfund
- B. 20 amerikanische Pfund
- C. 2 amerikanische Pfund
- D. 4 Unzen


6)



Waschmaschine

- A. 3 tons
- B. 16 amerikanische Pfund
- C. 165 amerikanische Pfund
- D. 0.2 Unzen


7)



Elefant

- A. 15 Unzen
- B. 11000 amerikanische Pfund
- C. 300 amerikanische Pfund
- D. 4000 Unzen

8)



Frosch

- A. 17 Unzen
- B. 2 Unzen
- C. 2 amerikanische Pfund
- D. 11000 amerikanische Pfund

9)



Dose Soda

- A. 9 Unzen
- B. 100 amerikanische Pfund
- C. 4 amerikanische Pfund
- D. 0.04 Unzen

1. **B**2. **B**3. **A**4. **C**5. **C**6. **C**7. **B**8. **B**9. **A**



Bestimme, welcher Buchstabe am besten das Gewicht des Objekts darstellt.


Antworten

Onza (oz)

Libra (lb)

Una onza es aproximadamente el peso de una rebanada de pan.


Uma libra é mais ou menos o peso de uma lata de vegetais.



Recordar:
Hay 16 onzas en 1 libra.

- 1. _____
- 2. _____
- 3. _____
- 4. _____
- 5. _____
- 6. _____
- 7. _____
- 8. _____
- 9. _____

1)



Apfel

- A. 5 amerikanische Pfund
- B. 7 Unzen
- C. 10 amerikanische Pfund
- D. 0.1 Unzen

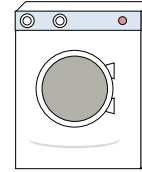
2)



Löffel

- A. 10 amerikanische Pfund
- B. 7 amerikanische Pfund
- C. 0.8 Unzen
- D. 0.11 Unzen


3)



Waschmaschine

- A. 165 amerikanische Pfund
- B. 16 amerikanische Pfund
- C. 0.2 Unzen
- D. 3 tons


4)



Notizbuch Papier

- A. 10 Unzen
- B. 3 Unzen
- C. 0.1 Unzen
- D. 2 amerikanische Pfund

5)



Popcorn

- A. 0.3 amerikanische Pfund
- B. 2 amerikanische Pfund
- C. 10 Unzen
- D. 0.04 Unzen


6)



Bleistift

- A. 1 Unze
- B. 2 amerikanische Pfund
- C. 0.01 Unzen
- D. 44 amerikanische Pfund

7)



Fußball

- A. 0.9 Unzen
- B. 1 Pfund
- C. 65 amerikanische Pfund
- D. 13 amerikanische Pfund

8)



Kerze

- A. 0.2 Unzen
- B. 20 amerikanische Pfund
- C. 1 Pfund
- D. 16 Unzen

9)



Erdbeere


- A. 11 Unzen
- B. 0.5 amerikanische Pfund
- C. 0.5 Unzen
- D. 1 Pfund



Bestimme, welcher Buchstabe am besten das Gewicht des Objekts darstellt.

Antworten**Onza (oz)**

Una onza es aproximadamente el peso de una rebanada de pan.


**Libra (lb)**

Uma libra é mais ou menos o peso de uma lata de vegetais.

**Recordar:**

Hay 16 onzas en 1 libra.

1)



Apfel

- A. 5 amerikanische Pfund
- B. 7 Unzen
- C. 10 amerikanische Pfund
- D. 0.1 Unzen

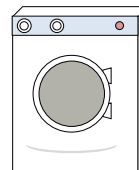
2)



Löffel

- A. 10 amerikanische Pfund
- B. 7 amerikanische Pfund
- C. 0.8 Unzen
- D. 0.11 Unzen


3)



Waschmaschine

- A. 165 amerikanische Pfund
- B. 16 amerikanische Pfund
- C. 0.2 Unzen
- D. 3 tons

4)



Notizbuch Papier

- A. 10 Unzen
- B. 3 Unzen
- C. 0.1 Unzen
- D. 2 amerikanische Pfund

5)



Popcorn

- A. 0.3 amerikanische Pfund
- B. 2 amerikanische Pfund
- C. 10 Unzen
- D. 0.04 Unzen

6)



Bleistift

- A. 1 Unze
- B. 2 amerikanische Pfund
- C. 0.01 Unzen
- D. 44 amerikanische Pfund

7)



Fußball

- A. 0.9 Unzen
- B. 1 Pfund
- C. 65 amerikanische Pfund
- D. 13 amerikanische Pfund

8)



Kerze

- A. 0.2 Unzen
- B. 20 amerikanische Pfund
- C. 1 Pfund
- D. 16 Unzen

9)



Erdbeere

- A. 11 Unzen
- B. 0.5 amerikanische Pfund
- C. 0.5 Unzen
- D. 1 Pfund

1. **B**
2. **C**
3. **A**
4. **C**
5. **D**
6. **A**
7. **B**
8. **A**
9. **C**



Bestimme, welcher Buchstabe am besten das Gewicht des Objekts darstellt.


Antworten

Onza (oz)

Libra (lb)

Una onza es aproximadamente el peso de una rebanada de pan.


Uma libra é mais ou menos o peso de uma lata de vegetais.



Recordar:
Hay 16 onzas en 1 libra.

- 1. _____
- 2. _____
- 3. _____
- 4. _____
- 5. _____
- 6. _____
- 7. _____
- 8. _____
- 9. _____


1)



Waschmaschine

- A. 3 tons
- B. 165 amerikanische Pfund
- C. 16 amerikanische Pfund
- D. 0.2 Unzen

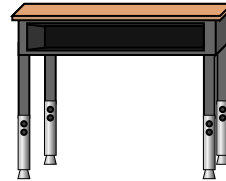
2)



Auto

- A. 2000 amerikanische Pfund
- B. 5200 Unzen
- C. 15 Unzen
- D. 500 amerikanische Pfund

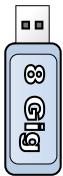
3)



Schreibtisch

- A. 11 Unzen
- B. 1 Unze
- C. 30 amerikanische Pfund
- D. 660 amerikanische Pfund

4)



Flash Drive

- A. 10 Unzen
- B. 20 amerikanische Pfund
- C. 1 Unze
- D. 19 amerikanische Pfund

5)



Aktenschrank

- A. 2 amerikanische Pfund
- B. 11 Unzen
- C. 120 amerikanische Pfund
- D. 160 Unzen

6)



Gallone Milch

- A. 6 amerikanische Pfund
- B. 6 Unzen
- C. 60 amerikanische Pfund
- D. 0.6 Unzen

7)



Frosch

- A. 2 Unzen
- B. 11000 amerikanische Pfund
- C. 17 Unzen
- D. 2 amerikanische Pfund

8)



Nagel

- A. 7 amerikanische Pfund
- B. 4 amerikanische Pfund
- C. 16 Unzen
- D. 0.1 Unzen

9)



Armbanduhr


- A. 12 amerikanische Pfund
- B. 2 amerikanische Pfund
- C. 16 Unzen
- D. 3 Unzen



Bestimme, welcher Buchstabe am besten das Gewicht des Objekts darstellt.

Antworten**Onza (oz)**

Una onza es aproximadamente el peso de una rebanada de pan.


**Libra (lb)**

Uma libra é mais ou menos o peso de uma lata de vegetais.

**Recordar:**

Hay 16 onzas en 1 libra.


1)



Waschmaschine

- A. 3 tons
- B. 165 amerikanische Pfund
- C. 16 amerikanische Pfund
- D. 0.2 Unzen

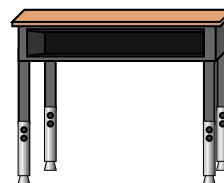
2)



Auto

- A. 2000 amerikanische Pfund
- B. 5200 Unzen
- C. 15 Unzen
- D. 500 amerikanische Pfund

3)



Schreibtisch

- A. 11 Unzen
- B. 1 Unze
- C. 30 amerikanische Pfund
- D. 660 amerikanische Pfund

4)



Flash Drive

- A. 10 Unzen
- B. 20 amerikanische Pfund
- C. 1 Unze
- D. 19 amerikanische Pfund

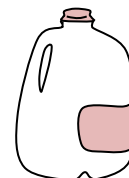
5)



Aktenschrank

- A. 2 amerikanische Pfund
- B. 11 Unzen
- C. 120 amerikanische Pfund
- D. 160 Unzen

6)



Gallone Milch

- A. 6 amerikanische Pfund
- B. 6 Unzen
- C. 60 amerikanische Pfund
- D. 0.6 Unzen

7)



Frosch

- A. 2 Unzen
- B. 11000 amerikanische Pfund
- C. 17 Unzen
- D. 2 amerikanische Pfund

8)



Nagel

- A. 7 amerikanische Pfund
- B. 4 amerikanische Pfund
- C. 16 Unzen
- D. 0.1 Unzen

9)



Armbanduhr

- A. 12 amerikanische Pfund
- B. 2 amerikanische Pfund
- C. 16 Unzen
- D. 3 Unzen

1. **B**
2. **A**
3. **C**
4. **C**
5. **C**
6. **A**
7. **A**
8. **D**
9. **D**



Bestimme, welcher Buchstabe am besten das Gewicht des Objekts darstellt.


Antworten

Onza (oz)

Libra (lb)

Una onza es aproximadamente el peso de una rebanada de pan.

Uma libra é mais ou menos o peso de uma lata de vegetais.



Recordar:
Hay 16 onzas en 1 libra.

1. _____
2. _____
3. _____
4. _____
5. _____
6. _____
7. _____
8. _____
9. _____

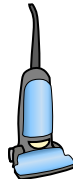
1)



Aktenschrank

- A. 2 amerikanische Pfund
- B. 11 Unzen
- C. 160 Unzen
- D. 120 amerikanische Pfund

2)



Vakuuum


- A. 1100 amerikanische Pfund
- B. 35 amerikanische Pfund
- C. 2 Unzen
- D. 3 Unzen

3)

Schrauben

- A. 0.04 Unzen
- B. 2 amerikanische Pfund
- C. 10 Unzen
- D. 1 Pfund

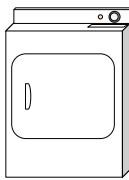
4)



Erwachsenes Pferd

- A. 14 Unzen
- B. 900 amerikanische Pfund
- C. 1 Unze
- D. 100 amerikanische Pfund


5)



Wäschetrockner

- A. 110 amerikanische Pfund
- B. 1 Unze
- C. 160 Unzen
- D. 7 amerikanische Pfund

6)



Notizbuch Papier


- A. 3 Unzen
- B. 10 Unzen
- C. 2 amerikanische Pfund
- D. 0.1 Unzen

7)

Großbildfernseher

- A. 2000 amerikanische Pfund
- B. 160 Unzen
- C. 1.25 Unzen
- D. 40 amerikanische Pfund

8)



Rasenmäher

- A. 100 Unzen
- B. 200 Unzen
- C. 200 amerikanische Pfund
- D. 50 amerikanische Pfund

9)



Kerze


- A. 0.2 Unzen
- B. 16 Unzen
- C. 1 Pfund
- D. 20 amerikanische Pfund



Bestimme, welcher Buchstabe am besten das Gewicht des Objekts darstellt.

Antworten**Onza (oz)**

Una onza es aproximadamente el peso de una rebanada de pan.

**Libra (lb)**

Uma libra é mais ou menos o peso de uma lata de vegetais.

**Recordar:**
Hay 16 onzas en 1 libra.

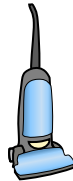
1)



Aktenschrank

- A. 2 amerikanische Pfund
- B. 11 Unzen
- C. 160 Unzen
- D. 120 amerikanische Pfund

2)



Vakuuum


- A. 1100 amerikanische Pfund
- B. 35 amerikanische Pfund
- C. 2 Unzen
- D. 3 Unzen

3)

Schrauben

- A. 0.04 Unzen
- B. 2 amerikanische Pfund
- C. 10 Unzen
- D. 1 Pfund

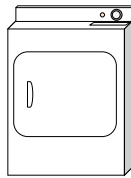
4)



Erwachsenes Pferd

- A. 14 Unzen
- B. 900 amerikanische Pfund
- C. 1 Unze
- D. 100 amerikanische Pfund


5)



Wäschetrockner

- A. 110 amerikanische Pfund
- B. 1 Unze
- C. 160 Unzen
- D. 7 amerikanische Pfund

6)



Notizbuch Papier


- A. 3 Unzen
- B. 10 Unzen
- C. 2 amerikanische Pfund
- D. 0.1 Unzen

7)

Großbildfernseher

- A. 2000 amerikanische Pfund
- B. 160 Unzen
- C. 1.25 Unzen
- D. 40 amerikanische Pfund

8)



Rasenmäher

- A. 100 Unzen
- B. 200 Unzen
- C. 200 amerikanische Pfund
- D. 50 amerikanische Pfund

9)



Kerze

- A. 0.2 Unzen
- B. 16 Unzen
- C. 1 Pfund
- D. 20 amerikanische Pfund

1. **D**2. **B**3. **A**4. **B**5. **A**6. **D**7. **D**8. **D**9. **A**



Bestimme, welcher Buchstabe am besten das Gewicht des Objekts darstellt.


Antworten

Onza (oz)

Libra (lb)

Una onza es aproximadamente el peso de una rebanada de pan.

Uma libra é mais ou menos o peso de uma lata de vegetais.



Recordar:
Hay 16 onzas en 1 libra.

- 1. _____
- 2. _____
- 3. _____
- 4. _____
- 5. _____
- 6. _____
- 7. _____
- 8. _____
- 9. _____

1)



Baseball Kappe

- A. 3 Unzen
- B. 1 Unze
- C. 440 amerikanische Pfund
- D. 11 amerikanische Pfund

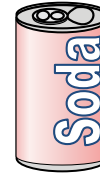
2)



Monitor

- A. 1000 amerikanische Pfund
- B. 20 Unzen
- C. 0.2 Unzen
- D. 20 amerikanische Pfund

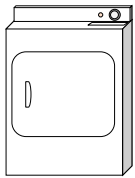
3)



Dose Soda

- A. 0.04 Unzen
- B. 9 Unzen
- C. 4 amerikanische Pfund
- D. 100 amerikanische Pfund

4)



Wäschetrockner

- A. 1 Unze
- B. 110 amerikanische Pfund
- C. 160 Unzen
- D. 7 amerikanische Pfund

5)



Zahnbürste

- A. 1 Unze
- B. 1100 amerikanische Pfund
- C. 16 Unzen
- D. 30 amerikanische Pfund

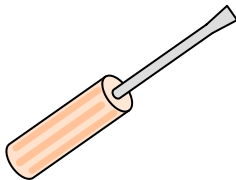
6)



Hammer

- A. 10 amerikanische Pfund
- B. 16 Unzen
- C. 3 amerikanische Pfund
- D. 1 Unze

7)



Schraubenzieher

- A. 0.1 Unzen
- B. 15 Unzen
- C. 29 amerikanische Pfund
- D. 2 Unzen

8)



Liege

- A. 3 Unzen
- B. 5 Unzen
- C. 70 amerikanische Pfund
- D. 2 amerikanische Pfund

9)



Getreidekiste


- A. 90 amerikanische Pfund
- B. 15 Unzen
- C. 1.1 Unzen
- D. 15 amerikanische Pfund



Bestimme, welcher Buchstabe am besten das Gewicht des Objekts darstellt.

Antworten**Onza (oz)**

Una onza es aproximadamente el peso de una rebanada de pan.

**Libra (lb)**

Uma libra é mais ou menos o peso de uma lata de vegetais.

**Recordar:**

Hay 16 onzas en 1 libra.

1)



Baseball Kappe

- A. 3 Unzen
- B. 1 Unze
- C. 440 amerikanische Pfund
- D. 11 amerikanische Pfund

2)



Monitor

- A. 1000 amerikanische Pfund
- B. 20 Unzen
- C. 0.2 Unzen
- D. 20 amerikanische Pfund

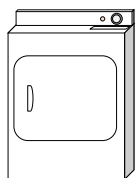
3)



Dose Soda

- A. 0.04 Unzen
- B. 9 Unzen
- C. 4 amerikanische Pfund
- D. 100 amerikanische Pfund

4)



Wäschetrockner

- A. 1 Unze
- B. 110 amerikanische Pfund
- C. 160 Unzen
- D. 7 amerikanische Pfund

5)



Zahnbürste

- A. 1 Unze
- B. 1100 amerikanische Pfund
- C. 16 Unzen
- D. 30 amerikanische Pfund

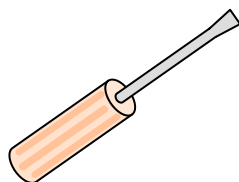
6)



Hammer

- A. 10 amerikanische Pfund
- B. 16 Unzen
- C. 3 amerikanische Pfund
- D. 1 Unze

7)



Schraubenzieher

- A. 0.1 Unzen
- B. 15 Unzen
- C. 29 amerikanische Pfund
- D. 2 Unzen

8)



Liege

- A. 3 Unzen
- B. 5 Unzen
- C. 70 amerikanische Pfund
- D. 2 amerikanische Pfund

9)



Getreidekiste

- A. 90 amerikanische Pfund
- B. 15 Unzen
- C. 1.1 Unzen
- D. 15 amerikanische Pfund

1. **A**2. **D**3. **B**4. **B**5. **A**6. **C**7. **D**8. **C**9. **B**




Bestimme, welcher Buchstabe am besten das Gewicht des Objekts darstellt.

Antworten

Onza (oz)


Una onza es aproximadamente el peso de una rebanada de pan.

**Libra (lb)**

Uma libra é mais ou menos o peso de uma lata de vegetais.

**Recordar:**
Hay 16 onzas en 1 libra.

1)



Lutscher

- A. 44 amerikanische Pfund
- B. 7 Unzen
- C. 0.7 Unzen
- D. 10 amerikanische Pfund

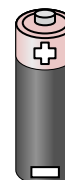
2)



Fahrrad

- A. 30 amerikanische Pfund
- B. 220 amerikanische Pfund
- C. 4 Unzen
- D. 0.53 Unzen

3)



Batterie

- A. 20 amerikanische Pfund
- B. 100 amerikanische Pfund
- C. 10 Unzen
- D. 0.5 Unzen


4)



Aktenschrank

- A. 11 Unzen
- B. 160 Unzen
- C. 2 amerikanische Pfund
- D. 120 amerikanische Pfund

5)



Schraubenzieher

- A. 15 Unzen
- B. 2 Unzen
- C. 29 amerikanische Pfund
- D. 0.1 Unzen

6)



Klebestift

- A. 15 Unzen
- B. 2 amerikanische Pfund
- C. 2.2 Unzen
- D. 1 Pfund


7)



Liege

- A. 70 amerikanische Pfund
- B. 3 Unzen
- C. 2 amerikanische Pfund
- D. 5 Unzen

8)



Elefant

- A. 11000 amerikanische Pfund
- B. 4000 Unzen
- C. 15 Unzen
- D. 300 amerikanische Pfund

9)



Telefon

- A. 10 amerikanische Pfund
- B. 1 Pfund
- C. 0.2 Unzen
- D. 5 amerikanische Pfund


1. _____
2. _____
3. _____
4. _____
5. _____
6. _____
7. _____
8. _____
9. _____



Bestimme, welcher Buchstabe am besten das Gewicht des Objekts darstellt.

Antworten**Onza (oz)**

Una onza es aproximadamente el peso de una rebanada de pan.


**Libra (lb)**

Uma libra é mais ou menos o peso de uma lata de vegetais.

**Recordar:**

Hay 16 onzas en 1 libra.

1)



Lutscher

- A. 44 amerikanische Pfund
- B. 7 Unzen
- C. 0.7 Unzen
- D. 10 amerikanische Pfund

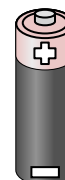
2)



Fahrrad

- A. 30 amerikanische Pfund
- B. 220 amerikanische Pfund
- C. 4 Unzen
- D. 0.53 Unzen

3)



Batterie

- A. 20 amerikanische Pfund
- B. 100 amerikanische Pfund
- C. 10 Unzen
- D. 0.5 Unzen


4)



Aktenschrank

- A. 11 Unzen
- B. 160 Unzen
- C. 2 amerikanische Pfund
- D. 120 amerikanische Pfund

5)



Schraubenzieher

- A. 15 Unzen
- B. 2 Unzen
- C. 29 amerikanische Pfund
- D. 0.1 Unzen

6)



Klebestift

- A. 15 Unzen
- B. 2 amerikanische Pfund
- C. 2.2 Unzen
- D. 1 Pfund


7)



Liege

- A. 70 amerikanische Pfund
- B. 3 Unzen
- C. 2 amerikanische Pfund
- D. 5 Unzen

8)



Elefant

- A. 11000 amerikanische Pfund
- B. 4000 Unzen
- C. 15 Unzen
- D. 300 amerikanische Pfund

9)



Telefon

- A. 10 amerikanische Pfund
- B. 1 Pfund
- C. 0.2 Unzen
- D. 5 amerikanische Pfund

1. **C**2. **A**3. **D**4. **D**5. **B**6. **C**7. **A**8. **A**9. **B**



Bestimme, welcher Buchstabe am besten das Gewicht des Objekts darstellt.


Antworten

Onza (oz)

Libra (lb)

Una onza es aproximadamente el peso de una rebanada de pan.

Uma libra é mais ou menos o peso de uma lata de vegetais.



Recordar:
Hay 16 onzas en 1 libra.

- 1. _____
- 2. _____
- 3. _____
- 4. _____
- 5. _____
- 6. _____
- 7. _____
- 8. _____
- 9. _____

1)



Herd

- A. 16 Unzen
- B. 30 amerikanische Pfund
- C. 160 Unzen
- D. 130 amerikanische Pfund

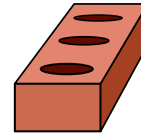
2)



Spinne

- A. 4 Unzen
- B. 16 Unzen
- C. 0.04 Unzen
- D. 0.3 amerikanische Pfund

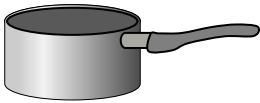
3)



Ziegel

- A. 4 amerikanische Pfund
- B. 100 amerikanische Pfund
- C. 15 Unzen
- D. 5 Unzen

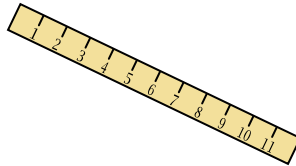
4)



Kochtopf

- A. 0.01 Unzen
- B. 5 Unzen
- C. 4 amerikanische Pfund
- D. 1.7 Unzen

5)



Herrscher

- A. 35 Unzen
- B. 0.04 Unzen
- C. 6 amerikanische Pfund
- D. 1 Unze


6)



Fahrrad

- A. 0.53 Unzen
- B. 220 amerikanische Pfund
- C. 4 Unzen
- D. 30 amerikanische Pfund


7)



Dose Soda

- A. 9 Unzen
- B. 4 amerikanische Pfund
- C. 100 amerikanische Pfund
- D. 0.04 Unzen

8)



Lutscher

- A. 0.7 Unzen
- B. 10 amerikanische Pfund
- C. 7 Unzen
- D. 44 amerikanische Pfund

9)



DVD


- A. 1 Pfund
- B. 2.5 amerikanische Pfund
- C. 16 Unzen
- D. 0.6 amerikanische Pfund



Bestimme, welcher Buchstabe am besten das Gewicht des Objekts darstellt.

Antworten**Onza (oz)**

Una onza es aproximadamente el peso de una rebanada de pan.

**Libra (lb)**

Uma libra é mais ou menos o peso de uma lata de vegetais.

**Recordar:**

Hay 16 onzas en 1 libra.


1)



Herd

- A. 16 Unzen
- B. 30 amerikanische Pfund
- C. 160 Unzen
- D. 130 amerikanische Pfund

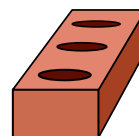
2)



Spinne

- A. 4 Unzen
- B. 16 Unzen
- C. 0.04 Unzen
- D. 0.3 amerikanische Pfund

3)



Ziegel

- A. 4 amerikanische Pfund
- B. 100 amerikanische Pfund
- C. 15 Unzen
- D. 5 Unzen

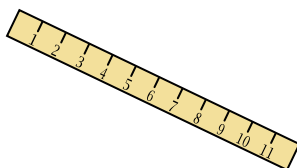
4)



Kochtopf

- A. 0.01 Unzen
- B. 5 Unzen
- C. 4 amerikanische Pfund
- D. 1.7 Unzen

5)



Herrscher

- A. 35 Unzen
- B. 0.04 Unzen
- C. 6 amerikanische Pfund
- D. 1 Unze


6)



Fahrrad

- A. 0.53 Unzen
- B. 220 amerikanische Pfund
- C. 4 Unzen
- D. 30 amerikanische Pfund


7)



Dose Soda

- A. 9 Unzen
- B. 4 amerikanische Pfund
- C. 100 amerikanische Pfund
- D. 0.04 Unzen

8)



Lutscher

- A. 0.7 Unzen
- B. 10 amerikanische Pfund
- C. 7 Unzen
- D. 44 amerikanische Pfund

9)



DVD

- A. 1 Pfund
- B. 2.5 amerikanische Pfund
- C. 16 Unzen
- D. 0.6 amerikanische Pfund

1. **D**
2. **C**
3. **A**
4. **C**
5. **D**
6. **D**
7. **A**
8. **A**
9. **D**



Bestimme, welcher Buchstabe am besten das Gewicht des Objekts darstellt.


Antworten

Onza (oz)

Libra (lb)

Una onza es aproximadamente el peso de una rebanada de pan.

Uma libra é mais ou menos o peso de uma lata de vegetais.



Recordar:
Hay 16 onzas en 1 libra.

1. _____
2. _____
3. _____
4. _____
5. _____
6. _____
7. _____
8. _____
9. _____

1)



Herd

- A. 30 amerikanische Pfund
- B. 130 amerikanische Pfund
- C. 160 Unzen
- D. 16 Unzen


2)



Auto

- A. 2000 amerikanische Pfund
- B. 5200 Unzen
- C. 500 amerikanische Pfund
- D. 15 Unzen


3)



Elefant

- A. 15 Unzen
- B. 4000 Unzen
- C. 11000 amerikanische Pfund
- D. 300 amerikanische Pfund

4)



Notizbuch Papier

- A. 3 Unzen
- B. 10 Unzen
- C. 2 amerikanische Pfund
- D. 0.1 Unzen

5)



DVD

- A. 0.6 amerikanische Pfund
- B. 1 Pfund
- C. 2.5 amerikanische Pfund
- D. 16 Unzen


6)



Popcorn

- A. 0.3 amerikanische Pfund
- B. 0.04 Unzen
- C. 2 amerikanische Pfund
- D. 10 Unzen


7)



Käfer

- A. 8 Unzen
- B. 16 Unzen
- C. 4 amerikanische Pfund
- D. 0.04 Unzen

8)



Bowlingkugel

- A. 198 amerikanische Pfund
- B. 13 amerikanische Pfund
- C. 7 Unzen
- D. 110 amerikanische Pfund

9)



Löffel


- A. 0.11 Unzen
- B. 10 amerikanische Pfund
- C. 7 amerikanische Pfund
- D. 0.8 Unzen



Bestimme, welcher Buchstabe am besten das Gewicht des Objekts darstellt.

Antworten**Onza (oz)**

Una onza es aproximadamente el peso de una rebanada de pan.

**Libra (lb)**

Uma libra é mais ou menos o peso de uma lata de vegetais.

**Recordar:**

Hay 16 onzas en 1 libra.


1)



Herd

- A. 30 amerikanische Pfund
- B. 130 amerikanische Pfund
- C. 160 Unzen
- D. 16 Unzen


2)



Auto

- A. 2000 amerikanische Pfund
- B. 5200 Unzen
- C. 500 amerikanische Pfund
- D. 15 Unzen


3)



Elefant

- A. 15 Unzen
- B. 4000 Unzen
- C. 11000 amerikanische Pfund
- D. 300 amerikanische Pfund


4)



Notizbuch Papier

- A. 3 Unzen
- B. 10 Unzen
- C. 2 amerikanische Pfund
- D. 0.1 Unzen

5)



DVD

- A. 0.6 amerikanische Pfund
- B. 1 Pfund
- C. 2.5 amerikanische Pfund
- D. 16 Unzen


6)



Popcorn

- A. 0.3 amerikanische Pfund
- B. 0.04 Unzen
- C. 2 amerikanische Pfund
- D. 10 Unzen


7)



Käfer

- A. 8 Unzen
- B. 16 Unzen
- C. 4 amerikanische Pfund
- D. 0.04 Unzen

8)



Bowlingkugel

- A. 198 amerikanische Pfund
- B. 13 amerikanische Pfund
- C. 7 Unzen
- D. 110 amerikanische Pfund

9)



Löffel

- A. 0.11 Unzen
- B. 10 amerikanische Pfund
- C. 7 amerikanische Pfund
- D. 0.8 Unzen

1. **B**2. **A**3. **C**4. **D**5. **A**6. **B**7. **D**8. **B**9. **D**



Bestimme, welcher Buchstabe am besten das Gewicht des Objekts darstellt.


Antworten

Onza (oz)

Libra (lb)

Una onza es aproximadamente el peso de una rebanada de pan.

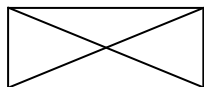
Uma libra é mais ou menos o peso de uma lata de vegetais.



Recordar:
Hay 16 onzas en 1 libra.

- 1. _____
- 2. _____
- 3. _____
- 4. _____
- 5. _____
- 6. _____
- 7. _____
- 8. _____
- 9. _____

1)



Umschlag

- A. 1 Unze
- B. 440 amerikanische Pfund
- C. 11 amerikanische Pfund
- D. 24 Unzen

2)



Monitor

- A. 20 Unzen
- B. 20 amerikanische Pfund
- C. 0.2 Unzen
- D. 1000 amerikanische Pfund

3)



Kochtopf

- A. 0.01 Unzen
- B. 1.7 Unzen
- C. 4 amerikanische Pfund
- D. 5 Unzen

4)



Klebestift

- A. 1 Pfund
- B. 2 amerikanische Pfund
- C. 2.2 Unzen
- D. 15 Unzen

5)



Frosch

- A. 2 amerikanische Pfund
- B. 11000 amerikanische Pfund
- C. 2 Unzen
- D. 17 Unzen

6)



Telefon

- A. 1 Pfund
- B. 5 amerikanische Pfund
- C. 0.2 Unzen
- D. 10 amerikanische Pfund

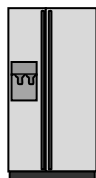
7)



Zahnbürste

- A. 1100 amerikanische Pfund
- B. 16 Unzen
- C. 30 amerikanische Pfund
- D. 1 Unze

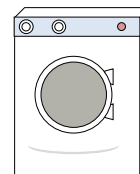
8)



Kühlschrank

- A. 20 amerikanische Pfund
- B. 7 Unzen
- C. 1 Unze
- D. 250 amerikanische Pfund

9)



Waschmaschine


- A. 0.2 Unzen
- B. 3 tons
- C. 165 amerikanische Pfund
- D. 16 amerikanische Pfund



Bestimme, welcher Buchstabe am besten das Gewicht des Objekts darstellt.

Antworten**Onza (oz)**

Una onza es aproximadamente el peso de una rebanada de pan.

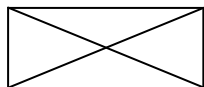
**Libra (lb)**

Uma libra é mais ou menos o peso de uma lata de vegetais.

**Recordar:**

Hay 16 onzas en 1 libra.

1)



Umschlag

- A. 1 Unze
- B. 440 amerikanische Pfund
- C. 11 amerikanische Pfund
- D. 24 Unzen

2)



Monitor

- A. 20 Unzen
- B. 20 amerikanische Pfund
- C. 0.2 Unzen
- D. 1000 amerikanische Pfund

3)



Kochtopf

- A. 0.01 Unzen
- B. 1.7 Unzen
- C. 4 amerikanische Pfund
- D. 5 Unzen

4)



Klebestift

- A. 1 Pfund
- B. 2 amerikanische Pfund
- C. 2.2 Unzen
- D. 15 Unzen

5)



Frosch

- A. 2 amerikanische Pfund
- B. 11000 amerikanische Pfund
- C. 2 Unzen
- D. 17 Unzen

6)



Telefon

- A. 1 Pfund
- B. 5 amerikanische Pfund
- C. 0.2 Unzen
- D. 10 amerikanische Pfund

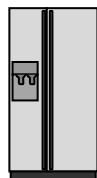
7)



Zahnbürste

- A. 1100 amerikanische Pfund
- B. 16 Unzen
- C. 30 amerikanische Pfund
- D. 1 Unze

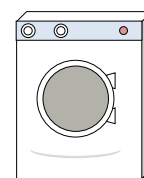
8)



Kühlschrank

- A. 20 amerikanische Pfund
- B. 7 Unzen
- C. 1 Unze
- D. 250 amerikanische Pfund

9)



Waschmaschine

- A. 0.2 Unzen
- B. 3 tons
- C. 165 amerikanische Pfund
- D. 16 amerikanische Pfund

1. **A**2. **B**3. **C**4. **C**5. **C**6. **A**7. **D**8. **D**9. **C**