



Bestimme die Anzahl der kleinen Teilstücke, die aus dem größeren Stück gemacht werden können.

Bsp) $3\frac{3}{5}$

Bsp. 18

1) $2\frac{1}{2}$

1. _____

2) $1\frac{3}{4}$

2. _____

3) $8\frac{3}{4}$

3. _____

4) $7\frac{2}{3}$

4. _____

5) $7\frac{1}{4}$

5. _____

6) $2\frac{1}{3}$

6. _____

7) $8\frac{1}{2}$

7. _____

8) $1\frac{2}{5}$

8. _____

9) $7\frac{1}{5}$

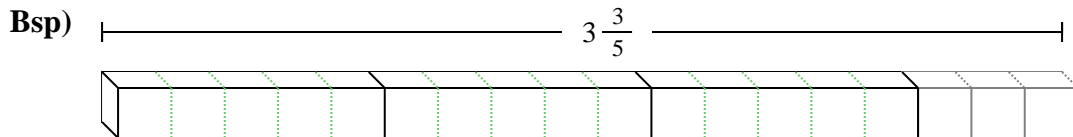
9. _____

10) $2\frac{1}{2}$

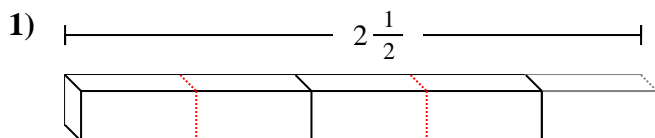
10. _____



Bestimme die Anzahl der kleinen Teilstücke, die aus dem größeren Stück gemacht werden können.

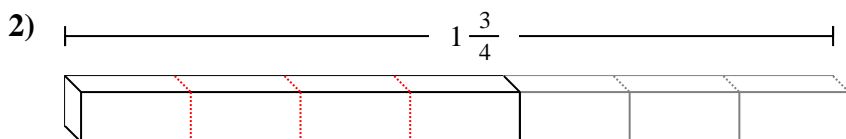


Bsp. 18



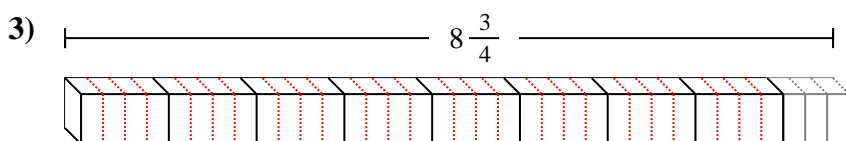
1. 5

2. 7



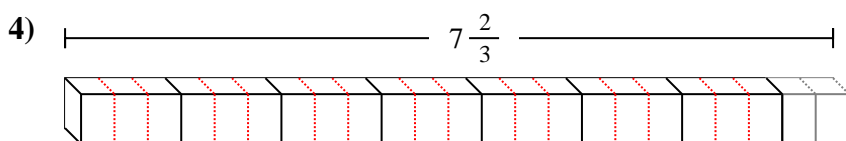
3. 35

4. 23



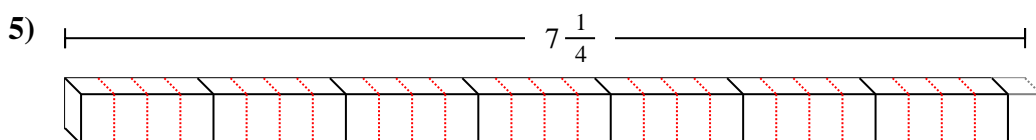
5. 29

6. 7



7. 17

8. 7



9. 36

10. 5

