

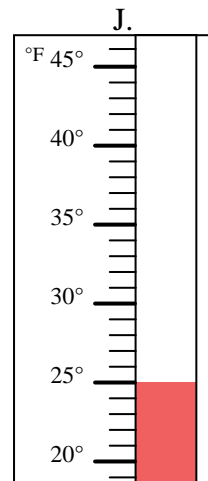
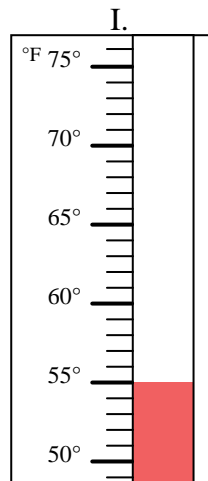
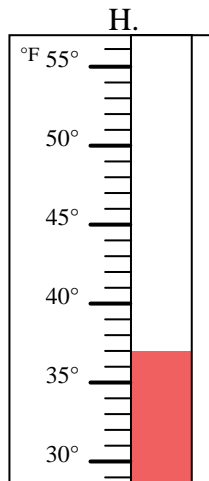
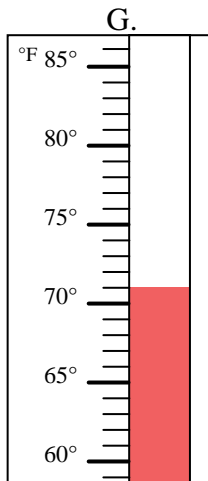
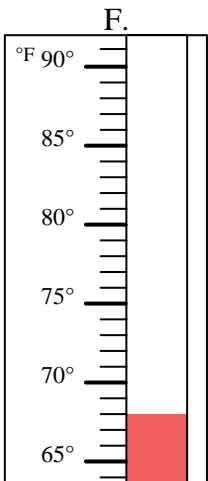
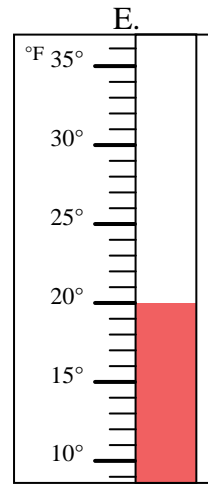
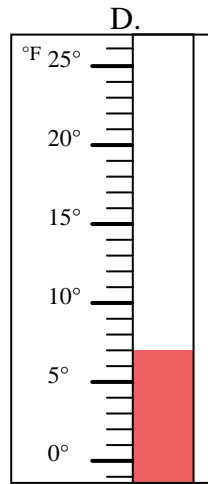
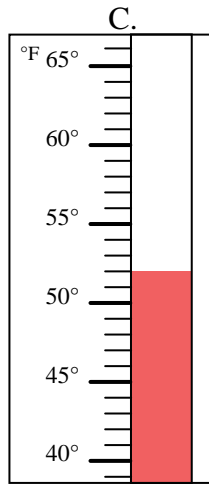
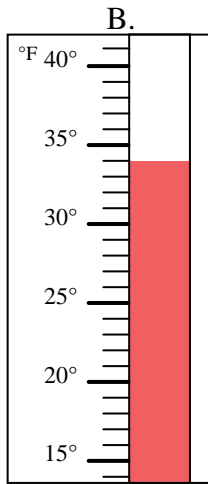
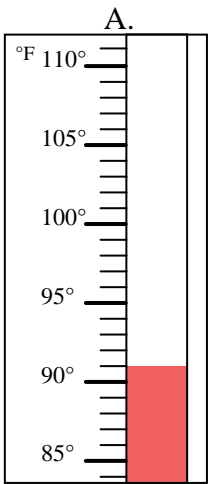


Bestimme, welcher Buchstabe die Frage richtig beantwortet.

Antworten

- 1) Welcher Thermometer zeigt die Temperatur von 7° richtig an? _____
- 2) Welcher Thermometer zeigt die Temperatur von 37° richtig an? _____
- 3) Welcher Thermometer zeigt die Temperatur von 71° richtig an? _____
- 4) Welcher Thermometer zeigt die Temperatur von 55° richtig an? _____
- 5) Welcher Thermometer zeigt die Temperatur von 20° richtig an? _____
- 6) Welcher Thermometer zeigt die Temperatur von 68° richtig an? _____
- 7) Welcher Thermometer zeigt die Temperatur von 34° richtig an? _____
- 8) Welcher Thermometer zeigt die Temperatur von 52° richtig an? _____
- 9) Welcher Thermometer zeigt die Temperatur von 91° richtig an? _____
- 10) Welcher Thermometer zeigt die Temperatur von 25° richtig an? _____

1. _____
2. _____
3. _____
4. _____
5. _____
6. _____
7. _____
8. _____
9. _____
10. _____





Bestimme, welcher Buchstabe die Frage richtig beantwortet.

- 1) Welcher Thermometer zeigt die Temperatur von 7° richtig an? D
- 2) Welcher Thermometer zeigt die Temperatur von 37° richtig an? H
- 3) Welcher Thermometer zeigt die Temperatur von 71° richtig an? G
- 4) Welcher Thermometer zeigt die Temperatur von 55° richtig an? I
- 5) Welcher Thermometer zeigt die Temperatur von 20° richtig an? E
- 6) Welcher Thermometer zeigt die Temperatur von 68° richtig an? F
- 7) Welcher Thermometer zeigt die Temperatur von 34° richtig an? B
- 8) Welcher Thermometer zeigt die Temperatur von 52° richtig an? C
- 9) Welcher Thermometer zeigt die Temperatur von 91° richtig an? A
- 10) Welcher Thermometer zeigt die Temperatur von 25° richtig an? J

Antworten

1. D
2. H
3. G
4. I
5. E
6. F
7. B
8. C
9. A
10. J

