

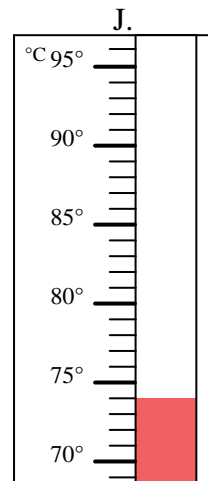
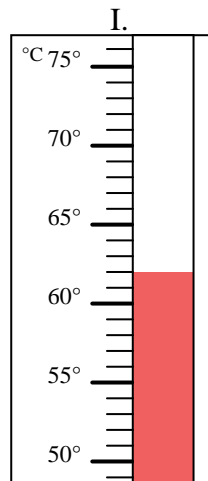
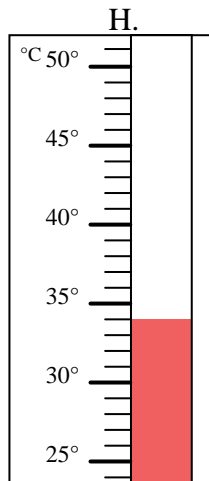
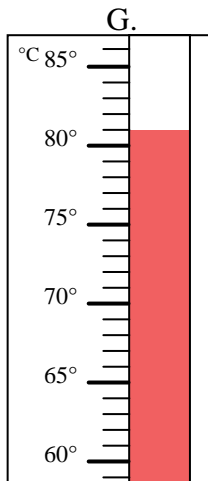
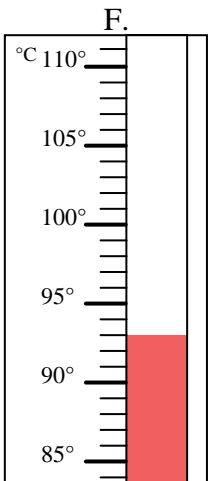
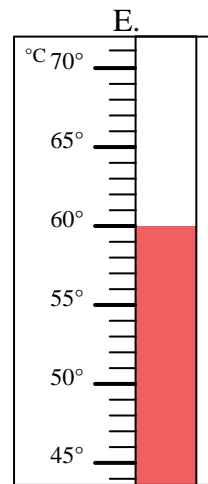
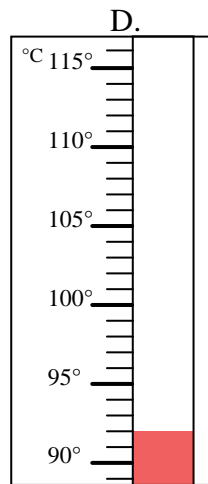
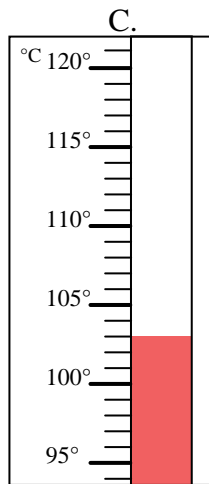
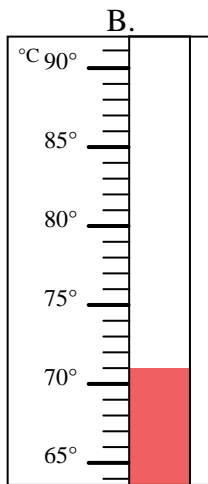
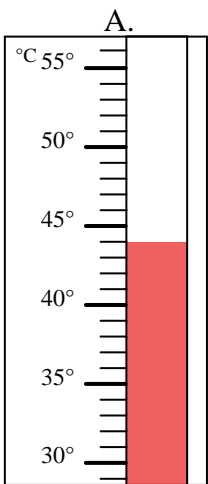


Bestimme, welcher Buchstabe die Frage richtig beantwortet.

Antworten

- 1) Welcher Thermometer zeigt die Temperatur von 74° richtig an? _____
- 2) Welcher Thermometer zeigt die Temperatur von 92° richtig an? _____
- 3) Welcher Thermometer zeigt die Temperatur von 93° richtig an? _____
- 4) Welcher Thermometer zeigt die Temperatur von 62° richtig an? _____
- 5) Welcher Thermometer zeigt die Temperatur von 81° richtig an? _____
- 6) Welcher Thermometer zeigt die Temperatur von 60° richtig an? _____
- 7) Welcher Thermometer zeigt die Temperatur von 103° richtig an? _____
- 8) Welcher Thermometer zeigt die Temperatur von 71° richtig an? _____
- 9) Welcher Thermometer zeigt die Temperatur von 44° richtig an? _____
- 10) Welcher Thermometer zeigt die Temperatur von 34° richtig an? _____

1. _____
2. _____
3. _____
4. _____
5. _____
6. _____
7. _____
8. _____
9. _____
10. _____





Bestimme, welcher Buchstabe die Frage richtig beantwortet.

- 1) Welcher Thermometer zeigt die Temperatur von 74° richtig an? J
- 2) Welcher Thermometer zeigt die Temperatur von 92° richtig an? D
- 3) Welcher Thermometer zeigt die Temperatur von 93° richtig an? F
- 4) Welcher Thermometer zeigt die Temperatur von 62° richtig an? I
- 5) Welcher Thermometer zeigt die Temperatur von 81° richtig an? G
- 6) Welcher Thermometer zeigt die Temperatur von 60° richtig an? E
- 7) Welcher Thermometer zeigt die Temperatur von 103° richtig an? C
- 8) Welcher Thermometer zeigt die Temperatur von 71° richtig an? B
- 9) Welcher Thermometer zeigt die Temperatur von 44° richtig an? A
- 10) Welcher Thermometer zeigt die Temperatur von 34° richtig an? H

Antworten

1. J
2. D
3. F
4. I
5. G
6. E
7. C
8. B
9. A
10. H

