

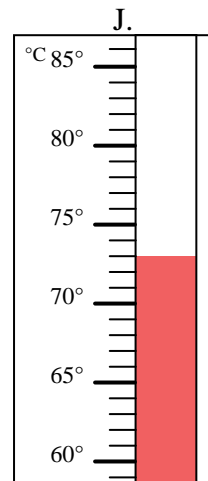
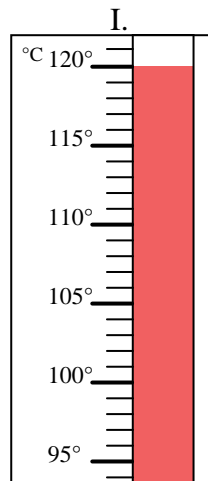
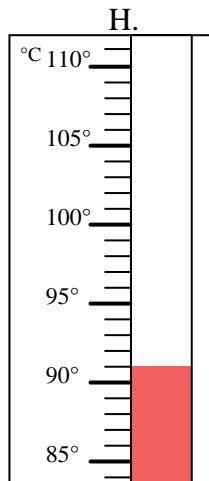
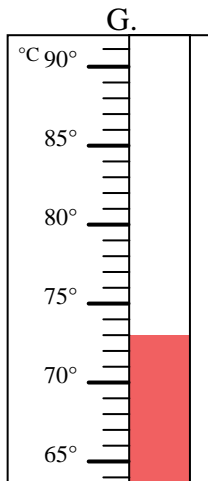
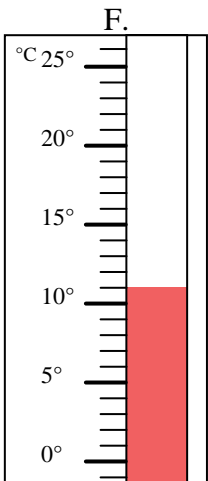
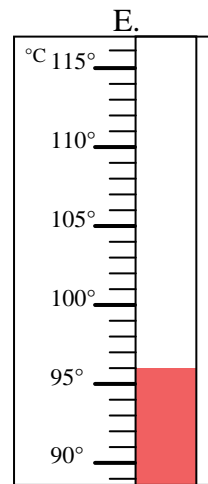
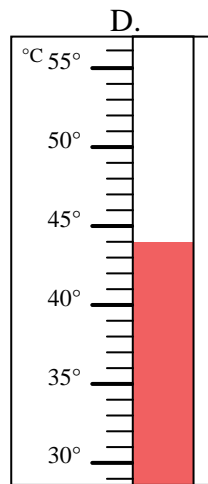
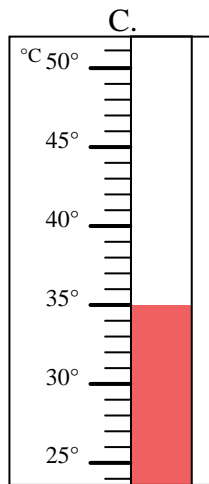
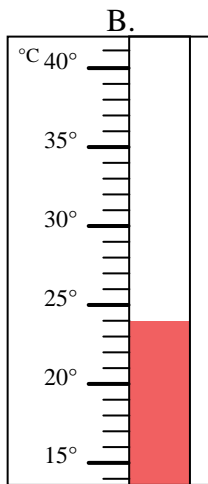
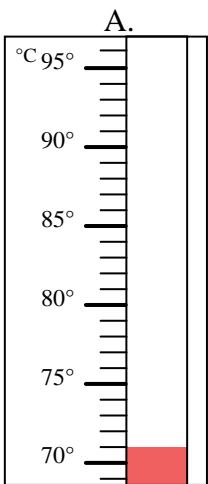


Bestimme, welcher Buchstabe die Frage richtig beantwortet.

**Antworten**

- 1) Welcher Thermometer zeigt die Temperatur von 11° richtig an? \_\_\_\_\_
- 2) Welcher Thermometer zeigt die Temperatur von 71° richtig an? \_\_\_\_\_
- 3) Welcher Thermometer zeigt die Temperatur von 96° richtig an? \_\_\_\_\_
- 4) Welcher Thermometer zeigt die Temperatur von 73° richtig an? \_\_\_\_\_
- 5) Welcher Thermometer zeigt die Temperatur von 44° richtig an? \_\_\_\_\_
- 6) Welcher Thermometer zeigt die Temperatur von 35° richtig an? \_\_\_\_\_
- 7) Welcher Thermometer zeigt die Temperatur von 73° richtig an? \_\_\_\_\_
- 8) Welcher Thermometer zeigt die Temperatur von 91° richtig an? \_\_\_\_\_
- 9) Welcher Thermometer zeigt die Temperatur von 120° richtig an? \_\_\_\_\_
- 10) Welcher Thermometer zeigt die Temperatur von 24° richtig an? \_\_\_\_\_

1. \_\_\_\_\_
2. \_\_\_\_\_
3. \_\_\_\_\_
4. \_\_\_\_\_
5. \_\_\_\_\_
6. \_\_\_\_\_
7. \_\_\_\_\_
8. \_\_\_\_\_
9. \_\_\_\_\_
10. \_\_\_\_\_





Bestimme, welcher Buchstabe die Frage richtig beantwortet.

- 1) Welcher Thermometer zeigt die Temperatur von 11° richtig an?  F
- 2) Welcher Thermometer zeigt die Temperatur von 71° richtig an?  A
- 3) Welcher Thermometer zeigt die Temperatur von 96° richtig an?  E
- 4) Welcher Thermometer zeigt die Temperatur von 73° richtig an?  J
- 5) Welcher Thermometer zeigt die Temperatur von 44° richtig an?  D
- 6) Welcher Thermometer zeigt die Temperatur von 35° richtig an?  C
- 7) Welcher Thermometer zeigt die Temperatur von 73° richtig an?  G
- 8) Welcher Thermometer zeigt die Temperatur von 91° richtig an?  H
- 9) Welcher Thermometer zeigt die Temperatur von 120° richtig an?  I
- 10) Welcher Thermometer zeigt die Temperatur von 24° richtig an?  B

**Antworten**

1.  F
2.  A
3.  E
4.  J
5.  D
6.  C
7.  G
8.  H
9.  I
10.  B

