

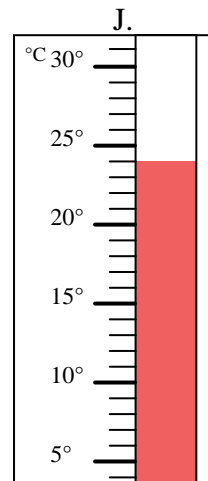
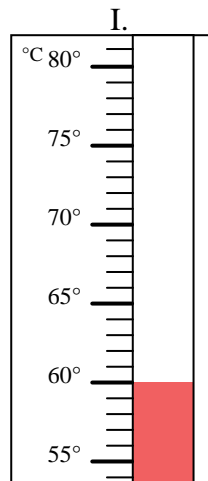
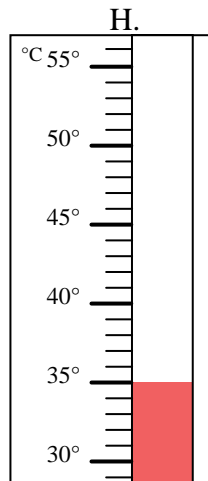
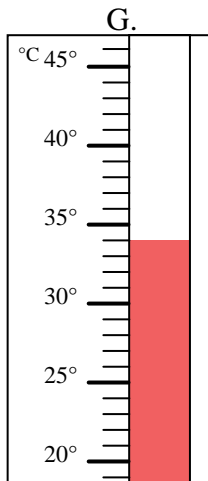
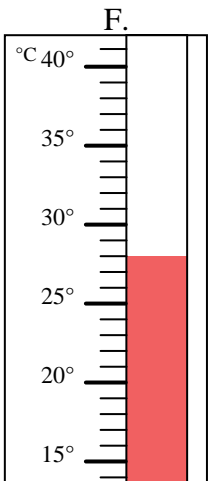
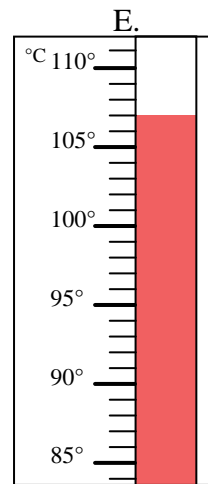
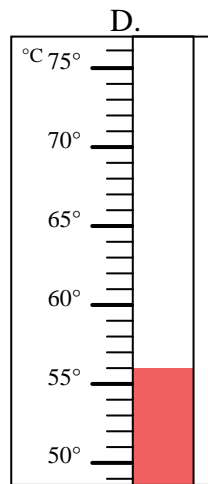
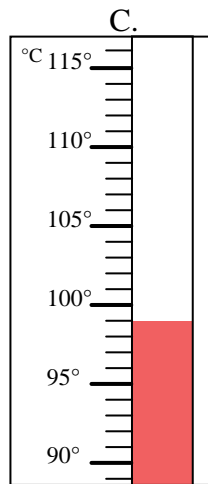
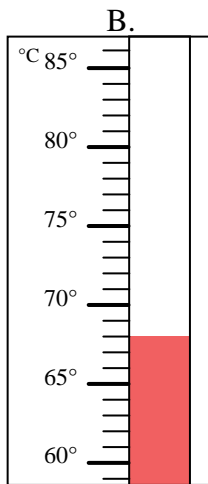
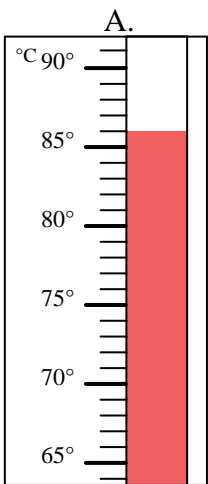


Bestimme, welcher Buchstabe die Frage richtig beantwortet.

Antworten

- 1) Welcher Thermometer zeigt die Temperatur von 86° richtig an? _____
- 2) Welcher Thermometer zeigt die Temperatur von 107° richtig an? _____
- 3) Welcher Thermometer zeigt die Temperatur von 35° richtig an? _____
- 4) Welcher Thermometer zeigt die Temperatur von 24° richtig an? _____
- 5) Welcher Thermometer zeigt die Temperatur von 34° richtig an? _____
- 6) Welcher Thermometer zeigt die Temperatur von 99° richtig an? _____
- 7) Welcher Thermometer zeigt die Temperatur von 56° richtig an? _____
- 8) Welcher Thermometer zeigt die Temperatur von 68° richtig an? _____
- 9) Welcher Thermometer zeigt die Temperatur von 60° richtig an? _____
- 10) Welcher Thermometer zeigt die Temperatur von 28° richtig an? _____

1. _____
2. _____
3. _____
4. _____
5. _____
6. _____
7. _____
8. _____
9. _____
10. _____





Bestimme, welcher Buchstabe die Frage richtig beantwortet.

- 1) Welcher Thermometer zeigt die Temperatur von 86° richtig an? A
- 2) Welcher Thermometer zeigt die Temperatur von 107° richtig an? E
- 3) Welcher Thermometer zeigt die Temperatur von 35° richtig an? H
- 4) Welcher Thermometer zeigt die Temperatur von 24° richtig an? J
- 5) Welcher Thermometer zeigt die Temperatur von 34° richtig an? G
- 6) Welcher Thermometer zeigt die Temperatur von 99° richtig an? C
- 7) Welcher Thermometer zeigt die Temperatur von 56° richtig an? D
- 8) Welcher Thermometer zeigt die Temperatur von 68° richtig an? B
- 9) Welcher Thermometer zeigt die Temperatur von 60° richtig an? I
- 10) Welcher Thermometer zeigt die Temperatur von 28° richtig an? F

Antworten

1. A
2. E
3. H
4. J
5. G
6. C
7. D
8. B
9. I
10. F

