

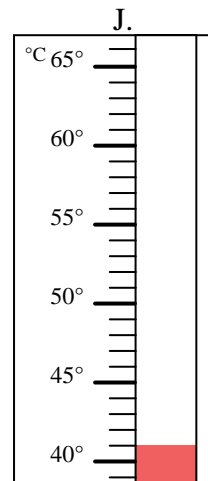
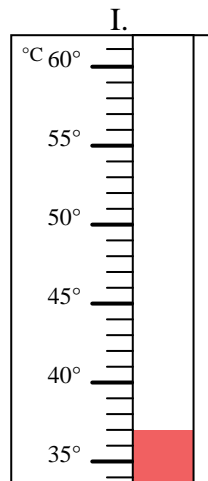
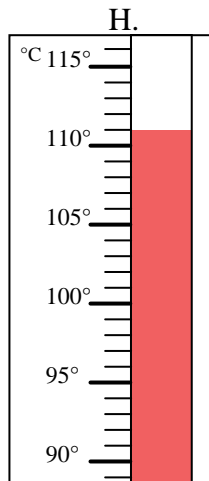
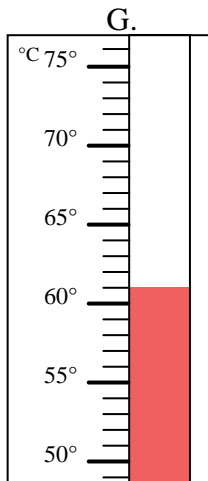
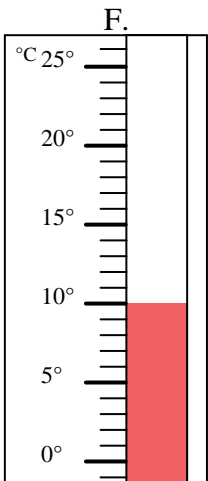
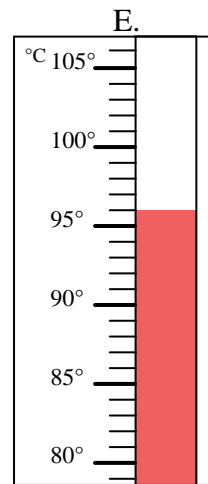
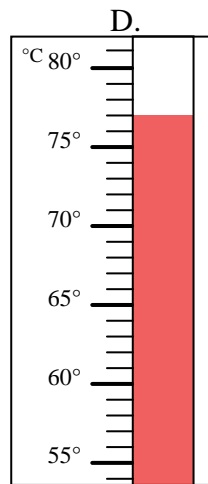
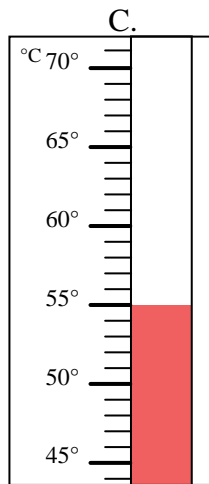
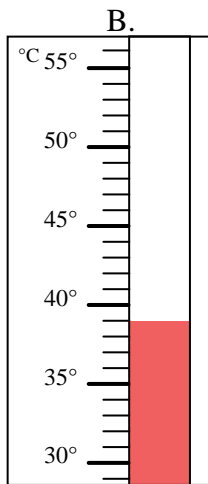
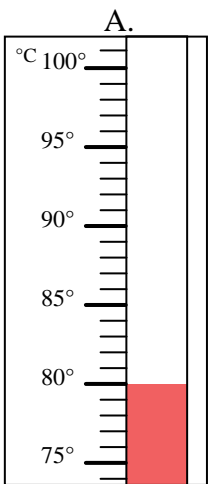


Bestimme, welcher Buchstabe die Frage richtig beantwortet.

Antworten

- 1) Welcher Thermometer zeigt die Temperatur von 39° richtig an? _____
- 2) Welcher Thermometer zeigt die Temperatur von 77° richtig an? _____
- 3) Welcher Thermometer zeigt die Temperatur von 41° richtig an? _____
- 4) Welcher Thermometer zeigt die Temperatur von 10° richtig an? _____
- 5) Welcher Thermometer zeigt die Temperatur von 61° richtig an? _____
- 6) Welcher Thermometer zeigt die Temperatur von 96° richtig an? _____
- 7) Welcher Thermometer zeigt die Temperatur von 55° richtig an? _____
- 8) Welcher Thermometer zeigt die Temperatur von 80° richtig an? _____
- 9) Welcher Thermometer zeigt die Temperatur von 111° richtig an? _____
- 10) Welcher Thermometer zeigt die Temperatur von 37° richtig an? _____

1. _____
2. _____
3. _____
4. _____
5. _____
6. _____
7. _____
8. _____
9. _____
10. _____





Bestimme, welcher Buchstabe die Frage richtig beantwortet.

- 1) Welcher Thermometer zeigt die Temperatur von 39° richtig an? B
- 2) Welcher Thermometer zeigt die Temperatur von 77° richtig an? D
- 3) Welcher Thermometer zeigt die Temperatur von 41° richtig an? J
- 4) Welcher Thermometer zeigt die Temperatur von 10° richtig an? F
- 5) Welcher Thermometer zeigt die Temperatur von 61° richtig an? G
- 6) Welcher Thermometer zeigt die Temperatur von 96° richtig an? E
- 7) Welcher Thermometer zeigt die Temperatur von 55° richtig an? C
- 8) Welcher Thermometer zeigt die Temperatur von 80° richtig an? A
- 9) Welcher Thermometer zeigt die Temperatur von 111° richtig an? H
- 10) Welcher Thermometer zeigt die Temperatur von 37° richtig an? I

Antworten

1. B
2. D
3. J
4. F
5. G
6. E
7. C
8. A
9. H
10. I

