

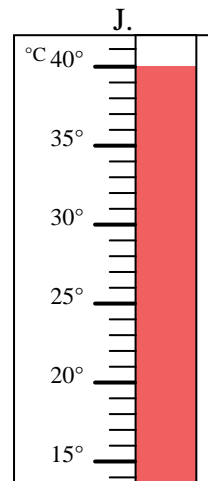
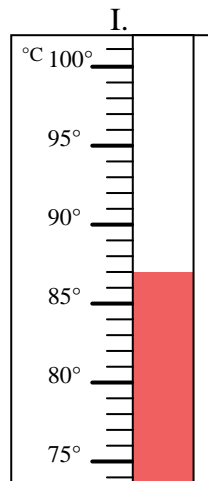
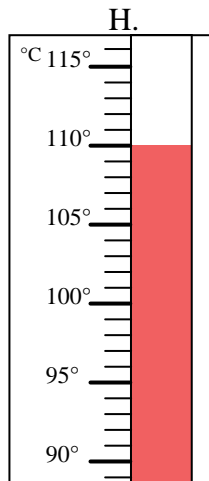
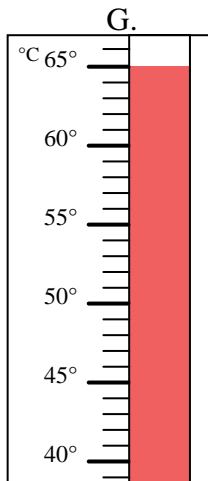
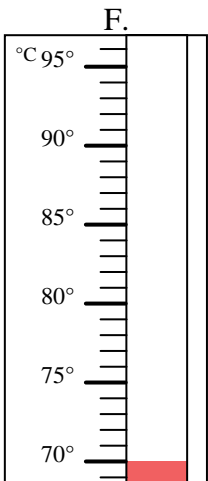
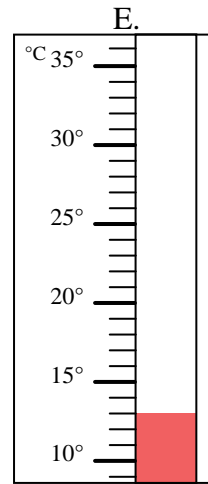
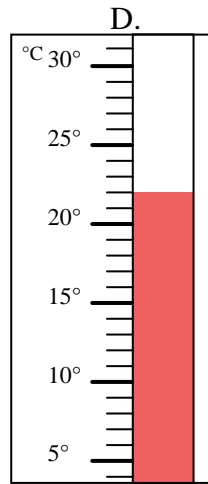
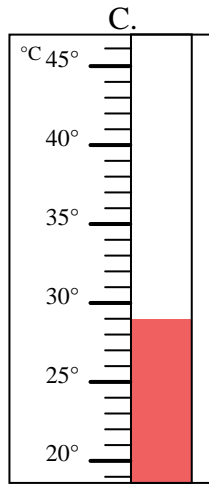
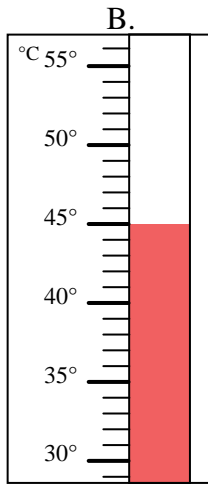
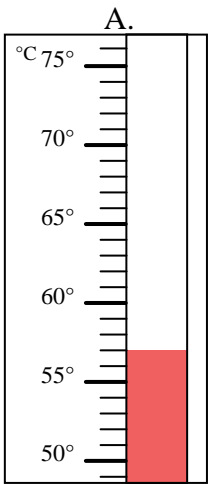


Bestimme, welcher Buchstabe die Frage richtig beantwortet.

Antworten

- 1) Welcher Thermometer zeigt die Temperatur von 110° richtig an? _____
- 2) Welcher Thermometer zeigt die Temperatur von 70° richtig an? _____
- 3) Welcher Thermometer zeigt die Temperatur von 87° richtig an? _____
- 4) Welcher Thermometer zeigt die Temperatur von 22° richtig an? _____
- 5) Welcher Thermometer zeigt die Temperatur von 65° richtig an? _____
- 6) Welcher Thermometer zeigt die Temperatur von 57° richtig an? _____
- 7) Welcher Thermometer zeigt die Temperatur von 40° richtig an? _____
- 8) Welcher Thermometer zeigt die Temperatur von 13° richtig an? _____
- 9) Welcher Thermometer zeigt die Temperatur von 45° richtig an? _____
- 10) Welcher Thermometer zeigt die Temperatur von 29° richtig an? _____

1. _____
2. _____
3. _____
4. _____
5. _____
6. _____
7. _____
8. _____
9. _____
10. _____





Bestimme, welcher Buchstabe die Frage richtig beantwortet.

- 1) Welcher Thermometer zeigt die Temperatur von 110° richtig an? H
- 2) Welcher Thermometer zeigt die Temperatur von 70° richtig an? F
- 3) Welcher Thermometer zeigt die Temperatur von 87° richtig an? I
- 4) Welcher Thermometer zeigt die Temperatur von 22° richtig an? D
- 5) Welcher Thermometer zeigt die Temperatur von 65° richtig an? G
- 6) Welcher Thermometer zeigt die Temperatur von 57° richtig an? A
- 7) Welcher Thermometer zeigt die Temperatur von 40° richtig an? J
- 8) Welcher Thermometer zeigt die Temperatur von 13° richtig an? E
- 9) Welcher Thermometer zeigt die Temperatur von 45° richtig an? B
- 10) Welcher Thermometer zeigt die Temperatur von 29° richtig an? C

Antworten

1. H
2. F
3. I
4. D
5. G
6. A
7. J
8. E
9. B
10. C

