

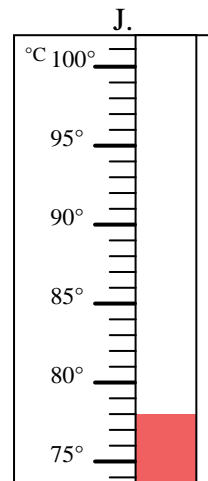
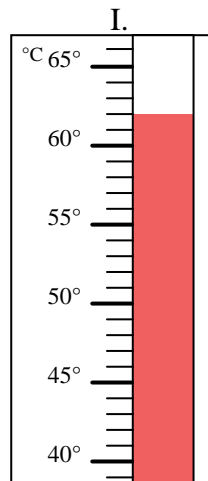
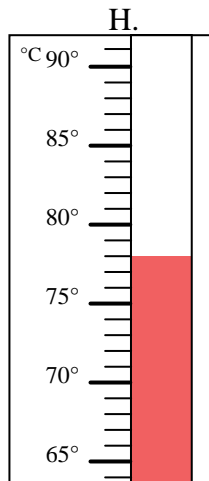
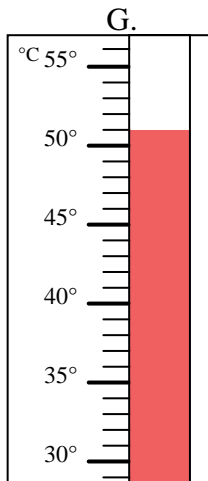
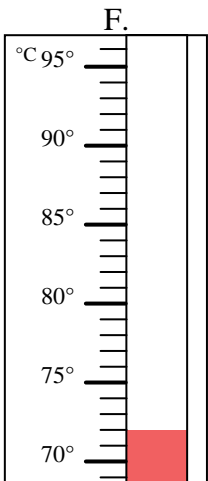
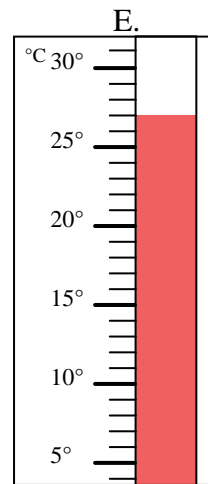
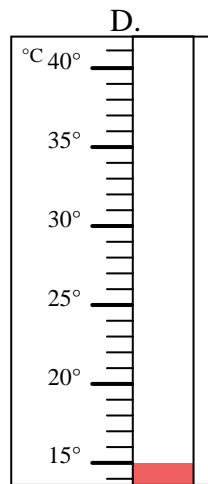
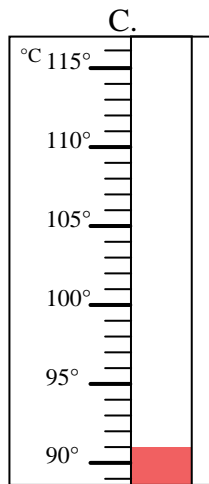
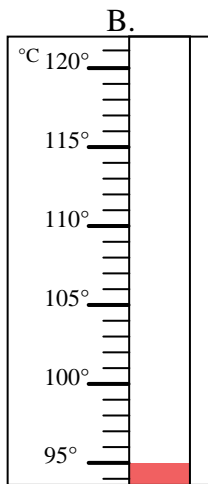
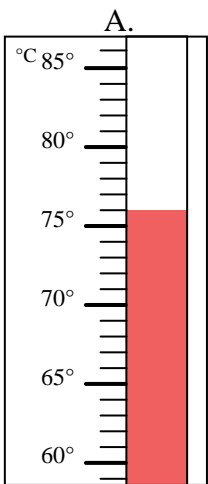


Bestimme, welcher Buchstabe die Frage richtig beantwortet.

**Antworten**

- 1) Welcher Thermometer zeigt die Temperatur von 78° richtig an? \_\_\_\_\_
- 2) Welcher Thermometer zeigt die Temperatur von 62° richtig an? \_\_\_\_\_
- 3) Welcher Thermometer zeigt die Temperatur von 51° richtig an? \_\_\_\_\_
- 4) Welcher Thermometer zeigt die Temperatur von 91° richtig an? \_\_\_\_\_
- 5) Welcher Thermometer zeigt die Temperatur von 76° richtig an? \_\_\_\_\_
- 6) Welcher Thermometer zeigt die Temperatur von 15° richtig an? \_\_\_\_\_
- 7) Welcher Thermometer zeigt die Temperatur von 78° richtig an? \_\_\_\_\_
- 8) Welcher Thermometer zeigt die Temperatur von 72° richtig an? \_\_\_\_\_
- 9) Welcher Thermometer zeigt die Temperatur von 95° richtig an? \_\_\_\_\_
- 10) Welcher Thermometer zeigt die Temperatur von 27° richtig an? \_\_\_\_\_

1. \_\_\_\_\_
2. \_\_\_\_\_
3. \_\_\_\_\_
4. \_\_\_\_\_
5. \_\_\_\_\_
6. \_\_\_\_\_
7. \_\_\_\_\_
8. \_\_\_\_\_
9. \_\_\_\_\_
10. \_\_\_\_\_





Bestimme, welcher Buchstabe die Frage richtig beantwortet.

- 1) Welcher Thermometer zeigt die Temperatur von 78° richtig an?  J
- 2) Welcher Thermometer zeigt die Temperatur von 62° richtig an?  I
- 3) Welcher Thermometer zeigt die Temperatur von 51° richtig an?  G
- 4) Welcher Thermometer zeigt die Temperatur von 91° richtig an?  C
- 5) Welcher Thermometer zeigt die Temperatur von 76° richtig an?  A
- 6) Welcher Thermometer zeigt die Temperatur von 15° richtig an?  D
- 7) Welcher Thermometer zeigt die Temperatur von 78° richtig an?  H
- 8) Welcher Thermometer zeigt die Temperatur von 72° richtig an?  F
- 9) Welcher Thermometer zeigt die Temperatur von 95° richtig an?  B
- 10) Welcher Thermometer zeigt die Temperatur von 27° richtig an?  E

**Antworten**

1.  J
2.  I
3.  G
4.  C
5.  A
6.  D
7.  H
8.  F
9.  B
10.  E

