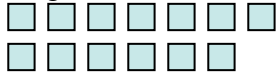




Verwende die visuelle Methode um jede Aufgabe zu lösen.

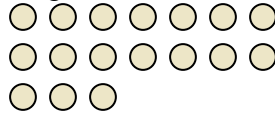
Antworten

1) Es gibt 13 Rechtecke unten.



Wenn du 3 wegnehmen müsstest, wie viele wären noch übrig?
 $13 - 3 = ?$

2) Es gibt 17 Kreise unten.



Wenn du 4 wegnehmen müsstest, wie viele wären noch übrig?
 $17 - 4 = ?$

3) Es gibt 12 Sterne unten.



Wenn du 11 wegnehmen müsstest, wie viele wären noch übrig?
 $12 - 11 = ?$

4) Es gibt 10 Sterne unten.



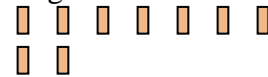
Wenn du 7 wegnehmen müsstest, wie viele wären noch übrig?
 $10 - 7 = ?$

5) Es gibt 5 Kreise unten.



Wenn du 2 wegnehmen müsstest, wie viele wären noch übrig?
 $5 - 2 = ?$

6) Es gibt 9 Vierecke unten.



Wenn du 8 wegnehmen müsstest, wie viele wären noch übrig?
 $9 - 8 = ?$

7) Es gibt 10 Dreiecke unten.



Wenn du 1 wegnehmen müsstest, wie viele wären noch übrig?
 $10 - 1 = ?$

8) Es gibt 13 Rechtecke unten.




Wenn du 11 wegnehmen müsstest, wie viele wären noch übrig?
 $13 - 11 = ?$

9) Es gibt 6 Sterne unten.



Wenn du 5 wegnehmen müsstest, wie viele wären noch übrig?
 $6 - 5 = ?$

10) Es gibt 6 Kreise unten.



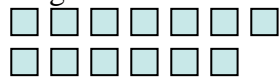
Wenn du 3 wegnehmen müsstest, wie viele wären noch übrig?
 $6 - 3 = ?$

1. _____
2. _____
3. _____
4. _____
5. _____
6. _____
7. _____
8. _____
9. _____
10. _____



Verwende die visuelle Methode um jede Aufgabe zu lösen.

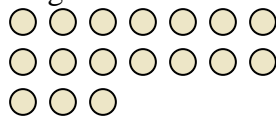
1) Es gibt 13 Rechtecke unten.



Wenn du 3 wegnehmen müsstest, wie viele wären noch übrig?

$13 - 3 = ?$

2) Es gibt 17 Kreise unten.



Wenn du 4 wegnehmen müsstest, wie viele wären noch übrig?

$17 - 4 = ?$

3) Es gibt 12 Sterne unten.



Wenn du 11 wegnehmen müsstest, wie viele wären noch übrig?

$12 - 11 = ?$

4) Es gibt 10 Sterne unten.



Wenn du 7 wegnehmen müsstest, wie viele wären noch übrig?

$10 - 7 = ?$

5) Es gibt 5 Kreise unten.



Wenn du 2 wegnehmen müsstest, wie viele wären noch übrig?

$5 - 2 = ?$

6) Es gibt 9 Vierecke unten.



Wenn du 8 wegnehmen müsstest, wie viele wären noch übrig?

$9 - 8 = ?$

7) Es gibt 10 Dreiecke unten.



Wenn du 1 wegnehmen müsstest, wie viele wären noch übrig?

$10 - 1 = ?$

8) Es gibt 13 Rechtecke unten.



Wenn du 11 wegnehmen müsstest, wie viele wären noch übrig?

$13 - 11 = ?$

9) Es gibt 6 Sterne unten.



Wenn du 5 wegnehmen müsstest, wie viele wären noch übrig?

$6 - 5 = ?$

10) Es gibt 6 Kreise unten.



Wenn du 3 wegnehmen müsstest, wie viele wären noch übrig?

$6 - 3 = ?$

Antworten

1. 10

2. 13

3. 1

4. 3

5. 3

6. 1

7. 9

8. 2

9. 1

10. 3