



**Benutze den doppelten Zahlenstrahl und löse jede Aufgabe.****Antworten**

- 1) In einem Videospiel bekommst du 3 Punkte für jede 4 Feinde, die du besiegt. Wenn du 32 Feinde besiegen würdest, wie viel Punkte hättest du dann verdient?

Feinde



Punkte



1. _____


2. _____

- 2) Ein Geschäft hatte eine Verkaufsaktion, wo man 5 Packungen Cashew-Nüsse für 3 € kaufen konnte. Wenn du 25 Packungen kaufen möchtest, wie viel würde es dann kosten?

Nüsse



Preis




3. _____

4. _____

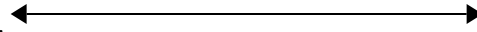
5. _____

- 3) In einem Kino wurde Popcorn gemacht. Für jede 2 Portionen Popcorn wurden 3 Tassen Öl benötigt. Nachdem 10 Portionen Popcorn gemacht wurden, wie viel Öl wurde dazu verbraucht?

Popcorn



Öl




6. _____


7. _____

- 4) Bei einer Benefizaktion in der Schule wurden Pralinen verkauft. Für jede 10 Packungen Pralinen konnte man 5 Punkte verdienen. Wenn du 30 Packungen verkaufen würdest, wie viele Punkte könntest du dann verdienen?

Packungen



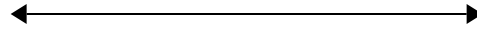
Punkte




8. _____

- 5) In einer Bonbonpackung waren für jede 3 Kirschbonbons 6 Zitronenbonbons. Wenn die Packung 42 Zitronenbonbons hat, wie viel Kirschbonbons wären dann drin?

Zitrone




Kirsch




- 6) Für jede gesammelten 10 Dosen zum Recyceln bekam Leon 2 Cent. Wenn er 60 Dosen gesammelt hat, wie viel Geld hat er dann verdient?

Dosen




Geld




- 7) Ein Bauunternehmen konnte 4 Gipsplatten kaufen für 2 €. Wenn er 12 Gipsplatten kaufen würde, wie viel Geld würde er dann ausgeben?

Gipsplatte



Preis




- 8) Ein Rezept benötigte 2 Teelöffel Gewürzmischung für jede 3 Portionen Brathähnchen. Wenn du 18 Portionen Hähnchen zubereiten

Hähnchen

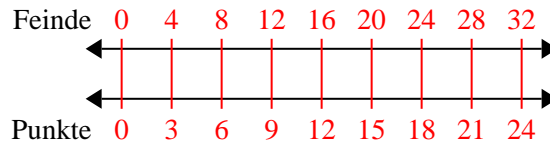


Gewürz

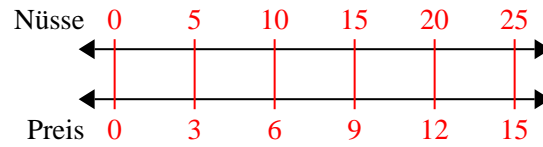


**Benutze den doppelten Zahlenstrahl und löse jede Aufgabe.**

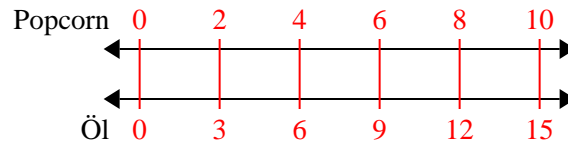
- 1) In einem Videospiel bekommst du 3 Punkte für jede 4 Feinde, die du besiegt. Wenn du 32 Feinde besiegen würdest, wie viel Punkte hättest du dann verdient?



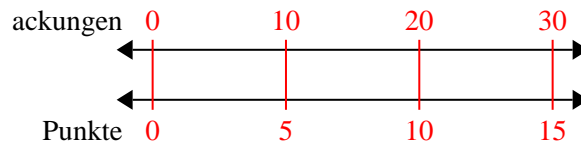
- 2) Ein Geschäft hatte eine Verkaufsaktion, wo man 5 Packungen Cashew-Nüsse für 3 € kaufen konnte. Wenn du 25 Packungen kaufen möchtest, wie viel würde es dann kosten?



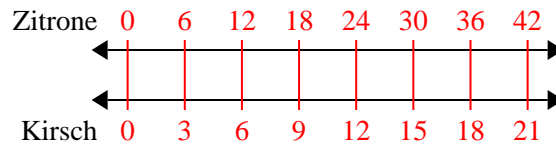
- 3) In einem Kino wurde Popcorn gemacht. Für jede 2 Portionen Popcorn wurden 3 Tassen Öl benötigt. Nachdem 10 Portionen Popcorn gemacht wurden, wie viel Öl wurde dazu verbraucht?



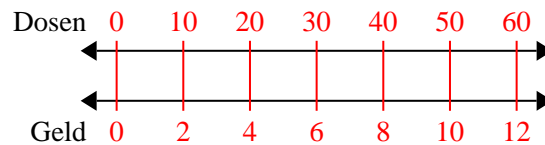
- 4) Bei einer Benefizaktion in der Schule wurden Pralinen verkauft. Für jede 10 Packungen Pralinen konnte man 5 Punkte verdienen. Wenn du 30 Packungen verkaufen würdest, wie viele Punkte könntest du dann verdienen?



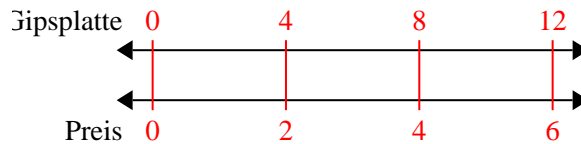
- 5) In einer Bonbonpackung waren für jede 3 Kirschbonbons 6 Zitronenbonbons. Wenn die Packung 42 Zitronenbonbons hat, wie viel Kirschbonbons wären dann drin?



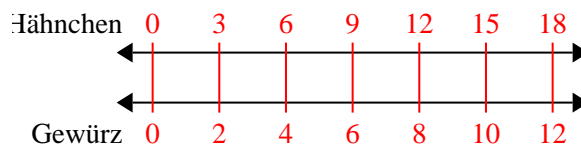
- 6) Für jede gesammelten 10 Dosen zum Recyceln bekam Leon 2 Cent. Wenn er 60 Dosen gesammelt hat, wie viel Geld hat er dann verdient?



- 7) Ein Bauunternehmen konnte 4 Gipsplatten kaufen für 2 €. Wenn er 12 Gipsplatten kaufen würde, wie viel Geld würde er dann ausgeben?



- 8) Ein Rezept benötigte 2 Teelöffel Gewürzmischung für jede 3 Portionen Brathähnchen. Wenn du 18 Portionen Hähnchen zubereiten

**Antworten**

1. **24**
2. **15**
3. **15**
4. **15**
5. **21**
6. **12**
7. **6**
8. **12**