



**Benutze den doppelten Zahlenstrahl und löse jede Aufgabe.****Antworten**

- 1) Ein Rezept benötigte 10 Teelöffel Gewürzmischung für jede 6 Portionen Brathähnchen. Wenn du 48 Portionen Hähnchen zubereiten möchtest, wie viele Teelöffel Gewürzmischung wirst du brauchen?

Hähnchen




Gewürz



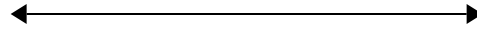
1. _____

- 2) In einer Bonbonpackung waren für jede 8 Kirschbonbons 4 Zitronenbonbons. Wenn die Packung 40 Zitronenbonbons hat, wie viel Kirschbonbons wären dann drin?

Zitrone




Kirsch




2. _____

- 3) In einem Kino wurde Popcorn gemacht. Für jede 6 Portionen Popcorn wurden 4 Tassen Öl benötigt. Nachdem 18 Portionen Popcorn gemacht wurden, wie viel Öl wurde dazu verbraucht?

Popcorn




Öl




3. _____

- 4) Ein Bauunternehmen konnte 8 Gipsplatten kaufen für 7 €. Wenn er 16 Gipsplatten kaufen würde, wie viel Geld würde er dann ausgeben?

Gipsplatte



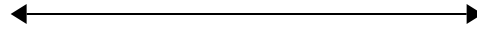
Preis




4. _____

- 5) Für jede gesammelten 4 Dosen zum Recyclen bekam BVAR 10 Cent. Wenn er 12 Dosen gesammelt hat, wie viel Geld hat er dann verdient?

Dosen




Geld



5. _____

- 6) Auf ihrem MP3-Spieler hatte GVAR für jede 9 Poplieder 8 Country-Lieder. Wenn sie 54 Poplieder auf ihrem MP3-Spieler hat, wie viele Country-Lieder hat sie dann?

Pop




Country




6. _____

- 7) In einem Hamburger-Restaurant bekamen die Gäste 3 Servietten für jede 9 bestellten Hamburger. Wenn jemand 90 Hamburger bestellte, wie viele Servietten sollte er bekommen?

Hamburger




Servietten



7. _____

- 8) Ein Geschäft hatte eine Verkaufsaktion, wo man 10 Packungen Cashew-Nüsse für 8 € kaufen konnte. Wenn du 80

Nüsse



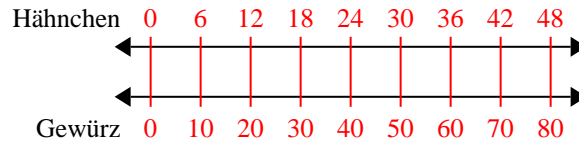
Preis



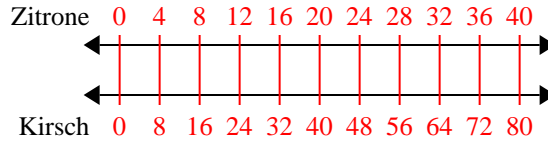
8. _____

**Benutze den doppelten Zahlenstrahl und löse jede Aufgabe.**

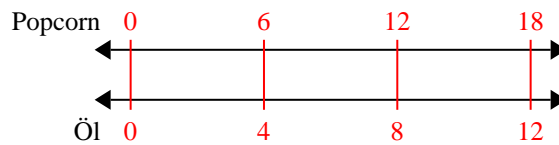
- 1) Ein Rezept benötigte 10 Teelöffel Gewürzmischung für jede 6 Portionen Brathähnchen. Wenn du 48 Portionen Hähnchen zubereiten möchtest, wie viele Teelöffel Gewürzmischung wirst du brauchen?



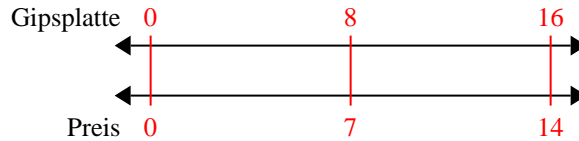
- 2) In einer Bonbonpackung waren für jede 8 Kirschbonbons 4 Zitronenbonbons. Wenn die Packung 40 Zitronenbonbons hat, wie viel Kirschbonbons wären dann drin?



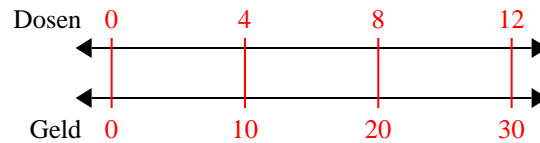
- 3) In einem Kino wurde Popcorn gemacht. Für jede 6 Portionen Popcorn wurden 4 Tassen Öl benötigt. Nachdem 18 Portionen Popcorn gemacht wurden, wie viel Öl wurde dazu verbraucht?



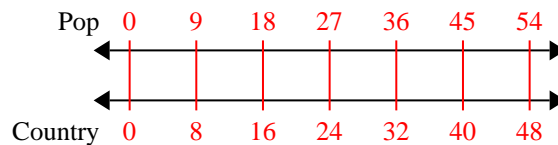
- 4) Ein Bauunternehmen konnte 8 Gipsplatten kaufen für 7 €. Wenn er 16 Gipsplatten kaufen würde, wie viel Geld würde er dann ausgeben?



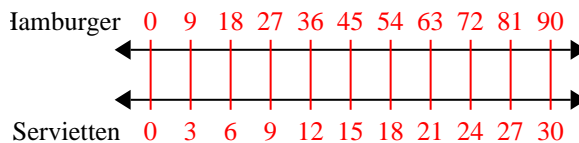
- 5) Für jede gesammelten 4 Dosen zum Recyclen bekam BVAR 10 Cent. Wenn er 12 Dosen gesammelt hat, wie viel Geld hat er dann verdient?



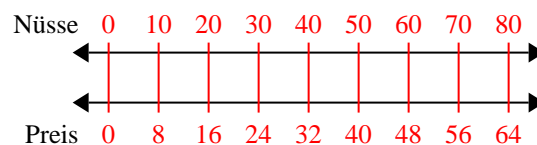
- 6) Auf ihrem MP3-Spieler hatte GVAR für jede 9 Poplieder 8 Country-Lieder. Wenn sie 54 Poplieder auf ihrem MP3-Spieler hat, wie viele Country-Lieder hat sie dann?



- 7) In einem Hamburger-Restaurant bekamen die Gäste 3 Servietten für jede 9 bestellten Hamburger. Wenn jemand 90 Hamburger bestellte, wie viele Servietten sollte er bekommen?



- 8) Ein Geschäft hatte eine Verkaufsaktion, wo man 10 Packungen Cashew-Nüsse für 8 € kaufen konnte. Wenn du 80

**Antworten**

1. **80**
 2. **80**
 3. **12**
 4. **14**
 5. **30**
 6. **48**
 7. **30**
 8. **64**