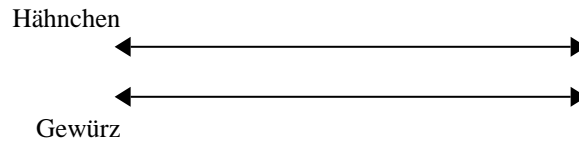


**Benutze den doppelten Zahlenstrahl und löse jede Aufgabe.****Antworten**

- 1) Ein Rezept benötigte 8 Teelöffel Gewürzmischung für jede 2 Portionen Brathähnchen. Wenn du 20 Portionen Hähnchen zubereiten möchtest, wie viele Teelöffel Gewürzmischung wirst du brauchen?

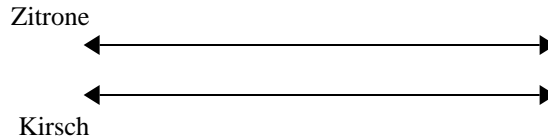


1. _____

2. _____

3. _____

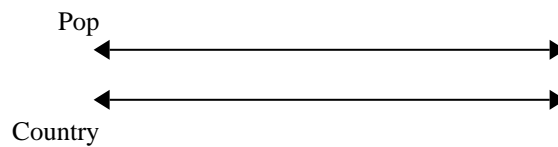
- 2) In einer Bonbonpackung waren für jede 5 Kirschbonbons 8 Zitronenbonbons. Wenn die Packung 32 Zitronenbonbons hat, wie viel Kirschbonbons wären dann drin?



4. _____

5. _____

- 3) Auf ihrem MP3-Spieler hatte GVAR für jede 9 Poplieder 8 Country-Lieder. Wenn sie 36 Poplieder auf ihrem MP3-Spieler hat, wie viele Country-Lieder hat sie dann?

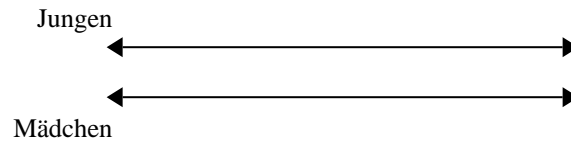


6. _____


7. _____

8. _____

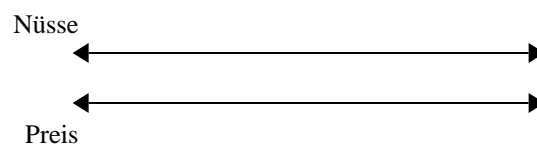
- 4) Das Verhältnis von Jungen zu Mädchen auf dem Spielplatz war 7 zu 3. Wenn es 21 Jungen gab, wie viele Mädchen waren dann da?



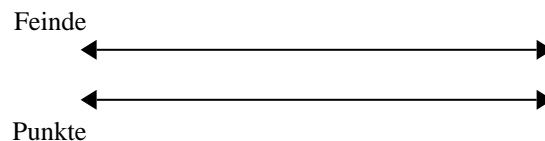
- 5) Für jede gesammelten 4 Dosen zum Recyceln bekam BVAR 9 Cent. Wenn er 12 Dosen gesammelt hat, wie viel Geld hat er dann verdient?



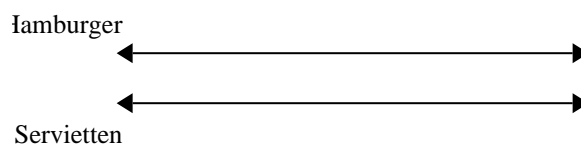
- 6) Ein Geschäft hatte eine Verkaufsaktion, wo man 7 Packungen Cashew-Nüsse für 3 € kaufen konnte. Wenn du 70 Packungen kaufen möchtest, wie viel würde es dann kosten?



- 7) In einem Videospiel bekommst du 6 Punkte für jede 2 Feinde, die du besiegt. Wenn du 8 Feinde besiegen würdest, wie viel Punkte hättest du dann verdient?

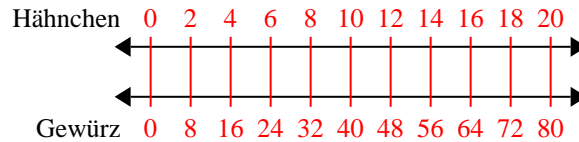


- 8) In einem Hamburger-Restaurant bekamen die Gäste 3 Servietten für jede 2 bestellten Hamburger. Wenn jemand 14 Hamburger bestellte, wie viele Servietten sollte er

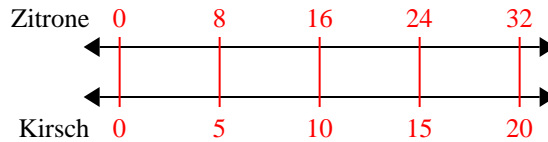


**Benutze den doppelten Zahlenstrahl und löse jede Aufgabe.**

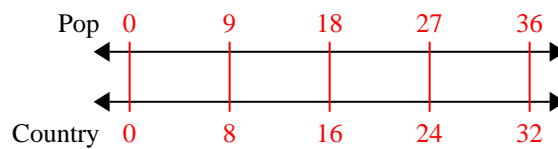
- 1) Ein Rezept benötigte 8 Teelöffel Gewürzmischung für jede 2 Portionen Brathähnchen. Wenn du 20 Portionen Hähnchen zubereiten möchtest, wie viele Teelöffel Gewürzmischung wirst du brauchen?



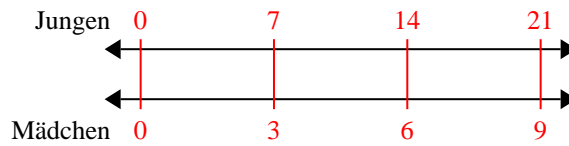
- 2) In einer Bonbonpackung waren für jede 5 Kirschbonbons 8 Zitronenbonbons. Wenn die Packung 32 Zitronenbonbons hat, wie viel Kirschbonbons wären dann drin?



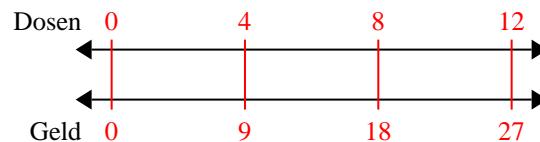
- 3) Auf ihrem MP3-Spieler hatte GVAR für jede 9 Poplieder 8 Country-Lieder. Wenn sie 36 Poplieder auf ihrem MP3-Spieler hat, wie viele Country-Lieder hat sie dann?



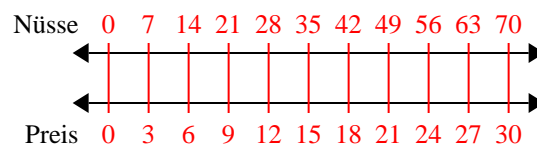
- 4) Das Verhältnis von Jungen zu Mädchen auf dem Spielplatz war 7 zu 3. Wenn es 21 Jungen gab, wie viele Mädchen waren dann da?



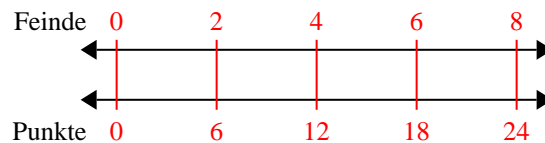
- 5) Für jede gesammelten 4 Dosen zum Recyclen bekam BVAR 9 Cent. Wenn er 12 Dosen gesammelt hat, wie viel Geld hat er dann verdient?



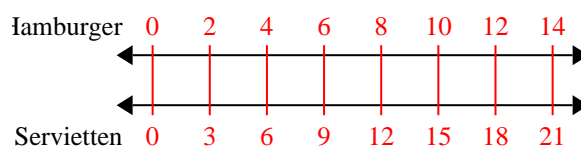
- 6) Ein Geschäft hatte eine Verkaufsaktion, wo man 7 Packungen Cashew-Nüsse für 3 € kaufen konnte. Wenn du 70 Packungen kaufen möchtest, wie viel würde es dann kosten?



- 7) In einem Videospiel bekommst du 6 Punkte für jede 2 Feinde, die du besiegt. Wenn du 8 Feinde besiegen würdest, wie viel Punkte hättest du dann verdient?



- 8) In einem Hamburger-Restaurant bekamen die Gäste 3 Servietten für jede 2 bestellten Hamburger. Wenn jemand 14 Hamburger bestellte, wie viele Servietten sollte er...

**Antworten**

1. 80
2. 20
3. 32
4. 9
5. 27
6. 30
7. 24
8. 21