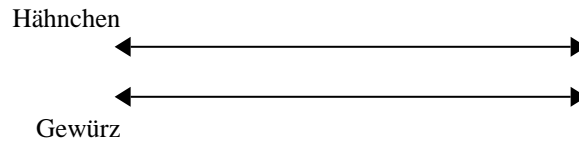


**Benutze den doppelten Zahlenstrahl und löse jede Aufgabe.****Antworten**

- 1) Ein Rezept benötigte 4 Teelöffel Gewürzmischung für jede 5 Portionen Brathähnchen. Wenn du 20 Portionen Hähnchen zubereiten möchtest, wie viele Teelöffel Gewürzmischung wirst du brauchen?

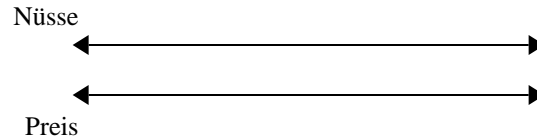


1. _____

2. _____

3. _____

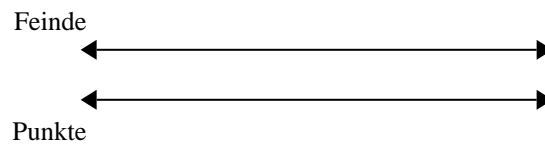
- 2) Ein Geschäft hatte eine Verkaufsaktion, wo man 2 Packungen Cashew-Nüsse für 5 € kaufen konnte. Wenn du 18 Packungen kaufen möchtest, wie viel würde es dann kosten?



4. _____

5. _____

- 3) In einem Videospiel bekommst du 4 Punkte für jede 8 Feinde, die du besiegt. Wenn du 64 Feinde besiegen würdest, wie viel Punkte hättest du dann verdient?

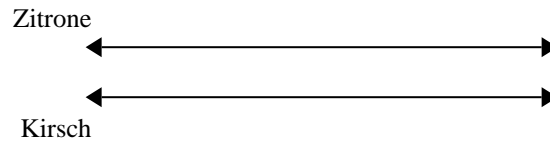


6. _____

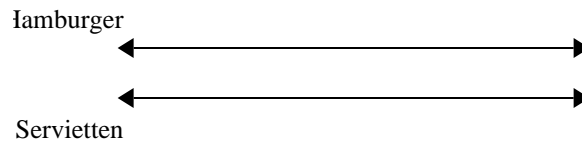
7. _____

8. _____

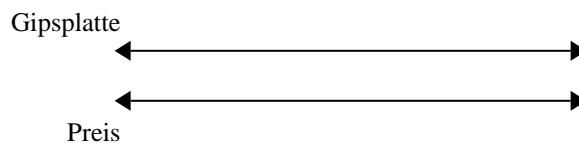
- 4) In einer Bonbonpackung waren für jede 7 Kirschbonbons 3 Zitronenbonbons. Wenn die Packung 24 Zitronenbonbons hat, wie viel Kirschbonbons wären dann drin?



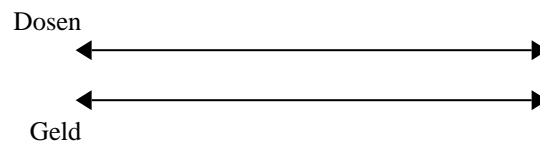
- 5) In einem Hamburger-Restaurant bekamen die Gäste 9 Servietten für jede 8 bestellten Hamburger. Wenn jemand 40 Hamburger bestellte, wie viele Servietten sollte er bekommen?



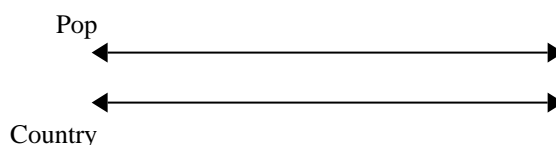
- 6) Ein Bauunternehmen konnte 5 Gipsplatten kaufen für 2 €. Wenn er 20 Gipsplatten kaufen würde, wie viel Geld würde er dann ausgeben?



- 7) Für jede gesammelten 4 Dosen zum Recyceln bekam BVAR 5 Cent. Wenn er 8 Dosen gesammelt hat, wie viel Geld hat er dann verdient?

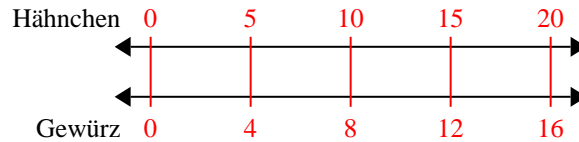


- 8) Auf ihrem MP3-Spieler hatte GVAR für jede 4 Poplieder 9 Country-Lieder. Wenn sie 12 Poplieder auf ihrem MP3-Spieler hat, wie viele

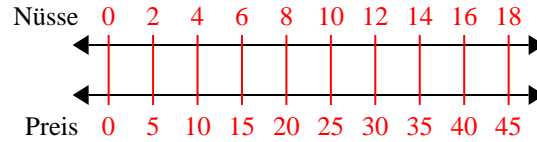


**Benutze den doppelten Zahlenstrahl und löse jede Aufgabe.**

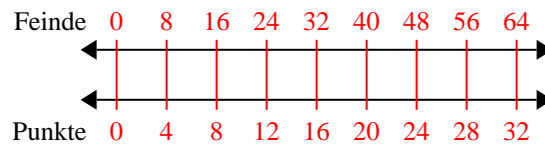
- 1) Ein Rezept benötigte 4 Teelöffel Gewürzmischung für jede 5 Portionen Brathähnchen. Wenn du 20 Portionen Hähnchen zubereiten möchtest, wie viele Teelöffel Gewürzmischung wirst du brauchen?



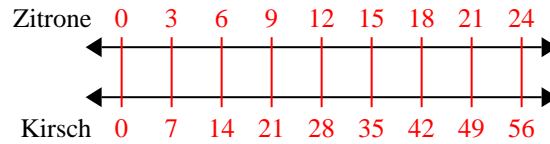
- 2) Ein Geschäft hatte eine Verkaufsaktion, wo man 2 Packungen Cashew-Nüsse für 5 € kaufen konnte. Wenn du 18 Packungen kaufen möchtest, wie viel würde es dann kosten?



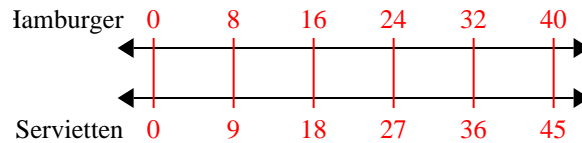
- 3) In einem Videospiel bekommst du 4 Punkte für jede 8 Feinde, die du besiegt. Wenn du 64 Feinde besiegen würdest, wie viel Punkte hättest du dann verdient?



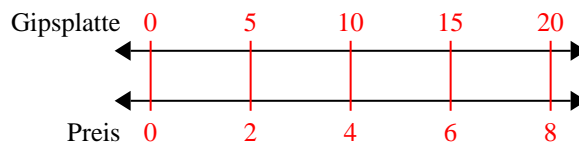
- 4) In einer Bonbonpackung waren für jede 7 Kirschbonbons 3 Zitronenbonbons. Wenn die Packung 24 Zitronenbonbons hat, wie viel Kirschbonbons wären dann drin?



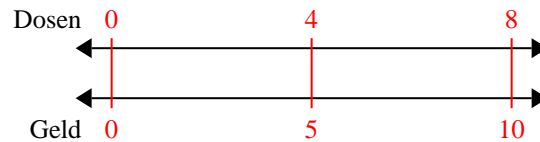
- 5) In einem Hamburger-Restaurant bekamen die Gäste 9 Servietten für jede 8 bestellten Hamburger. Wenn jemand 40 Hamburger bestellte, wie viele Servietten sollte er bekommen?



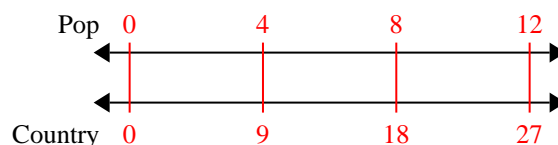
- 6) Ein Bauunternehmen konnte 5 Gipsplatten kaufen für 2 €. Wenn er 20 Gipsplatten kaufen würde, wie viel Geld würde er dann ausgeben?



- 7) Für jede gesammelten 4 Dosen zum Recyclen bekam BVAR 5 Cent. Wenn er 8 Dosen gesammelt hat, wie viel Geld hat er dann verdient?



- 8) Auf ihrem MP3-Spieler hatte GVAR für jede 4 Poplieder 9 Country-Lieder. Wenn sie 12 Poplieder auf ihrem MP3-Spieler hat, wie viele

**Antworten**

1. 16
2. 45
3. 32
4. 56
5. 45
6. 8
7. 10
8. 27