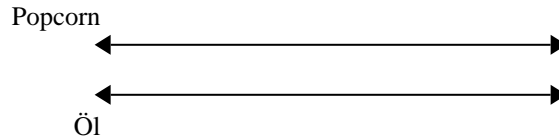


**Benutze den doppelten Zahlenstrahl und löse jede Aufgabe.****Antworten**

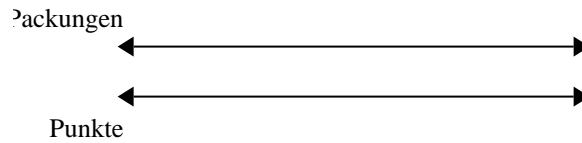
- 1) In einem Kino wurde Popcorn gemacht. Für jede 7 Portionen Popcorn wurden 3 Tassen Öl benötigt. Nachdem 28 Portionen Popcorn gemacht wurden, wie viel Öl wurde dazu verbraucht?



1. _____

2. _____

- 2) Bei einer Benefizaktion in der Schule wurden Pralinen verkauft. Für jede 6 Packungen Pralinen konnte man 5 Punkte verdienen. Wenn du 48 Packungen verkaufen würdest, wie viele Punkte könntest du dann verdienen?

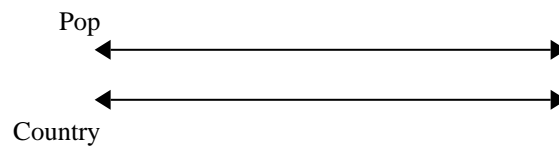


3. _____

4. _____

5. _____

- 3) Auf ihrem MP3-Spieler hatte GVAR für jede 3 Poplieder 10 Country-Lieder. Wenn sie 21 Poplieder auf ihrem MP3-Spieler hat, wie viele Country-Lieder hat sie dann?

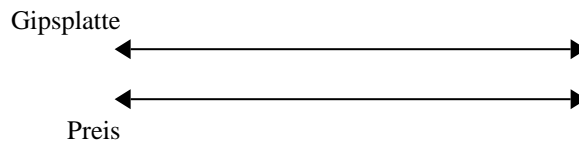


6. _____


7. _____

8. _____


- 4) Ein Bauunternehmen konnte 3 Gipsplatten kaufen für 2 €. Wenn er 6 Gipsplatten kaufen würde, wie viel Geld würde er dann ausgeben?



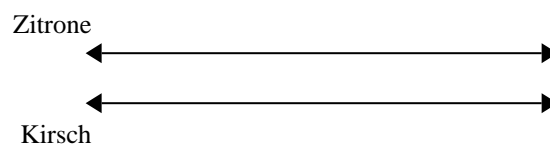
- 5) Ein Rezept benötigte 4 Teelöffel Gewürzmischung für jede 2 Portionen Brathähnchen. Wenn du 8 Portionen Hähnchen zubereiten möchtest, wie viele Teelöffel Gewürzmischung wirst du brauchen?




- 6) Das Verhältnis von Jungen zu Mädchen auf dem Spielplatz war 9 zu 2. Wenn es 45 Jungen gab, wie viele Mädchen waren dann da?



- 7) In einer Bonbonpackung waren für jede 3 Kirschbonbons 10 Zitronenbonbons. Wenn die Packung 100 Zitronenbonbons hat, wie viel Kirschbonbons wären dann drin?

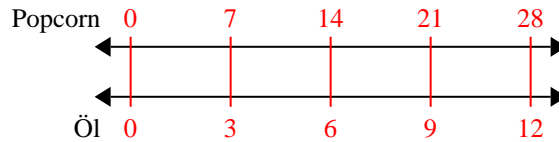


- 8) Für jede gesammelten 8 Dosen zum Recyceln bekam BVAR 7 Cent. Wenn er 56 Dosen gesammelt hat,

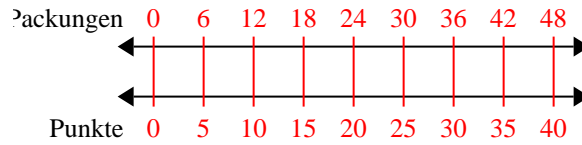


**Benutze den doppelten Zahlenstrahl und löse jede Aufgabe.**

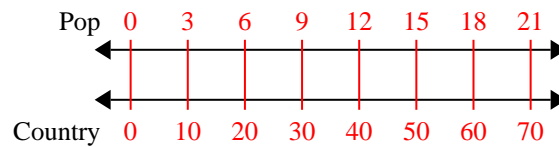
- 1) In einem Kino wurde Popcorn gemacht. Für jede 7 Portionen Popcorn wurden 3 Tassen Öl benötigt. Nachdem 28 Portionen Popcorn gemacht wurden, wie viel Öl wurde dazu verbraucht?



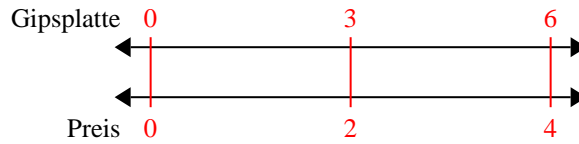
- 2) Bei einer Benefizaktion in der Schule wurden Pralinen verkauft. Für jede 6 Packungen Pralinen konnte man 5 Punkte verdienen. Wenn du 48 Packungen verkaufen würdest, wie viele Punkte könntest du dann verdienen?



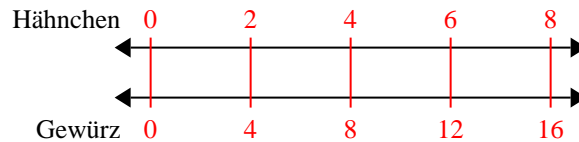
- 3) Auf ihrem MP3-Spieler hatte GVAR für jede 3 Poplieder 10 Country-Lieder. Wenn sie 21 Poplieder auf ihrem MP3-Spieler hat, wie viele Country-Lieder hat sie dann?



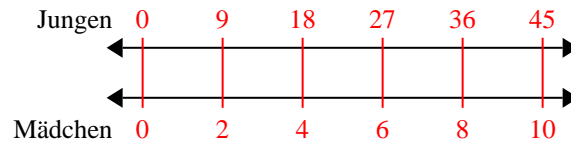
- 4) Ein Bauunternehmen konnte 3 Gipsplatten kaufen für 2 €. Wenn er 6 Gipsplatten kaufen würde, wie viel Geld würde er dann ausgeben?



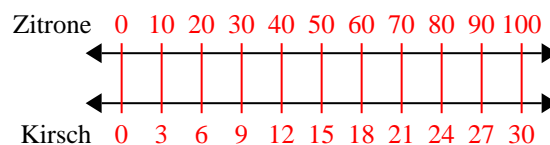
- 5) Ein Rezept benötigte 4 Teelöffel Gewürzmischung für jede 2 Portionen Brathähnchen. Wenn du 8 Portionen Hähnchen zubereiten möchtest, wie viele Teelöffel Gewürzmischung wirst du brauchen?



- 6) Das Verhältnis von Jungen zu Mädchen auf dem Spielplatz war 9 zu 2. Wenn es 45 Jungen gab, wie viele Mädchen waren dann da?



- 7) In einer Bonbonpackung waren für jede 3 Kirschbonbons 10 Zitronenbonbons. Wenn die Packung 100 Zitronenbonbons hat, wie viel Kirschbonbons wären dann drin?



- 8) Für jede gesammelten 8 Dosen zum Recyceln bekam BVAR 7 Cent. Wenn er 56 Dosen gesammelt hat,

**Antworten**

1. **12**
2. **40**
3. **70**
4. **4**
5. **16**
6. **10**
7. **30**
8. **49**