



**Benutze den doppelten Zahlenstrahl und löse jede Aufgabe.****Antworten**

- 1) Ein Geschäft hatte eine Verkaufsaktion, wo man 7 Packungen Cashew-Nüsse für 2 € kaufen konnte. Wenn du 35 Packungen kaufen möchtest, wie viel würde es dann kosten?

Nüsse



Preis




1. _____


2. _____

- 2) Für jede gesammelten 9 Dosen zum Recyclen bekam BVAR 10 Cent. Wenn er 72 Dosen gesammelt hat, wie viel Geld hat er dann verdient?

Dosen



Geld




3. _____

4. _____


5. _____

- 3) Das Verhältnis von Jungen zu Mädchen auf dem Spielplatz war 8 zu 5. Wenn es 32 Jungen gab, wie viele Mädchen waren dann da?

Jungen



Mädchen




6. _____

7. _____

- 4) Ein Bauunternehmen konnte 7 Gipsplatten kaufen für 6 €. Wenn er 49 Gipsplatten kaufen würde, wie viel Geld würde er dann ausgeben?

Gipsplatte




Preis




8. _____

- 5) In einem Videospiel bekommst du 4 Punkte für jede 10 Feinde, die du besiegt. Wenn du 70 Feinde besiegen würdest, wie viel Punkte hättest du dann verdient?

Feinde



Punkte




- 6) Auf ihrem MP3-Spieler hatte GVAR für jede 10 Poplieder 8 Country-Lieder. Wenn sie 30 Poplieder auf ihrem MP3-Spieler hat, wie viele Country-Lieder hat sie dann?

Pop




Country




- 7) In einer Bonbonpackung waren für jede 2 Kirschbonbons 4 Zitronenbonbons. Wenn die Packung 24 Zitronenbonbons hat, wie viel Kirschbonbons wären dann drin?

Zitrone



Kirsch




- 8) In einem Hamburger-Restaurant bekamen die Gäste 2 Servietten für jede 7 bestellten Hamburger. Wenn jemand 35 Hamburger bestellte, wie viele Servietten sollte er bekommen?

Hamburger

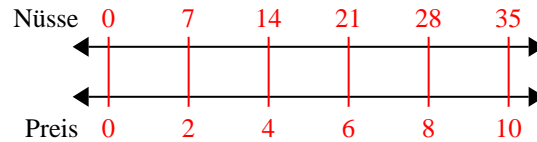


Servietten

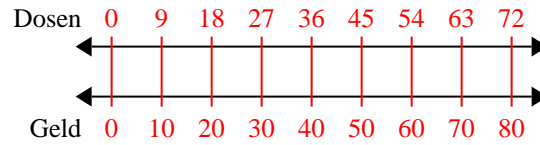


**Benutze den doppelten Zahlenstrahl und löse jede Aufgabe.**

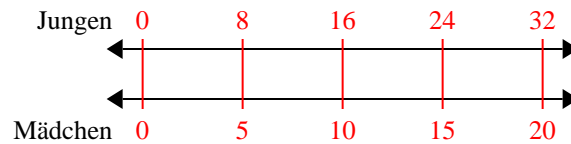
- 1) Ein Geschäft hatte eine Verkaufsaktion, wo man 7 Packungen Cashew-Nüsse für 2 € kaufen konnte. Wenn du 35 Packungen kaufen möchtest, wie viel würde es dann kosten?



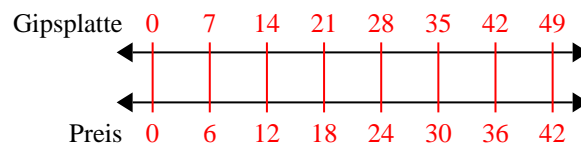
- 2) Für jede gesammelten 9 Dosen zum Recyclen bekam BVAR 10 Cent. Wenn er 72 Dosen gesammelt hat, wie viel Geld hat er dann verdient?



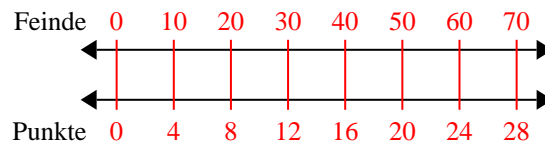
- 3) Das Verhältnis von Jungen zu Mädchen auf dem Spielplatz war 8 zu 5. Wenn es 32 Jungen gab, wie viele Mädchen waren dann da?



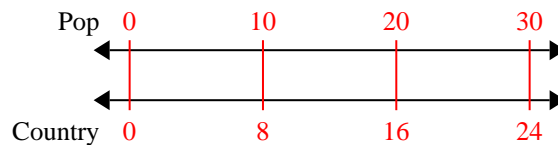
- 4) Ein Bauunternehmen konnte 7 Gipsplatten kaufen für 6 €. Wenn er 49 Gipsplatten kaufen würde, wie viel Geld würde er dann ausgeben?



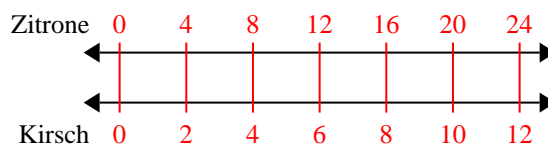
- 5) In einem Videospiel bekommst du 4 Punkte für jede 10 Feinde, die du besiegt. Wenn du 70 Feinde besiegen würdest, wie viel Punkte hättest du dann verdient?



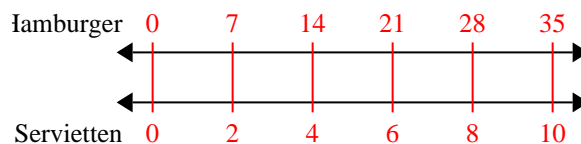
- 6) Auf ihrem MP3-Spieler hatte GVAR für jede 10 Poplieder 8 Country-Lieder. Wenn sie 30 Poplieder auf ihrem MP3-Spieler hat, wie viele Country-Lieder hat sie dann?



- 7) In einer Bonbonpackung waren für jede 2 Kirschbonbons 4 Zitronenbonbons. Wenn die Packung 24 Zitronenbonbons hat, wie viel Kirschbonbons wären dann drin?



- 8) In einem Hamburger-Restaurant bekamen die Gäste 2 Servietten für jede 7 bestellten Hamburger. Wenn jemand 35 Hamburger bestellte, wie viele Servietten sollte er bekommen?

**Antworten**

1. **10**
2. **80**
3. **20**
4. **42**
5. **28**
6. **24**
7. **12**
8. **10**