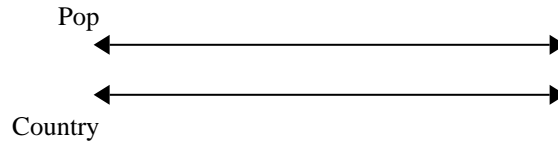


**Benutze den doppelten Zahlenstrahl und löse jede Aufgabe.****Antworten**

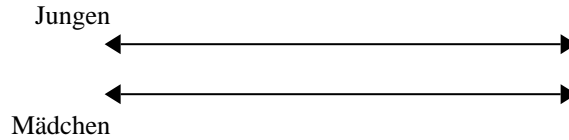
- 1) Auf ihrem MP3-Spieler hatte GVAR für jede 9 Poplieder 6 Country-Lieder. Wenn sie 90 Poplieder auf ihrem MP3-Spieler hat, wie viele Country-Lieder hat sie dann?



1. _____

2. _____

- 2) Das Verhältnis von Jungen zu Mädchen auf dem Spielplatz war 5 zu 10. Wenn es 40 Jungen gab, wie viele Mädchen waren dann da?

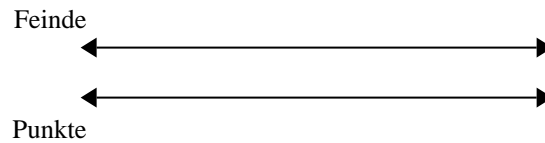


3. _____

4. _____

5. _____

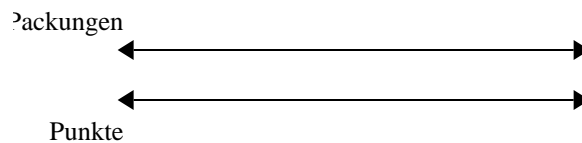
- 3) In einem Videospiel bekommst du 10 Punkte für jede 5 Feinde, die du besiegt. Wenn du 50 Feinde besiegen würdest, wie viel Punkte hättest du dann verdient?



6. _____


7. _____

- 4) Bei einer Benefizaktion in der Schule wurden Pralinen verkauft. Für jede 10 Packungen Pralinen konnte man 7 Punkte verdienen. Wenn du 20 Packungen verkaufen würdest, wie viele Punkte könntest du dann verdienen?




8. _____

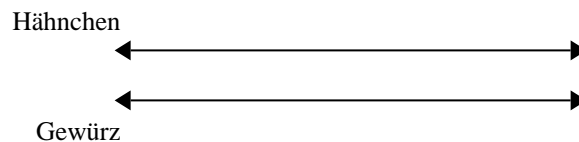
- 5) Ein Bauunternehmen konnte 4 Gipsplatten kaufen für 9 €. Wenn er 32 Gipsplatten kaufen würde, wie viel Geld würde er dann ausgeben?




- 6) Ein Geschäft hatte eine Verkaufsaktion, wo man 5 Packungen Cashew-Nüsse für 4 € kaufen konnte. Wenn du 10 Packungen kaufen möchtest, wie viel würde es dann kosten?



- 7) Ein Rezept benötigte 7 Teelöffel Gewürzmischung für jede 4 Portionen Brathähnchen. Wenn du 40 Portionen Hähnchen zubereiten möchtest, wie viele Teelöffel Gewürzmischung wirst du brauchen?

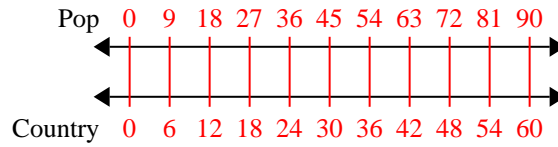


- 8) In einer Bonbonpackung waren für jede 6 Kirschbonbons 10 Zitronenbonbons. Wenn die Packung 60 Zitronenbonbons hat

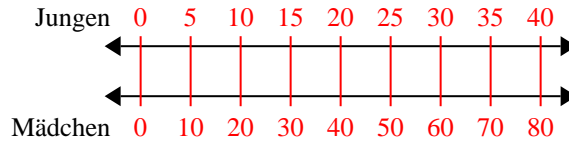


**Benutze den doppelten Zahlenstrahl und löse jede Aufgabe.**

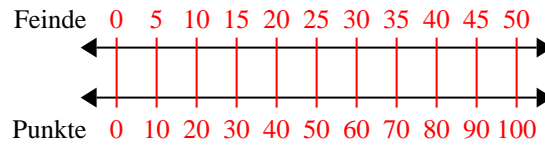
- 1) Auf ihrem MP3-Spieler hatte GVAR für jede 9 Poplieder 6 Country-Lieder. Wenn sie 90 Poplieder auf ihrem MP3-Spieler hat, wie viele Country-Lieder hat sie dann?



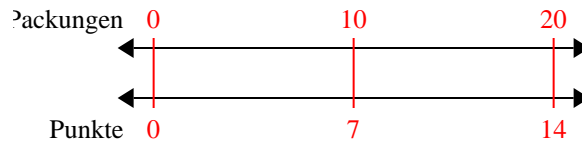
- 2) Das Verhältnis von Jungen zu Mädchen auf dem Spielplatz war 5 zu 10. Wenn es 40 Jungen gab, wie viele Mädchen waren dann da?



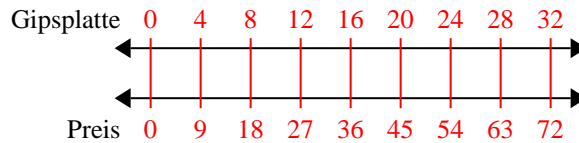
- 3) In einem Videospiel bekommst du 10 Punkte für jede 5 Feinde, die du besiegt. Wenn du 50 Feinde besiegen würdest, wie viel Punkte hättest du dann verdient?



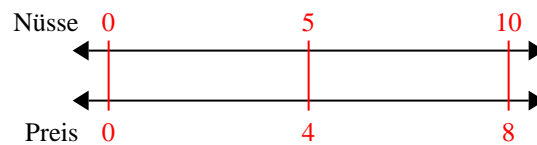
- 4) Bei einer Benefizaktion in der Schule wurden Pralinen verkauft. Für jede 10 Packungen Pralinen konnte man 7 Punkte verdienen. Wenn du 20 Packungen verkaufen würdest, wie viele Punkte könntest du dann verdienen?



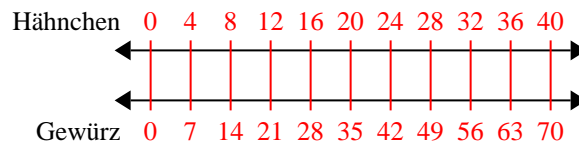
- 5) Ein Bauunternehmen konnte 4 Gipsplatten kaufen für 9 €. Wenn er 32 Gipsplatten kaufen würde, wie viel Geld würde er dann ausgeben?



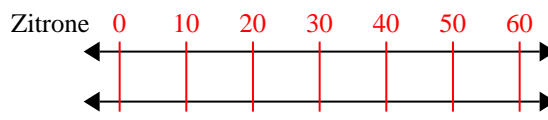
- 6) Ein Geschäft hatte eine Verkaufsaktion, wo man 5 Packungen Cashew-Nüsse für 4 € kaufen konnte. Wenn du 10 Packungen kaufen möchtest, wie viel würde es dann kosten?



- 7) Ein Rezept benötigte 7 Teelöffel Gewürzmischung für jede 4 Portionen Brathähnchen. Wenn du 40 Portionen Hähnchen zubereiten möchtest, wie viele Teelöffel Gewürzmischung wirst du brauchen?



- 8) In einer Bonbonpackung waren für jede 6 Kirschbonbons 10 Zitronenbonbons. Wenn die Packung 60 Zitronenbonbons hat

**Antworten**

1. **60**
2. **80**
3. **100**
4. **14**
5. **72**
6. **8**
7. **70**
8. **36**