



**Benutze den doppelten Zahlenstrahl und löse jede Aufgabe.****Antworten**

- 1) Ein Geschäft hatte eine Verkaufsaktion, wo man 4 Packungen Cashew-Nüsse für 7 € kaufen konnte. Wenn du 28 Packungen kaufen möchtest, wie viel würde es dann kosten?

Nüsse



Preis




1. \_\_\_\_\_

2. \_\_\_\_\_

- 2) Ein Rezept benötigte 5 Teelöffel Gewürzmischung für jede 9 Portionen Brathähnchen. Wenn du 90 Portionen Hähnchen zubereiten möchtest, wie viele Teelöffel Gewürzmischung wirst du brauchen?

Hähnchen



Gewürz




3. \_\_\_\_\_

4. \_\_\_\_\_


5. \_\_\_\_\_

- 3) Bei einer Benefizaktion in der Schule wurden Pralinen verkauft. Für jede 4 Packungen Pralinen konnte man 10 Punkte verdienen. Wenn du 36 Packungen verkaufen würdest, wie viele Punkte könntest du dann verdienen?

Packungen



Punkte




6. \_\_\_\_\_

7. \_\_\_\_\_

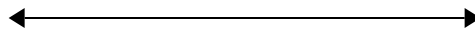
8. \_\_\_\_\_

- 4) In einem Hamburger-Restaurant bekamen die Gäste 4 Servietten für jede 5 bestellten Hamburger. Wenn jemand 15 Hamburger bestellte, wie viele Servietten sollte er bekommen?

Hamburger




Servietten




- 5) Für jede gesammelten 9 Dosen zum Recyceln bekam BVAR 10 Cent. Wenn er 18 Dosen gesammelt hat, wie viel Geld hat er dann verdient?

Dosen



Geld




- 6) Ein Bauunternehmen konnte 7 Gipsplatten kaufen für 10 €. Wenn er 14 Gipsplatten kaufen würde, wie viel Geld würde er dann ausgeben?

Gipsplatte




Preis




- 7) Das Verhältnis von Jungen zu Mädchen auf dem Spielplatz war 10 zu 9. Wenn es 100 Jungen gab, wie viele Mädchen waren dann da?

Jungen





Mädchen



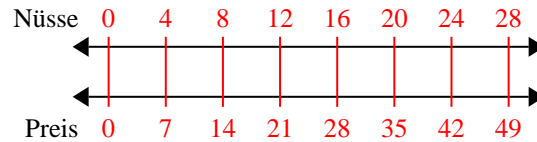
- 8) Auf ihrem MP3-Spieler hatte GVAR für jede 3 Poplieder 4 Country-Lieder. Wenn sie 30 Poplieder auf

Pop

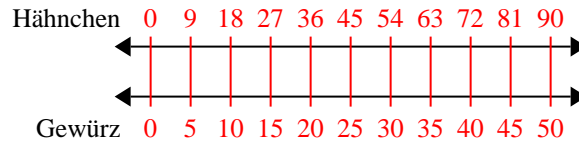


**Benutze den doppelten Zahlenstrahl und löse jede Aufgabe.**

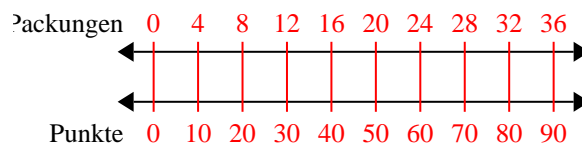
- 1) Ein Geschäft hatte eine Verkaufsaktion, wo man 4 Packungen Cashew-Nüsse für 7 € kaufen konnte. Wenn du 28 Packungen kaufen möchtest, wie viel würde es dann kosten?



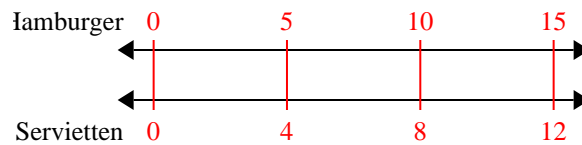
- 2) Ein Rezept benötigte 5 Teelöffel Gewürzmischung für jede 9 Portionen Brathähnchen. Wenn du 90 Portionen Hähnchen zubereiten möchtest, wie viele Teelöffel Gewürzmischung wirst du brauchen?



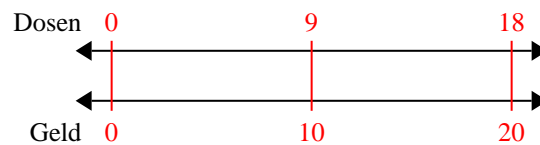
- 3) Bei einer Benefizaktion in der Schule wurden Pralinen verkauft. Für jede 4 Packungen Pralinen konnte man 10 Punkte verdienen. Wenn du 36 Packungen verkaufen würdest, wie viele Punkte könntest du dann verdienen?



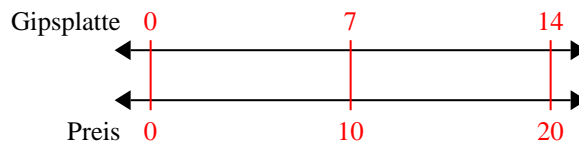
- 4) In einem Hamburger-Restaurant bekamen die Gäste 4 Servietten für jede 5 bestellten Hamburger. Wenn jemand 15 Hamburger bestellte, wie viele Servietten sollte er bekommen?



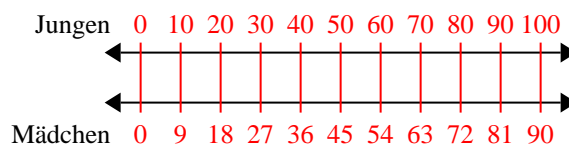
- 5) Für jede gesammelten 9 Dosen zum Recyceln bekam BVAR 10 Cent. Wenn er 18 Dosen gesammelt hat, wie viel Geld hat er dann verdient?



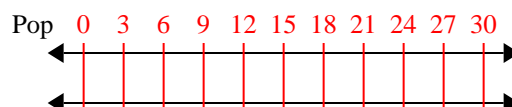
- 6) Ein Bauunternehmen konnte 7 Gipsplatten kaufen für 10 €. Wenn er 14 Gipsplatten kaufen würde, wie viel Geld würde er dann ausgeben?



- 7) Das Verhältnis von Jungen zu Mädchen auf dem Spielplatz war 10 zu 9. Wenn es 100 Jungen gab, wie viele Mädchen waren dann da?



- 8) Auf ihrem MP3-Spieler hatte GVAR für jede 3 Poplieder 4 Country-Lieder. Wenn sie 30 Poplieder auf

**Antworten**

1. **49**
2. **50**
3. **90**
4. **12**
5. **20**
6. **20**
7. **90**
8. **40**