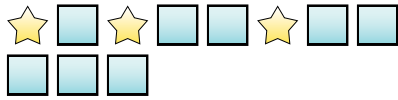


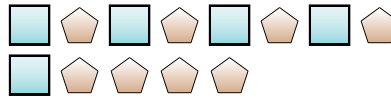


Löse jede Aufgabe.

Bsp) Was ist das Verhältnis von Sterne zu Quadrate?



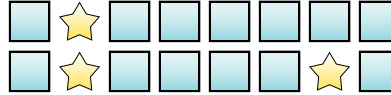
1) Was ist das Verhältnis von Quadrate zu Fünfecke?



2) Was ist das Verhältnis von Kreise zu Sterne?



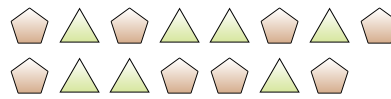
3) Was ist das Verhältnis von Sterne zu Quadrate?



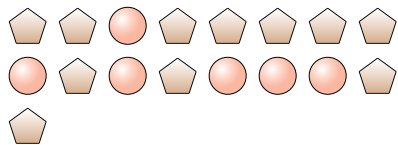
4) Was ist das Verhältnis von Sterne zu Herzen?



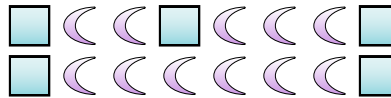
5) Was ist das Verhältnis von Fünfecke zu Dreiecke?



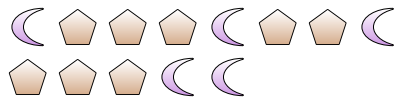
6) Was ist das Verhältnis von Fünfecke zu Kreise?



7) Was ist das Verhältnis von Monde zu Quadrate?



8) Was ist das Verhältnis von Fünfecke zu Monde?



9) Was ist das Verhältnis von Herzen zu Kreise?



10) Was ist das Verhältnis von Herzen zu Monde?



11) Was ist das Verhältnis von Kreise zu Sterne?



Antworten

Bsp. 3:8

1. _____

2. _____

3. _____

4. _____

5. _____

6. _____

7. _____

8. _____

9. _____

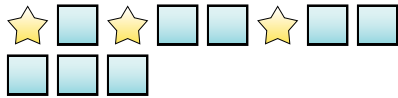
10. _____

11. _____

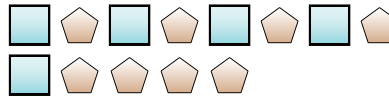


Löse jede Aufgabe.

Bsp) Was ist das Verhältnis von Sterne zu Quadrate?



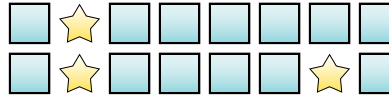
1) Was ist das Verhältnis von Quadrate zu Fünfecke?



2) Was ist das Verhältnis von Kreise zu Sterne?



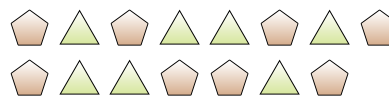
3) Was ist das Verhältnis von Sterne zu Quadrate?



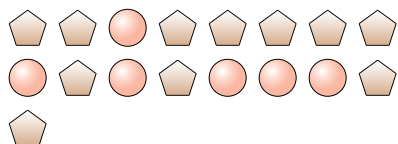
4) Was ist das Verhältnis von Sterne zu Herzen?



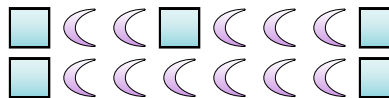
5) Was ist das Verhältnis von Fünfecke zu Dreiecke?



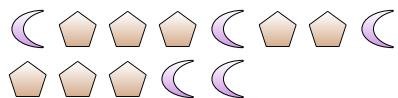
6) Was ist das Verhältnis von Fünfecke zu Kreise?




7) Was ist das Verhältnis von Monde zu Quadrate?



8) Was ist das Verhältnis von Fünfecke zu Monde?



9) Was ist das Verhältnis von Herzen zu Kreise?



10) Was ist das Verhältnis von Herzen zu Monde?



11) Was ist das Verhältnis von Kreise zu Sterne?

**Antworten**Bsp. 3:81. 5:82. 3:133. 3:134. 12:35. 8:76. 11:67. 11:58. 8:59. 10:210. 13:211. 2:5