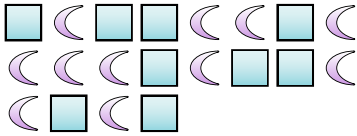


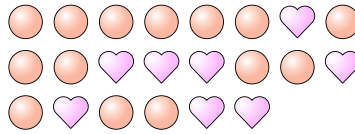


Löse jede Aufgabe.

Bsp) Was ist das Verhältnis von Quadrate zu Monde?




1) Was ist das Verhältnis von Kreise zu Herzen?



Antworten

Bsp. 9:11

2) Was ist das Verhältnis von Sterne zu Kreise?



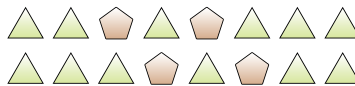
3) Was ist das Verhältnis von Herzen zu Monde?



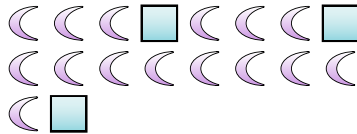
4) Was ist das Verhältnis von Sterne zu Kreise?



5) Was ist das Verhältnis von Dreiecke zu Fünfecke?



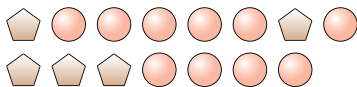
6) Was ist das Verhältnis von Quadrate zu Monde?



7) Was ist das Verhältnis von Sterne zu Kreise?



8) Was ist das Verhältnis von Fünfecke zu Kreise?



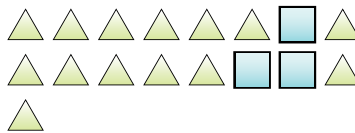
9) Was ist das Verhältnis von Sterne zu Quadrate?



10) Was ist das Verhältnis von Sterne zu Quadrate?



11) Was ist das Verhältnis von Dreiecke zu Quadrate?



1. \_\_\_\_\_

2. \_\_\_\_\_

3. \_\_\_\_\_

4. \_\_\_\_\_

5. \_\_\_\_\_

6. \_\_\_\_\_

7. \_\_\_\_\_

8. \_\_\_\_\_

9. \_\_\_\_\_

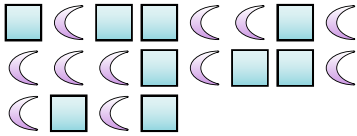
10. \_\_\_\_\_

11. \_\_\_\_\_

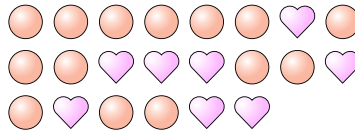


**Löse jede Aufgabe.**

**Bsp)** Was ist das Verhältnis von Quadrate zu Monde?




**1)** Was ist das Verhältnis von Kreise zu Herzen?



**Antworten**  
Bsp. 9:11

**2)** Was ist das Verhältnis von Sterne zu Kreise?



**3)** Was ist das Verhältnis von Herzen zu Monde?



1. 14:8

2. 8:4

3. 14:10

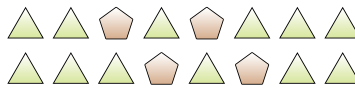
4. 7:5

5. 12:4

**4)** Was ist das Verhältnis von Sterne zu Kreise?



**5)** Was ist das Verhältnis von Dreiecke zu Fünfecke?

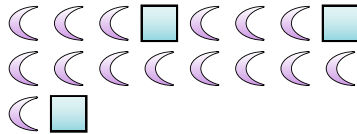


6. 3:15

7. 5:10

8. 5:10

**6)** Was ist das Verhältnis von Quadrate zu Monde?



**7)** Was ist das Verhältnis von Sterne zu Kreise?

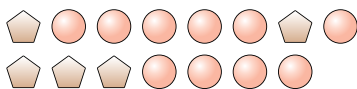


9. 14:12


10. 11:12

11. 14:3

**8)** Was ist das Verhältnis von Fünfecke zu Kreise?



**9)** Was ist das Verhältnis von Sterne zu Quadrate?



**10)** Was ist das Verhältnis von Sterne zu Quadrate?



**11)** Was ist das Verhältnis von Dreiecke zu Quadrate?

