



Löse jede Aufgabe.

Bsp) Was ist das Verhältnis von Fünfecke zu Monde?



1) Was ist das Verhältnis von Sterne zu Dreiecke?

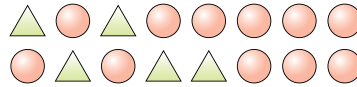


Antworten
Bsp. **6:15**

2) Was ist das Verhältnis von Fünfecke zu Sterne?



3) Was ist das Verhältnis von Dreiecke zu Kreise?




- 1. _____
- 2. _____
- 3. _____
- 4. _____
- 5. _____
- 6. _____
- 7. _____
- 8. _____
- 9. _____
- 10. _____
- 11. _____

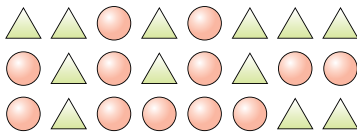
4) Was ist das Verhältnis von Sterne zu Quadrate?



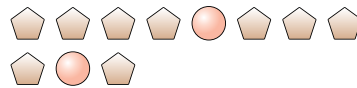
5) Was ist das Verhältnis von Kreise zu Herzen?



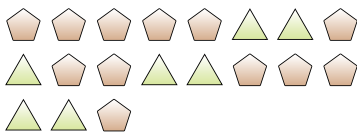
6) Was ist das Verhältnis von Kreise zu Dreiecke?




7) Was ist das Verhältnis von Fünfecke zu Kreise?



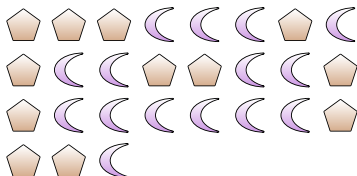
8) Was ist das Verhältnis von Fünfecke zu Dreiecke?



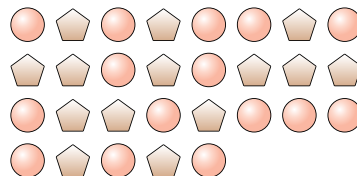
9) Was ist das Verhältnis von Quadrate zu Herzen?



10) Was ist das Verhältnis von Monde zu Fünfecke?



11) Was ist das Verhältnis von Fünfecke zu Kreise?





Löse jede Aufgabe.

Bsp) Was ist das Verhältnis von Fünfecke zu Monde?



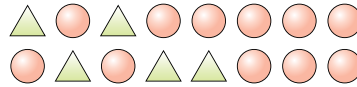
1) Was ist das Verhältnis von Sterne zu Dreiecke?



2) Was ist das Verhältnis von Fünfecke zu Sterne?




3) Was ist das Verhältnis von Dreiecke zu Kreise?



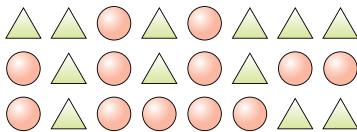
4) Was ist das Verhältnis von Sterne zu Quadrate?



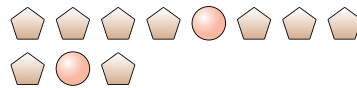
5) Was ist das Verhältnis von Kreise zu Herzen?



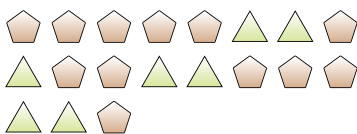
6) Was ist das Verhältnis von Kreise zu Dreiecke?




7) Was ist das Verhältnis von Fünfecke zu Kreise?



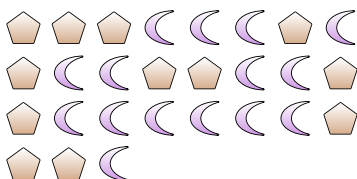
8) Was ist das Verhältnis von Fünfecke zu Dreiecke?



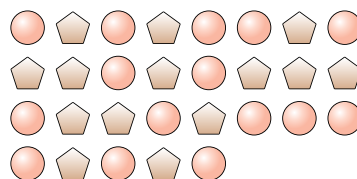
9) Was ist das Verhältnis von Quadrate zu Herzen?



10) Was ist das Verhältnis von Monde zu Fünfecke?



11) Was ist das Verhältnis von Fünfecke zu Kreise?



Antworten

Bsp. 6:15

1. 12:6

2. 2:13

3. 5:11

4. 9:4

5. 10:14

6. 12:12

7. 9:2

8. 12:7

9. 2:8

10. 15:12

11. 14:15