

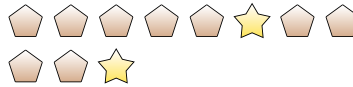


Löse jede Aufgabe.

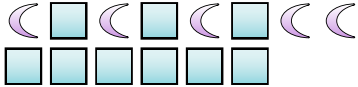
Bsp) Was ist das Verhältnis von Monde zu Herzen?




1) Was ist das Verhältnis von Sterne zu Fünfecke?



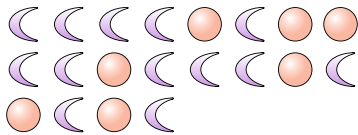
2) Was ist das Verhältnis von Monde zu Quadrate?



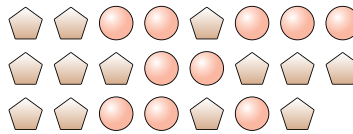
3) Was ist das Verhältnis von Herzen zu Monde?



4) Was ist das Verhältnis von Kreise zu Monde?



5) Was ist das Verhältnis von Fünfecke zu Kreise?



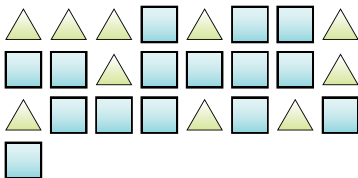
6) Was ist das Verhältnis von Kreise zu Fünfecke?



7) Was ist das Verhältnis von Kreise zu Sterne?



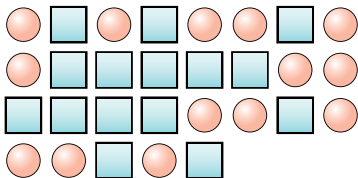
8) Was ist das Verhältnis von Quadrate zu Dreiecke?



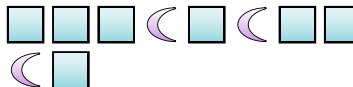
9) Was ist das Verhältnis von Herzen zu Monde?



10) Was ist das Verhältnis von Kreise zu Quadrate?



11) Was ist das Verhältnis von Monde zu Quadrate?



Antworten

Bsp. 12:9

1. _____

2. _____

3. _____

4. _____

5. _____

6. _____

7. _____

8. _____

9. _____

10. _____

11. _____

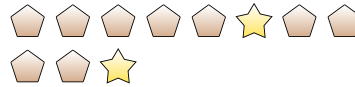


Löse jede Aufgabe.

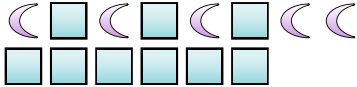
Bsp) Was ist das Verhältnis von Monde zu Herzen?




1) Was ist das Verhältnis von Sterne zu Fünfecke?



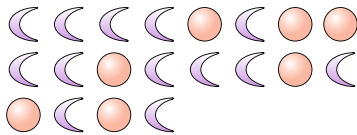
2) Was ist das Verhältnis von Monde zu Quadrate?



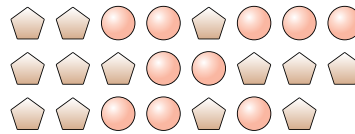
3) Was ist das Verhältnis von Herzen zu Monde?



4) Was ist das Verhältnis von Kreise zu Monde?



5) Was ist das Verhältnis von Fünfecke zu Kreise?



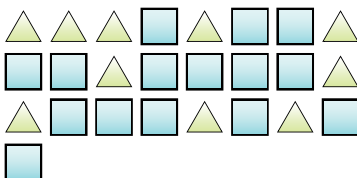
6) Was ist das Verhältnis von Kreise zu Fünfecke?




7) Was ist das Verhältnis von Kreise zu Sterne?



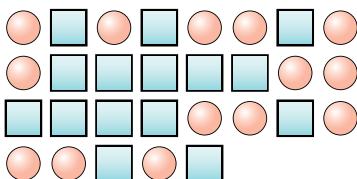
8) Was ist das Verhältnis von Quadrate zu Dreiecke?



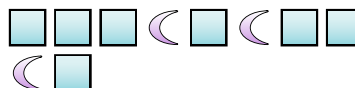
9) Was ist das Verhältnis von Herzen zu Monde?



10) Was ist das Verhältnis von Kreise zu Quadrate?



11) Was ist das Verhältnis von Monde zu Quadrate?



Antworten

Bsp. 12:9

1. 2:9

2. 5:9

3. 13:15

4. 7:13

5. 13:10

6. 3:4

7. 6:8

8. 15:10

9. 7:15

10. 14:15

11. 3:7