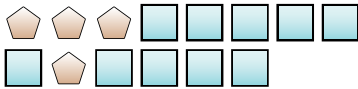


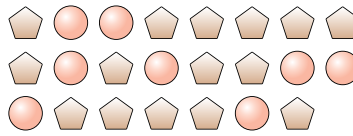


Löse jede Aufgabe.

Bsp) Was ist das Verhältnis von Fünfecke zu Quadrate?



1) Was ist das Verhältnis von Kreise zu Fünfecke?



Antworten

Bsp. 4:10

1. \_\_\_\_\_

2. \_\_\_\_\_

3. \_\_\_\_\_

4. \_\_\_\_\_

5. \_\_\_\_\_

6. \_\_\_\_\_

7. \_\_\_\_\_

8. \_\_\_\_\_

9. \_\_\_\_\_

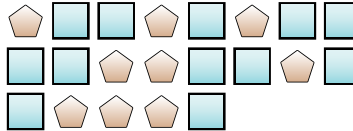
10. \_\_\_\_\_

11. \_\_\_\_\_


2) Was ist das Verhältnis von Monde zu Herzen?



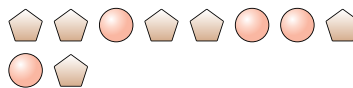
3) Was ist das Verhältnis von Fünfecke zu Quadrate?



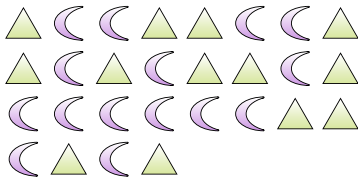
4) Was ist das Verhältnis von Dreiecke zu Herzen?



5) Was ist das Verhältnis von Fünfecke zu Kreise?



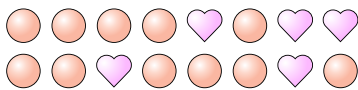
6) Was ist das Verhältnis von Monde zu Dreiecke?



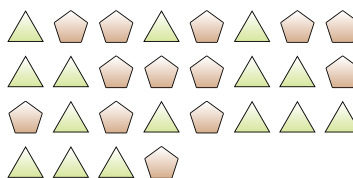
7) Was ist das Verhältnis von Quadrate zu Sterne?



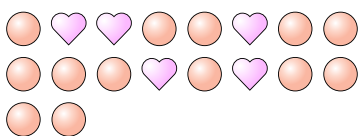
8) Was ist das Verhältnis von Herzen zu Kreise?



9) Was ist das Verhältnis von Fünfecke zu Dreiecke?



10) Was ist das Verhältnis von Kreise zu Herzen?



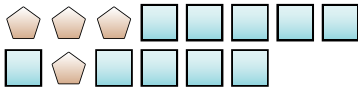
11) Was ist das Verhältnis von Monde zu Dreiecke?



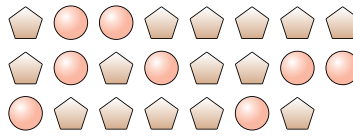


**Löse jede Aufgabe.**

**Bsp)** Was ist das Verhältnis von Fünfecke zu Quadrate?



**1)** Was ist das Verhältnis von Kreise zu Fünfecke?



**Antworten**

Bsp. 4:10

1. 8:15

2. 2:5

3. 9:12

4. 14:15

5. 6:4

6. 15:13

7. 10:3

8. 5:11

9. 13:15

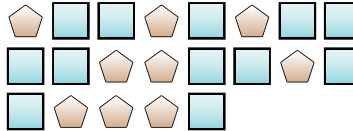
10. 13:5

11. 4:3


**2)** Was ist das Verhältnis von Monde zu Herzen?



**3)** Was ist das Verhältnis von Fünfecke zu Quadrate?



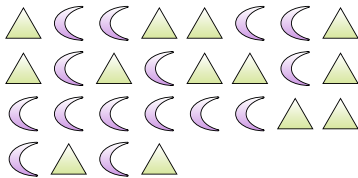
**4)** Was ist das Verhältnis von Dreiecke zu Herzen?



**5)** Was ist das Verhältnis von Fünfecke zu Kreise?



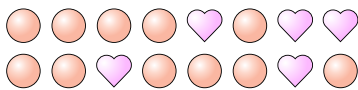
**6)** Was ist das Verhältnis von Monde zu Dreiecke?



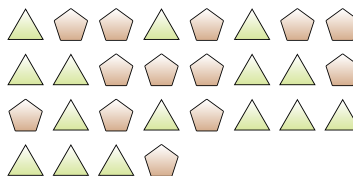
**7)** Was ist das Verhältnis von Quadrate zu Sterne?




**8)** Was ist das Verhältnis von Herzen zu Kreise?



**9)** Was ist das Verhältnis von Fünfecke zu Dreiecke?



**10)** Was ist das Verhältnis von Kreise zu Herzen?



**11)** Was ist das Verhältnis von Monde zu Dreiecke?

