



Benutze die vorgegebene Anordnung um jede Aufgabe zu lösen.

1) $20 \cdot 21 =$

2) $23 \cdot 20 =$

3) $27 \cdot 20 =$

4) $24 \cdot 20 =$

5) $20 \cdot 22 =$

6) $20 \cdot 28 =$

Antworten

1. _____

2. _____

3. _____

4. _____

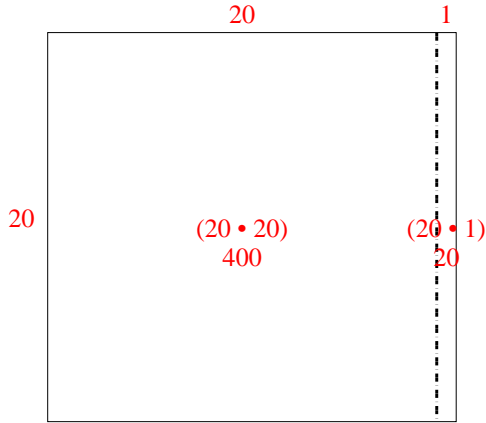
5. _____

6. _____

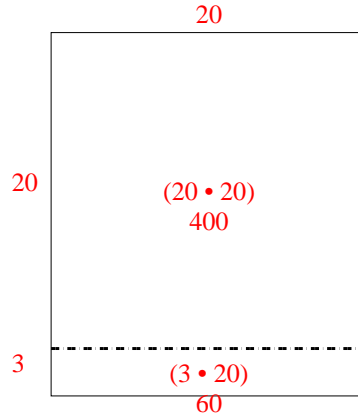


Benutze die vorgegebene Anordnung um jede Aufgabe zu lösen.

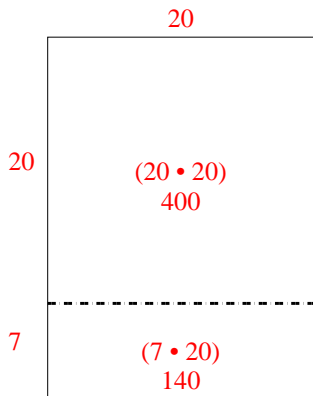
1) $20 \cdot 21 =$



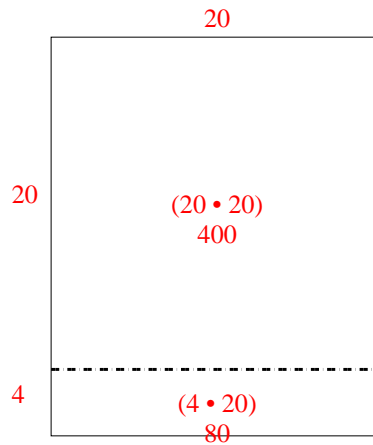
2) $23 \cdot 20 =$



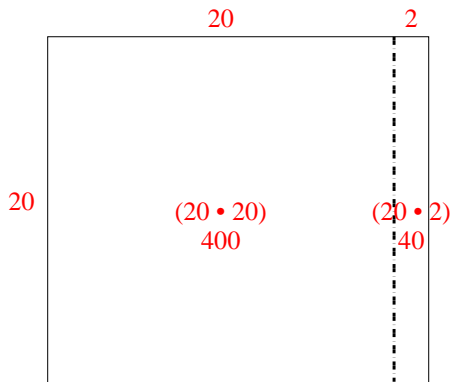
3) $27 \cdot 20 =$



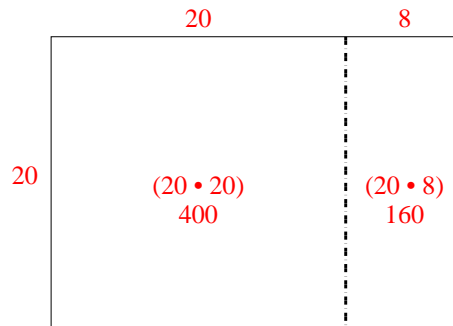
4) $24 \cdot 20 =$



5) $20 \cdot 22 =$



6) $20 \cdot 28 =$



Antworten

1. 420

2. 460

3. 540

4. 480

5. 440

6. 560