



Benutze die vorgegebene Anordnung um jede Aufgabe zu lösen.

1) $20 \cdot 32 =$

2) $20 \cdot 22 =$

3) $20 \cdot 23 =$

4) $20 \cdot 21 =$

5) $20 \cdot 28 =$

6) $20 \cdot 24 =$

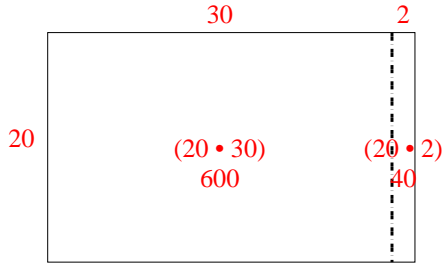
Antworten

- 1. _____
- 2. _____
- 3. _____
- 4. _____
- 5. _____
- 6. _____

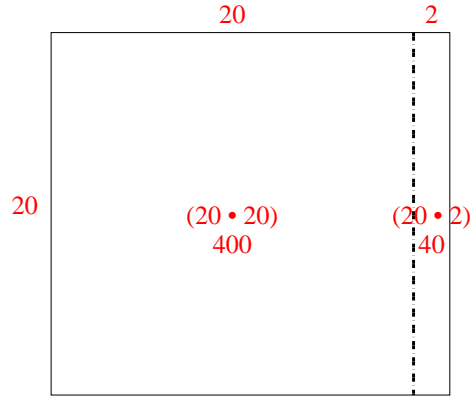


Benutze die vorgegebene Anordnung um jede Aufgabe zu lösen.

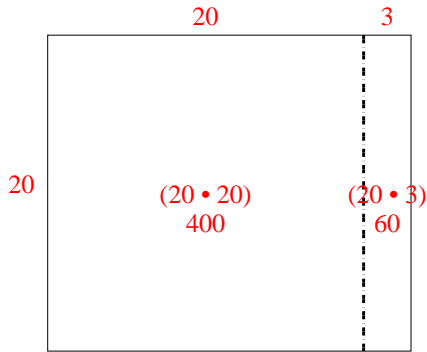
1) $20 \cdot 32 =$



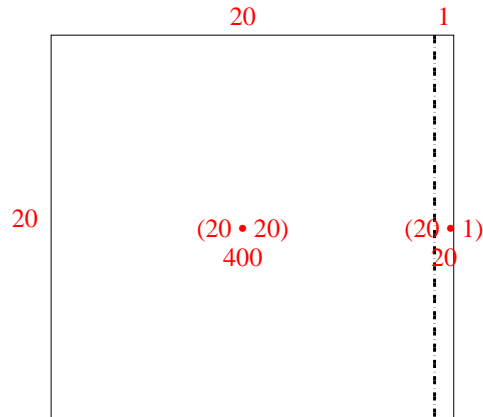
2) $20 \cdot 22 =$



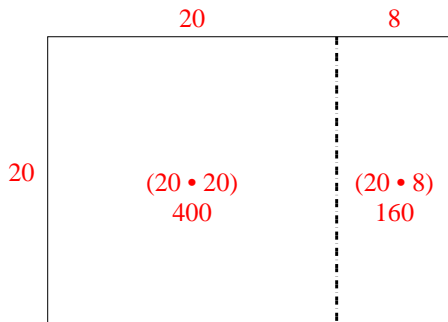
3) $20 \cdot 23 =$



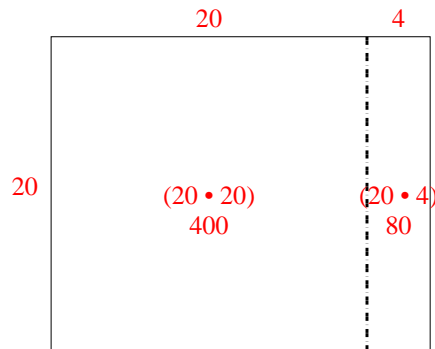
4) $20 \cdot 21 =$



5) $20 \cdot 28 =$



6) $20 \cdot 24 =$



Antworten

1. 640

2. 440

3. 460

4. 420

5. 560

6. 480