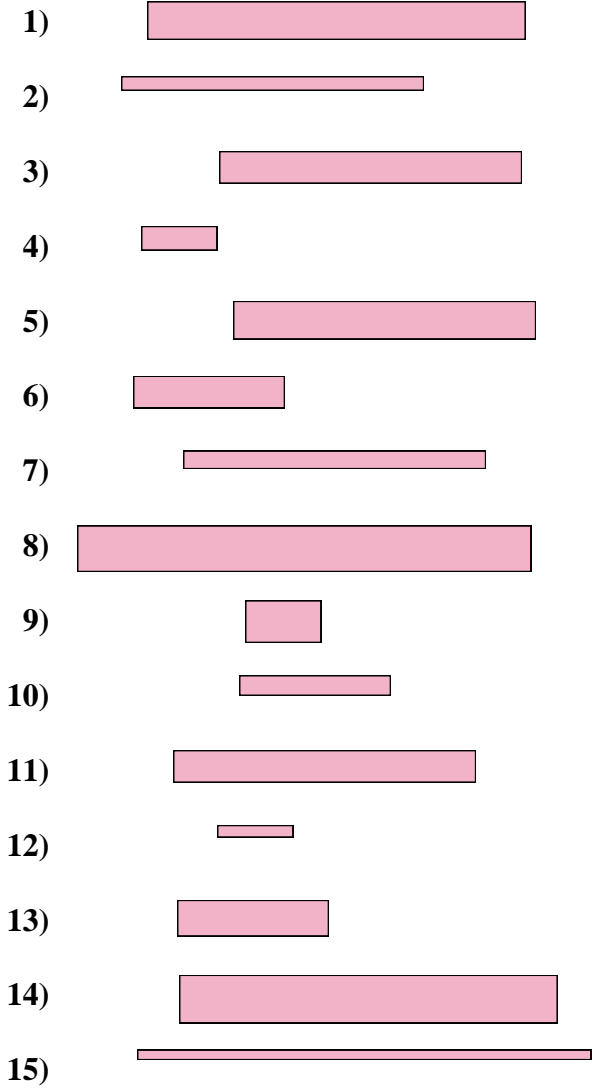




Messe jeden Streifen ab (in cm) und stelle die Ergebnisse dann in einem Liniendiagramm dar.



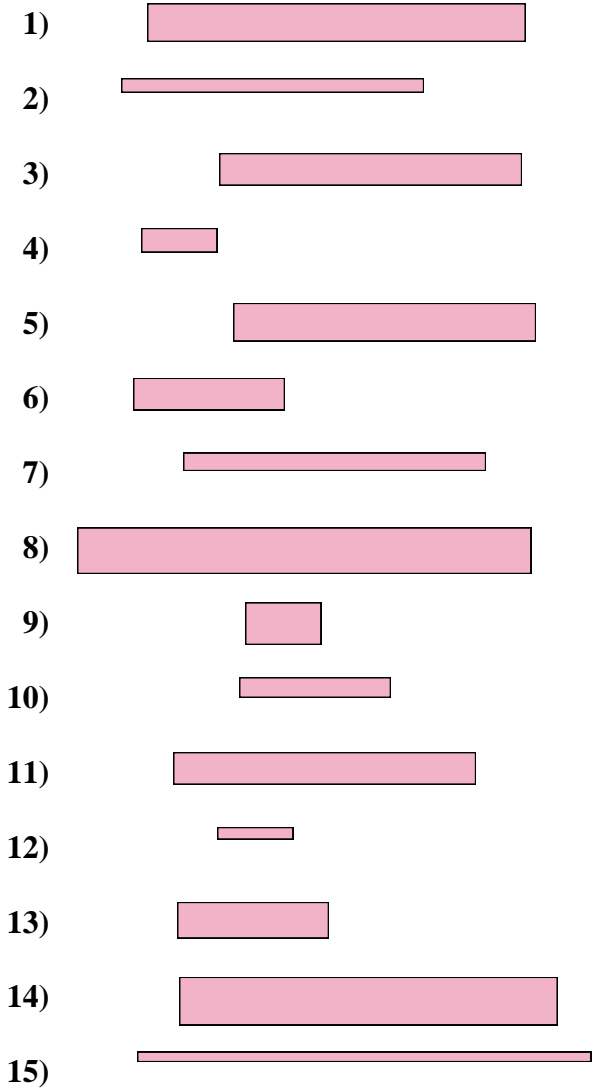
Liniendiagramm

Antworten

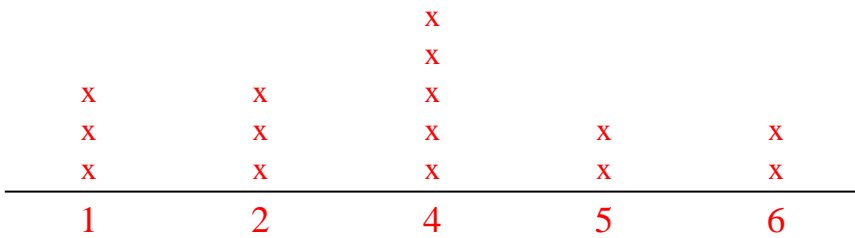
- 1. _____
- 2. _____
- 3. _____
- 4. _____
- 5. _____
- 6. _____
- 7. _____
- 8. _____
- 9. _____
- 10. _____
- 11. _____
- 12. _____
- 13. _____
- 14. _____
- 15. _____



Messe jeden Streifen ab (in cm) und stelle die Ergebnisse dann in einem Liniendiagramm dar.



Liniendiagramm



Antworten

- 1. **5**
- 2. **4**
- 3. **4**
- 4. **1**
- 5. **4**
- 6. **2**
- 7. **4**
- 8. **6**
- 9. **1**
- 10. **2**
- 11. **4**
- 12. **1**
- 13. **2**
- 14. **5**
- 15. **6**