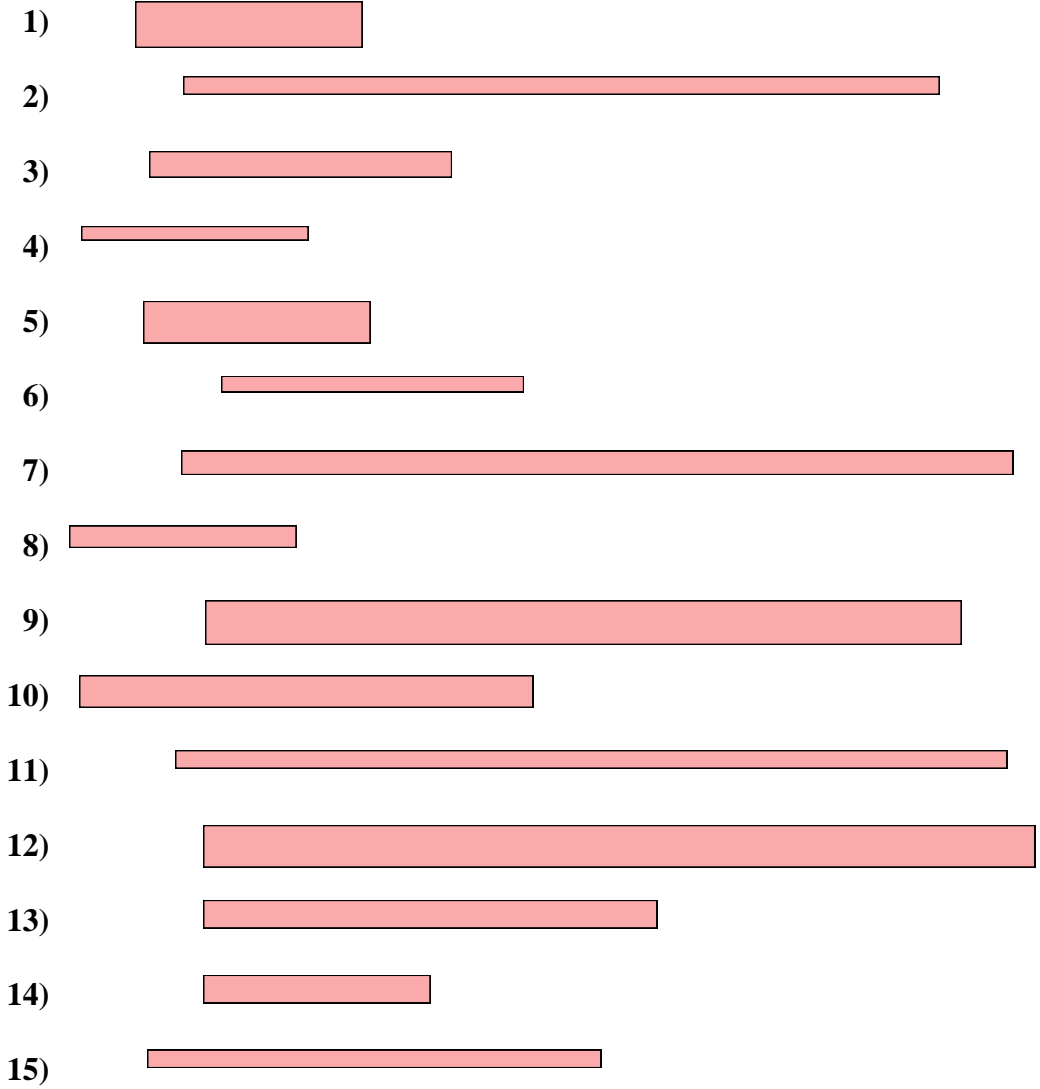




Messe jeden Streifen ab (in cm) und stelle die Ergebnisse dann in einem Liniendiagramm dar.



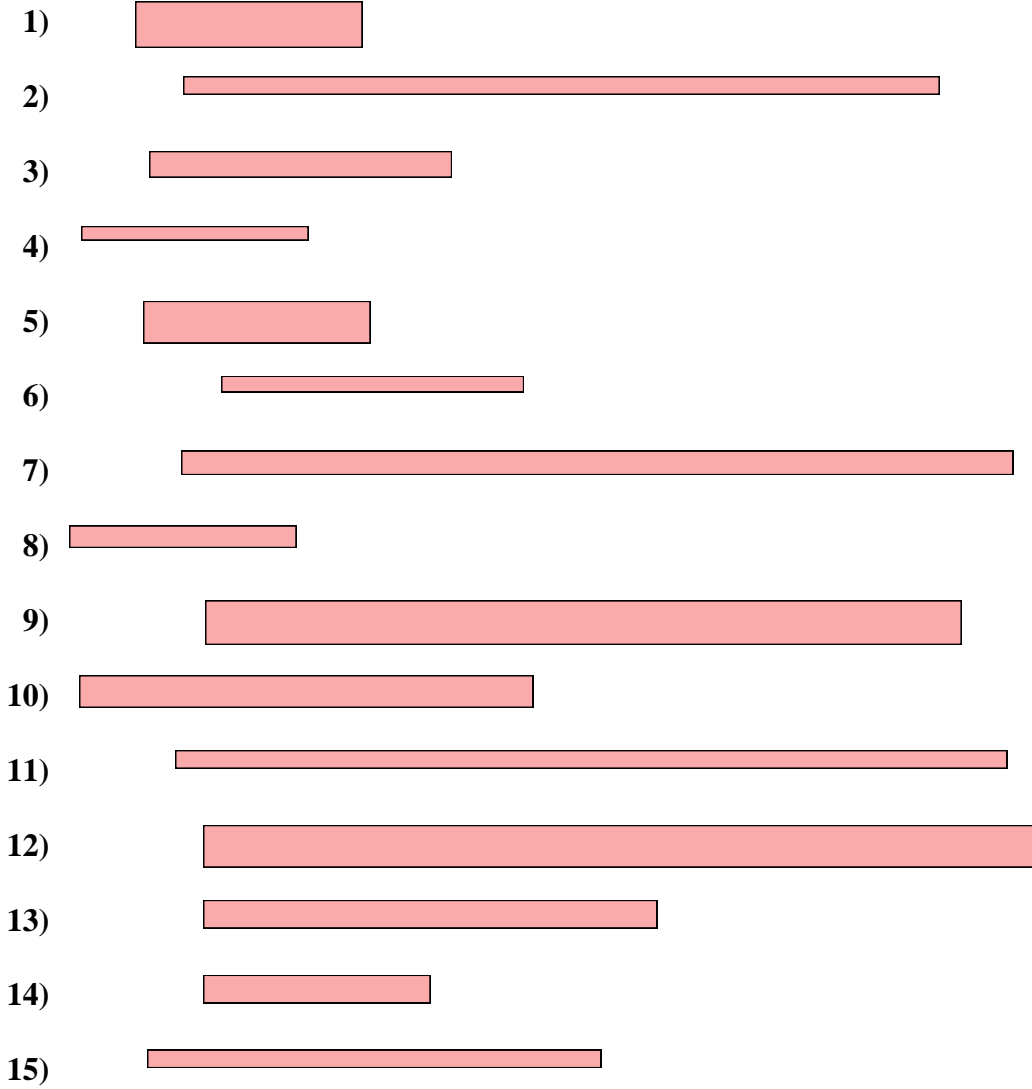
Liniendiagramm

Antworten

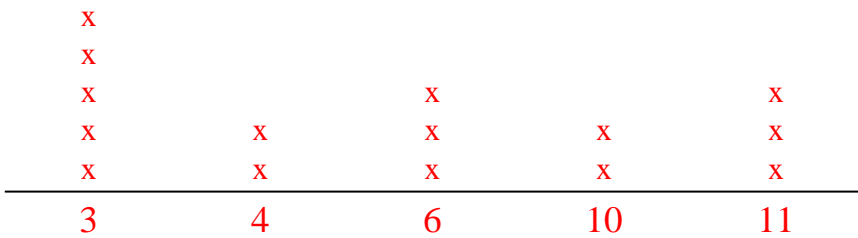
- 1. \_\_\_\_\_
- 2. \_\_\_\_\_
- 3. \_\_\_\_\_
- 4. \_\_\_\_\_
- 5. \_\_\_\_\_
- 6. \_\_\_\_\_
- 7. \_\_\_\_\_
- 8. \_\_\_\_\_
- 9. \_\_\_\_\_
- 10. \_\_\_\_\_
- 11. \_\_\_\_\_
- 12. \_\_\_\_\_
- 13. \_\_\_\_\_
- 14. \_\_\_\_\_
- 15. \_\_\_\_\_



Messe jeden Streifen ab (in cm) und stelle die Ergebnisse dann in einem Liniendiagramm dar.



Liniendiagramm



Antworten

- 1. 3
- 2. 10
- 3. 4
- 4. 3
- 5. 3
- 6. 4
- 7. 11
- 8. 3
- 9. 10
- 10. 6
- 11. 11
- 12. 11
- 13. 6
- 14. 3
- 15. 6