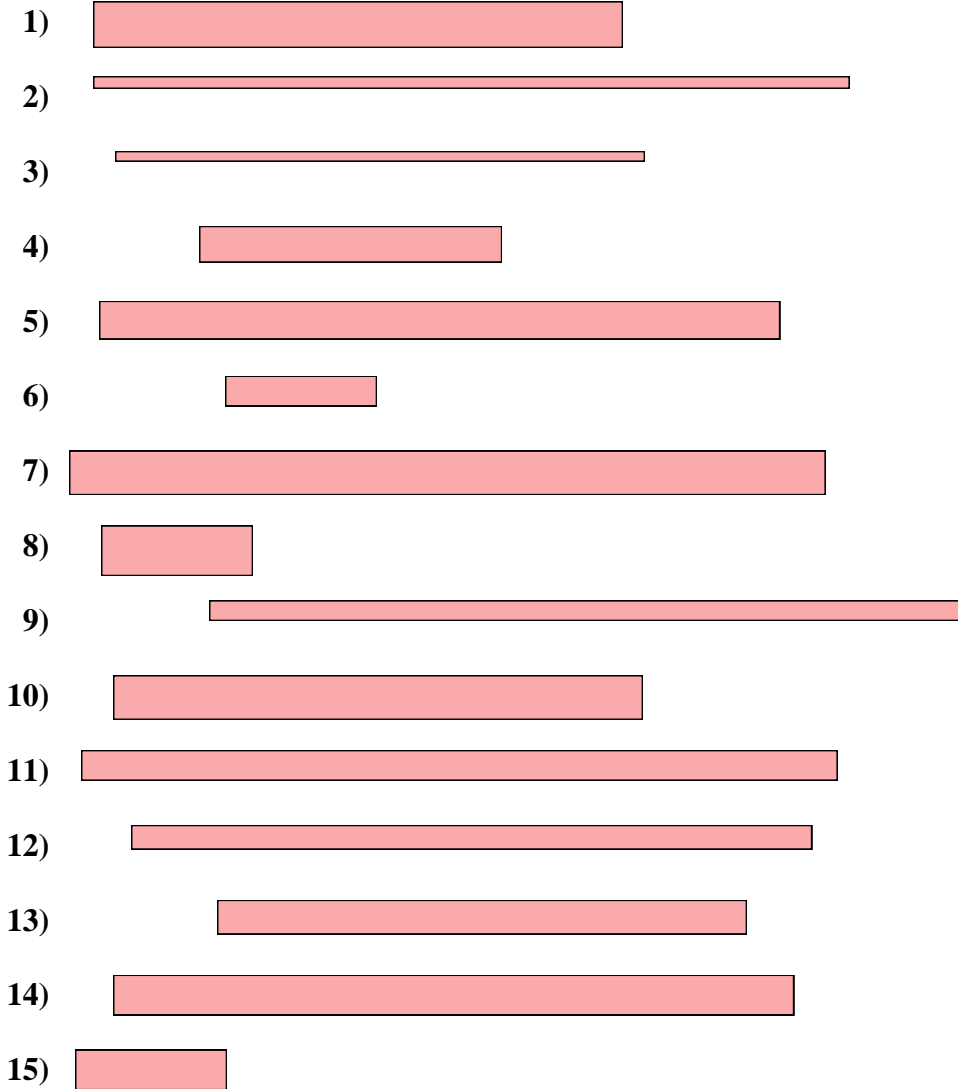




Messe jeden Streifen ab (in cm) und stelle die Ergebnisse dann in einem Liniendiagramm dar.



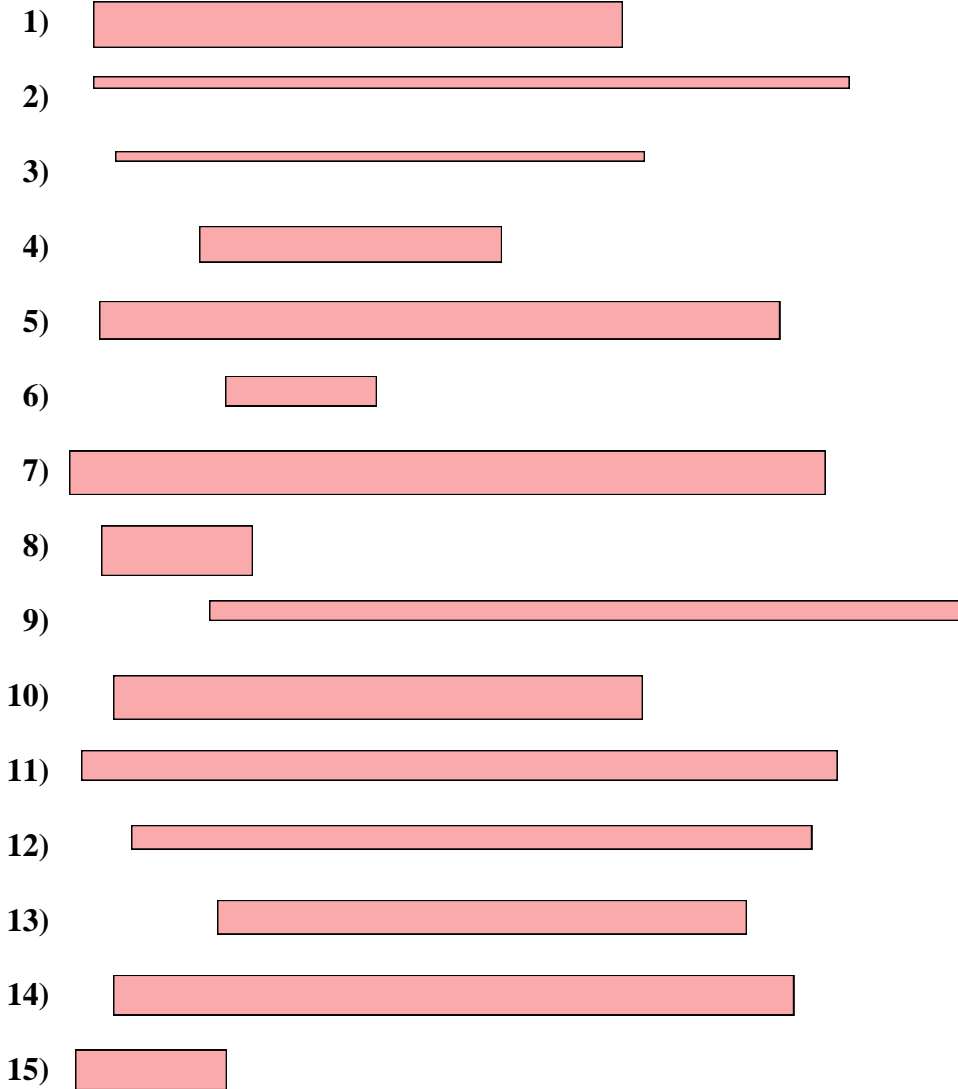
Liniendiagramm

Antworten

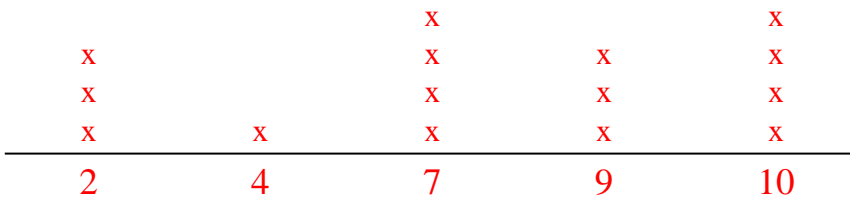
- 1. _____
- 2. _____
- 3. _____
- 4. _____
- 5. _____
- 6. _____
- 7. _____
- 8. _____
- 9. _____
- 10. _____
- 11. _____
- 12. _____
- 13. _____
- 14. _____
- 15. _____



Messe jeden Streifen ab (in cm) und stelle die Ergebnisse dann in einem Liniendiagramm dar.



Liniendiagramm



Antworten

- 1. 7
- 2. 10
- 3. 7
- 4. 4
- 5. 9
- 6. 2
- 7. 10
- 8. 2
- 9. 10
- 10. 7
- 11. 10
- 12. 9
- 13. 7
- 14. 9
- 15. 2