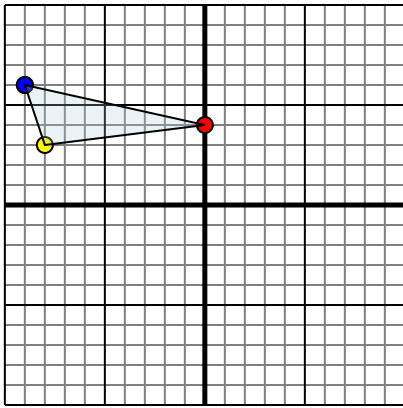




Spiegle jede Figur wie beschrieben.

1)

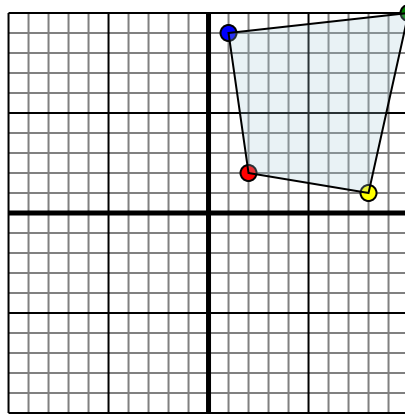


Die obige Figur hat die folgenden Koordinaten:

- A. (0,4)
- B. (-8,3)
- C. (-9,6)

Spiegle die Figur an der X-Achse.

2)

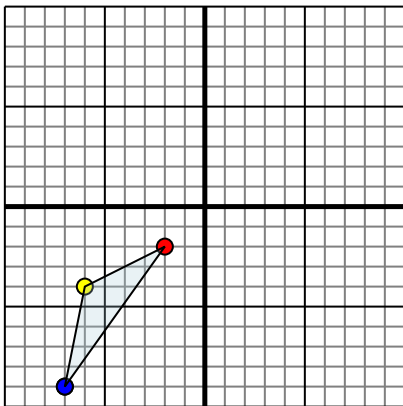


Die obige Figur hat die folgenden Koordinaten:

- A. (2,2)
- B. (8,1)
- C. (10,10)
- D. (1,9)

Spiegle die Figur an der Y-Achse.

3)

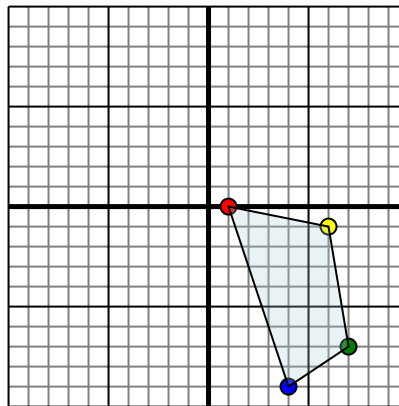


Die obige Figur hat die folgenden Koordinaten:

- A. (-2,-2)
- B. (-6,-4)
- C. (-7,-9)

Spiegle die Figur an der Y-Achse.

4)



Die obige Figur hat die folgenden Koordinaten:

- A. (1,0)
- B. (6,-1)
- C. (7,-7)
- D. (4,-9)

Spiegle die Figur an der X-Achse.

**Antworten**

1a. \_\_\_\_\_

1b. \_\_\_\_\_

1c. \_\_\_\_\_

1. **Graph**

2a. \_\_\_\_\_

2b. \_\_\_\_\_

2c. \_\_\_\_\_

2d. \_\_\_\_\_

2. **Graph**

3a. \_\_\_\_\_

3b. \_\_\_\_\_

3c. \_\_\_\_\_

3. **Graph**

4a. \_\_\_\_\_

4b. \_\_\_\_\_

4c. \_\_\_\_\_

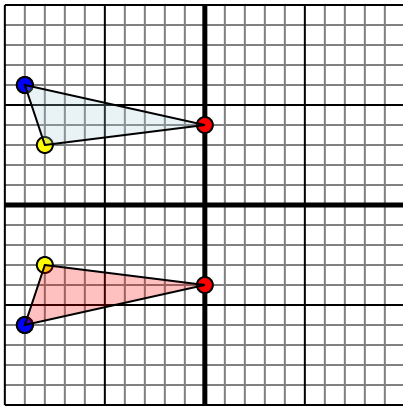
4d. \_\_\_\_\_

4. **Graph**



Spiegle jede Figur wie beschrieben.

1)

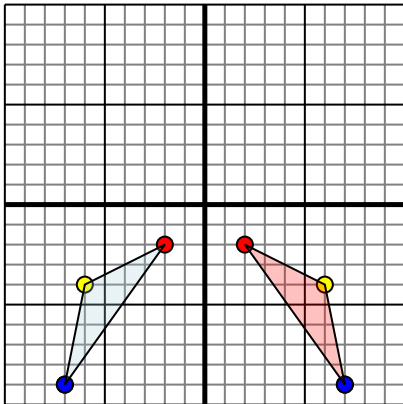


Die obige Figur hat die folgenden Koordinaten:

- A. (0,4)
- B. (-8,3)
- C. (-9,6)

Spiegle die Figur an der X-Achse.

3)

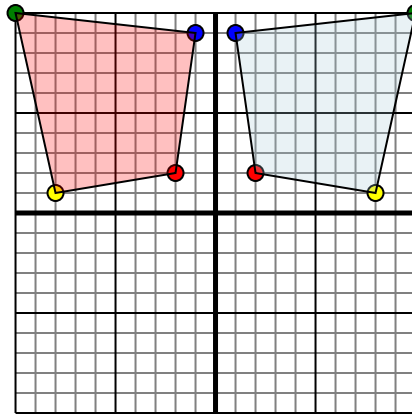


Die obige Figur hat die folgenden Koordinaten:

- A. (-2,-2)
- B. (-6,-4)
- C. (-7,-9)

Spiegle die Figur an der Y-Achse.

2)

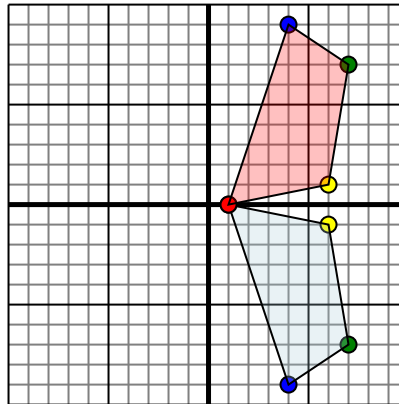


Die obige Figur hat die folgenden Koordinaten:

- A. (2,2)
- B. (8,1)
- C. (10,10)
- D. (1,9)

Spiegle die Figur an der Y-Achse.

4)



Die obige Figur hat die folgenden Koordinaten:

- A. (1,0)
- B. (6,-1)
- C. (7,-7)
- D. (4,-9)

Spiegle die Figur an der X-Achse.

**Antworten**1a. **(0,-4)**1b. **(-8,-3)**1c. **(-9,-6)**1. **Graph**2a. **(-2,2)**2b. **(-8,1)**2c. **(-10,10)**2d. **(-1,9)**2. **Graph**3a. **(2,-2)**3b. **(6,-4)**3c. **(7,-9)**3. **Graph**4a. **(1,0)**4b. **(6,1)**4c. **(7,7)**4d. **(4,9)**4. **Graph**