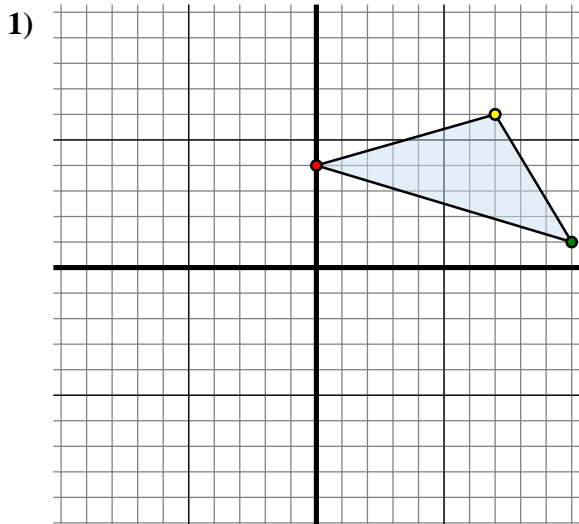




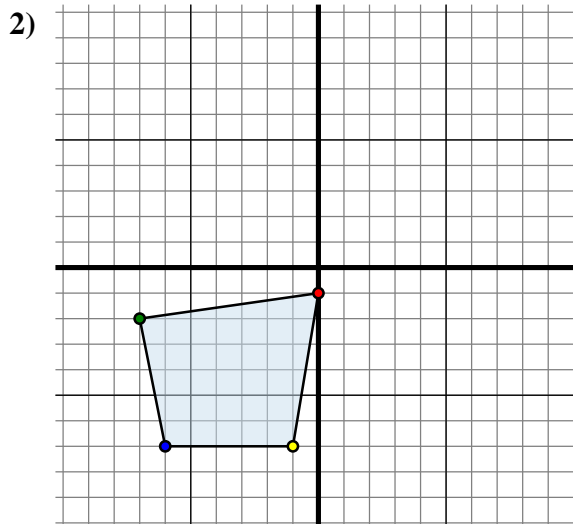
Spiegle jede Figur wie beschrieben.



Die obige Figur hat die folgenden Koordinaten:

- A. (0 , 4)
- B. (10 , 1)
- C. (7 , 6)

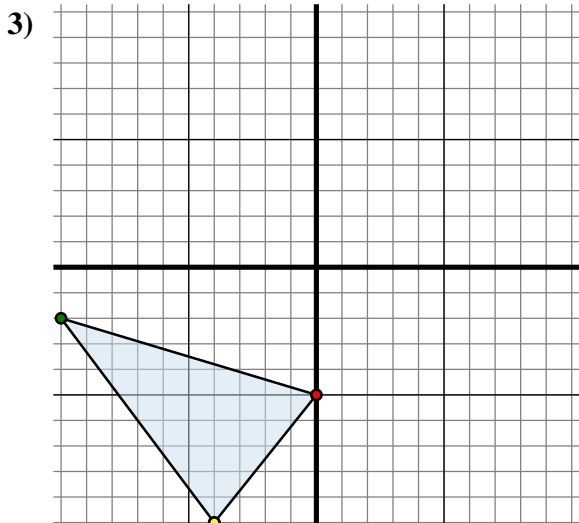
Spiegle die Figur an der Y-Achse.



Die obige Figur hat die folgenden Koordinaten:

- A. (0 , -1)
- B. (-7 , -2)
- C. (-6 , -7)
- D. (-1 , -7)

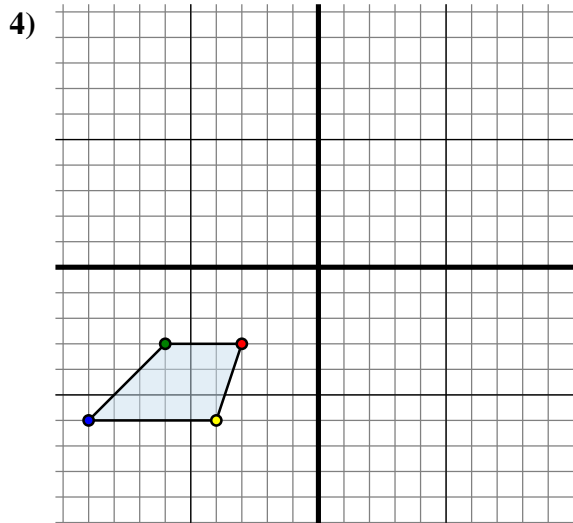
Spiegle die Figur an der Y-Achse.



Die obige Figur hat die folgenden Koordinaten:

- A. (0 , -5)
- B. (-10 , -2)
- C. (-4 , -10)

Spiegle die Figur an der X-Achse.



Die obige Figur hat die folgenden Koordinaten:

- A. (-3 , -3)
- B. (-6 , -3)
- C. (-9 , -6)
- D. (-4 , -6)

Spiegle die Figur an der X-Achse.

Antworten

1A. (0 , 4)

1B. _____

1C. _____

1G. Graph

2A. _____

2B. _____

2C. _____

2D. _____

2G. Graph

3A. _____

3B. _____

3C. _____

3G. Graph

4A. _____

4B. _____

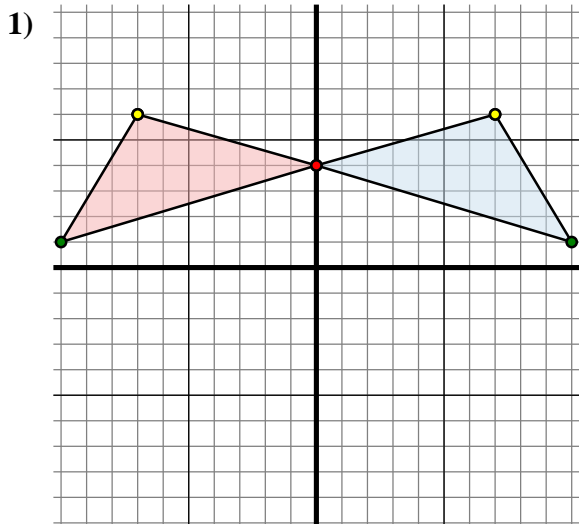
4C. _____

4D. _____

4G. Graph



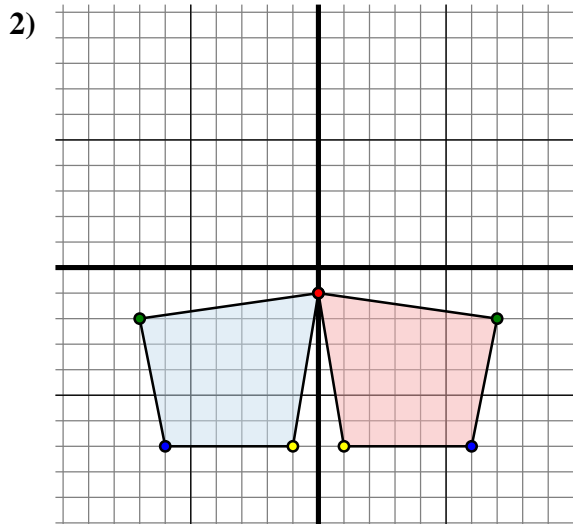
Spiegle jede Figur wie beschrieben.



Die obige Figur hat die folgenden Koordinaten:

- A. (0 , 4)
- B. (10 , 1)
- C. (7 , 6)

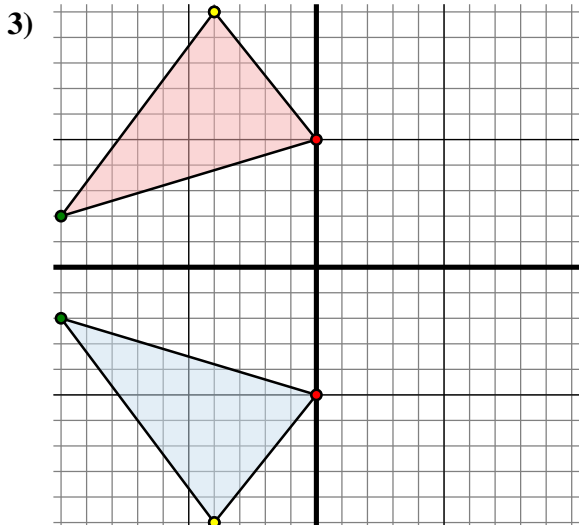
Spiegle die Figur an der Y-Achse.



Die obige Figur hat die folgenden Koordinaten:

- A. (0 , -1)
- B. (-7 , -2)
- C. (-6 , -7)
- D. (-1 , -7)

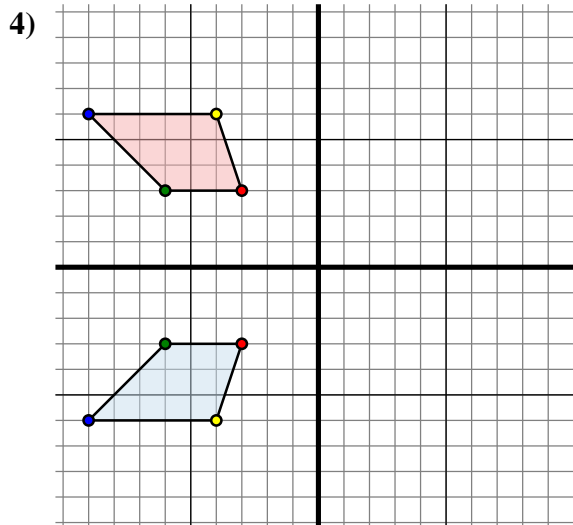
Spiegle die Figur an der Y-Achse.



Die obige Figur hat die folgenden Koordinaten:

- A. (0 , -5)
- B. (-10 , -2)
- C. (-4 , -10)

Spiegle die Figur an der X-Achse.



Die obige Figur hat die folgenden Koordinaten:

- A. (-3 , -3)
- B. (-6 , -3)
- C. (-9 , -6)
- D. (-4 , -6)

Spiegle die Figur an der X-Achse.

Antworten

1A. (0 , 4)

1B. (-10 , 1)

1C. (-7 , 6)

1G. Graph

2A. (0 , -1)

2B. (7 , -2)

2C. (6 , -7)

2D. (1 , -7)

2G. Graph

3A. (0 , 5)

3B. (-10 , 2)

3C. (-4 , 10)

3G. Graph

4A. (-3 , 3)

4B. (-6 , 3)

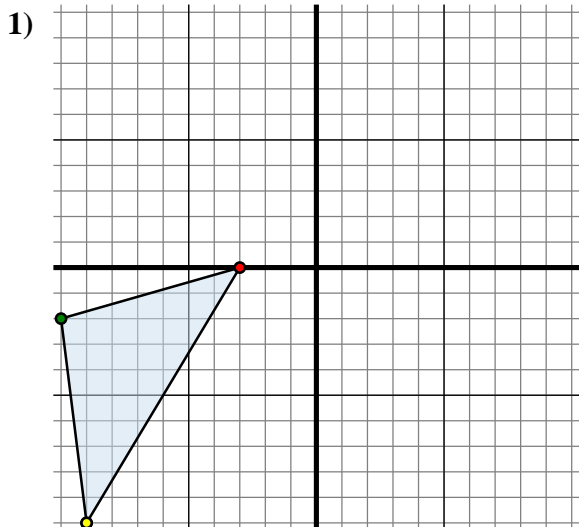
4C. (-9 , 6)

4D. (-4 , 6)

4G. Graph



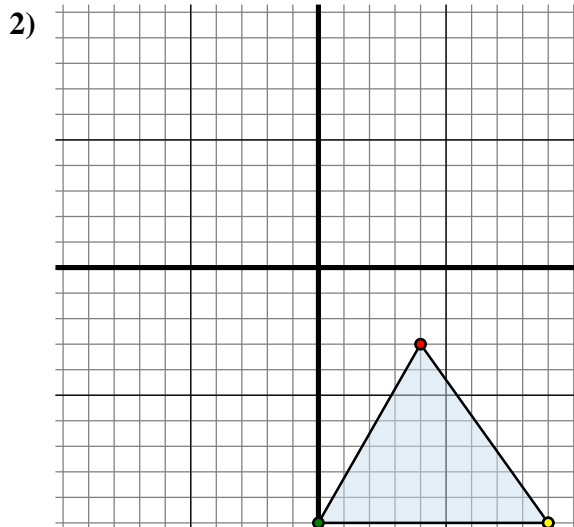
Spiegle jede Figur wie beschrieben.



Die obige Figur hat die folgenden Koordinaten:

- A. (-3 , 0)
- B. (-10 , -2)
- C. (-9 , -10)

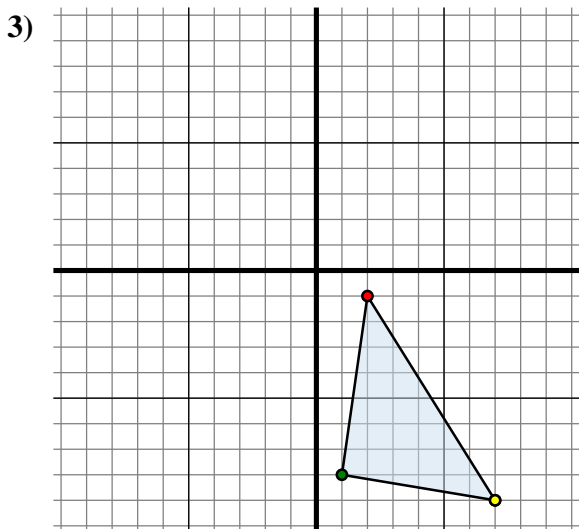
Spiegle die Figur an der X-Achse.



Die obige Figur hat die folgenden Koordinaten:

- A. (4 , -3)
- B. (0 , -10)
- C. (9 , -10)

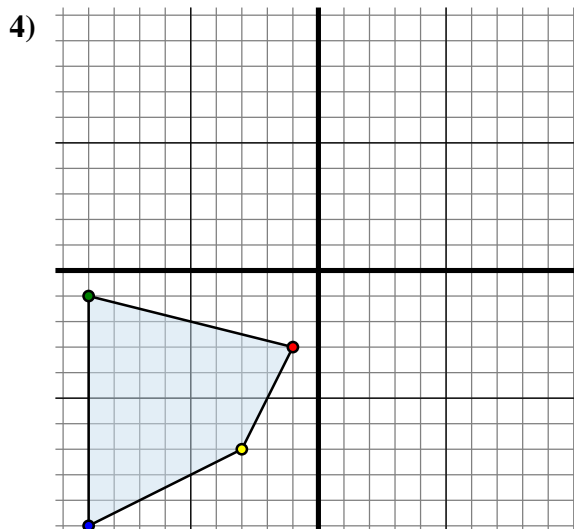
Spiegle die Figur an der Y-Achse.



Die obige Figur hat die folgenden Koordinaten:

- A. (2 , -1)
- B. (1 , -8)
- C. (7 , -9)

Spiegle die Figur an der X-Achse.



Die obige Figur hat die folgenden Koordinaten:

- A. (-1 , -3)
- B. (-9 , -1)
- C. (-9 , -10)
- D. (-3 , -7)

Spiegle die Figur an der X-Achse.

Antworten

1A. (-3 , 0)

1B. _____

1C. _____

1G. Graph

2A. _____

2B. _____

2C. _____

2G. Graph

3A. _____

3B. _____

3C. _____

3G. Graph

4A. _____

4B. _____

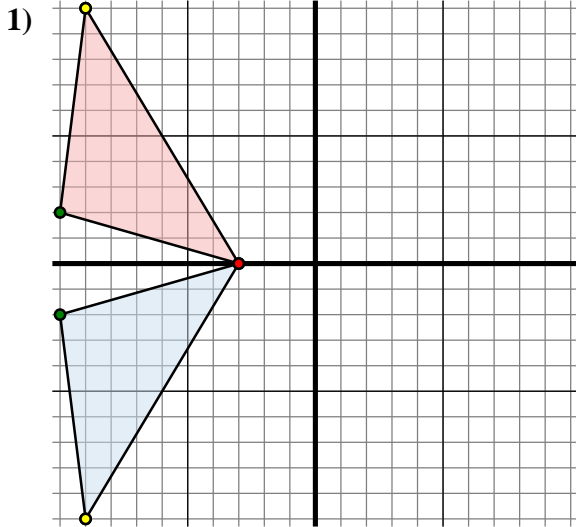
4C. _____

4D. _____

4G. Graph



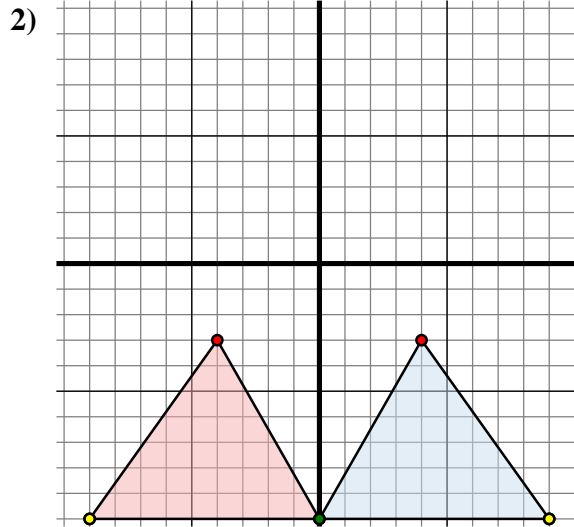
Spiegle jede Figur wie beschrieben.



Die obige Figur hat die folgenden Koordinaten:

- A. (-3 , 0)
- B. (-10 , -2)
- C. (-9 , -10)

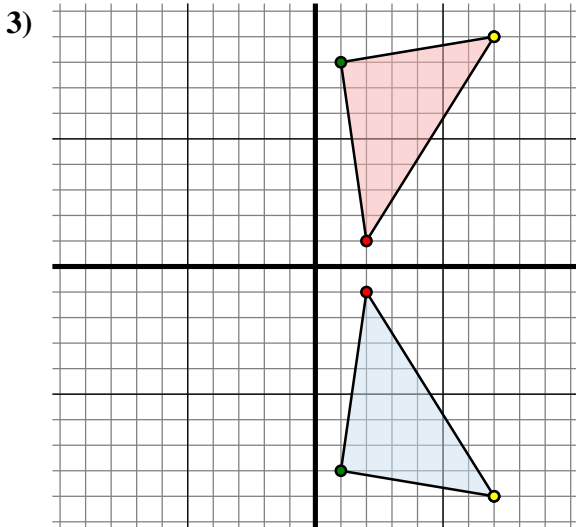
Spiegle die Figur an der X-Achse.



Die obige Figur hat die folgenden Koordinaten:

- A. (4 , -3)
- B. (0 , -10)
- C. (9 , -10)

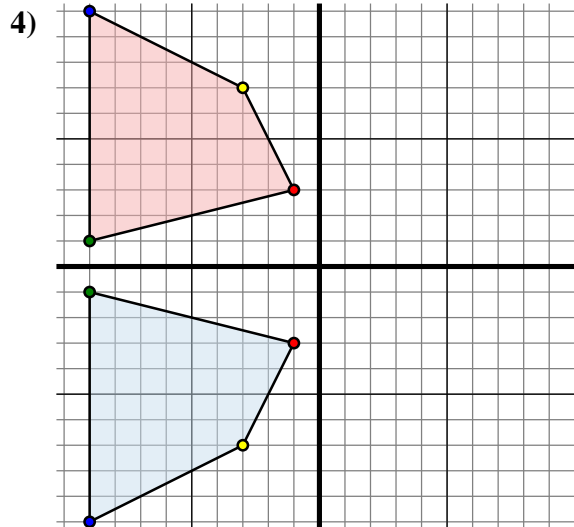
Spiegle die Figur an der Y-Achse.



Die obige Figur hat die folgenden Koordinaten:

- A. (2 , -1)
- B. (1 , -8)
- C. (7 , -9)

Spiegle die Figur an der X-Achse.



Die obige Figur hat die folgenden Koordinaten:

- A. (-1 , -3)
- B. (-9 , -1)
- C. (-9 , -10)
- D. (-3 , -7)

Spiegle die Figur an der X-Achse.

Antworten

1A. (-3 , 0)

1B. (-10 , 2)

1C. (-9 , 10)

1G. Graph

2A. (-4 , -3)

2B. (0 , -10)

2C. (-9 , -10)

2G. Graph

3A. (2 , 1)

3B. (1 , 8)

3C. (7 , 9)

3G. Graph

4A. (-1 , 3)

4B. (-9 , 1)

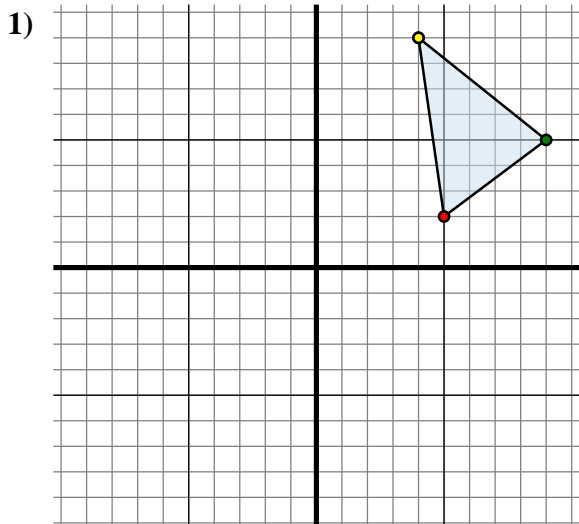
4C. (-9 , 10)

4D. (-3 , 7)

4G. Graph



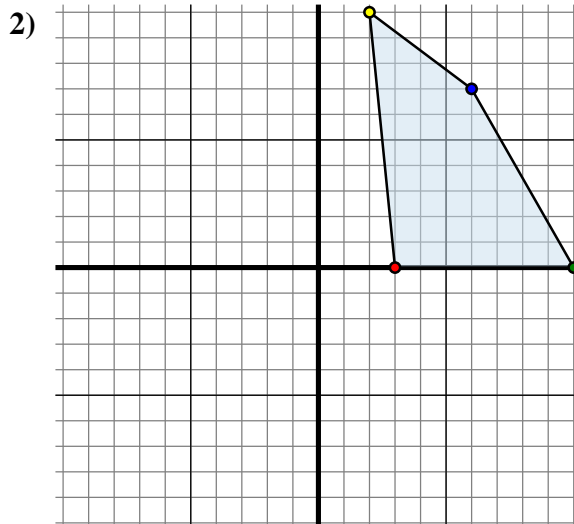
Spiegle jede Figur wie beschrieben.



Die obige Figur hat die folgenden Koordinaten:

- A. (5 , 2)
- B. (9 , 5)
- C. (4 , 9)

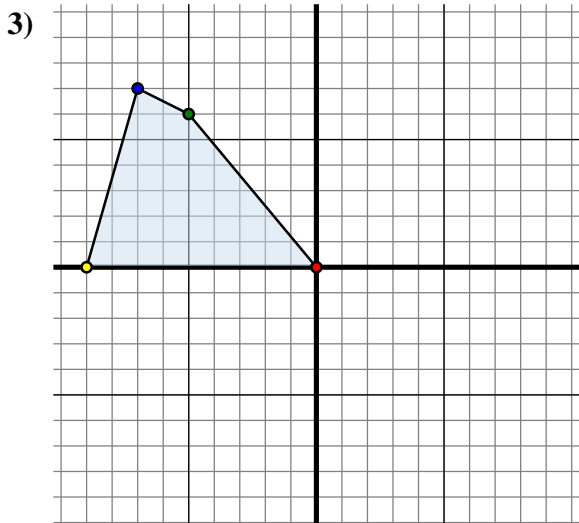
Spiegle die Figur an der Y-Achse.



Die obige Figur hat die folgenden Koordinaten:

- A. (3 , 0)
- B. (10 , 0)
- C. (6 , 7)
- D. (2 , 10)

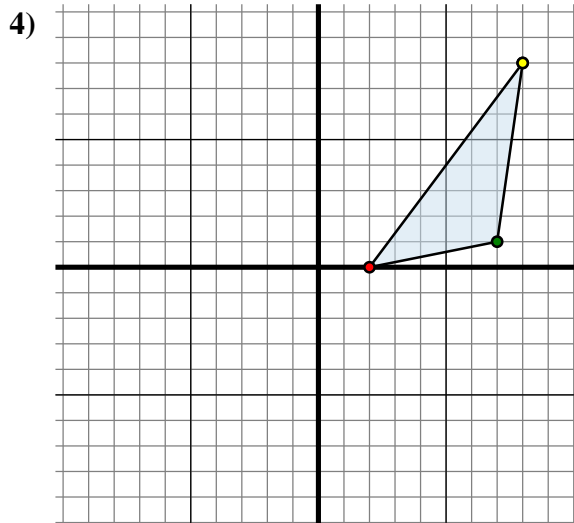
Spiegle die Figur an der X-Achse.



Die obige Figur hat die folgenden Koordinaten:

- A. (0 , 0)
- B. (-5 , 6)
- C. (-7 , 7)
- D. (-9 , 0)

Spiegle die Figur an der X-Achse.



Die obige Figur hat die folgenden Koordinaten:

- A. (2 , 0)
- B. (7 , 1)
- C. (8 , 8)

Spiegle die Figur an der Y-Achse.

Antworten

1A. (-5 , 2)

1B. _____

1C. _____

1G. Graph

2A. _____

2B. _____

2C. _____

2D. _____

2G. Graph

3A. _____

3B. _____

3C. _____

3D. _____

3G. Graph

4A. _____

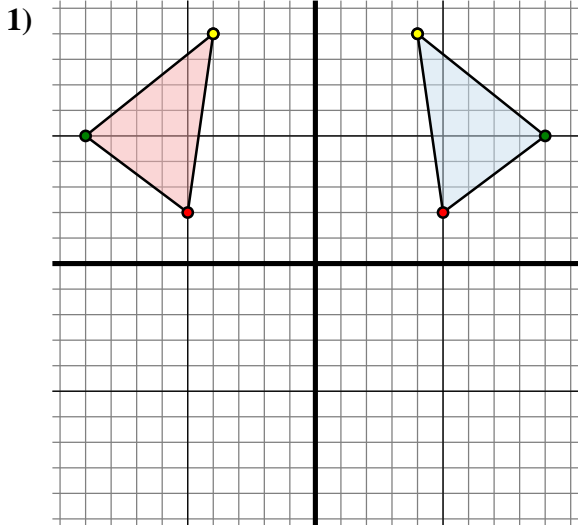
4B. _____

4C. _____

4G. Graph



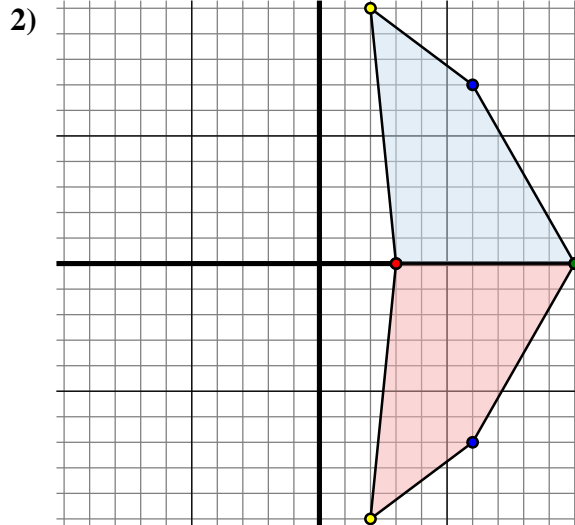
Spiegle jede Figur wie beschrieben.



Die obige Figur hat die folgenden Koordinaten:

- A. (5 , 2)
- B. (9 , 5)
- C. (4 , 9)

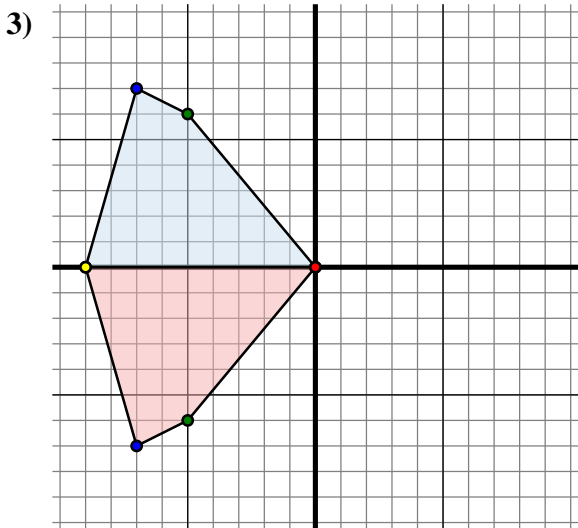
Spiegle die Figur an der Y-Achse.



Die obige Figur hat die folgenden Koordinaten:

- A. (3 , 0)
- B. (10 , 0)
- C. (6 , 7)
- D. (2 , 10)

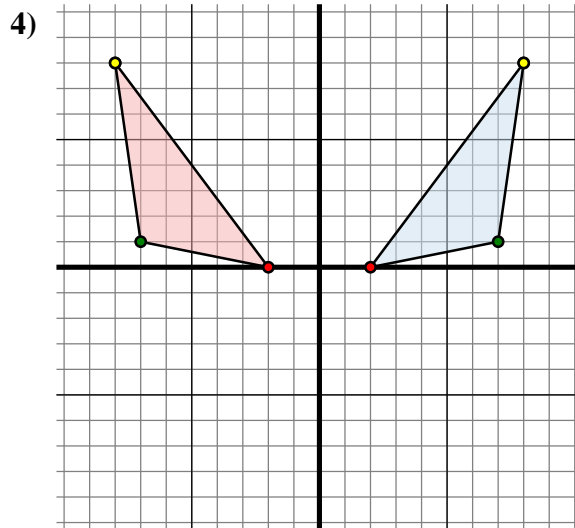
Spiegle die Figur an der X-Achse.



Die obige Figur hat die folgenden Koordinaten:

- A. (0 , 0)
- B. (-5 , 6)
- C. (-7 , 7)
- D. (-9 , 0)

Spiegle die Figur an der X-Achse.



Die obige Figur hat die folgenden Koordinaten:

- A. (2 , 0)
- B. (7 , 1)
- C. (8 , 8)

Spiegle die Figur an der Y-Achse.

Antworten

1A. **(-5 , 2)**

1B. **(-9 , 5)**

1C. **(-4 , 9)**

1G. **Graph**

2A. **(3 , 0)**

2B. **(10 , 0)**

2C. **(6 , -7)**

2D. **(2 , -10)**

2G. **Graph**

3A. **(0 , 0)**

3B. **(-5 , -6)**

3C. **(-7 , -7)**

3D. **(-9 , 0)**

3G. **Graph**

4A. **(-2 , 0)**

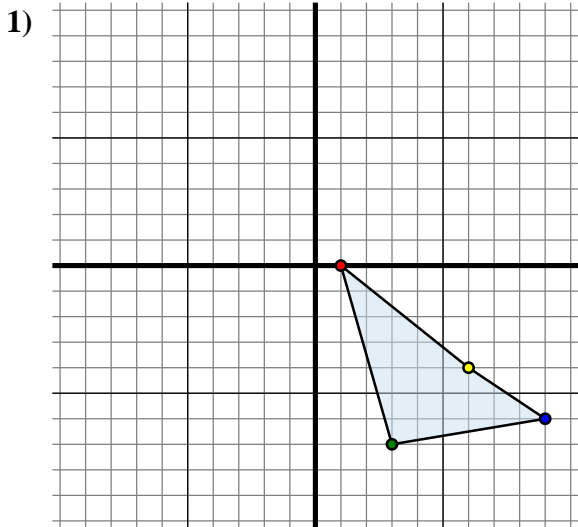
4B. **(-7 , 1)**

4C. **(-8 , 8)**

4G. **Graph**



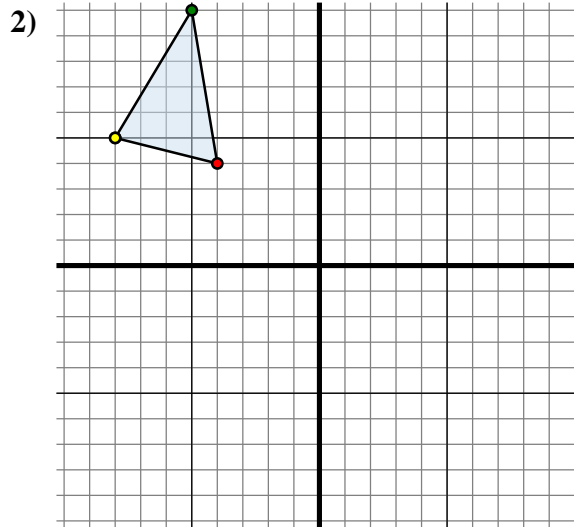
Spiegle jede Figur wie beschrieben.



Die obige Figur hat die folgenden Koordinaten:

- A. (1 , 0)
- B. (3 , -7)
- C. (9 , -6)
- D. (6 , -4)

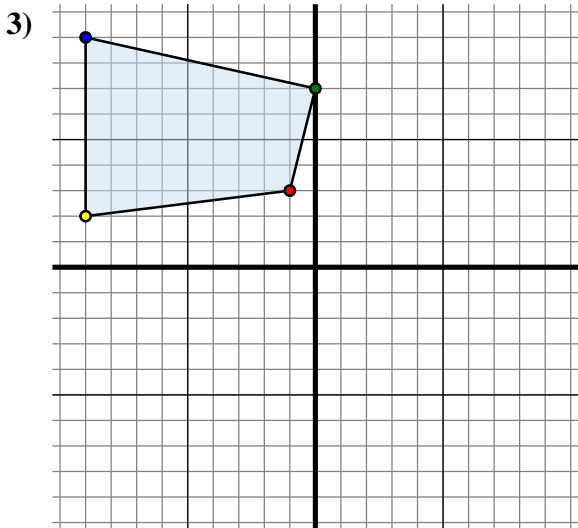
Spiegle die Figur an der Y-Achse.



Die obige Figur hat die folgenden Koordinaten:

- A. (-4 , 4)
- B. (-5 , 10)
- C. (-8 , 5)

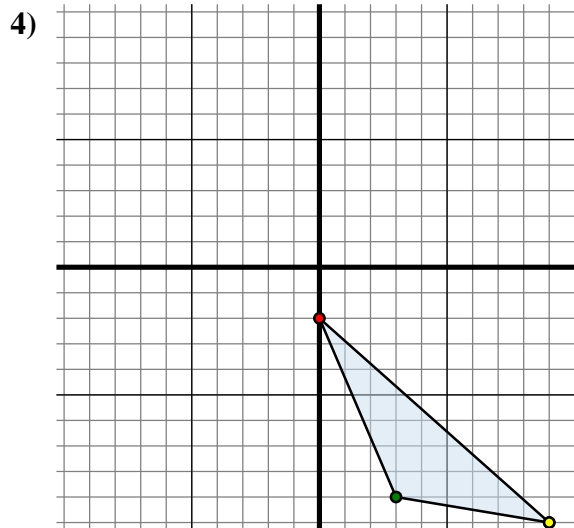
Spiegle die Figur an der X-Achse.



Die obige Figur hat die folgenden Koordinaten:

- A. (-1 , 3)
- B. (0 , 7)
- C. (-9 , 9)
- D. (-9 , 2)

Spiegle die Figur an der X-Achse.



Die obige Figur hat die folgenden Koordinaten:

- A. (0 , -2)
- B. (3 , -9)
- C. (9 , -10)

Spiegle die Figur an der Y-Achse.

Antworten

1A. (-1 , 0)

1B. _____

1C. _____

1D. _____

1G. Graph

2A. _____

2B. _____

2C. _____

2G. Graph

3A. _____

3B. _____

3C. _____

3D. _____

3G. Graph

4A. _____

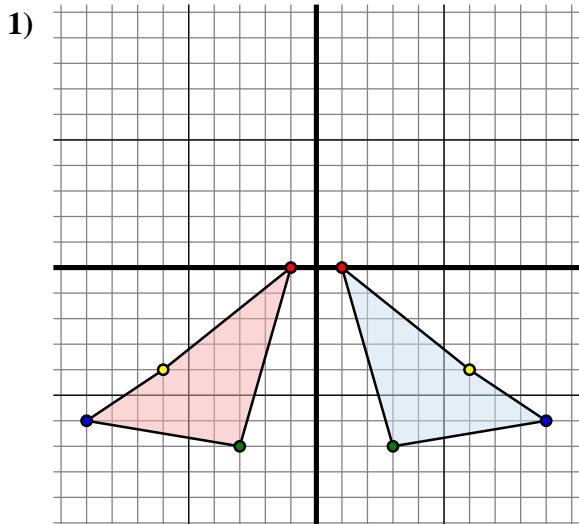
4B. _____

4C. _____

4G. Graph



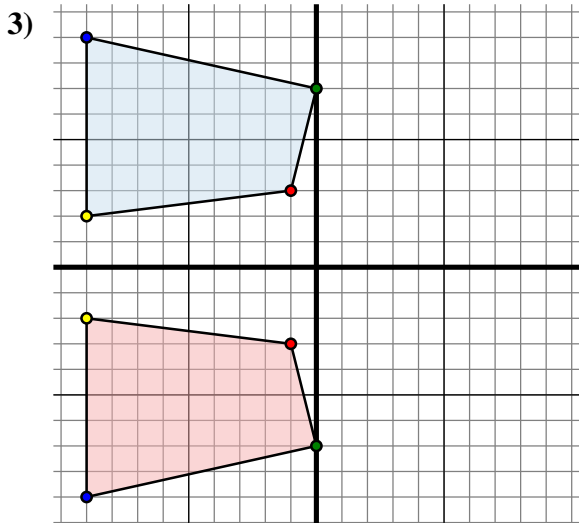
Spiegle jede Figur wie beschrieben.



Die obige Figur hat die folgenden Koordinaten:

- A. (1 , 0)
- B. (3 , -7)
- C. (9 , -6)
- D. (6 , -4)

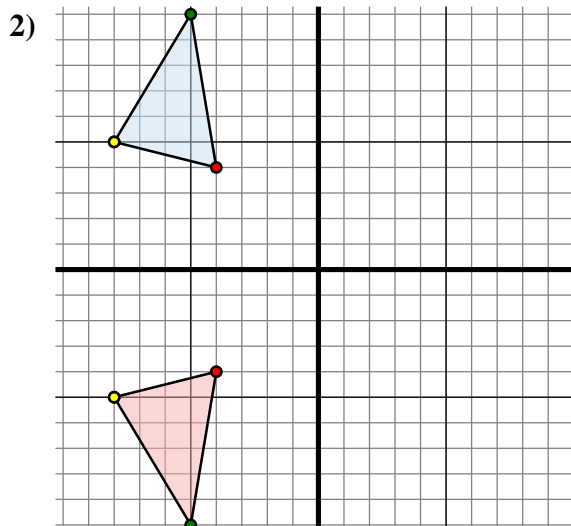
Spiegle die Figur an der Y-Achse.



Die obige Figur hat die folgenden Koordinaten:

- A. (-1 , 3)
- B. (0 , 7)
- C. (-9 , 9)
- D. (-9 , 2)

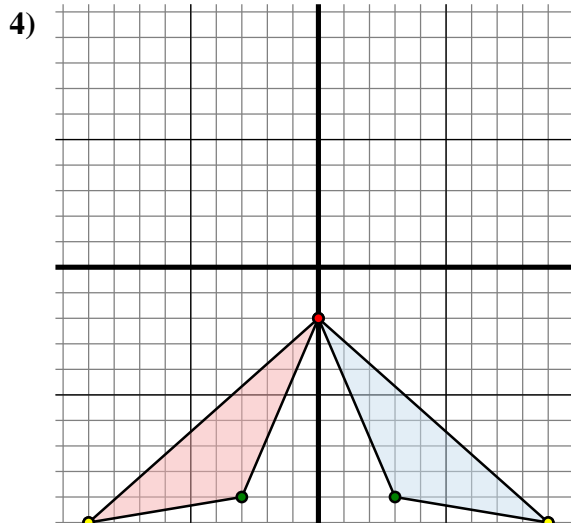
Spiegle die Figur an der X-Achse.



Die obige Figur hat die folgenden Koordinaten:

- A. (-4 , 4)
- B. (-5 , 10)
- C. (-8 , 5)

Spiegle die Figur an der X-Achse.



Die obige Figur hat die folgenden Koordinaten:

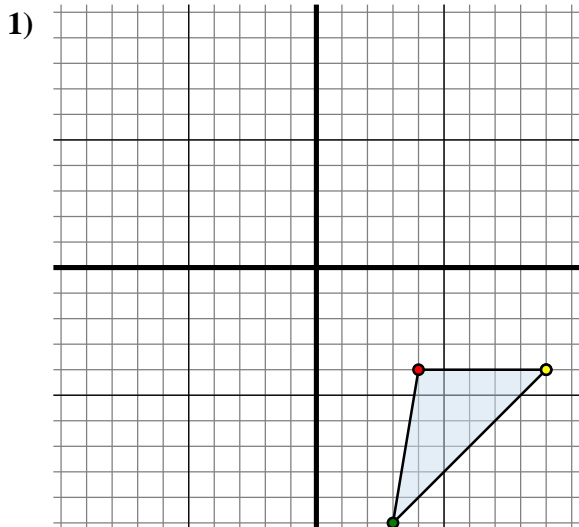
- A. (0 , -2)
- B. (3 , -9)
- C. (9 , -10)

Spiegle die Figur an der Y-Achse.

Antworten1A. **(-1 , 0)**1B. **(-3 , -7)**1C. **(-9 , -6)**1D. **(-6 , -4)**1G. **Graph**2A. **(-4 , -4)**2B. **(-5 , -10)**2C. **(-8 , -5)**2G. **Graph**3A. **(-1 , -3)**3B. **(0 , -7)**3C. **(-9 , -9)**3D. **(-9 , -2)**3G. **Graph**4A. **(0 , -2)**4B. **(-3 , -9)**4C. **(-9 , -10)**4G. **Graph**



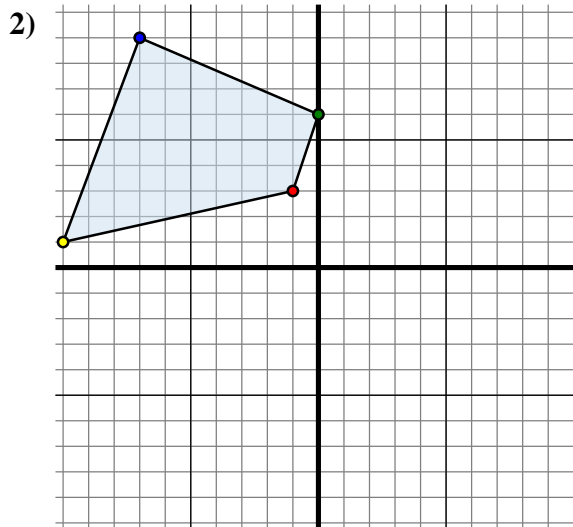
Spiegle jede Figur wie beschrieben.



Die obige Figur hat die folgenden Koordinaten:

- A. (4 , -4)
- B. (3 , -10)
- C. (9 , -4)

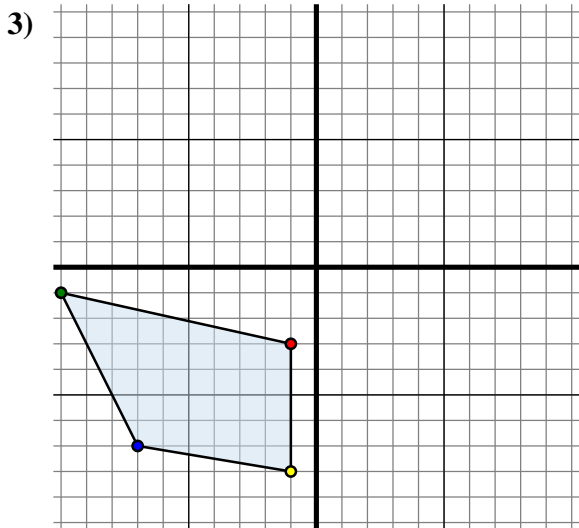
Spiegle die Figur an der X-Achse.



Die obige Figur hat die folgenden Koordinaten:

- A. (-1 , 3)
- B. (0 , 6)
- C. (-7 , 9)
- D. (-10 , 1)

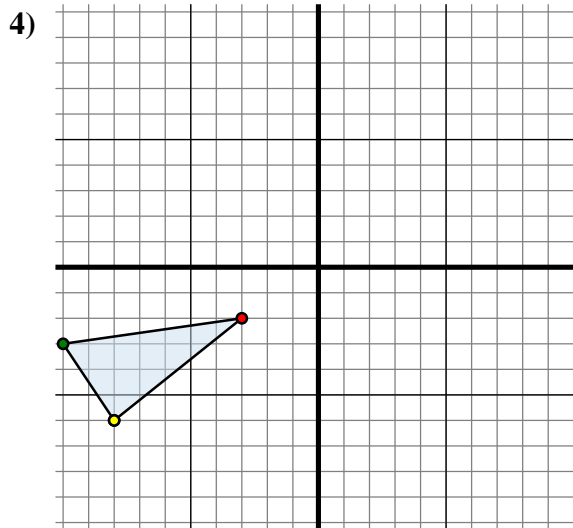
Spiegle die Figur an der X-Achse.



Die obige Figur hat die folgenden Koordinaten:

- A. (-1 , -3)
- B. (-10 , -1)
- C. (-7 , -7)
- D. (-1 , -8)

Spiegle die Figur an der X-Achse.



Die obige Figur hat die folgenden Koordinaten:

- A. (-3 , -2)
- B. (-10 , -3)
- C. (-8 , -6)

Spiegle die Figur an der Y-Achse.

Antworten

1A. (4 , 4)

1B. _____

1C. _____

1G. Graph

2A. _____

2B. _____

2C. _____

2D. _____

2G. Graph

3A. _____

3B. _____

3C. _____

3D. _____

3G. Graph

4A. _____

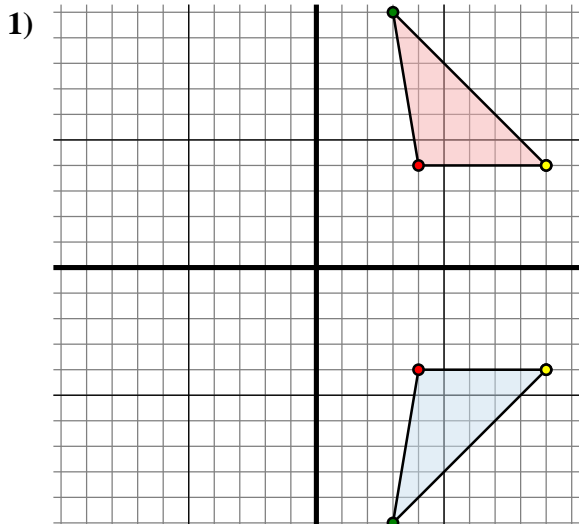
4B. _____

4C. _____

4G. Graph



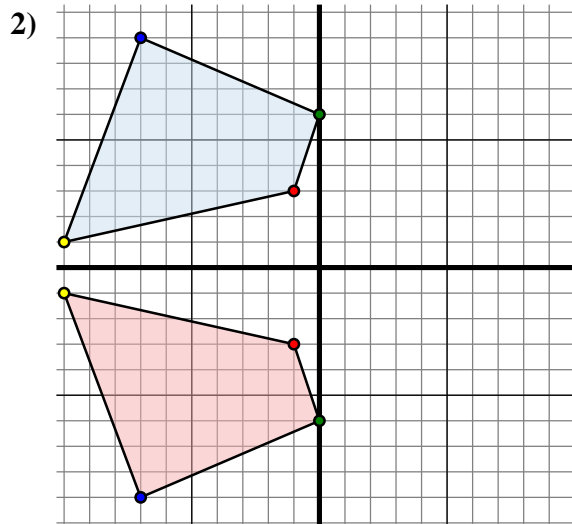
Spiegle jede Figur wie beschrieben.



Die obige Figur hat die folgenden Koordinaten:

- A. (4, -4)
- B. (3, -10)
- C. (9, -4)

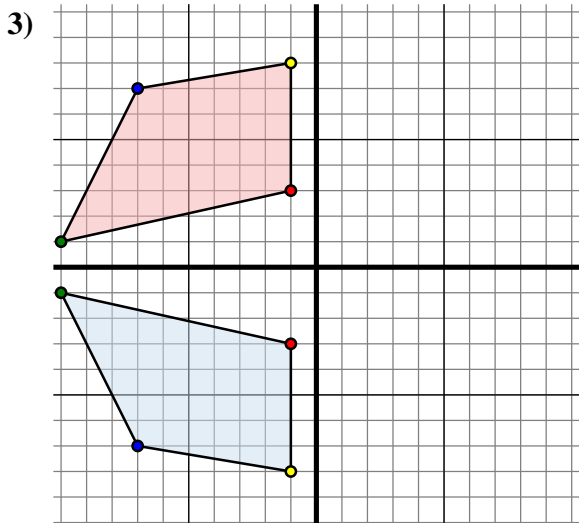
Spiegle die Figur an der X-Achse.



Die obige Figur hat die folgenden Koordinaten:

- A. (-1, 3)
- B. (0, 6)
- C. (-7, 9)
- D. (-10, 1)

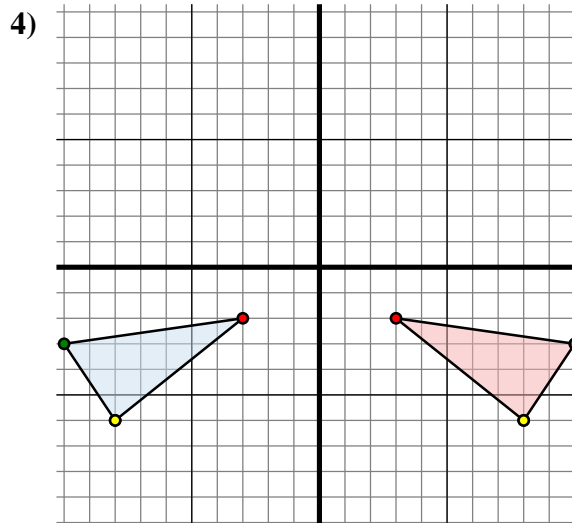
Spiegle die Figur an der X-Achse.



Die obige Figur hat die folgenden Koordinaten:

- A. (-1, -3)
- B. (-10, -1)
- C. (-7, -7)
- D. (-1, -8)

Spiegle die Figur an der X-Achse.



Die obige Figur hat die folgenden Koordinaten:

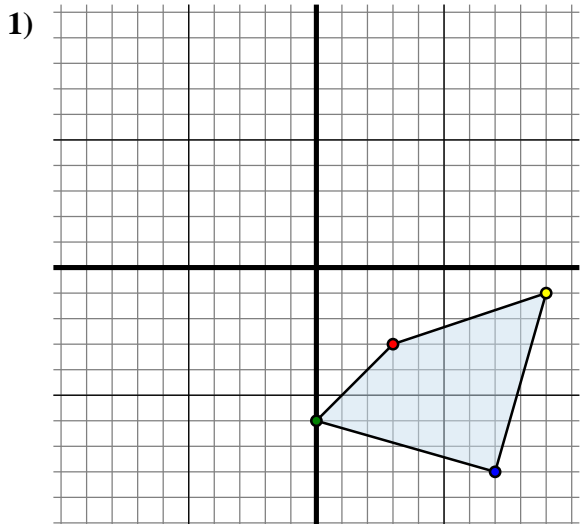
- A. (-3, -2)
- B. (-10, -3)
- C. (-8, -6)

Spiegle die Figur an der Y-Achse.

Antworten1A. (4, 4)1B. (3, 10)1C. (9, 4)1G. Graph2A. (-1, -3)2B. (0, -6)2C. (-7, -9)2D. (-10, -1)2G. Graph3A. (-1, 3)3B. (-10, 1)3C. (-7, 7)3D. (-1, 8)3G. Graph4A. (3, -2)4B. (10, -3)4C. (8, -6)4G. Graph



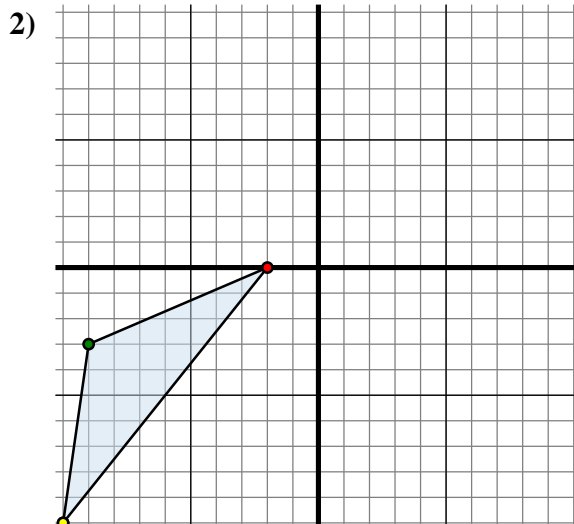
Spiegle jede Figur wie beschrieben.



Die obige Figur hat die folgenden Koordinaten:

- A. (3 , -3)
- B. (0 , -6)
- C. (7 , -8)
- D. (9 , -1)

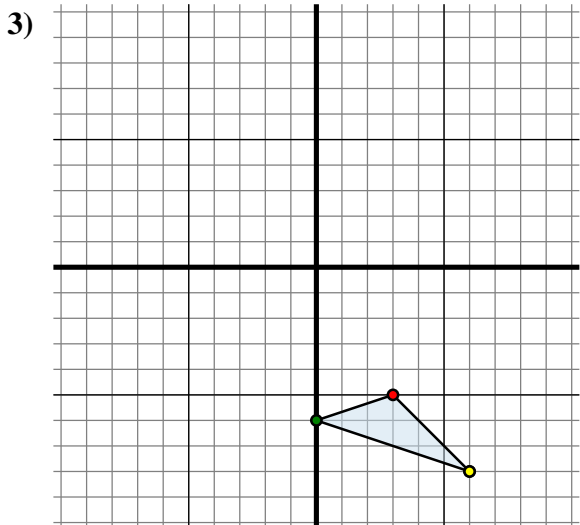
Spiegle die Figur an der Y-Achse.



Die obige Figur hat die folgenden Koordinaten:

- A. (-2 , 0)
- B. (-9 , -3)
- C. (-10 , -10)

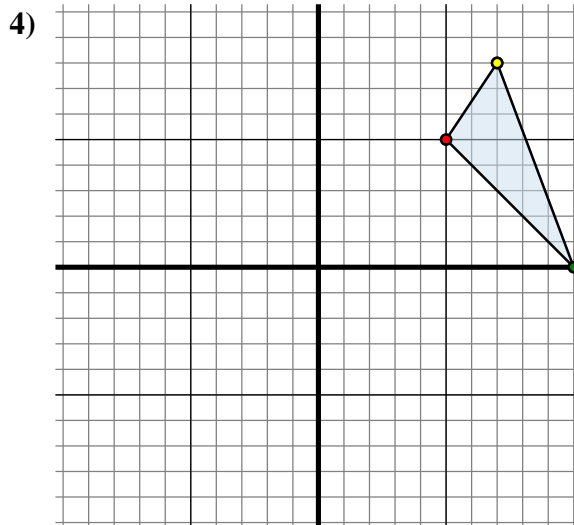
Spiegle die Figur an der X-Achse.



Die obige Figur hat die folgenden Koordinaten:

- A. (3 , -5)
- B. (0 , -6)
- C. (6 , -8)

Spiegle die Figur an der Y-Achse.



Die obige Figur hat die folgenden Koordinaten:

- A. (5 , 5)
- B. (10 , 0)
- C. (7 , 8)

Spiegle die Figur an der Y-Achse.

Antworten

1A. (-3 , -3)

1B. _____

1C. _____

1D. _____

1G. Graph

2A. _____

2B. _____

2C. _____

2G. Graph

3A. _____

3B. _____

3C. _____

3G. Graph

4A. _____

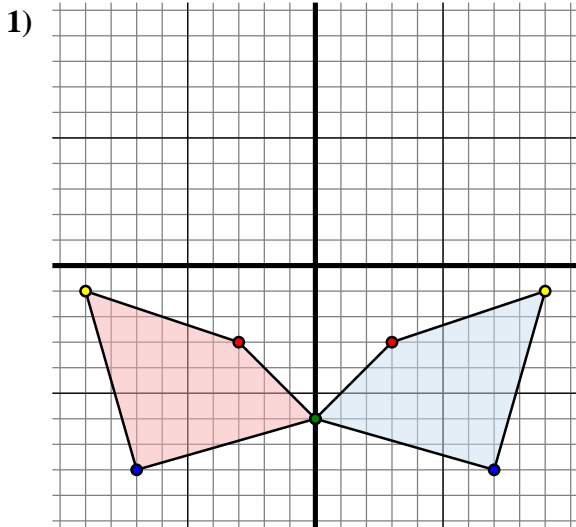
4B. _____

4C. _____

4G. Graph



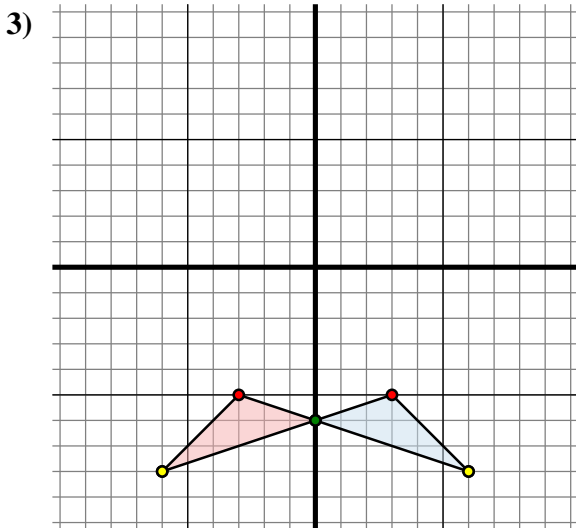
Spiegle jede Figur wie beschrieben.



Die obige Figur hat die folgenden Koordinaten:

- A. (3, -3)
- B. (0, -6)
- C. (7, -8)
- D. (9, -1)

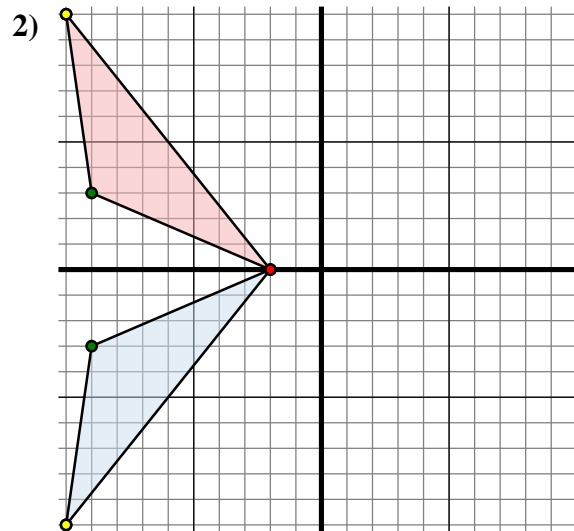
Spiegle die Figur an der Y-Achse.



Die obige Figur hat die folgenden Koordinaten:

- A. (3, -5)
- B. (0, -6)
- C. (6, -8)

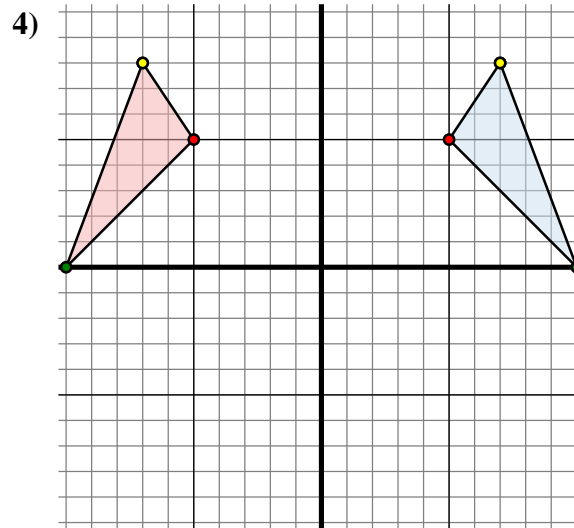
Spiegle die Figur an der Y-Achse.



Die obige Figur hat die folgenden Koordinaten:

- A. (-2, 0)
- B. (-9, -3)
- C. (-10, -10)

Spiegle die Figur an der X-Achse.



Die obige Figur hat die folgenden Koordinaten:

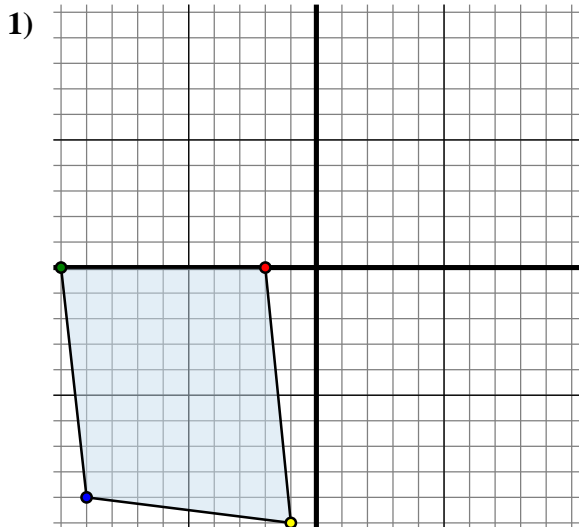
- A. (5, 5)
- B. (10, 0)
- C. (7, 8)

Spiegle die Figur an der Y-Achse.

Antworten1A. **(-3, -3)**1B. **(0, -6)**1C. **(-7, -8)**1D. **(-9, -1)**1G. **Graph**2A. **(-2, 0)**2B. **(-9, 3)**2C. **(-10, 10)**2G. **Graph**3A. **(-3, -5)**3B. **(0, -6)**3C. **(-6, -8)**3G. **Graph**4A. **(-5, 5)**4B. **(-10, 0)**4C. **(-7, 8)**4G. **Graph**



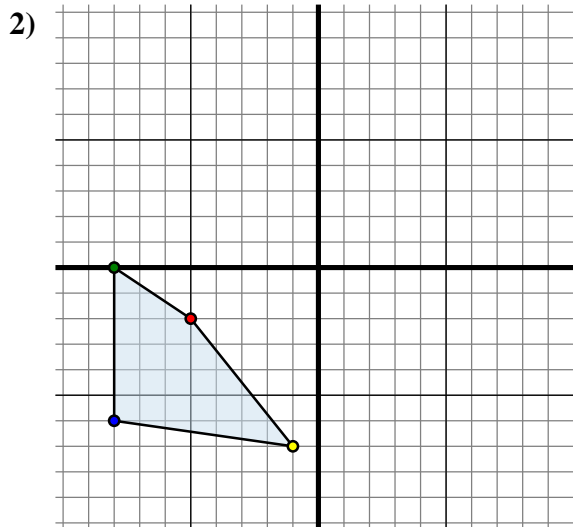
Spiegle jede Figur wie beschrieben.



Die obige Figur hat die folgenden Koordinaten:

- A. (-2 , 0)
- B. (-10 , 0)
- C. (-9 , -9)
- D. (-1 , -10)

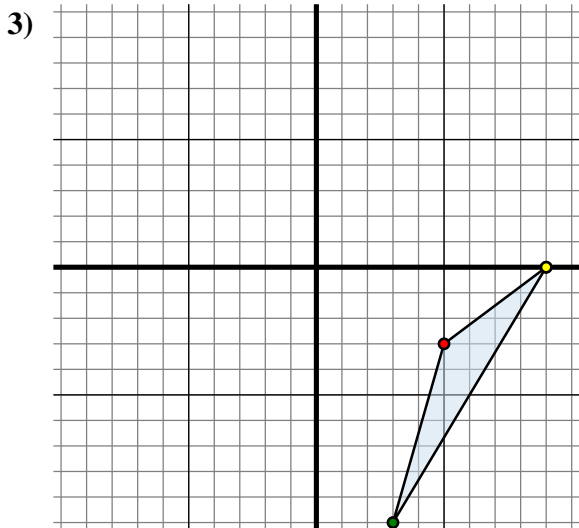
Spiegle die Figur an der X-Achse.



Die obige Figur hat die folgenden Koordinaten:

- A. (-5 , -2)
- B. (-8 , 0)
- C. (-8 , -6)
- D. (-1 , -7)

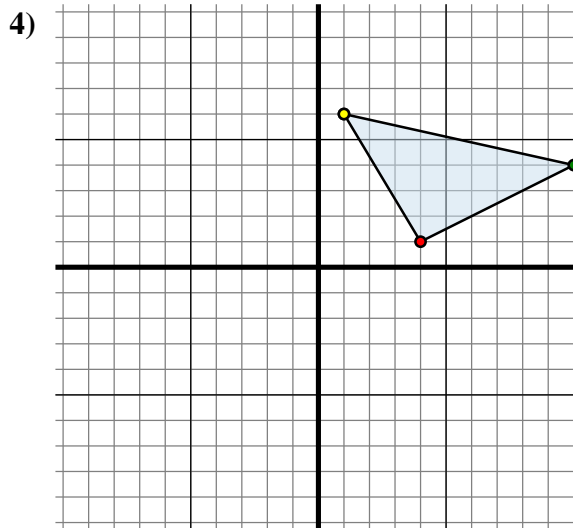
Spiegle die Figur an der Y-Achse.



Die obige Figur hat die folgenden Koordinaten:

- A. (5 , -3)
- B. (3 , -10)
- C. (9 , 0)

Spiegle die Figur an der Y-Achse.



Die obige Figur hat die folgenden Koordinaten:

- A. (4 , 1)
- B. (10 , 4)
- C. (1 , 6)

Spiegle die Figur an der Y-Achse.

Antworten

1A. (-2 , 0)

1B. _____

1C. _____

1D. _____

1G. Graph

2A. _____

2B. _____

2C. _____

2D. _____

2G. Graph

3A. _____

3B. _____

3C. _____

3G. Graph

4A. _____

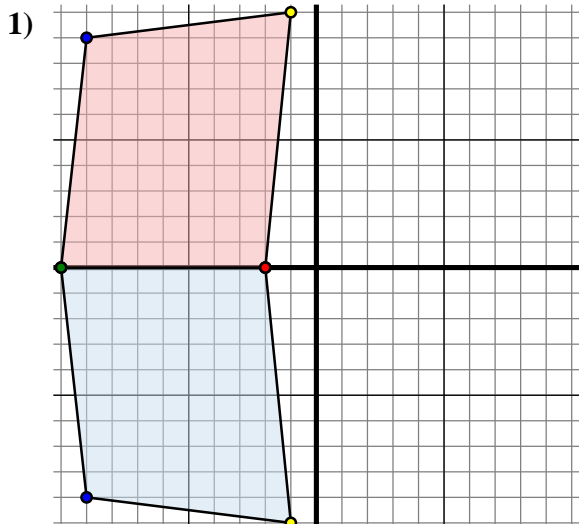
4B. _____

4C. _____

4G. Graph



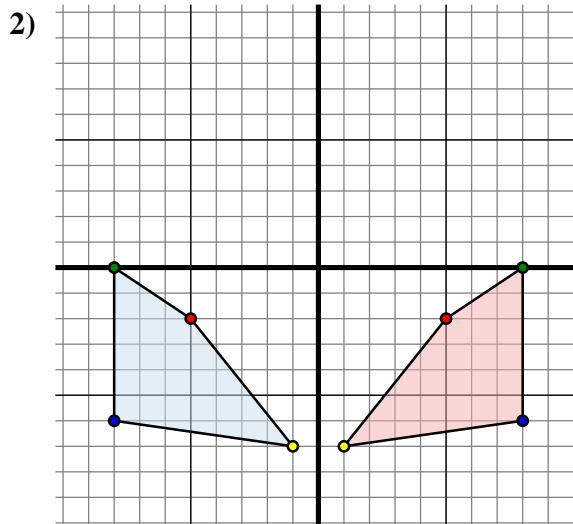
Spiegle jede Figur wie beschrieben.



Die obige Figur hat die folgenden Koordinaten:

- A. (-2 , 0)
- B. (-10 , 0)
- C. (-9 , -9)
- D. (-1 , -10)

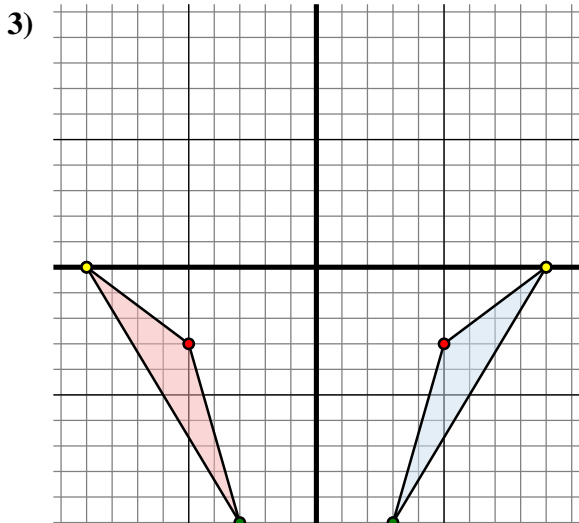
Spiegle die Figur an der X-Achse.



Die obige Figur hat die folgenden Koordinaten:

- A. (-5 , -2)
- B. (-8 , 0)
- C. (-8 , -6)
- D. (-1 , -7)

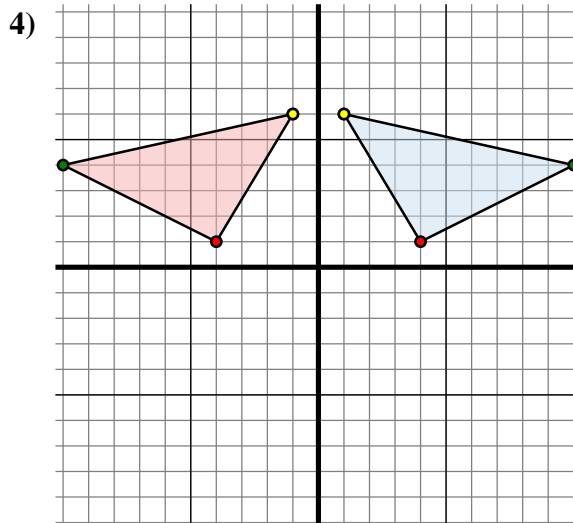
Spiegle die Figur an der Y-Achse.



Die obige Figur hat die folgenden Koordinaten:

- A. (5 , -3)
- B. (3 , -10)
- C. (9 , 0)

Spiegle die Figur an der Y-Achse.



Die obige Figur hat die folgenden Koordinaten:

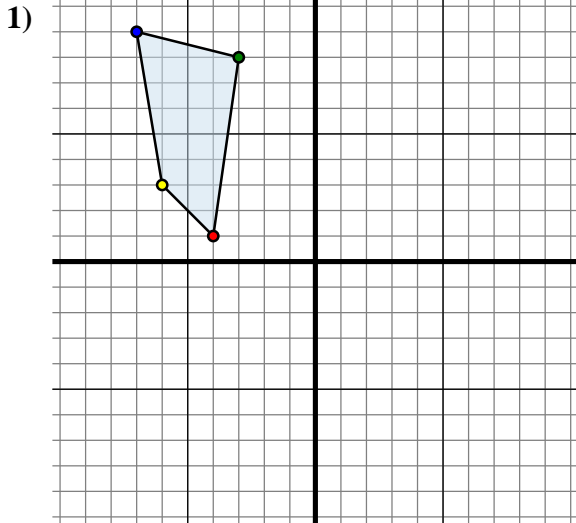
- A. (4 , 1)
- B. (10 , 4)
- C. (1 , 6)

Spiegle die Figur an der Y-Achse.

Antworten1A. (-2 , 0)1B. (-10 , 0)1C. (-9 , 9)1D. (-1 , 10)1G. Graph2A. (5 , -2)2B. (8 , 0)2C. (8 , -6)2D. (1 , -7)2G. Graph3A. (-5 , -3)3B. (-3 , -10)3C. (-9 , 0)3G. Graph4A. (-4 , 1)4B. (-10 , 4)4C. (-1 , 6)4G. Graph



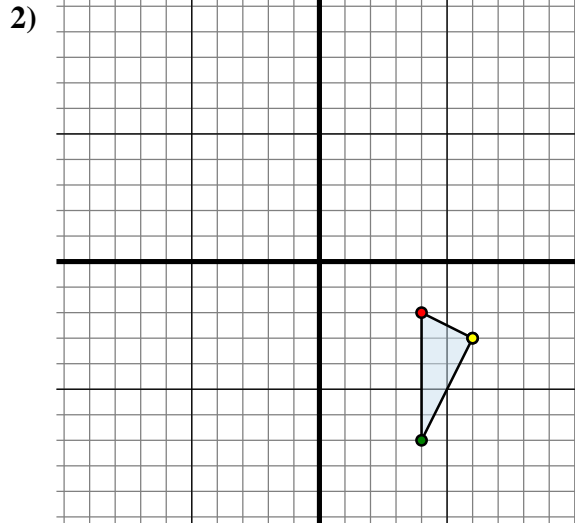
Spiegle jede Figur wie beschrieben.



Die obige Figur hat die folgenden Koordinaten:

- A. (-4 , 1)
- B. (-3 , 8)
- C. (-7 , 9)
- D. (-6 , 3)

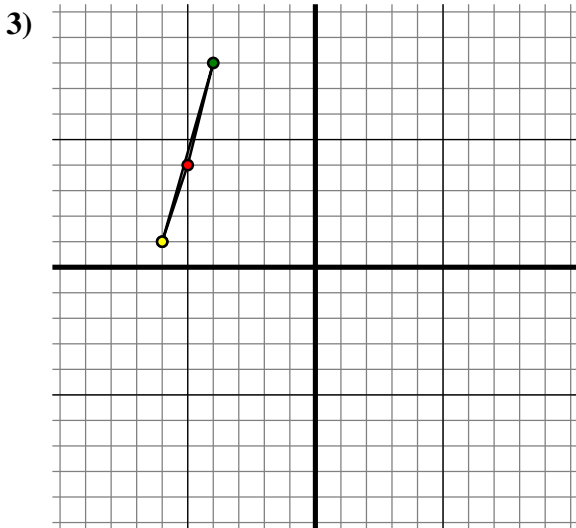
Spiegle die Figur an der Y-Achse.



Die obige Figur hat die folgenden Koordinaten:

- A. (4 , -2)
- B. (4 , -7)
- C. (6 , -3)

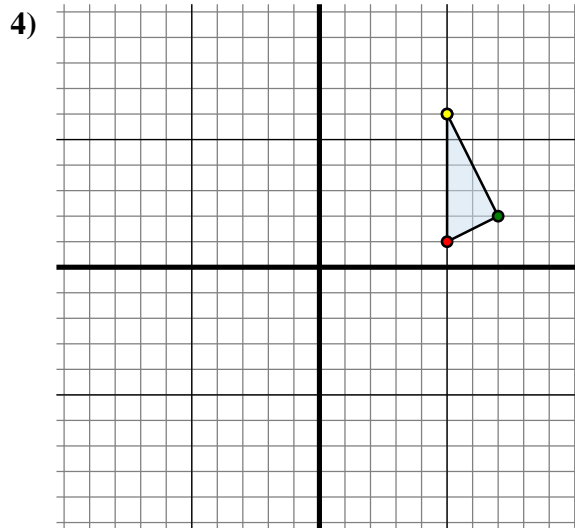
Spiegle die Figur an der X-Achse.



Die obige Figur hat die folgenden Koordinaten:

- A. (-5 , 4)
- B. (-4 , 8)
- C. (-6 , 1)

Spiegle die Figur an der Y-Achse.



Die obige Figur hat die folgenden Koordinaten:

- A. (5 , 1)
- B. (7 , 2)
- C. (5 , 6)

Spiegle die Figur an der Y-Achse.

Antworten

1A. (4 , 1)

1B. _____

1C. _____

1D. _____

1G. Graph

2A. _____

2B. _____

2C. _____

2G. Graph

3A. _____

3B. _____

3C. _____

3G. Graph

4A. _____

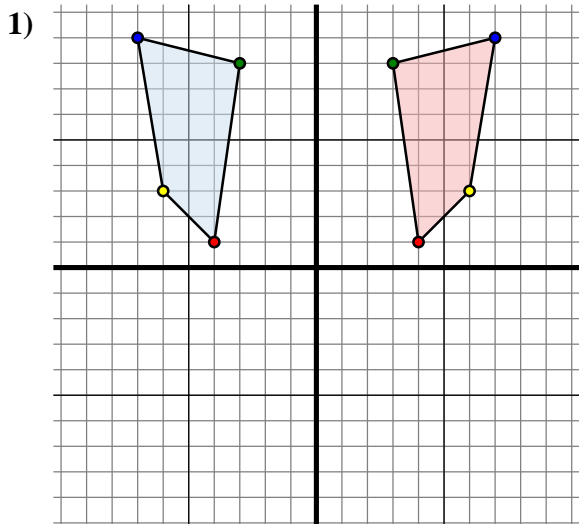
4B. _____

4C. _____

4G. Graph



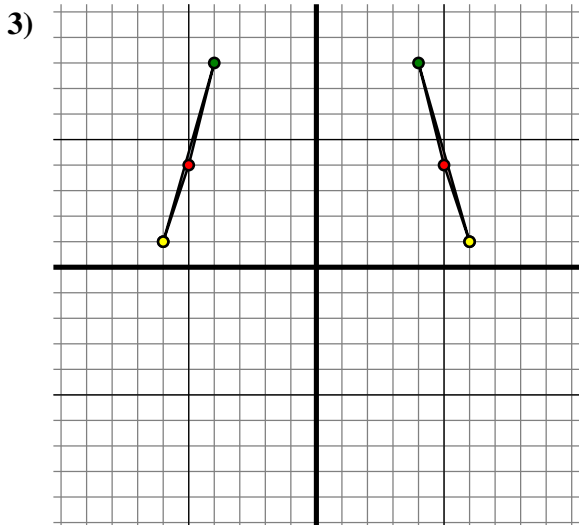
Spiegle jede Figur wie beschrieben.



Die obige Figur hat die folgenden Koordinaten:

- A. (-4 , 1)
- B. (-3 , 8)
- C. (-7 , 9)
- D. (-6 , 3)

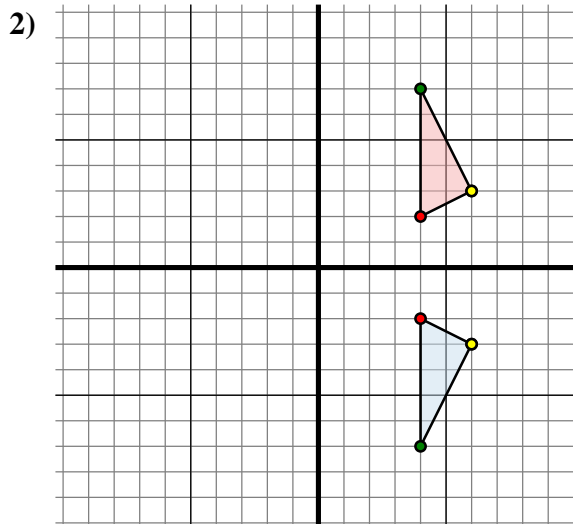
Spiegle die Figur an der Y-Achse.



Die obige Figur hat die folgenden Koordinaten:

- A. (-5 , 4)
- B. (-4 , 8)
- C. (-6 , 1)

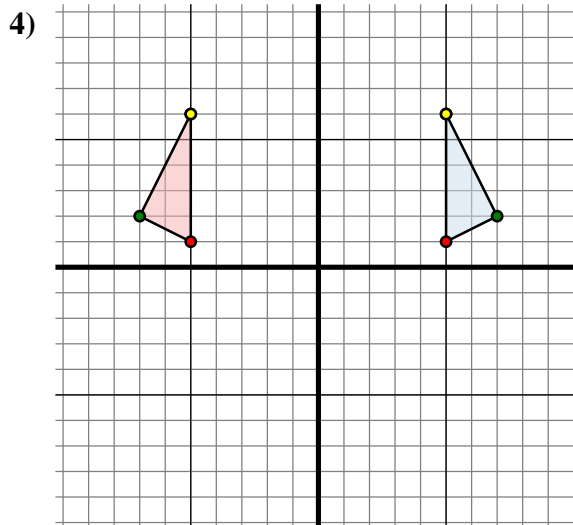
Spiegle die Figur an der Y-Achse.



Die obige Figur hat die folgenden Koordinaten:

- A. (4 , -2)
- B. (4 , -7)
- C. (6 , -3)

Spiegle die Figur an der X-Achse.



Die obige Figur hat die folgenden Koordinaten:

- A. (5 , 1)
- B. (7 , 2)
- C. (5 , 6)

Spiegle die Figur an der Y-Achse.

Antworten

1A. (4 , 1)

1B. (3 , 8)

1C. (7 , 9)

1D. (6 , 3)

1G. Graph

2A. (4 , 2)

2B. (4 , 7)

2C. (6 , 3)

2G. Graph

3A. (5 , 4)

3B. (4 , 8)

3C. (6 , 1)

3G. Graph

4A. (-5 , 1)

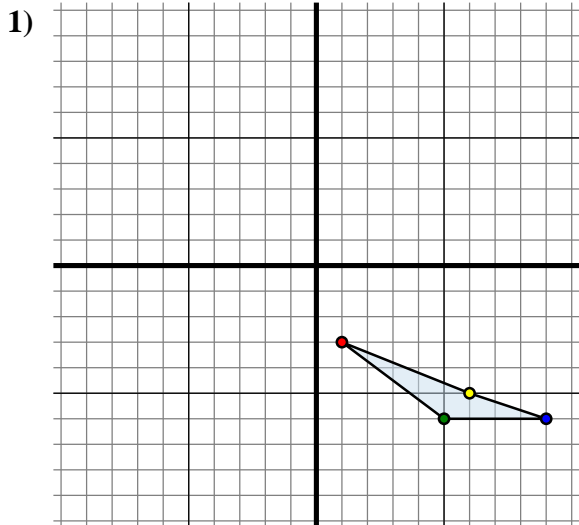
4B. (-7 , 2)

4C. (-5 , 6)

4G. Graph



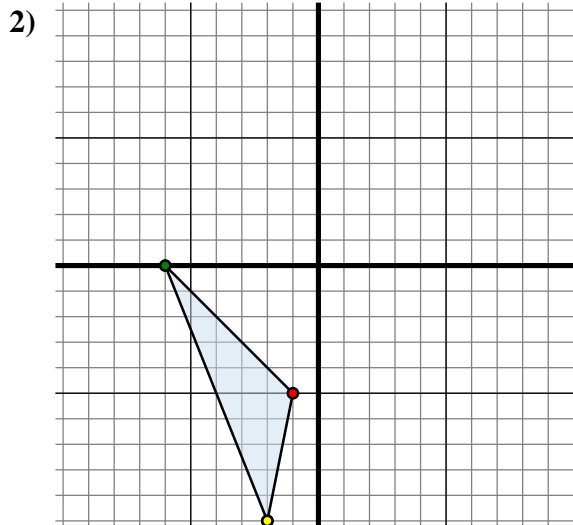
Spiegle jede Figur wie beschrieben.



Die obige Figur hat die folgenden Koordinaten:

- A. (1 , -3)
- B. (5 , -6)
- C. (9 , -6)
- D. (6 , -5)

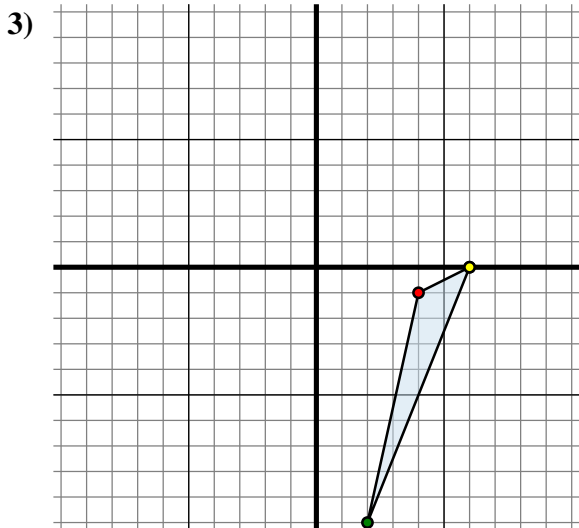
Spiegle die Figur an der Y-Achse.



Die obige Figur hat die folgenden Koordinaten:

- A. (-1 , -5)
- B. (-6 , 0)
- C. (-2 , -10)

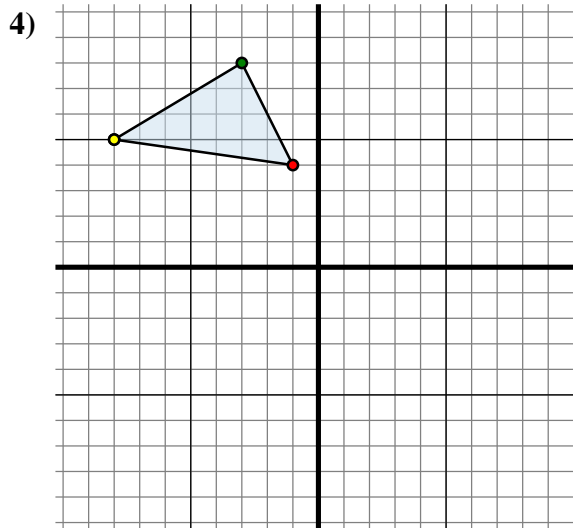
Spiegle die Figur an der X-Achse.



Die obige Figur hat die folgenden Koordinaten:

- A. (4 , -1)
- B. (2 , -10)
- C. (6 , 0)

Spiegle die Figur an der X-Achse.



Die obige Figur hat die folgenden Koordinaten:

- A. (-1 , 4)
- B. (-3 , 8)
- C. (-8 , 5)

Spiegle die Figur an der Y-Achse.

Antworten

1A. (-1 , -3)

1B. _____

1C. _____

1D. _____

1G. Graph

2A. _____

2B. _____

2C. _____

2G. Graph

3A. _____

3B. _____

3C. _____

3G. Graph

4A. _____

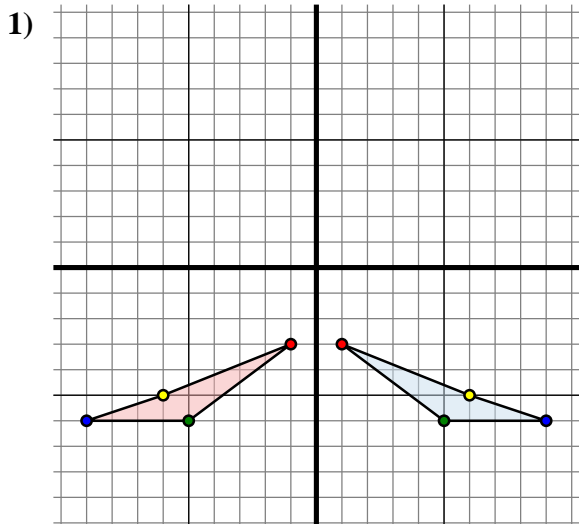
4B. _____

4C. _____

4G. Graph



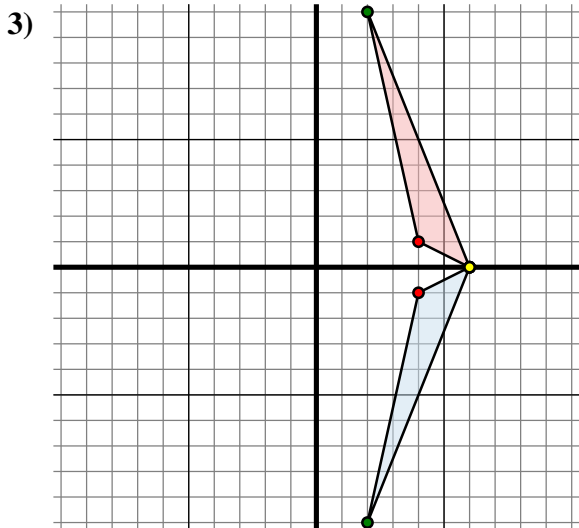
Spiegle jede Figur wie beschrieben.



Die obige Figur hat die folgenden Koordinaten:

- A. (1 , -3)
- B. (5 , -6)
- C. (9 , -6)
- D. (6 , -5)

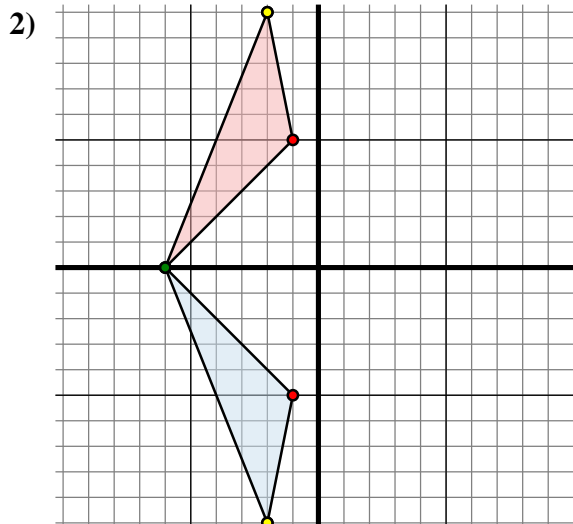
Spiegle die Figur an der Y-Achse.



Die obige Figur hat die folgenden Koordinaten:

- A. (4 , -1)
- B. (2 , -10)
- C. (6 , 0)

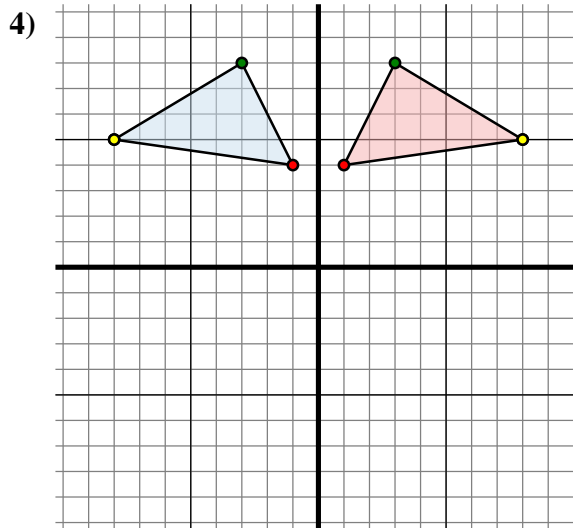
Spiegle die Figur an der X-Achse.



Die obige Figur hat die folgenden Koordinaten:

- A. (-1 , -5)
- B. (-6 , 0)
- C. (-2 , -10)

Spiegle die Figur an der X-Achse.



Die obige Figur hat die folgenden Koordinaten:

- A. (-1 , 4)
- B. (-3 , 8)
- C. (-8 , 5)

Spiegle die Figur an der Y-Achse.

Antworten

1A. **(-1 , -3)**

1B. **(-5 , -6)**

1C. **(-9 , -6)**

1D. **(-6 , -5)**

1G. **Graph**

2A. **(-1 , 5)**

2B. **(-6 , 0)**

2C. **(-2 , 10)**

2G. **Graph**

3A. **(4 , 1)**

3B. **(2 , 10)**

3C. **(6 , 0)**

3G. **Graph**

4A. **(1 , 4)**

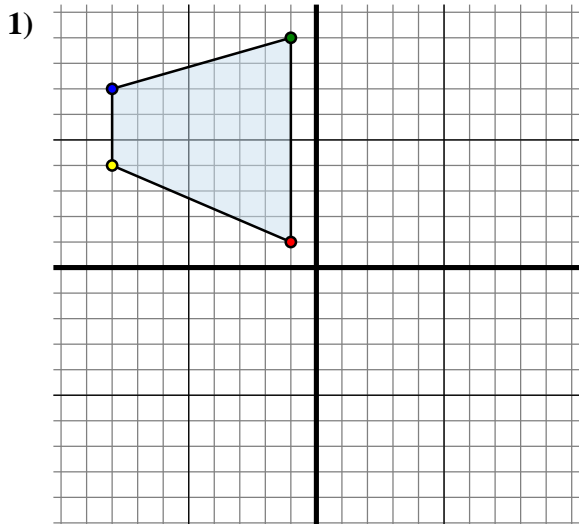
4B. **(3 , 8)**

4C. **(8 , 5)**

4G. **Graph**



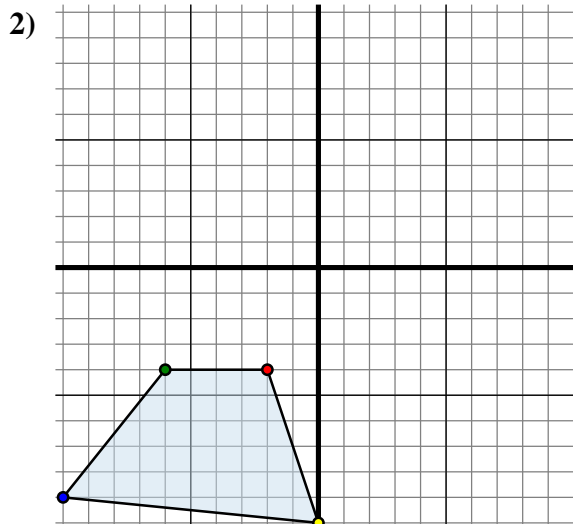
Spiegle jede Figur wie beschrieben.



Die obige Figur hat die folgenden Koordinaten:

- A. (-1 , 1)
- B. (-1 , 9)
- C. (-8 , 7)
- D. (-8 , 4)

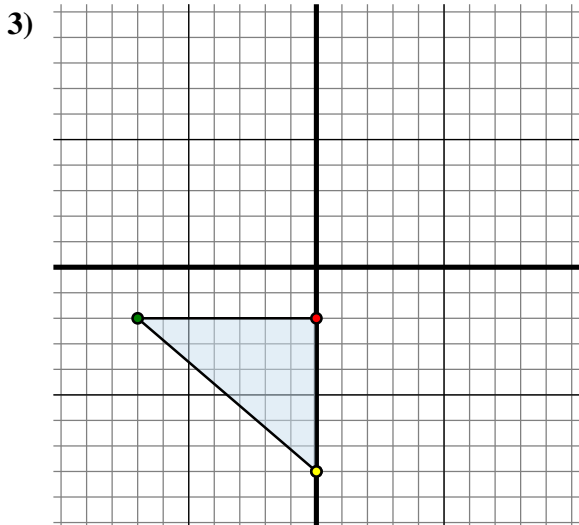
Spiegle die Figur an der Y-Achse.



Die obige Figur hat die folgenden Koordinaten:

- A. (-2 , -4)
- B. (-6 , -4)
- C. (-10 , -9)
- D. (0 , -10)

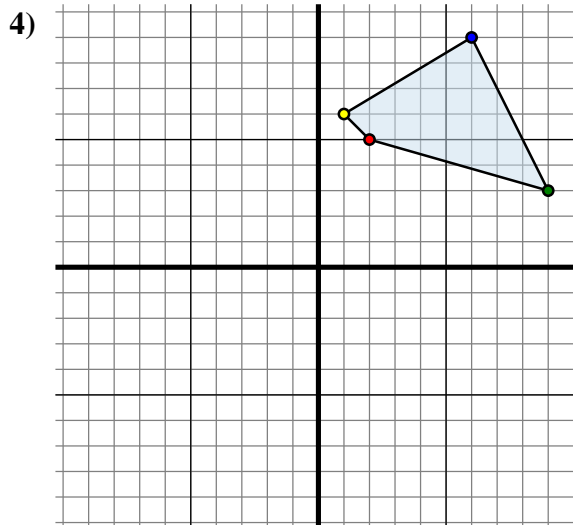
Spiegle die Figur an der Y-Achse.



Die obige Figur hat die folgenden Koordinaten:

- A. (0 , -2)
- B. (-7 , -2)
- C. (0 , -8)

Spiegle die Figur an der Y-Achse.



Die obige Figur hat die folgenden Koordinaten:

- A. (2 , 5)
- B. (9 , 3)
- C. (6 , 9)
- D. (1 , 6)

Spiegle die Figur an der X-Achse.

Antworten

1A. (1, 1)

1B. _____

1C. _____

1D. _____

1G. Graph

2A. _____

2B. _____

2C. _____

2D. _____

2G. Graph

3A. _____

3B. _____

3C. _____

3G. Graph

4A. _____

4B. _____

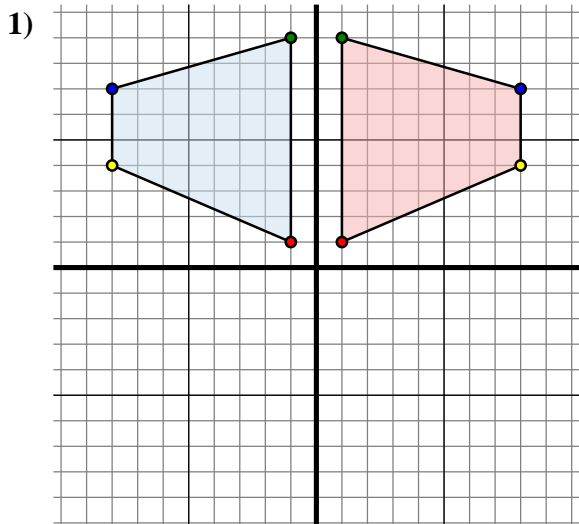
4C. _____

4D. _____

4G. Graph



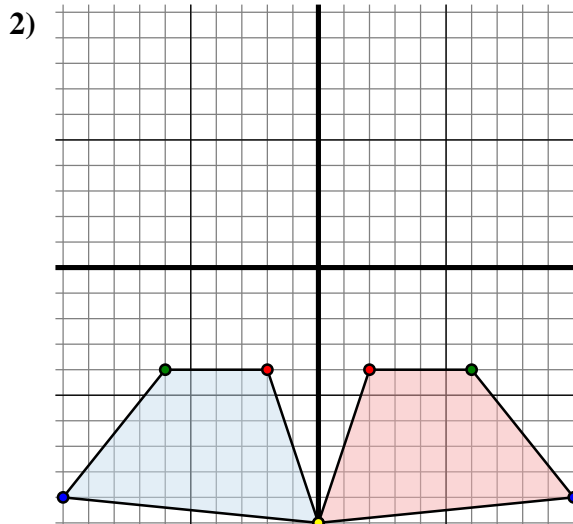
Spiegle jede Figur wie beschrieben.



Die obige Figur hat die folgenden Koordinaten:

- A. (-1 , 1)
- B. (-1 , 9)
- C. (-8 , 7)
- D. (-8 , 4)

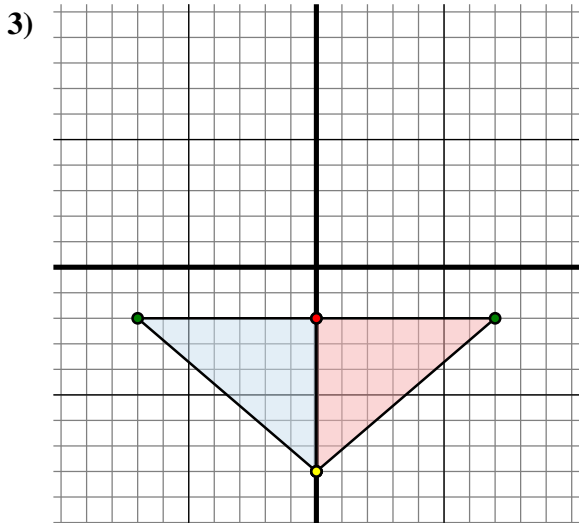
Spiegle die Figur an der Y-Achse.



Die obige Figur hat die folgenden Koordinaten:

- A. (-2 , -4)
- B. (-6 , -4)
- C. (-10 , -9)
- D. (0 , -10)

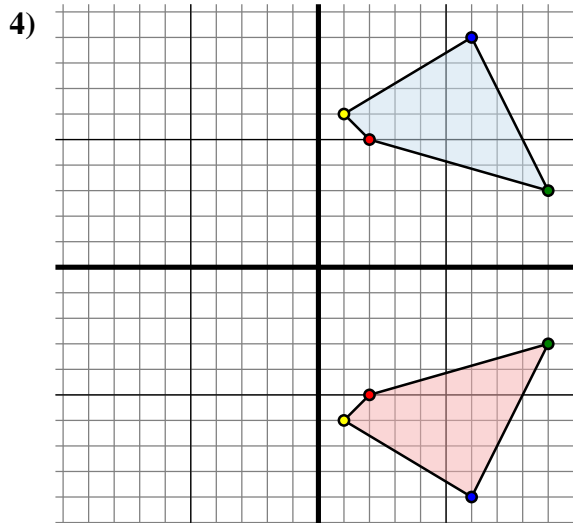
Spiegle die Figur an der Y-Achse.



Die obige Figur hat die folgenden Koordinaten:

- A. (0 , -2)
- B. (-7 , -2)
- C. (0 , -8)

Spiegle die Figur an der Y-Achse.



Die obige Figur hat die folgenden Koordinaten:

- A. (2 , 5)
- B. (9 , 3)
- C. (6 , 9)
- D. (1 , 6)

Spiegle die Figur an der X-Achse.

Antworten

1A. (1 , 1)

1B. (1 , 9)

1C. (8 , 7)

1D. (8 , 4)

1G. Graph

2A. (2 , -4)

2B. (6 , -4)

2C. (10 , -9)

2D. (0 , -10)

2G. Graph

3A. (0 , -2)

3B. (7 , -2)

3C. (0 , -8)

3G. Graph

4A. (2 , -5)

4B. (9 , -3)

4C. (6 , -9)

4D. (1 , -6)

4G. Graph